

VYSOKÉ UČENÍ TECHNICKÉ V BRNĚ
FAKULTA ELEKTROTECHNIKY A KOMUNIKAČNÍCH TECHNOLOGIÍ
ÚSTAV MATEMATIKY

Matematika 1

(Biomedicínská technika a bioinformatika)

Vlasta Krupková
Petr Fuchs



evropský
sociální
fond v ČR



EVROPSKÁ UNIE



MINISTERSTVO ŠKOLSTVÍ,
MLÁDEŽE A TĚLOVÝCHOVY



OP Vzdělávání
pro konkurenceschopnost



VYSOKÉ
UČENÍ
TECHNICKÉ
V BRNĚ

INVESTICE DO ROZVOJE VZDĚLÁVÁNÍ

Ústav matematiky FEKT VUT v Brně, 2014

<http://www.umat.feec.vutbr.cz>

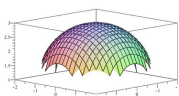
Obrázky pomocí METAPOSTu a METAFONTu: Jaromír Kuben

Animace a 3D objekty: Roman Plch

Tento text byl vytvořen v rámci realizace projektu CZ.1.07/2.2.00/15.0156,
Inovace výuky matematických předmětů v rámci studijních programů FEKT a FIT VUT v Brně.



Součástí tohoto učebního textu jsou odkazy na tzv. maplety, tj. programy vytvořené v prostředí Maple. Tyto odkazy jsou v textu zvýrazněny barvou, příp. uvozeny slovem *maplet*. Maplety ke svému běhu nevyžadují software Maple – je však nutné mít na klientském počítači nainstalováno prostředí Java a nastavenou vhodnou úroveň zabezpečení prohlížeče i prostředí Java. Po kliknutí na odkaz mapletu se v závislosti na softwarovém prostředí klientského počítače zobrazí různá hlášení o zabezpečení – všechny dialogy je třeba povolit a spouštění požadovaných prvků neblokovat.



Součástí tohoto učebního textu jsou animace, resp. prvky 3D grafiky. Pro korektní zobrazení těchto multimediálních prvků a práci s nimi je nutné správně nastavit zabezpečení prohlížeče PDF souborů, a to zejména na záložkách typu *3D a multimédia*, *Důvěryhodnost multimedií (starší)*, *Multimédia (starší)*. Vlastnosti zobrazení těchto prvků lze ovlivnit pomocí položek jejich kontextového menu, příp. pomocí práce s myší nebo jiným polohovacím zařízením.



Doplňující součástí tohoto učebního textu jsou příklady zpracované v [elektronické bance příkladů](#).

Obsah

| | |
|---|----------|
| Předmluva | 6 |
| 1 Úvod | 7 |
| 1.1 Elementy matematické logiky | 7 |
| Výroky | 7 |
| Výrokové funkce – predikáty | 10 |
| Kvantifikátory | 10 |
| Shrnutí | 12 |
| 1.2 Množiny | 15 |
| Operace s množinami | 15 |
| Číselné množiny | 18 |
| Reálná čísla | 19 |
| Supremum, infimum, maximum, minimum, ohraničené (omezené) množiny | 20 |
| Shrnutí | 22 |
| Cvičení | 22 |
| Výsledky | 23 |
| 1.3 Funkce, zobrazení | 24 |
| Pojem a základní vlastnosti funkce | 25 |
| Složená funkce | 26 |
| Funkce prosté a funkce inverzní | 29 |
| Algebraické operace mezi funkcemi | 32 |
| Monotonní funkce | 32 |
| Funkce sudé a liché, funkce periodické | 33 |
| Funkce ohraničené | 35 |
| Elementární funkce | 35 |
| Polynomy, kořeny polynomu | 35 |
| Hornerovo schéma | 37 |
| Racionální lomené funkce, rozklad na parciální zlomky | 39 |
| Mocninná funkce | 41 |
| Exponenciální a logaritmická funkce | 42 |
| Goniometrické funkce | 43 |
| Cyklometrické funkce | 44 |
| Hyperbolické funkce | 45 |
| Posloupnosti | 46 |

| | |
|--|-----------|
| Pro zájemce | 47 |
| Shrnutí | 49 |
| Otázky a úlohy | 51 |
| Cvičení | 55 |
| Výsledky | 60 |
| 2 Lineární algebra | 63 |
| 2.1 Soustavy lineárních rovnic | 64 |
| Motivace | 64 |
| Maticový zápis soustavy rovnic | 70 |
| Gaussova eliminační metoda | 71 |
| Zaokrouhlovací chyby, špatně podmíněné soustavy | 77 |
| Shrnutí | 78 |
| Otázky a úkoly | 79 |
| Cvičení | 79 |
| Výsledky | 81 |
| 2.2 Aritmetické vektory | 81 |
| Základní pojmy, aritmetické operace | 81 |
| Vektory ve fyzice, geometrická reprezentace | 83 |
| Lineární závislost, báze, souřadnice vektoru | 83 |
| Hodnost systému vektorů | 85 |
| Pro zájemce | 86 |
| Shrnutí | 88 |
| Cvičení | 89 |
| Výsledky | 90 |
| 2.3 Matice | 91 |
| Základní pojmy | 91 |
| Transponovaná matice | 92 |
| Aritmetické operace | 93 |
| Násobení matic | 94 |
| Inverzní matice | 96 |
| Hodnost matice, ekvivalence matic | 99 |
| Výpočet inverzní matice 1 | 101 |
| Řešitelnost soustavy, Frobeniova věta | 102 |
| Pro zájemce | 104 |
| Shrnutí | 106 |
| Otázky a úkoly | 107 |
| Cvičení | 109 |
| Výsledky | 113 |
| 2.4 Determinanty | 114 |
| Motivace | 114 |
| Permutace | 116 |
| Definice determinantu | 117 |
| Základní vlastnosti determinantů, výpočet determinantů | 118 |

| | |
|---|------------|
| Výpočet inverzní matice 2 | 123 |
| Cramerovo pravidlo | 124 |
| Shrnutí | 126 |
| Otázky a úkoly | 126 |
| Cvičení | 127 |
| 3 Diferenciální počet | 131 |
| 3.1 Úvodní poznámky – motivace | 131 |
| 3.2 Limita | 132 |
| Definice limity | 134 |
| Limita parciální funkce (relativní limita) | 136 |
| Limita posloupnosti | 137 |
| Věty o limitách | 138 |
| Věty o nevlastních limitách | 142 |
| Limita složené funkce | 145 |
| Asymptoty grafu funkce | 148 |
| Pro zájemce | 149 |
| Shrnutí | 150 |
| Otázky a úkoly | 152 |
| Cvičení | 154 |
| Výsledky | 155 |
| 3.3 Spojitost | 155 |
| Definice spojitosti | 155 |
| Klasifikace nespojitostí | 156 |
| Funkce spojité na intervalu | 159 |
| Shrnutí | 161 |
| Otázky a úkoly | 161 |
| Cvičení | 162 |
| 3.4 Derivace | 163 |
| Motivace | 163 |
| Derivace v bodě | 164 |
| Derivace na intervalu | 167 |
| Základní pravidla pro derivování | 169 |
| Diferenciál funkce | 173 |
| Neurčité výrazy, L'Hospitalovo pravidlo | 174 |
| Věty o přírůstku funkce | 176 |
| Pro zájemce | 177 |
| Shrnutí | 179 |
| <i>Slovník a gramatika pro derivace</i> | 180 |
| Otázky a úkoly | 181 |
| Cvičení | 183 |
| Výsledky | 186 |
| 3.5 Derivace vyšších řádů, Taylorův polynom | 186 |
| Derivace a diferenciály vyšších řádů | 187 |

| | |
|--|------------|
| Linearizace | 188 |
| Aproximace funkce Taylorovým polynomem | 189 |
| Shrnutí | 194 |
| Taylorovy formule pro některé funkce | 194 |
| Otázky a úkoly | 194 |
| Cvičení | 195 |
| Výsledky | 197 |
| 3.6 Optimalizace | 197 |
| Lokální extrémů | 198 |
| Absolutní (globální) extrémů | 200 |
| Shrnutí | 206 |
| Otázky a úkoly | 206 |
| Cvičení | 208 |
| Výsledky | 210 |
| 3.7 Průběh funkce | 210 |
| Konvexnost a konkávnost funkce, inflexní body | 210 |
| Vyšetření průběhu funkce | 213 |
| Shrnutí | 219 |
| Otázky a úkoly | 220 |
| Cvičení | 220 |
| Výsledky | 221 |
| 4 Integrální počet | 222 |
| 4.1 Neurčitý integrál | 222 |
| Primitivní funkce | 222 |
| Neurčitý integrál | 224 |
| 4.2 Integrační metody | 225 |
| Integrace některých iracionálních funkcí | 234 |
| Integrace trigonometrických funkcí | 238 |
| Shrnutí | 241 |
| Otázky a úlohy | 244 |
| Cvičení | 244 |
| Výsledky | 247 |
| 4.3 Určitý integrál | 248 |
| Určitý (Riemannův) integrál | 249 |
| Vlastnosti určitého integrálu | 252 |
| Odhad určitého integrálu, věta o střední hodnotě | 253 |
| Fundamentální věta | 254 |
| Newton-Leibnizova věta | 256 |
| Metoda per partes pro určité integrály | 257 |
| Metoda substituce pro určité integrály | 258 |
| 4.4 Aplikace určitého integrálu | 259 |
| Obsah rovinné oblasti | 259 |
| Objem tělesa | 259 |

| | |
|---|------------|
| Objem rotačního tělesa | 260 |
| Délka rovinné křivky | 260 |
| Pro zájemce | 262 |
| Shrnutí | 262 |
| Otázky a úlohy | 264 |
| Cvičení | 265 |
| Výsledky | 267 |
| 4.5 Nevlastní integrály | 267 |
| Nevlastní integrál na neohraničeném intervalu | 268 |
| Integrály z neohraničených funkcí | 269 |
| Obecná definice nevlastního integrálu | 271 |
| Shrnutí | 272 |
| Cvičení | 273 |
| Výsledky | 273 |
| 5 Nekonečné řady | 274 |
| 5.1 Číselné řady | 274 |
| Základní pojmy | 274 |
| Vlastnosti číselných řad | 276 |
| Kritéria konvergence | 278 |
| Absolutní konvergence | 282 |
| Přerovnání řad, násobení řad | 283 |
| Numerická sumace | 286 |
| Pro zájemce | 288 |
| Shrnutí | 288 |
| Otázky a úkoly | 291 |
| Cvičení | 292 |
| Výsledky | 293 |
| 5.2 Mocninné řady | 293 |
| Základní pojmy | 294 |
| Poloměr konvergence | 295 |
| Derivace a integrace mocninných řad | 297 |
| Taylorovy řady | 299 |
| Pro zájemce | 303 |
| Shrnutí | 305 |
| <i>Taylorovy (Maclaurinovy) řady některých elementárních funkcí</i> | 306 |
| Otázky a úkoly | 306 |
| Cvičení | 307 |
| Výsledky | 308 |
| 6 Přehled literatury | 309 |

Předmluva

Tento učební text předmětu *Matematika 1* pro studenty studijního programu Biomedicínská technika a bioinformatika vyučovaného na Fakultě elektrotechniky a komunikačních technologií VUT ve spolupráci s Lékařskou fakultou MU vychází z učebního textu Fuchs, Krupková: *Matematika 1*, která vyšla v nakladatelství VUT Brno v roce 2007 pro stejně nazvaný předmět, který studují studenti bakalářských studijních programů FEKT. I když je osnova těchto předmětů v mnohém formálně shodná, jsou oba texty určeny různým cílovým skupinám. Vzhledem k tomu, že studenti přicházející studovat meziuniverzitní studijní program, nejsou vysloveně technicky zaměřeni, je v tomto učebním textu kladen důraz na názornost, tedy na větší množství příkladů se zaměřením k budoucím aplikacím. Zohledňujeme také skutečnost, že struktura matematických předmětů navazujícího magisterského studia se pro oba studijní programy výrazně liší.

31. 3. 2014

Autoři

1 Úvod

MATEMATIKA pochází z řeckého slova *MÁTHEMA*, což znamená vědění a poznání. Matematika nejsou počty — ty jsou jen jedním z nástrojů, které navíc může za nás vykonat počítač. Je prostředkem k popisu a formalizaci jevů v okolním světě, umožňuje odhadnout důsledky těchto jevů a najít souvislosti mezi nimi.

Cílem kursu Matematika 1 v prvním semestru studia je

- získat informaci o prostředcích a metodách matematické analýzy a lineární algebry
- získat nový přístup k matematickým metodám:
 - ne naučit se memorovat formule a jednoduše je užívat při řešení příkladů,
 - ale umět aplikovat základní myšlenky (koncept)
 - a porozumět, proč jsou správné.

Arthur Schopenhauer napsal: „Žádat, aby někdo všechno, co kdy četl, podržel v paměti, je jako žádat, aby v sobě nosil všechno, co kdy snědl. Žil z toho tělesně, z onoho duševně, a stal se tím, čím je. Tak jako tělo každého přijímá pouze to, co snáší, každý si zapamatuje jen to, co ho zajímá, co se hodí do jeho myšlenkové soustavy nebo k jeho účelům.“ Věříme, že něco z tohoto textu bude čtenáři k užitku. Snad přesto, že mnohé zapomene, zapamatuje si, kde to četl a aby se k textu případně později vrátil.

Uvedme ještě myšlenku Démokrita z Abdér: „Vzdělání má hořké kořeny, ale sladké ovoce.“

V našem kurzu nebudeme postupovat systematicky od úplného začátku, ale budeme navazovat na látku ze střední školy. Úvodní kapitola je věnována přehlednému opakování, popřípadě doplnění nejdůležitějších pojmů, které budeme užívat. Sledujeme i cíl upřesnit a sjednotit některé názvy a označení.

1.1 Elementy matematické logiky

Výroky

Připomeňme, že *výrok* chápeme jako jazykové vyjádření myšlenek, jimiž přisuzujeme předmětům jisté vlastnosti nebo jimiž stanovíme vztahy mezi předměty; je to (jazykový)

výraz, o němž má smysl říci, že je pravdivý nebo nepravdivý.

Například „číslo 3 je sudé“ je nepravdivý výrok, naproti tomu sdělení „přijď brzy domů“, „číslo Brno je modré“, „ $\sin x > 0$ “ výroky nejsou (druhé sdělení je nesmyslná snůška slov, třetí sdělení je tzv. výroková funkce s proměnnou x).

Výrokům přiřazujeme tzv. **pravdivostní hodnoty**: je-li výrok pravdivý, má pravdivostní hodnotu 1, nepravdivý výrok má pravdivostní hodnotu 0.

Složené výroky sestavujeme pomocí výrokovatvorných částic – spojek; jsou-li p, q výroky, definujeme:

| | | |
|-------------------------------------|-----------------------|------------------------------|
| negace výroku p | $\bar{p}, \neg p, p'$ | opačný výrok |
| konjunkce výroků p a q | $p \wedge q$ | a, současně |
| disjunkce výroků p a q | $p \vee q$ | nebo (nevyučovací!) |
| implikace výroků p a q | $p \Rightarrow q$ | z p plyne q * |
| ekvivalence výroků p a q | $p \Leftrightarrow q$ | p je ekvivalentní s q ** |

* p implikuje q , jestliže p pak q , q je nutná podmínka pro p , p je postačující podmínka pro q ,

** p právě když q , p tehdy a jen tehdy když q , p když a jen když q , p je nutná a postačující podmínka pro q .

Jednotlivé výrokové spojky mají specifické vlastnosti: například negací pravdivého výroku získáme výrok nepravdivý a naopak, konjunkce dvou výroků je pravdivá pouze v případě, jsou-li oba výroky pravdivé atd. Přehledněji vlastnosti jednotlivých výrokových spojek popíšeme pomocí pravdivostních hodnot:

| p | $\neg p$ | q | $p \wedge q$ | $p \vee q$ | $p \Rightarrow q$ | $p \Leftrightarrow q$ |
|-----|----------|-----|--------------|------------|-------------------|-----------------------|
| 1 | 0 | 1 | 1 | 1 | 1 | 1 |
| 1 | 0 | 0 | 0 | 1 | 0 | 0 |
| 0 | 1 | 1 | 0 | 1 | 1 | 0 |
| 0 | 0 | 0 | 0 | 0 | 1 | 1 |

Stejně tak pomocí tabulky pravdivostních hodnot nejsnáze zjistíme, při jaké kombinaci elementárních výroků je pravdivý nebo nepravdivý komplikovanější výrok.

Příklad 1.1. Vyšetříme výrok $(p \wedge q) \Leftrightarrow \neg(p \Rightarrow \neg q)$.

Řešení.

| p | q | $\neg q$ | $p \wedge q$ | $p \Rightarrow \neg q$ | $\neg(p \Rightarrow \neg q)$ | $(p \wedge q) \Leftrightarrow \neg(p \Rightarrow \neg q)$ |
|-----|-----|----------|--------------|------------------------|------------------------------|---|
| 1 | 1 | 0 | 1 | 0 | 1 | 1 |
| 1 | 0 | 1 | 0 | 1 | 0 | 1 |
| 0 | 1 | 0 | 0 | 1 | 0 | 1 |
| 0 | 0 | 1 | 0 | 1 | 0 | 1 |

Daný výrok je tedy pravdivý bez ohledu na to, jsou-li výroky p, q pravdivé nebo nepravdivé. □

Složitější výroky jsou někdy nepřehledné vzhledem k vysokému počtu závorek, které udávají pořadí, ve kterém se mají jednotlivé spojky aplikovat; proto užíváme konvenci o pořadí, jak „silně“ spojky vážou elementární výroky. Pořadí je následující:

- negace,
- konjunkce a disjunkce,
- implikace a ekvivalence.

Tedy např. místo

$$(p \wedge (q \vee r)) \Leftrightarrow ((p \wedge q) \vee (p \wedge r)) \quad \text{píšeme} \quad p \wedge (q \vee r) \Leftrightarrow (p \wedge q) \vee (p \wedge r),$$

a místo

$$((\neg p) \wedge q) \Rightarrow (p \vee (\neg q)) \quad \text{píšeme} \quad \neg p \wedge q \Rightarrow p \vee \neg q.$$

V příkladu 1.1 jsme viděli, že složený výrok může mít takový tvar, že je vždy pravdivý bez ohledu na to, jsou-li jednotlivé elementární výroky, ze kterých je tento složený výrok sestaven, pravdivé nebo nepravdivé (tedy má pravdivostní hodnotu 1 při libovolném vyhodnocení); takové výroky se nazývají **tautologie**; výrok, který je vždy nepravdivý (pro libovolné ohodnocení elementárních výroků má pravdivostní hodnotu 0), se nazývá **kontradikce**.

Uvedeme si některé další tautologie (jako cvičení prověřte, že se o tautologie skutečně jedná):

$$(p \Leftrightarrow q) \Leftrightarrow (p \Rightarrow q) \wedge (q \Rightarrow p)$$

$$(p \Rightarrow q) \Leftrightarrow (\neg q \Rightarrow \neg p)$$

$$(p \Rightarrow q) \Leftrightarrow (\neg p \vee q)$$

negace implikace $\neg(p \Rightarrow q) \Leftrightarrow (p \wedge \neg q)$

De Morganova pravidla $\neg(p \vee q) \Leftrightarrow (\neg p \wedge \neg q)$

$$\neg(p \wedge q) \Leftrightarrow (\neg p \vee \neg q)$$

distributivita $p \wedge (q \vee r) \Leftrightarrow (p \wedge q) \vee (p \wedge r)$

$$p \vee (q \wedge r) \Leftrightarrow (p \vee q) \wedge (p \vee r)$$

dvojitá negace $p \Leftrightarrow \neg(\neg p)$

zákon vyloučeného třetího $p \vee \neg p$

Až na poslední vztah mají všechny uvedené tautologie tvar ekvivalence; výroky napravo jsou pravdivé právě tehdy, když jsou pravdivé výroky nalevo. Pravdivostní hodnota složeného výroku se tedy nezmění, nahradíme-li dílčí výrok v něm vystupující výrokem

s ním ekvivalentním (provedeme ekvivalentní úpravu). To nám umožňuje složité výroky postupně zjednodušovat.

Příklad 1.2. Pomocí výše uvedených ekvivalentních úprav zjednodušíme výrok $\neg[(p \wedge q \Rightarrow \neg q) \wedge (p \Rightarrow q)]$:

$$\begin{aligned}
 & \neg[(p \wedge q \Rightarrow \neg q) \wedge (p \Rightarrow q)] \Leftrightarrow \text{(De Morganův vzorec)} \\
 \Leftrightarrow & \neg(p \wedge q \Rightarrow \neg q) \vee \neg(p \Rightarrow q) \Leftrightarrow \text{(negace implikace)} \\
 \Leftrightarrow & [(p \wedge q) \wedge \neg\neg q] \vee (p \wedge \neg q) \Leftrightarrow \text{(dvojitá negace)} \\
 \Leftrightarrow & (p \wedge q \wedge q) \vee (p \wedge \neg q) \Leftrightarrow \\
 \Leftrightarrow & (p \wedge q) \vee (p \wedge \neg q) \Leftrightarrow \text{(distributivita)} \\
 \Leftrightarrow & p \wedge (q \vee \neg q) \Leftrightarrow \\
 \Leftrightarrow & p
 \end{aligned}$$

Výrokové funkce – predikáty

Představme si, že pro $x \in \mathbb{R}$ zkoumáme výraz $x > 3$. Tento výraz není výrok; stane se jím, až za x dosadíme některé konkrétní reálné číslo, a v závislosti na tom, které číslo zvolíme, bude pravdivý nebo nepravdivý. Takový výraz se nazývá **výroková funkce (forma)**, také **predikát**. Výroková funkce obsahuje proměnné; **proměnná** se dá chápat jako prázdné místo, kam lze dosazovat libovolné prvky z určité množiny, např. \mathbb{R}, \mathbb{C} , která se nazývá **přípustný obor** dané proměnné. Po dosazení za všechny proměnné se predikát stane výrokem – buď pravdivým nebo nepravdivým. Prvky množiny, pro něž je výrok pravdivý, tvoří **obor pravdivosti** výrokové formy.

Příklad 1.3. $\frac{x}{2} \in \mathbb{N}$ je predikát s přípustným oborem (například) \mathbb{R} ;

dosadíme-li za x například $\pi, 8, -\frac{3}{2}$, dostaneme výroky $\frac{\pi}{2} \in \mathbb{N}, 4 \in \mathbb{N}, -\frac{3}{4} \in \mathbb{N}$,

z nichž druhý je pravdivý a první a třetí nepravdivý. Obor pravdivosti tvoří všechna kladná sudá čísla.

Kvantifikátory

Je-li V predikát obsahující proměnnou x (event. i další), pak výraz

$$\begin{array}{ll}
 \exists x(V) \quad \text{nebo} \quad \exists x : V & \text{existuje } x \text{ tak, že platí } V \\
 & \text{chápeme jako tvrzení} \\
 \forall x(V) \quad \text{nebo} \quad \forall x : V & \text{pro každé } x \text{ platí } V
 \end{array}$$

Přitom \exists se nazývá **existenční kvantifikátor**, \forall se nazývá **všeobecný kvantifikátor**.

Poznamenejme, že ve výrazech s kvantifikátory často uvádíme přímo přípustný obor pro proměnnou; píšeme $\forall x \in M : V(x)$, $\exists x \in M : V(x)$.

Jestliže predikát V obsahuje jedinou proměnnou x , je $\exists x(V)$ resp. $\forall x(V)$ výrok; říkáme, že proměnná x je **vázaná** kvantifikátorem. V opačném případě jde zase o predikát s tzv. **volnou proměnnou** a můžeme utvořit nové výrazy (predikáty, výroky) $\forall y \exists x(V)$, $\exists y \exists x(V)$ a podobně.

Příklad 1.4. Máme zjistit, který z následujících predikátů s proměnnou $x \in \mathbb{R}$ je pravdivý výrok:

- a) $x \leq 2$ b) $\forall x(x \leq 2)$ c) $\exists x(x \leq 2)$
 d) $\forall x(x \in (-\infty, 2) \Leftrightarrow x \leq 2)$

Řešení.

- a) není výrok (proměnná x je volná);
 b) je nepravdivý výrok; lze najít číslo $a \in \mathbb{R}$ (např. $a = 3$) tak, že výrok $a \leq 2$ je nepravdivý;
 c) je pravdivý výrok; stačí najít jedno konkrétní číslo $a \in \mathbb{R}$ (např. $a = 0$) tak, že výrok $a \leq 2$ je pravdivý;
 d) jedná se o pravdivý výrok, kterým definujeme interval. □

Kvantifikátory tedy můžeme řadit za sebou, přičemž na jejich pořadí záleží. Např.
 $\forall x \in \mathbb{R} \exists y \in \mathbb{R} (x^2 = y)$ je jiný výrok než $\exists y \in \mathbb{R} \forall x \in \mathbb{R} (x^2 = y)$
 (první je pravdivý, druhý nepravdivý).

Příklad 1.5. Máme vyšetřit pravdivost následujících výroků pro reálné proměnné x a y :

- a) $\forall x \exists y (x < y)$ b) $\exists y \forall x (x < y)$

Řešení.

- a) Výrok je pravdivý; stačí pro libovolné pevně zvolené x položit $y = x + 1$ – výrok $x < x + 1$ je pravdivý pro každé reálné x .
 b) Výrok je nepravdivý; jeho pravdivost by znamenala, že existuje největší reálné číslo. (∞ není reálné číslo!) □

Při vyšetřování reálných čísel se osvědčilo zavést symbol $\overline{\mathbb{R}} = \mathbb{R} \cup \{-\infty, \infty\}$. Použijeme-li toto označení, můžeme formulovat pravdivý výrok $\exists y \in \overline{\mathbb{R}} \forall x \in \mathbb{R} (x < y)$.

Často potřebujeme utvořit negaci výroku s kvantifikátory. Užíváme přitom tyto ekvivalence:

$$\neg(\forall x \in M : V(x)) \Leftrightarrow \exists x \in M : \neg V(x), \quad \neg(\exists x \in M : V(x)) \Leftrightarrow \forall x \in M : \neg V(x).$$

Příklad 1.6.

$$\neg[\forall x \in M : (P(x) \Rightarrow Q(x))] \Leftrightarrow \exists x \in M : \neg[P(x) \Rightarrow Q(x)] \Leftrightarrow \exists x \in M : (P(x) \wedge \neg Q(x)).$$

Shrnutí

V tomto odstavci jsme připomněli následující pojmy:

- výrok: jazykové spojení, o kterém lze říci, zda je pravdivé nebo nepravdivé,
- výrokové spojky, pomocí nichž sestavujeme složitější výroky: \neg , \wedge , \vee , \Rightarrow , \Leftrightarrow ;
- ohodnocení výroků pomocí pravdivostních hodnot,
- tautologie a kontradikce: výrok vždy pravdivý resp. vždy nepravdivý,
- výroková funkce (predikát): tvrzení, které obsahuje proměnnou a které se stane výrokem, jestliže za tuto proměnnou dosadíme prvek z přípustné množiny,
- kvantifikátory: \forall – všeobecný a \exists – existenční.

Cvičení

1. Formulujte, co rozumíme výrokem a uveďte příklady.
2. Nechť p znamená „je chladno“ a q „prší“. Vyjádřete slovně následující složené výroky:
 - a) $\neg p$ b) $p \wedge q$ c) $p \vee q$ d) $q \vee \neg p$
3. Nechť p znamená „je vysoká“ a q „je hezká“. Zapište symbolicky následující výroky:
 - a) Je vysoká a hezká.
 - b) Je vysoká, ale není hezká.
 - c) Není pravda, že je nevysoká a hezká.
 - d) Není ani vysoká, ani hezká.
 - e) Je vysoká, nebo je nevysoká a hezká.
 - f) Není pravda, že je nevysoká nebo nehezká.

4. Najděte pravdivostní hodnoty následujících složených výroků:
- Paříž je ve Francii a zároveň $2 + 2 = 4$.
 - Paříž je v Anglii a zároveň $2 + 2 = 4$.
 - Paříž je ve Francii a zároveň $2 + 2 = 5$.
 - Paříž je v Anglii a zároveň $2 + 2 = 5$.
5. Najděte pravdivostní hodnoty následujících složených výroků („nebo“ je zde ve smyslu nevylučovacím):
- $1 + 1 = 5$ nebo $2 + 2 = 4$
 - $2 + 5 = 9$ nebo $3 + 7 = 8$
 - $1 + 1 = 5$ nebo $3 + 3 = 4$
 - $2 + 5 = 9$ nebo $1 + 7 = 8$
6. Najděte pravdivostní hodnoty následujících složených výroků:
- Kodaň je v Dánsku, a $1 + 1 = 5$ nebo $2 + 2 = 4$.
 - Paříž je v Anglii, nebo $1 + 1 = 2$ a $3 + 3 = 7$.
 - Kodaň je v Dánsku, nebo $1 + 5 = 8$ a $3 + 3 = 6$.
 - Paříž je v Anglii, a $3 + 4 = 7$ nebo $2 + 6 = 8$.
7. Pomocí tabulky pravdivostních hodnot ohodnoťte výroky:
- $p \wedge (q \vee r)$
 - $(p \wedge q) \vee (p \wedge r)$
8. Definujte tautologii a kontradikci a uveďte příklady.
9. Ověřte, že:
- $p \vee \neg(p \wedge q)$ je tautologie,
 - $(p \wedge q) \wedge \neg(p \vee q)$ je kontradikce,
 - $(p \wedge q) \Rightarrow (p \vee q)$ je tautologie,
 - $p \Rightarrow (q \wedge r) \Leftrightarrow (p \Rightarrow q) \wedge (p \Rightarrow r)$ je tautologie.
10. Sestavte tabulku pravdivostních hodnot pro logickou spojku ∇ – „vylučovací nebo“: $p \nabla q$ znamená „platí p nebo q , ale ne současně“.
11. Ověřte ekvivalenci $p \vee q \Leftrightarrow (p \vee q) \wedge \neg(p \wedge q)$.
12. Nechť $p(x)$ je výraz „ $x + 2 > 5$ “. Rozhodněte, zda je to výroková funkce; v kladném případě zjistěte, zda následující množiny jsou její přípustné obory:
- \mathbb{N} ,
 - $M = \{-1, -2, -3, \dots\}$,
 - \mathbb{C} .
13. Určete pravdivostní hodnoty následujících výroků: (Přípustná množina je \mathbb{R})
- $\forall x : |x| = x$,
 - $\exists x : x^2 = x$,
 - $\forall x : x + 1 > x$,
 - $\exists x : x + 2 = x$.

14. Utvořte negace výroků z cv. 13 a vzniklé výroky co nejvíce zjednodušte.
15. Nechť $A = \{1, 2, 3, 4, 5\}$. Určete pravdivostní hodnoty následujících výroků. Utvořte a co nejvíce zjednodušte jejich negace:
- a) $(\exists x \in A)(x + 3 = 10)$, b) $(\forall x \in A)(x + 3 < 10)$,
 c) $(\exists x \in A)(x + 3 < 5)$, d) $(\forall x \in A)(x + 3 \leq 7)$.
16. Utvořte negace výroků:
- a) $\forall x p(x) \wedge \exists y q(y)$, b) $\exists x p(x) \vee \forall y q(y)$.
17. Určete pravdivostní hodnoty následujících výroků s přípustnou množinou $\{1, 2, 3\}$:
- a) $\exists x \forall y : x^2 < y + 1$, b) $\forall x \exists y : x^2 + y^2 < 12$,
 c) $\forall x \forall y : x^2 + y^2 < 12$,
 d) $\exists x \forall y \exists z : x^2 + y^2 < 2z^2$, e) $\exists x \exists y \forall z : x^2 + y^2 < 2z^2$.
18. Nechť $A = \{1, 2, \dots, 9, 10\}$ je přípustná množina pro následující predikáty. Jde-li o výroky, určete pravdivostní hodnotu. Jde-li o výrokové funkce, najděte obor pravdivosti:
- a) $\forall x \exists y : x + y < 14$, b) $\forall x \forall y : x + y < 14$,
 c) $\forall y : x + y < 14$, d) $\exists y : x + y < 14$.
19. Utvořte negace následujících výroků:
- a) $\exists x \forall y : p(x, y)$, b) $\forall x \forall y : p(x, y)$,
 c) $\exists y \exists x \forall z : p(x, y, z)$, d) $\forall x \exists y : (p(x) \vee q(y))$,
 e) $\exists x \forall y : (p(x, y) \Rightarrow q(x, y))$, f) $\exists y \exists x : (p(x) \wedge \neg q(y))$.

Výsledky

2. a) není chladno, b) je chladno a prší, c) je chladno nebo prší (nebo je chladno a prší), d) prší nebo není chladno;
3. a) $p \wedge q$, b) $p \wedge \neg q$, c) $\neg(\neg p \wedge q) \Leftrightarrow p \vee \neg q$, d) $\neg p \wedge \neg q$, e) $p \vee (\neg p \wedge q) \Leftrightarrow p \vee q$, f) $\neg(\neg p \vee \neg q) \Leftrightarrow p \wedge q$;
4. a) 1, b) 0, c) 0, d) 0;
5. a) 1, b) 0, c) 0, d) 1;
6. a) 1, b) 0, c) 1, d) 0;
- 10.
- | p | q | $p \vee \neg q$ |
|-----|-----|-----------------|
| 1 | 1 | 0 |
| 1 | 0 | 1 |
| 0 | 1 | 1 |
| 0 | 0 | 0 |
12. a), b) ano, c) ne;
13. a) 0, b) 1, c) 1, d) 0;
14. a) $\exists x : |x| \neq x$, b) $\forall x : x^2 \neq x$, c) $\exists x : x + 1 \leq x$, d) $\forall x : x + 2 \neq x$;
15. a) 0; $(\forall x \in A)(x + 3 \neq 10)$, b) 1; $(\exists x \in A)(x + 3 \geq 10)$, c) 1; $(\forall x \in A)(x + 3 \geq 5)$, d) 0; $(\exists x \in A)(x + 3 > 7)$;
16. a) $(\exists x : \neg p(x)) \vee (\forall y : \neg q(y))$, b) $(\forall x : \neg p(x)) \wedge (\exists y : \neg q(y))$;

17. a) 1, b) 1, c) 0, d) 1, e) 0;

18. a) 1, b) 0, c) $\{1, 2, 3\}$, d) A ;

19. a) $\forall x \exists y (\neg p(x, y))$, b) $\exists x \exists y (\neg p(x, y))$, c) $\forall y \forall x \exists z (\neg p(x, y, z))$,

d) $\exists x \forall y (\neg p(x, y) \wedge \neg q(x, y))$, e) $\forall x \exists y (p(x, y) \wedge \neg q(x, y))$, f) $\forall x \forall y (\neg p(x, y) \vee q(x, y))$.

1.2 Množiny

Ze střední školy resp. z Matematického semináře je vám známo, že v matematice nazýváme jakýkoliv soubor či systém objektů **množinou**. Množiny vymežujeme výčtem prvků nebo predikátem – charakterizací:

Je-li $V(x)$ predikát, potom symbol $\{x \mid V(x)\}$ označuje množinu všech prvků a , pro které je $V(a)$ pravdivý výrok; někdy uvádíme obor přípustný pro proměnnou x a píšeme např.: $\{x \in \mathbb{R} \mid V(x)\}$.

Příklad 1.7. $\{x \in \mathbb{R} \mid x \leq 2\} = (-\infty, 2)$.

Značí-li A množinu jistých objektů a x je jeden z nich, říkáme, že x **je prvkem** množiny A (x patří do A) a píšeme $x \in A$. Není-li y prvkem množiny A , píšeme $y \notin A$.

Jestliže S je množina, jejíž prvky jsou opět množiny, nazýváme ji zpravidla **systemem množin**.

Dvě množiny mají stejné prvky (tedy jsou si rovny), jestliže jsou charakterizovány ekvivalentními výroky:

$$\{x \mid U(x)\} = \{x \mid V(x)\} \Leftrightarrow \forall x (U(x) \Leftrightarrow V(x)).$$

Operace s množinami

Nechť A, B jsou množiny. Potom definujeme vztahy mezi množinami a operace s množinami pomocí následujících výroků:

| | |
|--------------------------|---|
| rovnost množin | $A = B \Leftrightarrow \forall x (x \in A \Leftrightarrow x \in B)$ |
| podmnožina | $A \subset B \Leftrightarrow \forall x (x \in A \Rightarrow x \in B)$ |
| průnik množin | $\forall x (x \in A \cap B \Leftrightarrow x \in A \wedge x \in B)$ |
| sjednocení množin | $\forall x (x \in A \cup B \Leftrightarrow x \in A \vee x \in B)$ |
| rozdíl množin | $\forall x (x \in A \setminus B \Leftrightarrow x \in A \wedge x \notin B)$ |

Je-li $A \subset B$, označujeme množinu $B \setminus A$ symbolem \bar{A} a nazýváme ji **doplňkem (komplementem)** množiny A v množině B . Tuto symboliku používáme především tehdy, zkoumáme-li komplementy více množin k jedné pevné množině.

Příklad 1.8. Nechť

$$A = \{1, 2, 3, 4\}, B = \{2, 4, 6\}, C = \{1, 2, 4, 8\} \text{ a } X = \{1, 2, \dots, 10\}.$$

Máme popsat výčtem prvků množiny (doplňky se rozumí vzhledem k X):

$$A \cup B, B \cap C, A \setminus B, B \setminus A, A \cup (B \cap C), (A \cup B) \cap C, \overline{A \cup B}, \overline{A} \cup \overline{B}.$$

Řešení. $A \cup B = \{x \mid x \in A \vee x \in B\} = \{1, 2, 3, 4, 6\}$

$$B \cap C = \{x \mid x \in B \wedge x \in C\} = \{2, 4\}$$

$$A \setminus B = \{x \mid x \in A \wedge x \notin B\} = \{1, 3\}$$

$$B \setminus A = \{x \mid x \in B \wedge x \notin A\} = \{6\}$$

$$A \cup (B \cap C) = \{x \mid x \in A \wedge x \in B \cap C\} = \{1, 2, 3, 4\}$$

$$(A \cup B) \cap C = \{x \mid x \in A \cup B \wedge x \in C\} = \{1, 2, 4, \}$$

$$\overline{A \cup B} = \{x \mid x \in X \wedge x \notin A \cup B\} = \{5, 7, 8, 9, 10\}$$

$$\overline{A} = \{x \mid x \in X \wedge x \notin A\} = \{5, 6, 7, 8, 9, 10\}, \overline{B} = \{x \mid x \in X \wedge x \notin B\} = \{1, 3, 5, 7, 8, 9, 10\}$$

$$\overline{A} \cup \overline{B} = \{x \mid x \in \overline{A} \vee x \in \overline{B}\} = \{1, 3, 5, 6, 7, 8, 9, 10\} \quad \square$$

Množina neobsahující žádné prvky se nazývá **prázdná množina**. Tuto množinu značíme symbolem \emptyset , výrok $\exists x (x \in \emptyset)$ je tedy nepravdivý. Prázdnou množinu můžeme definovat libovolnou kontradikcí, například $\emptyset = \{x \mid x \in A \wedge x \notin A\}$.

Prázdná množina má mnoho překvapivých vlastností, se kterými se setkáme později; některé jsou ověřeny v následujícím příkladu:

Příklad 1.9.

1. Ukažme, že pro libovolnou množinu A platí $\emptyset \subset A$.
2. Prověřme pravdivost následujících výroků:
 - a) $\emptyset \notin \emptyset$
 - b) $\emptyset \subset \emptyset$
 - c) $\emptyset \in \{\emptyset\}$
 - d) $\emptyset \subset \{\emptyset\}$

Řešení.

1. Použijeme výrok definující podmnožinu:

$$\emptyset \subset A \Leftrightarrow \forall x (x \in \emptyset \Rightarrow x \in A)$$

$x \in \emptyset$ je *nepravda*, tedy implikace ve zkoumaném výroku je vždy pravdivá (*nepravda* \Rightarrow *cokoliv*).

2. Prázdná množina nemá žádné prvky, tedy ani samu sebe.
3. viz 1. pro $A = \emptyset$.
4. $\{\emptyset\}$ je množina zadaná výčtem prvků, jediný její prvek je \emptyset ; tedy $\emptyset \in \{\emptyset\}$.

5. viz 1. pro $A = \{\emptyset\}$.

□

Množinu všech podmnožin dané množiny A nazýváme **potenční množinou** a označujeme $\mathcal{P}(A)$. Tedy $\mathcal{P}(A) = \{X \mid X \subset A\}$.

Příklad 1.10. Zřejmě platí $\mathcal{P}(\{a, b\}) = \{\emptyset, \{a\}, \{b\}, \{a, b\}\}$.

Ukážeme, že je-li A konečná množina o n prvcích, má její potenční množina 2^n prvků: Podmnožinu o k prvcích (v množině A) můžeme utvořit $\binom{n}{k}$ různými způsoby (je to počet kombinací k -té třídy z n prvků). Máme tedy

$$\begin{array}{ll} \binom{n}{0} & \text{podmnožin o 0 prvcích (což je } \emptyset) \\ \binom{n}{1} & \text{jednoprvkových podmnožin} \\ \binom{n}{2} & \text{dvouprvkových podmnožin} \end{array} \qquad \begin{array}{l} \binom{n}{k} \text{ k-prvkových podmnožin} \\ \vdots \\ \binom{n}{n} \text{ n-prvkových podmnožin} \end{array}$$

Celkem

$$\binom{n}{0} + \binom{n}{1} + \cdots + \binom{n}{k} + \cdots + \binom{n}{n} = (1 + 1)^n = 2^n.$$

Proto se také někdy množina všech podmnožin dané množiny A označuje symbolem 2^A .

Příklad 1.11. Pro množiny z příkladu 1.8 máme určit

$$\mathcal{P}(A \cap C), \mathcal{P}(B), \mathcal{P}(A \cap C) \cap \mathcal{P}(B) \quad \text{a} \quad \mathcal{P}(A \cap B \cap C).$$

Řešení.

$$A \cap C = \{1, 2, 4\}$$

$$\mathcal{P}(A \cap C) = \{\emptyset, \{1\}, \{2\}, \{4\}, \{1, 2\}, \{1, 4\}, \{2, 4\}, \{1, 2, 4\}\},$$

$$\mathcal{P}(B) = \{\emptyset, \{2\}, \{4\}, \{6\}, \{2, 4\}, \{2, 6\}, \{4, 6\}, \{2, 4, 6\}\},$$

$$\mathcal{P}(A \cap C) \cap \mathcal{P}(B) = \{\emptyset, \{2\}, \{4\}, \{2, 4\}\};$$

$$A \cap B \cap C = \{2, 4\},$$

$$\mathcal{P}(A \cap B \cap C) = \{\emptyset, \{2\}, \{4\}, \{2, 4\}\}.$$

□

Kartézským součinem $A \times B$ množin A, B (v tomto pořadí) nazýváme množinu

$$A \times B = \{(a, b) \mid a \in A \wedge b \in B\}.$$

Přitom (a, b) znamená **uspořádanou dvojici** prvků a, b .

Je-li speciálně $A = B$, pak $A \times A$ značíme A^2 . Například \mathbb{R}^2 bude značit množinu všech uspořádaných dvojic (x, y) reálných čísel.

Jsou-li $A, B, A \neq B$ neprázdné množiny, pak $A \times B \neq B \times A$:

Příklad 1.12. Nechť $A = \{1, 2\}$, $B = \{3\}$. Potom $A \times B = \{(1, 3), (2, 3)\}$, a $B \times A = \{(3, 1), (3, 2)\}$.

Číselné množiny

Číselné obory se obvykle konstruují postupně tak, že se vychází od oboru **přirozených čísel** $\mathbb{N} = \{1, 2, 3, 4, \dots\}$. Součet a součin přirozených čísel je přirozené číslo. \mathbb{N} se rozšíří na obor celých čísel \mathbb{Z} – **celým číslem** nazýváme každé číslo, které lze vyjádřit jako rozdíl přirozených čísel. Součet, součin a rozdíl celých čísel je celé číslo.

Každé číslo, které můžeme vyjádřit jako podíl celého čísla a celého čísla různého od nuly, nazýváme **racionálním číslem**. Obor racionálních čísel značíme písmenem \mathbb{Q} . Součet, rozdíl, součin a podíl dvou racionálních čísel (kromě dělení nulou) je racionální číslo. Všechna racionální čísla můžeme vyjádřit ve tvaru konečných nebo nekonečných periodických desetinných zlomků. Číslo, které lze vyjádřit ve tvaru nekonečného neperiodického desetinného zlomku, nazýváme **iracionálním číslem**. Takovými čísly jsou např. čísla $\sqrt{2}$, $\sqrt{3}$, $2 - \sqrt{3}$, π atd. Množina všech racionálních a iracionálních čísel se nazývá obor **reálných čísel** \mathbb{R} .

Množina reálných čísel není uzavřená k operaci tvoření odmocnin – sudé odmocniny ze záporných čísel nejsou reálná čísla; např. rovnice

$$x^2 + 1 = 0, \quad x^2 + 2x + 2 = 0 \quad (\text{tj. } (x + 1)^2 + 1 = 0)$$

nejsou v \mathbb{R} řešitelné.

Při hledání kořenů algebraických rovnic je však vhodné se sudými odmocninami ze záporných čísel (především s druhou odmocninou z čísla -1) počítat:

Cardanův vzorec pro rovnici $x^3 = ax + b$ má tvar

$$x = \sqrt[3]{\frac{b}{2} + \sqrt{\left(\frac{b}{2}\right)^2 - \left(\frac{a}{3}\right)^3}} + \sqrt[3]{\frac{b}{2} - \sqrt{\left(\frac{b}{2}\right)^2 - \left(\frac{a}{3}\right)^3}}$$

a má smysl pouze pro

$$c = \left(\frac{b}{2}\right)^2 - \left(\frac{a}{3}\right)^3 \geq 0.$$

Ale například rovnice

$$x^3 = 15x + 4 \quad \text{má řešení } x = 4, \quad \text{přičemž } c = 2^2 - 5^3 = -121.$$

Podívejme se, co dostaneme, jestliže formálně dosadíme do Cardanova vzorce:

$$\begin{aligned} x &= \sqrt[3]{2 + \sqrt{-121}} + \sqrt[3]{2 - \sqrt{-121}} = \sqrt[3]{2 + 11\sqrt{-1}} + \sqrt[3]{2 - 11\sqrt{-1}} = (*) \\ &= 2 + \sqrt{-1} + 2 - \sqrt{-1} = 4, \end{aligned}$$

přičemž rovnost označenou (*) získáme následujícím způsobem:

$$(2 \pm \sqrt{-1})^3 = 2^3 \pm 3 \cdot 2^2 \cdot (\sqrt{-1}) + 3 \cdot 2 \cdot (\sqrt{-1})^2 \pm (\sqrt{-1})^3 =$$

$$= 8 \pm 12\sqrt{-1} - 6 \pm (-1) \cdot \sqrt{-1} = 2 \pm 11\sqrt{-1}.$$

Tedy při formálně správném výpočtu s použitím „imaginární“ odmocniny z čísla -1 dostaneme správný (a přitom reálný) výsledek $x = 4$.

Podobné úvahy vedly k zavedení oboru **komplexních čísel** \mathbb{C} . Komplexním číslem rozumíme číslo z tvaru $z = x + jy$, kde $x, y \in \mathbb{R}$ a j je tzv. imaginární jednotka, pro kterou platí $j^2 = -1$.

Reálná čísla

Množinu M , jejíž všechny prvky jsou čísla, nazýváme **číselnou množinou**. Pokud neřekneme výslovně nic jiného, budeme v dalším hovořit o číselných množinách reálných čísel.

Nejčastěji užívanými množinami reálných čísel jsou **intervaly**; připomeňme jejich definici:

Definice 1.13. Nechť platí $a, b \in \mathbb{R}$, $a < b$. Množina

1. $(a, b) = \{x | a < x < b\}$ se nazývá **otevřený interval**,
2. $\langle a, b \rangle = \{x | a \leq x \leq b\}$ se nazývá **uzavřený interval**,
3. $\langle a, b \rangle = \{x | a \leq x < b\}$ se nazývá **zleva uzavřený a zprava otevřený interval**,
4. $(a, b) = \{x | a < x \leq b\}$ se nazývá **zleva otevřený a zprava uzavřený interval**.

Vzhledem k uspořádání reálných čísel je vhodné zavést symboly $-\infty$ a ∞ předpisem

$$\forall x \in \mathbb{R} : (-\infty < x) \wedge (x < \infty).$$

Body $-\infty$ a ∞ se nazývají **nevlastní body** reálné osy.

Zavedeme označení: $\mathbb{R} \cup \{-\infty, \infty\} = \overline{\mathbb{R}}$.

Dále definujeme následující intervaly:

1. $(a, \infty) = \{x | a < x\}$,
2. $\langle a, \infty \rangle = \{x | a \leq x\}$,
3. $(-\infty, b) = \{x | x < b\}$,
4. $(-\infty, b] = \{x | x \leq b\}$.

Podobně píšeme $\mathbb{R} = (-\infty, \infty)$.

Speciálním případem intervalů jsou tzv. okolí bodu:

Definice 1.14. *Okolím bodu* $a \in \mathbb{R}$ (také ε -okolím) rozumíme množinu

$$\mathcal{U}(a, \varepsilon) = \{x \in \mathbb{R} \mid |x - a| < \varepsilon\} = (a - \varepsilon, a + \varepsilon),$$

bod a se nazývá *střed okolí* a číslo ε *poloměr* okolí. Množinu

$$\mathcal{U}^*(a, \varepsilon) = \mathcal{U}(a, \varepsilon) \setminus \{a\} = (a - \varepsilon, a) \cup (a, a + \varepsilon) = \{x \in \mathbb{R} \mid 0 < |x - a| < \varepsilon\}$$

budeme nazývat *redukováným (ryzím) okolím* bodu $a \in \mathbb{R}$.

(Pro naše potřeby obvykle předpokládáme, že ε je libovolně malé.)

Není-li poloměr okolí ε podstatný, píšeme místo $\mathcal{U}(a, \varepsilon)$ a $\mathcal{U}^*(a, \varepsilon)$ pouze $\mathcal{U}(a)$ a $\mathcal{U}^*(a)$.

Okolím $\mathcal{U}(\infty)$ bodu ∞ budeme rozumět každý interval (K, ∞) a okolím $\mathcal{U}(-\infty)$ bodu $-\infty$ budeme rozumět každý interval $(-\infty, K)$.

Pomocí okolí můžeme definovat pojem tzv. hromadného bodu množiny, který budeme potřebovat při zavádění pojmu limity:

Definice 1.15. Bod $a \in \overline{\mathbb{R}}$ je *hromadný bod* množiny $M \subseteq \mathbb{R}$, jestliže v každém jeho redukováném okolí leží alespoň jeden bod $x \in M$.

Příklad 1.16.

1. Každý bod intervalu $(0, 1)$ je hromadný. Navíc bod 0, který do intervalu nepatří, je jeho hromadným bodem.
2. Množina \mathbb{N} má v $\overline{\mathbb{R}}$ jediný hromadný bod ∞ .
3. Bod 2 množiny $M = (0, 1) \cup \{2\} \cup (3, \infty)$ není jejím hromadným bodem, neboť jeho okolí $\mathcal{U}(2) = (2 - \frac{1}{2}, 2 + \frac{1}{2})$ nemá s M jiný společný bod než 2. Takový bod se nazývá *izolovaný* bod množiny M .

Suprémum, infimum, maximum, minimum, ohraničené (omezené) množiny

Je-li $M \subset \overline{\mathbb{R}}$, $a \in \overline{\mathbb{R}}$, zavedeme označení:

$$M \leq a \text{ (resp. } a \leq M) \Leftrightarrow \forall x \in M : x \leq a \text{ (resp. } \forall x \in M : a \leq x).$$

Definice 1.17.

Platí-li $M \leq a$, $a \in \mathbb{R}$, řekneme, že a je *horní mez* (závora, ohraničení) množiny M a že množina M je *shora ohraničená*,

platí-li $a \leq M$, $a \in \mathbb{R}$, řekneme, že a je *dolní mez* (závora, ohraničení) množiny M a že množina M je *zdola ohraničená*,

řekneme, že $a \in \mathbb{R}$ je **největší prvek množiny** M a píšeme $a = \max M$, jestliže platí $M \leq a \wedge a \in M$,

řekneme, že $a \in \mathbb{R}$ je **nejmenší prvek množiny** M a píšeme $a = \min M$, jestliže platí $a \leq M \wedge a \in M$.

Příklad 1.18. $\min(-2, 3)$ neex., $\max(-2, 3) = 3$; $\max \mathbb{N}$ neex., $\min \mathbb{N} = 1$.

Definice 1.19. Nechť $M \subset \mathbb{R}$.

Nejmenší horní mez množiny M nazýváme **supremum množiny** M . Není-li množina M shora ohraničená, považujeme za její supremum ∞ . Píšeme

$$\sup M = \min \{x \mid x \in \overline{\mathbb{R}} \wedge M \leq x\}.$$

Největší dolní mez množiny M nazýváme **infimum množiny** M . Není-li množina M zdola ohraničená, považujeme za její infimum $-\infty$. Píšeme

$$\inf M = \max \{x \mid x \in \overline{\mathbb{R}} \wedge x \leq M\}.$$

Příklad 1.20. $\inf(-2, 3) = \max \{x \in \overline{\mathbb{R}} \mid x \leq (-2, 3)\} = \max \{x \in \overline{\mathbb{R}} \mid x \leq -2\} = -2$,

$\sup(-2, 3) = \min \{x \in \overline{\mathbb{R}} \mid x \geq (-2, 3)\} = \min \{x \in \overline{\mathbb{R}} \mid x \geq 3\} = 3$.

Příklad 1.21. $\sup \mathbb{N} = \min \{x \in \overline{\mathbb{R}} \mid \mathbb{N} \leq x\} = \min \{\infty\} = \infty$.

Bez důkazu uvedeme velmi důležitou větu:

Věta 1.22. Každá podmnožina \mathbb{R} má právě jedno supremum a právě jedno infimum.

Při axiomatické výstavbě oboru reálných čísel se uvádí následující Archimedův axiom:

$$\forall a \in (0, \infty) \exists n \in \mathbb{N} : a \leq n.$$

Platnost tohoto axiomu využijeme v následujícím příkladu:

Příklad 1.23. Ukážeme, že platí tvrzení: $\forall \varepsilon > 0 \exists n \in \mathbb{N} : \frac{1}{n} < \varepsilon$.

Řešení.

$$\forall \varepsilon : \varepsilon > 0 \Rightarrow \frac{1}{\varepsilon} > 0 \Rightarrow |\text{Archimedův axiom}| \Rightarrow \exists n \in \mathbb{N} : \frac{1}{n} < \varepsilon$$

a poslední výrok je ekvivalentní s dokazovaným tvrzením. □

Shrnutí

V tomto odstavci jsme zopakovali základní pojmy, které se týkají množin:

- dva hlavní způsoby zadání množiny: výčtem prvků resp. výrokovou funkcí,
- operace s množinami: rovnost, průnik, sjednocení a rozdíl množin, pojem podmnožiny a doplňku vzhledem k dané množině,
- prázdná množina, potenční množina a kartézský součin množin,
- množina reálných čísel \mathbb{R} a její podmnožiny: \mathbb{N} , \mathbb{Z} , \mathbb{Q} , intervaly.

Dále jsme zavedli nové pojmy pro obor reálných čísel:

- rozšíření \mathbb{R} o nevlastní body $\infty, -\infty$: $\overline{\mathbb{R}}$,
- okolí bodu $x \in \mathbb{R}$: interval $(x - \varepsilon, x + \varepsilon)$,
- redukované (ryzí) okolí bodu $x \in \mathbb{R}$: množina $(x - \varepsilon, x + \varepsilon) \setminus \{x\}$,
- hromadný bod množiny: bod, v jehož libovolném redukovaném okolí leží alespoň jeden bod dané množiny,
- horní (resp. dolní) mez (závora) množiny: bod z \mathbb{R} , který je větší (resp. menší) nebo roven každému prvku této množiny,
- supremum (resp. infimum) množiny: nejmenší z horních (resp. největší z dolních) mezí množiny.

Cvičení

1. Nechť $A = \{0, 1, 2, 3\}$. Najděte množiny $A \cup A$, $A \cap A$, $A \setminus A$. Dají se výsledky zobecnit?
2. Nechť A je množina všech celých čísel dělitelných dvěma, B množina všech celých čísel dělitelných třemi, C množina všech celých čísel dělitelných šesti. Zjistěte, které z následujících vztahů jsou správné:

| | | |
|---------------------|--------------------------|---------------------|
| a) $A \subset B$, | b) $A \subset C$, | c) $B \subset C$, |
| d) $B \subset A$, | e) $C \subset A$, | f) $C \subset B$, |
| g) $A \cup B = C$, | h) $A \setminus B = C$, | i) $A \cap B = C$. |
3. Nechť M je množina všech přirozených čísel menších než 16, M_1 je její podmnožina, která obsahuje všechna sudá čísla, M_2 podmnožina, která obsahuje všechna čísla dělitelná třemi a M_3 podmnožina, která obsahuje všechna čísla dělitelná pěti. Najděte

množiny:

- | | |
|---|--|
| a) $M_1 \cup M_2$, | b) $M_1 \cup M_2 \cup M_3$, |
| c) $M_2 \cap M_3$, | d) $M_1 \cap M_2 \cap M_3$, |
| e) $(M_1 \cup M_2) \cap M_3$, | f) $(M_1 \cap M_3) \cup (M_2 \cap M_3)$, |
| g) $M_2 \setminus M_1$, | h) $M_1 \setminus M_2$, |
| i) $(M_1 \setminus M_2) \cup (M_2 \setminus M_1)$, | j) $(M_1 \cup M_2) \setminus (M_1 \cap M_2)$, |
| k) $(M_1 \cap M_2) \cup M_3$, | l) $(M_1 \cup M_2) \cap (M_2 \cup M_3)$. |

4. Znázorněte množiny a)– l) z předchozího příkladu, jestliže pod M_1, M_2, M_3 rozumíme čtverce se stranou stejné délky, přičemž středy čtverců S_1, S_2, S_3 leží na přímce procházející protilehlými vrcholy uvedených čtverců a S_3 je střed úsečky S_1S_2 .
5. Nechť A, B, C jsou soustředné kruhy s poloměry r_1, r_2, r_3 , kde $0 < r_1 < r_2 < r_3$.
- a) Znázorněte množiny $A \cup B \cup C$, $A \cap B \cap C$, $A \setminus B$, $B \setminus A$, $B \setminus C$, $C \setminus B$.
- b) Znázorněte doplňky \overline{A} , \overline{B} , \overline{C} vzhledem k C .
6. Najděte supremum a infimum množiny
- a) $M_1 = \left\{ x \mid x = \frac{2n+1}{n} \wedge n \in \mathbb{N} \right\}$,
- b) $M_2 = \left\{ x \mid x = \frac{2+(-1)^n}{n} \wedge n \in \mathbb{N} \right\}$,
- c) $M_3 = \{x \in \mathbb{R} \mid |3x - 1| < x < |3x + 1|\}$.
7. $M = \{0,5; 0,55; 0,555; \dots\}$. Dokažte, že $\sup M = \frac{5}{9}$.
8. Dokažte: Je-li $\emptyset \neq N \subset M$, potom $\inf M \leq \inf N$, $\sup N \leq \sup M$.
9. Nechť A, B jsou neprázdné omezené množiny v \mathbb{R} . Označme $A + B = \{x + y \mid x \in A \wedge y \in B\}$.
Dokažte:
- a) $\sup(A + B) = \sup A + \sup B$,
- b) $\inf(A + B) = \inf A + \inf B$,
- c) $\sup(A \cup B) = \max\{\sup A, \sup B\}$,
- d) $\sup(A \cap B) \leq \min\{\sup A, \sup B\}$.
- Ukažte na příkladě, že zde nemusí platit rovnost.
Co platí pro infima množin $A \cup B$, $A \cap B$?

Výsledky

1. A, A, \emptyset ;
2. e), f), i);
3. a) $M \setminus \{1, 5, 7, 11, 13\}$, b) $M \setminus \{1, 7, 11, 13\}$, c) $\{15\}$, d) \emptyset , e)f) $\{10, 15\}$, g) $\{3, 9, 15\}$;
6. a) $\sup M_1 = 3$, $\inf M_1 = 2$, b) $\sup M_2 = \frac{3}{2}$, $\inf M_2 = 0$, c) $\sup M_3 = \frac{1}{2}$, $\inf M_3 = \frac{1}{4}$.

1.3 Funkce, zobrazení

V této kapitole se budeme věnovat základnímu pojmu, se kterým pracuje matematická analýza – pojmu funkce. Opět připomeneme pojmy známé ze střední školy a sjednotíme a upřesníme terminologii.

Definice 1.24. **Zobrazení** f množiny D do množiny M je předpis, který každému prvku $x \in D$ přiřadí právě jeden prvek $y \in M$. Prvek y se nazývá **hodnota** zobrazení f v x , nebo také **obraz** x a značí se $f(x)$.

Skutečnost, že f je zobrazení množiny D do množiny M zapisujeme vztahem

$$f : D \rightarrow M, \quad x \mapsto f(x).$$

Množina D se nazývá **definiční obor** zobrazení f , množina $f(D) = \{f(x) | x \in D\}$ se nazývá **obor hodnot** zobrazení f a značí se symbolem H_f .

Jestliže budeme současně mluvit o více funkcích, budeme pro jejich definiční obory užívat symboly D_f, D_g, \dots

Dvě zobrazení f, g **jsou si rovna** ($f = g$), jestliže mají tentýž definiční obor D a platí $\forall x \in D : f(x) = g(x)$.

Jsou-li A, B množiny, definujeme:

a) **Zúžení** f na A (nebo též **parciální zobrazení**) je zobrazení f/A s definičním oborem $A \cap D$, dané předpisem

$$f/A : f/A(x) = f(x), x \in A \cap D.$$

b) **Obraz** množiny A při zobrazení f – množina tvořená všemi funkčními hodnotami prvků z množiny A :

$$f(A) = \{f(x) | x \in A \cap D\}.$$

c) **Vzor** množiny B při zobrazení f – množina všech takových x , jejichž funkční hodnoty leží v množině B :

$$f^{-1}(B) = \{x \in D | f(x) \in B\}.$$

Poznamenejme, že a) a b) se nejčastěji používají v případech, že $A \subset D$, ale není to podmínkou.

Poznámka 1.25. V předchozí definici se objevily pojmy, které asi ze střední školy neznáte, a jejichž označení může být z počátku matoucí.

Je-li $a \in \mathbb{R}, A \subset \mathbb{R}$ a $f : \mathbb{R} \rightarrow \mathbb{R}$ zobrazení (funkce),

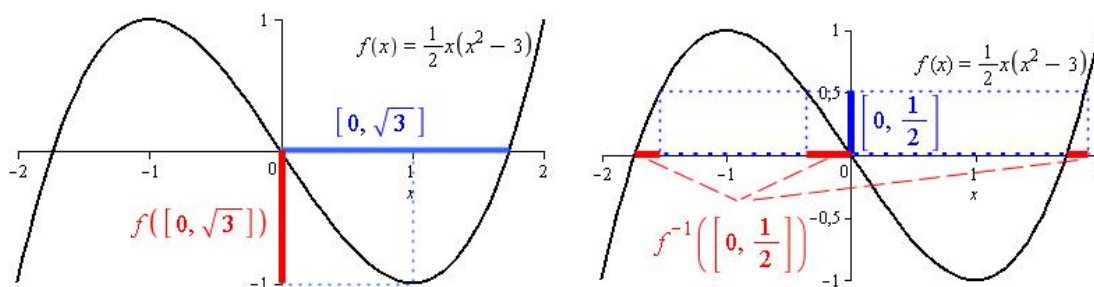
je podstatný rozdíl mezi symboly $f(a), f(\{a\})$ a $f(A)$ – je-li například $f(x) = x^2$, potom $f(2) = 4$ – tedy číslo (funkční hodnota),

$f(\{2\}) = \{4\}$ – jednoprvková množina a

$f(\langle 1, 2 \rangle) = \langle 1, 4 \rangle$ – obrazem intervalu je interval a dále

$f^{-1}(2)$ neexistuje – kdyby funkce $f(x) = x^2$ měla inverzní, byla by to hodnota této inverzní funkce pro $x = 2$,
 $f^{-1}(\{2\}) = \{-\sqrt{2}, \sqrt{2}\}$ a
 $f^{-1}(\langle 1, 2 \rangle) = \langle -\sqrt{2}, 1 \rangle \cup \langle 1, \sqrt{2} \rangle$.

Příklad 1.26. Pro funkci $f(x) = \frac{1}{2}x(x^2 - 3)$ najdeme $f(\langle 0, \sqrt{3} \rangle)$ a $f^{-1}(\langle 0, \frac{1}{2} \rangle)$:



Obr. 1.1:

V tomto učebním textu nás budou zajímat převážně zobrazení mezi číselnými množinami. V těchto případech se pro zobrazení vžil termín funkce.

Definice 1.27. *Funkcí* obvykle rozumíme takové zobrazení, jehož obor hodnot je číselná množina, tedy podmnožina množiny reálných (nebo komplexních) čísel.

Pojem a základní vlastnosti funkce

Definice 1.28. Zobrazení f , jehož definiční obor, stejně jako obor hodnot, jsou podmnožiny množiny \mathbb{R} , se nazývá *reálná funkce jedné reálné proměnné*, dále krátce *funkce*.

Příklad 1.29. Důležité funkce:

a) $[x]$ – celá část x : $[x] \leq x < [x] + 1$, $[x] \in \mathbb{Z}$

b) $\chi_M(x) = \begin{cases} 0 & x \notin M \\ 1 & x \in M \end{cases}$ – charakteristická funkce množiny M

speciálně $\chi(x) = \begin{cases} 0 & x \notin \mathbb{Q} \\ 1 & x \in \mathbb{Q} \end{cases}$ – char. funkce množiny racionálních čísel \mathbb{Q}

c) $\text{sgn}(x) = \begin{cases} 1 & x > 0 \\ 0 & x = 0 \\ -1 & x < 0 \end{cases}$

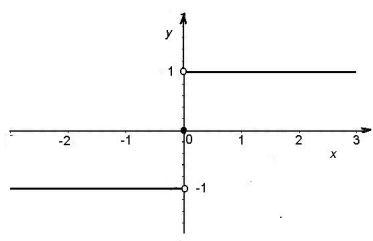
Je-li funkce f zadána formulí, např. $f(x) = a^x$, budeme často mluvit prostě o funkci a^x . V tomto případě musí být zadán definiční obor. Dohodneme se však, že v případě,

kdy definiční obor nebude výslovně uveden, budeme za něj považovat množinu všech těch čísel x , pro která má daná formule smysl. Tuto množinu pak nazýváme **přirozeným definičním oborem** funkce.

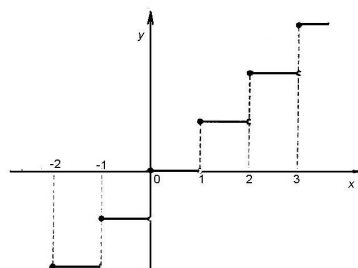
V rovině \mathbb{R}^2 můžeme funkci f znázornit pomocí jejího grafu:

Definice 1.30. **Graf** funkce f je množina všech bodů $[x, y] \in \mathbb{R}^2$ takových, že $x \in D$, $y = f(x)$. Rovnice $y = f(x)$ se nazývá **rovnice grafu funkce** f .

Grafy funkcí z příkladu 1.29 jsou v následujících obrázcích:



Obr. 1.2: $y = \text{sgn}(x)$



Obr. 1.3: $y = [x]$

Zde si můžete vyzkoušet kreslení grafů funkcí pomocí Mapletu.

Složená funkce

Definice 1.31. Jsou-li f, g funkce, můžeme vytvořit novou funkci $f \circ g$ (čti f po g) předpisem

$$(f \circ g)(x) = f(g(x)).$$

Funkce $f \circ g$ se nazývá **složená funkce**, funkce f **vnější složka** a funkce g **vnitřní složka** složené funkce $f \circ g$.

Definičním oborem složené funkce je množina $D_{f \circ g} = g^{-1}(D_f) = \{x \in D_g \mid g(x) \in D_f\}$.

Vznik složené funkce ilustruje následující obrázek:

Příklad 1.32. Utvoříme složené funkce $f \circ g$ resp. $f \circ g \circ h$, jestliže jsou zadány jednotlivé složky:

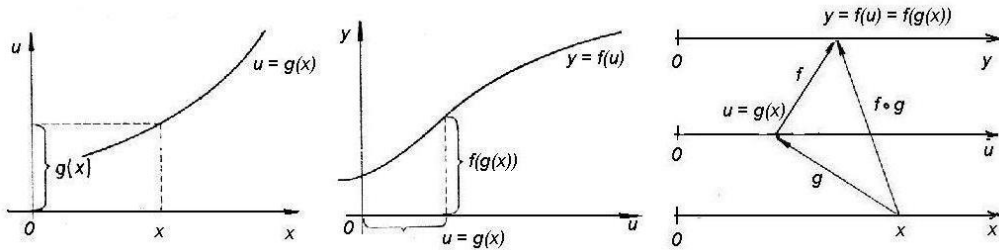
a)

$$f : f(u) = a^u; \quad u \in \mathbb{R}, (a \geq 0)$$

$$g : g(y) = \cos y; \quad y \in \mathbb{R}$$

$$h : h(x) = \frac{1-x^2}{1+x^2}; \quad x \in \mathbb{R}$$

$$f \circ g \circ h : f(g(h(x))) = a^{\cos \frac{1-x^2}{1+x^2}}; \quad x \in \mathbb{R}$$



Obr. 1.4: Složená funkce

b)

$$\begin{aligned} f: f(y) &= \sqrt{1+2y}; & y &\in \langle -\frac{1}{2}, +\infty \rangle \\ g: g(x) &= \sin x; & x &\in \langle -\frac{\pi}{2}, \frac{\pi}{2} \rangle \\ f \circ g: f(g(x)) &= \sqrt{1+2\sin x}; \end{aligned}$$

Určíme $D_{f \circ g}$:

$$\begin{aligned} D_{f \circ g} &= g^{-1}(D_f) = g^{-1}(\langle -\frac{1}{2}, \infty \rangle) = \{x \mid \sin x \in \langle -\frac{1}{2}, \infty \rangle \wedge x \in \langle -\frac{\pi}{2}, \frac{\pi}{2} \rangle\} = \\ &= |-\frac{1}{2} = \sin(-\frac{\pi}{6})| = \langle -\frac{\pi}{6}, \frac{\pi}{2} \rangle \end{aligned}$$

c)

$$f: f(x) = \begin{cases} 0 & x < 0 \\ 1-x & x \geq 0 \end{cases} \quad \text{a} \quad g: g(x) = \operatorname{sgn} x$$

$$f \circ g: f(g(x)) = \begin{cases} 0 & \operatorname{sgn} x < 0 \\ 1 - \operatorname{sgn}(x) & \operatorname{sgn} x \geq 0 \end{cases};$$

$$\operatorname{sgn} x = \begin{cases} -1 & x < 0 \\ 0 & x = 0 \\ 1 & x > 0 \end{cases} \quad \text{tedy} \quad \operatorname{sgn} x \begin{cases} < 0 & x < 0 \\ \geq 0 & x \geq 0 \end{cases}$$

Odtud

$$f(g(x)) = \begin{cases} 0 & x < 0 \\ 1-0 & x = 0 \\ 1-1 & x > 0 \end{cases} \quad \text{neboli} \quad f(g(x)) = \begin{cases} 0 & x \neq 0 \\ 1 & x = 0 \end{cases}$$

Příklad 1.33. Funkce f a g jsou definovány předpisy

$$f(x) = \begin{cases} x^2 & |x| \leq 1 \\ 2 - |x| & |x| > 1 \end{cases}, \quad g(x) = \begin{cases} 1 & x \leq 1 \\ 1-x & x > 1 \end{cases}.$$

Najděte definiční předpis pro složenou funkci $g \circ f$.

$$g(f(x)) = \begin{cases} 1 & f(x) \leq 1 \\ 1 - f(x) & f(x) > 1 \end{cases};$$

vyšetříme obor hodnot funkce f :

Je-li $|x| \leq 1$, je $f(x) = x^2$, tedy pro tato x je $0 \leq f(x) \leq 1$. Je-li $|x| > 1$, je $f(x) = 2 - |x|$. Zjistíme, kdy platí $2 - |x| \leq 1$:

$2 - |x| \leq 1 \Leftrightarrow |x| > 1$ - tedy pro všechna x platí $f(x) \leq 1$ a dostáváme

$$g(f(x)) = \left\{ \begin{array}{ll} 1 & f(x) \leq 1 \text{ platí vždy} \\ 1 - f(x) & f(x) > 1 \text{ neplatí nikdy} \end{array} \right\} = 1 \quad \forall x \quad \underline{\underline{g(f(x)) = 1 \quad \forall x \in \mathbb{R}.}}$$

Příklad 1.34. Funkce f a g jsou definovány předpisy

$$f(x) = \begin{cases} x & 0 < x \leq 1 \\ 2 - x & 1 < x < 2 \end{cases}, \quad g(x) = \begin{cases} x & x \in \mathbb{Q} \\ 2 - x & x \notin \mathbb{Q} \end{cases}.$$

Najděte definiční předpis pro složenou funkci $f \circ g$.

$$f(g(x)) = \begin{cases} g(x) & 0 < x \leq 1 \\ 2 - g(x) & 1 < x < 2 \end{cases} = \begin{cases} x & 0 < x \leq 1 \wedge x \in \mathbb{Q} \\ 2 - x & 0 < 2 - x < 1 \wedge x \notin \mathbb{Q} \\ 2 - x & 1 < x < 2 \wedge x \in \mathbb{Q} \\ x & 1 < 2 - x < 2 \wedge x \notin \mathbb{Q} \end{cases}$$

Vyřešíme nerovnosti v pravé části předchozího vztahu:

$$1 < 2 - x < 1 \Leftrightarrow -2 < x - 2 < -1 \Leftrightarrow 0 < x < 1$$

$$0 < 2 - x < 1 \Leftrightarrow -1 < x - 2 < 0 \Leftrightarrow 1 < x < 2$$

$$f(g(x)) = \left\{ \begin{array}{ll} x & (0 < x \leq 1 \wedge x \in \mathbb{Q}) \vee (0 < x < 1 \wedge x \notin \mathbb{Q}) \Leftrightarrow 0 < x \leq 1 \\ 2 - x & (1 < x < 2 \wedge x \in \mathbb{Q}) \vee (1 < x < 2 \wedge x \notin \mathbb{Q}) \Leftrightarrow 1 < x < 2 \end{array} \right\} \Rightarrow$$

$$\underline{\underline{f(g(x)) = f(x)}}$$

Předchozí dva příklady byly náročnější, ilustrují ale přesně postup, kterým složená funkce vzniká. Poznamenejme, že znalost pojmu, vlastností a zejména postupu utváření složených funkcí má zásadní důležitost v dalším studiu.

Skládání jednodušších funkcí si můžete vyzkoušet také pomocí [tohoto Mapletu](#).

V další části této kapitoly připomeneme pojmy, které jsou vám jistě dobře známé ze střední školy:

Funkce prosté a funkce inverzní

Definice 1.35. Funkce f se nazývá **prostá**, jestliže platí:

$$\forall x_1, x_2 \in D : x_1 \neq x_2 \Rightarrow f(x_1) \neq f(x_2).$$

Příklad 1.36. Funkce

$$\begin{aligned} f : f(x) = x; \quad x \in \mathbb{R} & & f : f(x) = x^2; \quad x \in \langle 0, \infty \rangle \\ f : f(x) = \sin x; \quad x \in \langle -\frac{\pi}{2}, \frac{\pi}{2} \rangle & & f : f(x) = \cos x; \quad x \in \langle 0, \pi \rangle \end{aligned}$$

jsou prosté, avšak funkce

$$\begin{aligned} f_1 : f_1(x) = x^2; \quad x \in \mathbb{R} & & f_2 : f_2(x) = \sin x; \quad x \in \mathbb{R} \\ f_3 : f_3(x) = \cos x; \quad x \in \mathbb{R} & & \end{aligned}$$

nejsou prosté: Zřejmě je

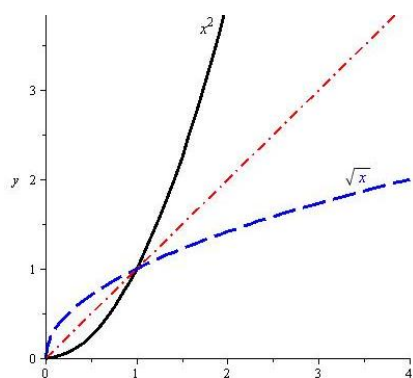
$$f_1(1) = 1^2 = f_1(-1) = (-1)^2 = 1, \quad \text{dokonce platí } \forall x \in \mathbb{R} : f_1(x) = f_1(-x),$$

analogicky $f_2(x) = \sin x = f_2(x + 2\pi) = \sin(x + 2\pi)$.

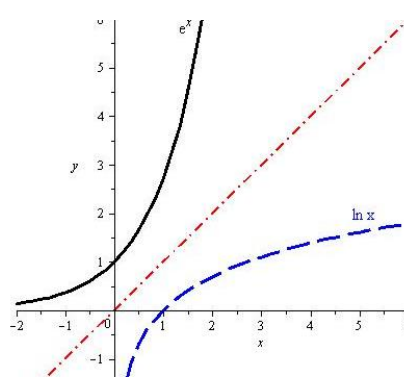
Definice 1.37. Je-li f prostá funkce, potom **inverzní funkci** k funkci f rozumíme funkci f^{-1} , jejímž definičním oborem je obor hodnot funkce f a pro každou dvojici (x, y) , $x \in D_f$, $y \in H_f$, platí $y = f(x)$ právě když $x = f^{-1}(y)$.

Příklad 1.38.

$$\begin{aligned} f : f(x) = x^2, \quad x \in \langle 0, \infty \rangle; \quad f^{-1} : f^{-1}(y) = \sqrt{y}, \quad y \in \langle 0, \infty \rangle \\ f : f(y) = a^y, \quad y \in \mathbb{R}; \quad f^{-1} : f^{-1}(x) = \log_a x, \quad x \in (0, \infty) \end{aligned}$$



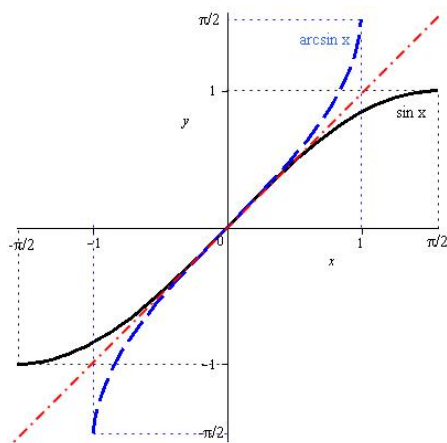
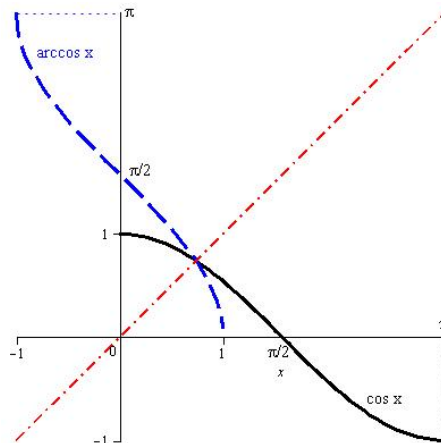
Obr. 1.5: $y = x^2, y = \sqrt{x}$



Obr. 1.6: $y = e^x, y = \ln x$

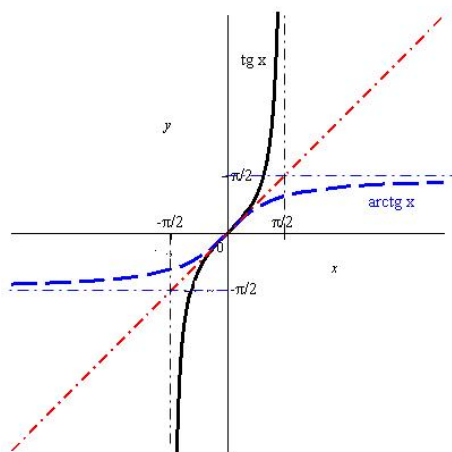
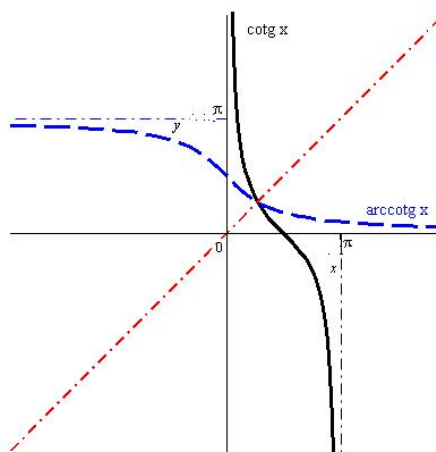
$$f : f(x) = \sin x, \quad x \in \langle -\frac{\pi}{2}, \frac{\pi}{2} \rangle; \quad f^{-1} : f^{-1}(x) = \arcsin x, \quad x \in \langle -1, 1 \rangle$$

$$f : f(x) = \cos x, \quad x \in \langle 0, \pi \rangle; \quad f^{-1} : f^{-1}(x) = \arccos x, \quad x \in \langle -1, 1 \rangle$$

Obr. 1.7: $y = \sin x, y = \arcsin x$ Obr. 1.8: $y = \cos x, y = \arccos x$

$$f : f(x) = \operatorname{tg} x, \quad x \in \langle -\frac{\pi}{2}, \frac{\pi}{2} \rangle; \quad f^{-1} : f^{-1}(x) = \operatorname{arctg} x, \quad x \in \mathbb{R}$$

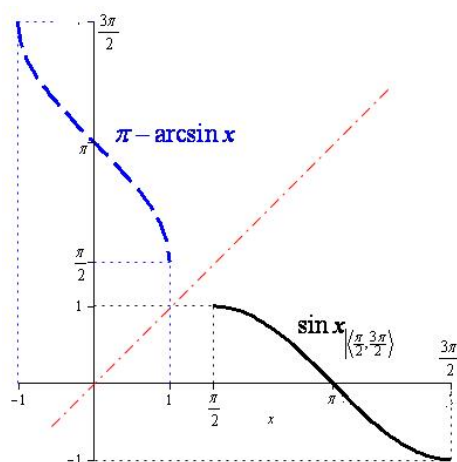
$$f : f(x) = \operatorname{cotg} x, \quad x \in \langle 0, \pi \rangle; \quad f^{-1} : f^{-1}(x) = \operatorname{arccotg} x, \quad x \in \mathbb{R}$$

Obr. 1.9: $y = \operatorname{tg} x, y = \operatorname{arctg} x$ Obr. 1.10: $y = \operatorname{cotg} x, y = \operatorname{arccotg} x$

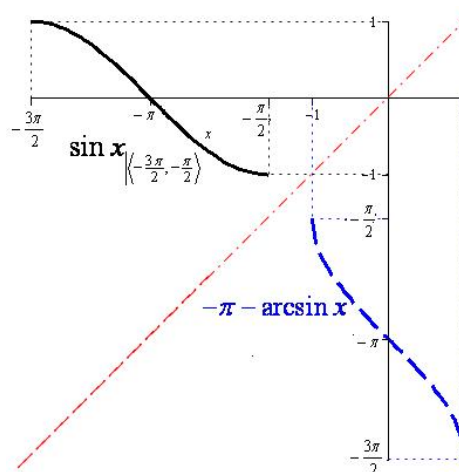
Jestliže tedy bod $[a, b]$ leží na grafu funkce f , takže $b = f(a)$, je $f^{-1}(b) = a$, tedy bod $[b, a]$ leží na grafu funkce f^{-1} ; přitom body $[a, b]$, $[b, a]$ jsou symetrické podle přímky $y = x$. Platí tedy (jak se můžeme přesvědčit v obrázcích k příkladu 1.38):

Věta 1.39. Grafy inverzních funkcí f, f^{-1} jsou symetrické podle přímky $y = x$.

Poznámka 1.40. Inverzní funkci, jak vyplývá z definice, můžeme utvořit pouze k prosté funkci; není-li funkce prostá, dá se utvořit inverzní funkce k jejímu zúžení na vhodný interval, jak jsme viděli v předchozím příkladu na funkcích $f(x) = x^2$, $x \in \langle 0, \infty \rangle$ resp. $f(x) = \sin x$, $x \in \langle -\frac{\pi}{2}, \frac{\pi}{2} \rangle$. Jestliže se omezíme na jiný interval, na kterém je daná funkce prostá, dostaneme pochopitelně jinou inverzní funkci. Uvažujme např. dvě jiná zúžení funkce $\sin x$, a to jednak na interval $\langle \frac{\pi}{2}, \frac{3\pi}{2} \rangle$, jednak na interval $\langle -\frac{3\pi}{2}, -\frac{\pi}{2} \rangle$. Příslušné funkce vidíme v následujícím obrázku:



Obr. 1.11:



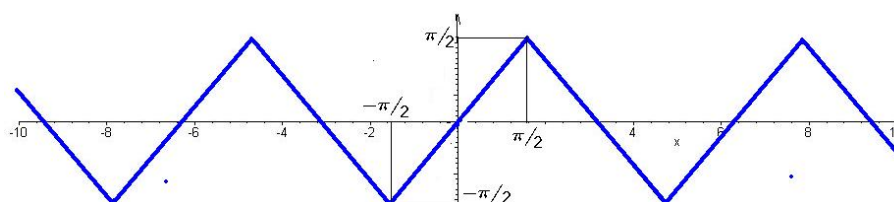
Obr. 1.12:

Poznámka 1.41. Povšimněme si, co se stane, vytvoříme-li kompozici dvou navzájem inverzních funkcí:

Zřejmě platí:

$$f^{-1}[f(x)] = x, x \in D_f \quad \text{a} \quad f[f^{-1}(y)] = y, y \in D_{f^{-1}}.$$

Pozor: je podstatné, že vnitřní složku uvažujeme pouze na té části definičního oboru, kde je tato vnitřní složka prostou funkcí, tedy tam, kde k ní sestrojujeme funkci inverzní, která je vnější složkou. Na obr. 1.13 můžeme na příkladu funkce $\arcsin \sin x$ vidět co se stane, když vnitřní složku uvažujeme na „větší“ množině.

Obr. 1.13: $\arcsin \sin x$

K vytváření inverzních funkcí můžeme použít [tento Maplet](#).

Algebraické operace mezi funkcemi

Definice 1.42. Jsou-li f, g funkce a c konstanta, (kterou můžeme ostatně chápat jako konstantní funkci, tj. funkci, která každému reálnému číslu přiřadí tutéž hodnotu c), můžeme definovat nové funkce $f + g$, $f - g$, fg , $\frac{f}{g}$, cf následujícími předpisy:

$$\begin{aligned} f + g &: (f + g)(x) = f(x) + g(x); & D_{f+g} &= D_f \cap D_g \\ f - g &: (f - g)(x) = f(x) - g(x); & D_{f-g} &= D_f \cap D_g \\ fg &: (fg)(x) = f(x)g(x); & D_{fg} &= D_f \cap D_g \\ \frac{f}{g} &: \frac{f}{g}(x) = \frac{f(x)}{g(x)}; & D_{\frac{f}{g}} &= \{x \in D_f \cap D_g \mid g(x) \neq 0\} \\ cf &: (cf)(x) = cf(x); & D_{cf} &= D_f \end{aligned}$$

Tyto nové funkce budeme nazývat **součet**, **rozdíl**, **součin**, **podíl funkcí** f, g a **c -násobek funkce** f . Vzhledem k výše uvedené poznámce o konstantě, c -násobek funkce f je speciálním případem součinu funkcí.

Všimněme si dále, že zatímco definice složené funkce, prosté funkce a inverzní funkce jsou speciální případy stejných pojmů pro zobrazení, není možné převést na libovolná zobrazení definice algebraických operací mezi funkcemi, neboť zde je podstatně využito algebraické struktury množiny \mathbb{R} .

Monotonní funkce

Definice 1.43. Řekneme, že funkce f je na množině $M \subset D_f$

- **rostoucí**, jestliže $\forall x_1, x_2 \in M : x_1 < x_2 \Rightarrow f(x_1) < f(x_2)$,
- **klesající**, jestliže $\forall x_1, x_2 \in M : x_1 < x_2 \Rightarrow f(x_1) > f(x_2)$,
- **nerostoucí**, jestliže $\forall x_1, x_2 \in M : x_1 < x_2 \Rightarrow f(x_1) \geq f(x_2)$,
- **neklesající**, jestliže $\forall x_1, x_2 \in M : x_1 < x_2 \Rightarrow f(x_1) \leq f(x_2)$.

Rostoucí a klesající funkce se nazývají **ryze monotónní**, funkce neklesající a nerostoucí se nazývají **monotónní**.

Je-li f ryze monotónní na D_f , potom je jistě prostá, a proto existuje inverzní funkce f^{-1} . Předpokládejme pro určitost, že f je rostoucí. Označíme-li $y_1 = f(x_1), y_2 = f(x_2)$ pro $x_1, x_2 \in D_f$, je $y_1 < y_2$ právě když $x_1 < x_2$, avšak $x_1 = f^{-1}(y_1), x_2 = f^{-1}(y_2)$, f^{-1} je tedy také rostoucí. Podobný výsledek dostaneme pro klesající funkci (viz obrázky k příkladu 1.38). Platí tedy

Věta 1.44. Je-li f ryze monotónní na D_f , potom k ní existuje inverzní funkce f^{-1} , která je rovněž ryze monotónní a to rostoucí, je-li f rostoucí, a klesající, je-li f klesající.

Příklad 1.45. $f : f(x) = 5 - \sqrt{x}$

je klesající na definičním oboru $\langle 0, +\infty \rangle$, neboť

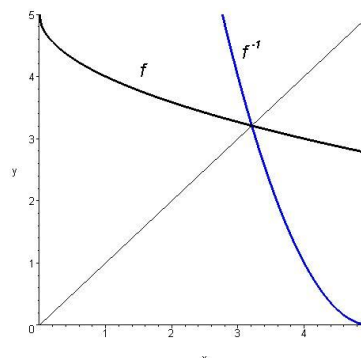
$$x_1 < x_2 \Rightarrow \sqrt{x_1} < \sqrt{x_2} \Rightarrow$$

$$\Rightarrow 5 - \sqrt{x_1} > 5 - \sqrt{x_2}.$$

Funkce

$$f^{-1} : f^{-1}(y) = (y - 5)^2; y \in (-\infty, 5)$$

je rovněž klesající (prověřte!) viz obr. 1.14



Obr. 1.14: $f(x)=5-\sqrt{x}$, $f^{-1}(x)=(x-5)^2$

Funkce sudé a liché, funkce periodické

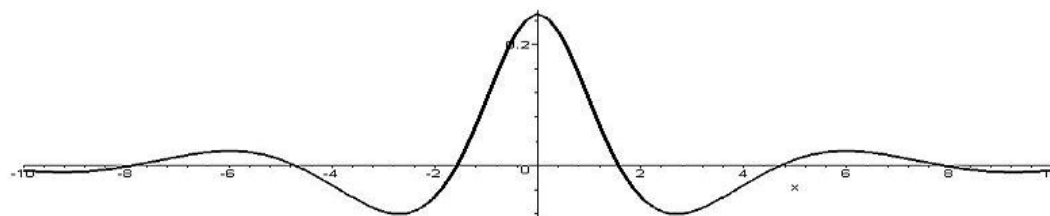
Definice 1.46. Funkci f nazýváme *sudou* (resp. *lichou*), když pro všechna $x \in D_f$ platí $f(-x) = f(x)$ (resp. $f(-x) = -f(x)$).

Leží-li na grafu $y = f(x)$ sudé funkce bod $[x, f(x)]$, leží na něm i bod $[-x, f(x)]$. Graf sudé funkce je tedy souměrný podle osy y . Pro lichou funkci f podobně s každým bodem $[x, f(x)]$, leží na grafu $y = f(x)$ i bod $[-x, -f(x)]$, a tedy graf liché funkce je souměrný podle počátku souřadnic.

Příklad 1.47.

$f : f(x) = \frac{\cos x}{x^2 + 4}; x \in (-\infty, \infty)$ je sudá, neboť

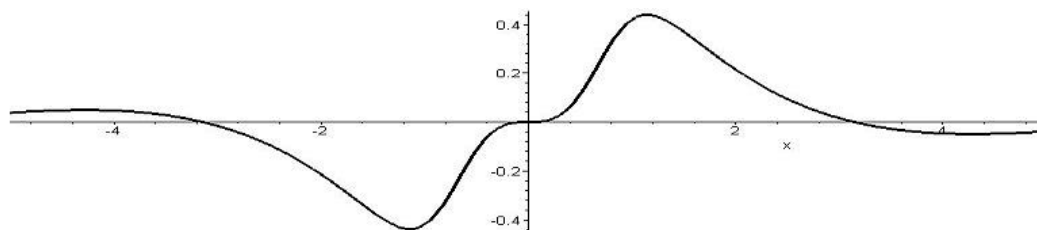
$$f(-x) = \frac{\cos(-x)}{(-x)^2 + 4} = \frac{\cos x}{x^2 + 4} = f(x)$$



Obr. 1.15: Sudá funkce

$f : f(x) = \frac{x^2}{x^4 + 1} \sin x; x \in (-\infty, \infty)$ je lichá, neboť

$$f(-x) = \frac{(-x)^2}{(-x)^4 + 1} \sin(-x) = \frac{x^2}{x^4 + 1} (-\sin x) = -f(x)$$



Obr. 1.16: Lichá funkce

Definice 1.48. Funkce f se nazývá **periodická**, existuje-li číslo $p \neq 0$ takové, že $f(x \pm p) = f(x)$ pro každé $x \in D_f$. Číslo p se nazývá **perioda** funkce f .

Je-li p perioda funkce f , pak kp , kde $k \neq 0$ je libovolné celé číslo, je také perioda funkce f . Existuje-li nejmenší kladné číslo p , které je periodou funkce f , nazývá se **primitivní perioda**.

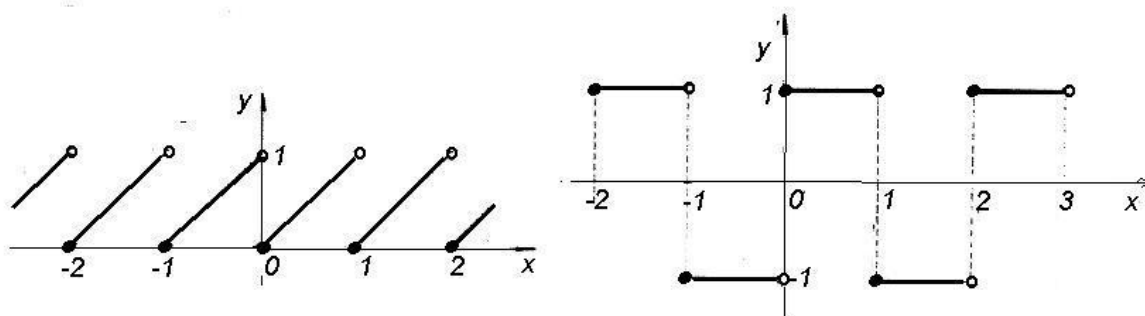
Příklad 1.49.

a) Funkce $f : y = x - [x]$ je periodická s periodou 1:

Je $[x+1] = [x] + 1$, tedy $f(x+1) = (x+1) - [x+1] = x+1 - [x] - 1 = x - [x] = f(x)$.
(Viz obr.1.17 vlevo.)

b) Funkce $g : y = (-1)^{[x]}$ je periodická s periodou 2:

Protože $[x+2] = [x] + 2$, je $g(x+2) = (-1)^{[x+2]} = (-1)^{[x]}(-1)^2 = (-1)^{[x]} = g(x)$.
(Viz obr.1.17 vpravo.)



Obr. 1.17: Periodické funkce

Pro konstrukci grafu periodické funkce postačí, sestrojíme-li jej na libovolném polouzavřeném intervalu délky p . Celý graf pak dostaneme z této části jejím posunutím ve směru osy x o délku kp pro všechna celá k .

Nejznámějšími příklady periodických funkcí jsou funkce goniometrické – $\sin x$, $\cos x$,

$\operatorname{tg} x$, $\operatorname{cotg} x$. Prvé dvě mají primitivní periodu 2π , druhé dvě π .

Příkladem funkce, která nemá primitivní periodu, je libovolná konstanta – její periodou je každé nenulové reálné číslo.

Funkce ohraničené

Definice 1.50.

- Funkce f se nazývá **shora ohraničená** na množině $M \subset D_f$, existuje-li číslo c takové, že $\forall x \in M : f(x) \leq c$.
- Funkce f se nazývá **zdola ohraničená** na množině $M \subset D_f$, existuje-li číslo d takové, že $\forall x \in M : d \leq f(x)$.
- Funkce f se nazývá **ohraničená** na množině $M \subset D_f$, je-li na ní ohraničená shora i zdola.

Označíme-li větší z čísel $|c|$, $|d|$ jako K , platí pro ohraničenou funkci $\forall x \in M : |f(x)| \leq K$.

Příklad 1.51. Funkce $f(x) = x^2$ je zdola ohraničená na svém přirozeném definičním oboru \mathbb{R} , protože platí

$$x^2 \geq 0 \quad \forall x \in \mathbb{R},$$

ale není ohraničená shora – dokážeme sporem:

Předpokládejme, že existuje c tak, že platí

$$\forall x \in \mathbb{R} : x^2 \leq c.$$

Bez újmy na obecnosti můžeme předpokládat, že $c > 1$.

Stačí najít jedno reálné číslo x_0 , pro které tato podmínka neplatí, tedy pro které je $x_0^2 > c$; položíme $x_0 = c$. Potom $x_0^2 = c^2 > c$.

Naproti tomu funkce $f(x) = \sin x$ je ohraničená na svém přirozeném definičním oboru, protože platí

$$-1 \leq \sin x \leq 1 \quad \forall x \in \mathbb{R}.$$

Elementární funkce

V této části uvedeme souhrnný přehled a základní vlastnosti tzv. elementárních funkcí – základních reálných funkcí reálné proměnné, které jsou vám vesměs známy ze střední školy, se kterými budeme dále pracovat (a které jsme ostatně již vyšetřovali v předchozím textu):

Polynomem nazýváme funkci f definovanou na \mathbb{R} předpisem

$$f(x) = a_n x^n + a_{n-1} x^{n-1} + \cdots + a_1 x + a_0,$$

kde a_0, a_1, \dots, a_n jsou reálná čísla, $a_n \neq 0$. Číslo n se nazývá **stupeň polynomu**. Pro polynom n -tého stupně používáme obvykle označení P_n .

Polynom stupně 0, tedy funkce f definovaná na \mathbb{R} předpisem

$$f(x) = c,$$

kde c je reálné číslo, se nazývá **konstanta**.

Je-li funkční hodnota polynomu v čísle x_0 rovna nule, tedy platí-li

$$a_n x_0^n + a_{n-1} x_0^{n-1} + \cdots + a_1 x_0 + a_0 = 0,$$

nazývá se číslo x_0 **kořenem polynomu**.

Uvedeme některé důležité vlastnosti polynomů a jejich kořenů:

- **Základní věta algebry:** Každý polynom stupně $n \geq 1$ má alespoň jeden kořen.
- **Věta Bézoutova:** Číslo x_0 je kořenem polynomu P_n stupně $n \geq 1$, právě když platí

$$P_n(x) = (x - x_0) Q_{n-1}(x),$$

kde Q_{n-1} je vhodný polynom stupně $n - 1$.

Výraz $(x - x_0)$ vystupující v předchozím vztahu se nazývá **kořenový činitel** příslušný ke kořenu x_0 .

Předchozí dvě věty mají následující důsledek:

- **Rozklad polynomu na kořenové činitele:** Jsou-li (reálná nebo komplexní, ne nutně různá) čísla x_1, x_2, \dots, x_n kořeny polynomu $P_n(x) = a_n x^n + a_{n-1} x^{n-1} + \cdots + a_1 x + a_0$, platí

$$P_n(x) = a_n (x - x_1)(x - x_2) \cdots (x - x_n).$$

Odtud plyne, že polynom stupně n má právě n (ne nutně různých) kořenů.

Poznámka 1.52. Mezi koeficienty polynomu a jeho kořeny platí následující vztah:

$$a_0 = (-1)^n a_n (x_1 x_2 \cdots x_n)$$

Jsou-li tedy koeficienty polynomu celočíselné, pak jeho celočíselné kořeny dělí absolutní člen polynomu – u polynomů vyšších řádů můžeme tak někdy některé kořeny „uhodnout“. V odstavci **Pro zájemce** na konci kapitoly uvádíme další vztahy mezi kořeny a koeficienty polynomu.

Nalézt přesně kořeny libovolného polynomu neumíme (existují metody pro jejich přibližné určení, které se vyšetřují v numerických metodách), často nám stačí určit, zda některé známé číslo kořenem daného polynomu je nebo není – tedy určit funkční hodnotu polynomu. K tomu existuje jeden velmi jednoduchý algoritmus, který se nazývá **Hornerovo schéma** a má následující tvar:

Budeme hledat funkční hodnotu $p(x_0)$ polynomu $p(x) = a_n x^n + a_{n-1} x^{n-1} + \dots + a_1 x + a_0$ v čísle $x = x_0$. Napíšeme třířádkové schéma, ve kterém na prvním řádku jsou koeficienty polynomu $p(x)$ (úplně nalevo napíšeme číslo $x = x_0$), do druhého řádku vždy součin čísla x_0 s předchozím výsledkem, který nám vyšel ve třetím řádku, přičemž třetí řádek je součtem prvních dvou; tedy na prvním místě druhého řádku je prázdné místo a na prvním místě třetího řádku je opsán koeficient a_0 . Prvky třetího řádku označíme písmeny b s příslušnými indexy. Na posledním místě třetího řádku dostaneme hledanou funkční hodnotu $p(x_0)$. Konkrétně:

$$\begin{array}{r|cccccc} x_0 & a_n & a_{n-1} & \cdots & a_i & \cdots & a_1 & a_0 \\ & & x_0 b_{n-1} & \cdots & x_0 b_i & \cdots & x_0 b_1 & x_0 b_0 \\ \hline & b_{n-1} & b_{n-2} & \cdots & b_{i-1} & \cdots & b_0 & p(x_0) \end{array}$$

Při běžných výpočtech obvykle druhý řádek vynecháváme a píšeme přímo výsledné součty ve třetím řádku.

Postup výpočtu si ukážeme na jednoduchém příkladu:

Příklad 1.53. Pro polynom $p(x) = x^4 - 2x^3 + x + 1$ máme najít $p(3)$.

Řešení. Do prvního řádku zapíšeme nejdříve číslo, v němž hledáme funkční hodnotu, a potom koeficienty příslušného polynomu (nesmíme zapomenout na nulové koeficienty!); ve druhém řádku máme na prvním místě opsané 1 (= vedoucí koeficient) a dále $3 \cdot 1 - 2 = 1$, $3 \cdot 1 + 0 = 3$, $3 \cdot 3 + 1 = 10$ a nakonec $3 \cdot 10 + 1 = 31$ – hledaná funkční hodnota.

$$\begin{array}{r|cccccc} 3 & 1 & -2 & 0 & 1 & 1 \\ & & 1 & 1 & 3 & 10 & \mathbf{31} \end{array}$$

Závěrem tedy dostáváme $p(3) = 31$. □

Je-li číslo x_0 kořenem daného polynomu, vyjde pochopitelně na posledním místě druhého řádku nula. Navíc, jak se můžeme přesvědčit v odvození Hornerova schématu v části **Pro zájemce** na konci kapitoly, čísla ve druhém řádku jsou koeficienty polynomu, který vyjde při dělení daného polynomu kořenovým činitelem $x - x_0$. Uvedeme příklad:

Příklad 1.54. Je dán polynom $p(x) = x^4 - 3x^3 - 15x^2 + 19x + 30$. Máme najít některý jeho kořen a potom příslušný kořenový činitel z tohoto polynomu vytknout.

Řešení. Absolutní člen polynomu $a_0 = 30$, jako kořeny přicházejí v úvahu čísla $\pm 1, \pm 2, \pm 3, \pm 5, \pm 6, \pm 10, \pm 15, \pm 30$. Hned je vidět, že 1 není kořen, ověříme číslo 2:

$$\begin{array}{r|cccccc} 2 & 1 & -3 & -15 & 19 & 30 \\ & & 1 & -1 & -17 & 15 & \mathbf{0} \end{array}$$

Dvojka tedy je kořenem daného polynomu a dále platí:

$$x^4 - 3x^3 - 15x^2 + 19x + 30 = (x - 2)(x^3 - x^2 - 17x + 15)$$

□

Je-li tedy některé číslo x_0 kořenem daného polynomu (na posledním místě druhého řádku vyšla jako jeho funkční hodnota nula), můžeme ve výpočtu Hornerovým schématem dále pokračovat – hledat funkční hodnotu polynomu získaného po vydělení příslušným kořenovým činitelem:

Příklad 1.55. Máme vypočítat funkční hodnotu polynomu

$$P(x) = x^7 - 6x^6 - x^5 + 70x^4 - 120x^3 - 112x^2 + 432x - 288 \quad \text{pro } x = 2.$$

Je-li $x = 2$ kořen polynomu P , máme určit jeho násobnost.

Řešení.

$$\begin{array}{r|rrrrrrrr} 2 & 1 & -6 & -1 & 70 & -120 & -112 & 432 & -288 \\ & & 1 & -4 & -9 & 52 & -16 & -144 & 144 & \mathbf{0} \\ & & & 1 & -2 & -13 & 26 & 36 & -72 & \mathbf{0} \\ & & & & 1 & 0 & -13 & 0 & 36 & \mathbf{0} \\ & & & & & 1 & 2 & -9 & -18 & \mathbf{0} \\ & & & & & & 1 & 4 & -1 & \mathbf{-20} \end{array}$$

Vidíme, že $x = 2$ je čtyřnásobným kořenem polynomu P (čtyřikrát nám na posledním místě jako funkční hodnota vyšla nula, po páté již ne), přičemž ve druhém řádku zdola jsou koeficienty příslušného podílu, tj. platí

$$P(x) = (x - 2)^4 Q(x) = (x - 2)^4 (x^3 + 2x^2 - 9x - 18).$$

Chceme-li najít všechny kořeny polynomu P , stačí hledat kořeny polynomu Q . Jestliže jsou celočíselné, musí dělit absolutní člen – v úvahu tedy přichází $x = -2, \pm 3, \pm 6, \pm 9$. Vypočítáme příslušné funkční hodnoty pomocí Hornerova schématu:

$$\begin{array}{r|rrrr} -2 & 1 & 2 & -9 & -18 \\ & & 1 & 0 & -9 & \mathbf{0} \end{array}$$

Číslo $x = -2$ je tedy kořen a příslušný podíl $q_1(x) = x^2 - 9$. Odtud plyne, že zbývající kořeny jsou $x = \pm 3$ a platí

$$P(x) = (x - 2)^4 (x + 2)(x - 3)(x + 3).$$

□

Maplet na Hornerovo schéma je [zde](#).

Víme, že každý polynom (s reálnými koeficienty) $P_n(x) = a_n x^n + a_{n-1} x^{n-1} + \dots + a_1 x + a_0$ se dá vyjádřit ve tvaru součinu kořenových činitelů

$$P_n(x) = a_n (x - x_1)(x - x_2) \cdots (x - x_n),$$

kde x_1, x_2, \dots, x_n jsou kořeny polynomu P_n (pro k -násobný kořen x_i se v součinu výraz $(x - x_i)$ vyskytuje k -krát). Přitom má-li polynom komplexní kořen $a + bj$, má také komplexní kořen $a - bj$ a součin příslušných dvou kořenových činitelů je roven

$$[x - (a + bj)][x - (a - bj)] = [(x - a) - bj][(x - a) + bj] = (x - a)^2 + b^2 = x^2 + px + q,$$

– je to polynom druhého stupně s reálnými koeficienty.

Polynom $P(x)$ lze tedy zapsat ve tvaru součinu

$$P(x) = a_n(x - x_i)^k \dots (x^2 + px + q)^t \dots,$$

kde x_i je k -násobný reálný kořen polynomu $P(x)$ a kvadratická rovnice $x^2 + px + q = 0$ s reálnými koeficienty má komplexně sdružené kořeny (tj. $p^2 - 4q < 0$), tedy polynom $P(x)$ má t -násobné komplexně sdružené kořeny.

Takové vyjádření polynomu nazýváme **rozklad polynomu v reálném oboru**.

Příklad 1.56. Máme rozložit v reálném oboru polynom $P(x) = x^4 - x^3 - x + 1$.

Řešení.

$$x^4 - x^3 - x + 1 = x^3(x - 1) - (x - 1) = (x - 1)(x^3 - 1) = (x - 1)(x - 1)(x^2 + x + 1),$$

a kvadratická rovnice $x^2 + x + 1 = 0$ má komplexní kořeny, tedy

$$P(x) = (x - 1)^2(x^2 + x + 1).$$

□

Racionální lomená funkce je dána předpisem

$$f(x) = \frac{P_m(x)}{Q_n(x)},$$

kde P_m resp. Q_n jsou polynomy stupně m resp. n . Je definovaná pro každé x , pro které je $Q_n(x) \neq 0$.

Jestliže pro stupně polynomů platí $m < n$, říkáme, že f je **ryze lomená**; je-li $m \geq n$, říkáme, že f je **neryze lomená** racionální funkce. V případě neryze lomené racionální funkce, tj. pro $m \geq n$, podíl $P_m(x)$ a $Q_n(x)$ dává po vydělení

$$\frac{P_m(x)}{Q_n(x)} = N(x) + \frac{\tilde{P}_i(x)}{Q_n(x)}, \quad \text{kde } i < n.$$

Jmenovatel rozložíme v reálném oboru a dostaneme

$$\frac{P_m(x)}{Q_n(x)} = N(x) + \frac{\tilde{P}_i(x)}{a_n(x - \alpha)^k \dots (x^2 + px + q)^t \dots}.$$

Taková funkce může vzniknout součtem „jednoduchých“ zlomků, např.:

$$\frac{1}{x-1} + \frac{x+2}{x^2+x+3} = \frac{2x^2+2x+1}{(x-1)(x^2+x+3)}.$$

Naopak také každá ryze lomená racionální funkce, jestliže umíme najít kořeny jejího jmenovatele, se dá rozložit na součet jednoduchých zlomků určitého tvaru – budeme jim říkat **parciální zlomky**.

Věta o rozkladu racionální lomené funkce na parciální zlomky, jestliže se formuluje přesně, je velmi nepřehledná. Naznačíme postup:

V rozkladu podílu $\frac{P_m(x)}{Q_n(x)}$ na parciální zlomky odpovídá každému kořenovému činiteli jmenovatele $(x-\alpha)^k$ součet k parciálních zlomků tvaru

$$\frac{A_k}{(x-\alpha)^k} + \frac{A_{k-1}}{(x-\alpha)^{k-1}} + \cdots + \frac{A_1}{(x-\alpha)}$$

a každému faktoru $(x^2+px+q)^t$ odpovídá součet t parciálních zlomků tvaru

$$\frac{B_t x + C_t}{(x^2+px+q)^t} + \frac{B_{t-1}x + C_{t-1}}{(x^2+px+q)^{t-1}} + \cdots + \frac{B_1x + C_1}{(x^2+px+q)}.$$

Rozklad má tedy tvar

$$\begin{aligned} \frac{P_m(x)}{Q_n(x)} &= \frac{A_k}{(x-\alpha)^k} + \frac{A_{k-1}}{(x-\alpha)^{k-1}} + \cdots + \frac{A_1}{(x-\alpha)} + \cdots + \\ &+ \frac{B_t x + C_t}{(x^2+px+q)^t} + \frac{B_{t-1}x + C_{t-1}}{(x^2+px+q)^{t-1}} + \cdots + \frac{B_1x + C_1}{(x^2+px+q)}. \end{aligned}$$

Neznámé koeficienty v rozkladu vypočítáme **metodou neurčitých koeficientů**. Tato metoda se opírá o větu o rovnosti polynomů – dva polynomy jsou si rovny, rovnají-li se jejich koeficienty u stejných mocnin. Postup naznačíme na příkladech:

Příklad 1.57.

$$R(x) = \frac{2x^3+x+2}{x^4+x^3+x^2} = \frac{2x^3+x+2}{x^2(x^2+x+1)} = \frac{A}{x^2} + \frac{B}{x} + \frac{Cx+D}{x^2+x+1}.$$

Poslední součet tří zlomků opět převedeme na společného jmenovatele, kterým je, pochopitelně, jmenovatel původně zadaného zlomku. Porovnáme čitatele:

$$2x^3+x+2 = A(x^2+x+1) + Bx(x^2+x+1) + x^2(Cx+D),$$

$$2x^3+x+2 = (B+C)x^3 + (A+B+D)x^2 + (A+B)x + A.$$

Odtud porovnáním koeficientů dostaneme soustavu rovnic

$$\begin{array}{rcl} & B + C & = 2 \\ A + B & + D & = 0 \\ A + B & & = 1 \\ A & & = 2 \end{array}$$

Soustava má řešení $A = 2$, $B = -1$, $C = 3$, $D = -1$, tj.

$$\frac{2x^3 + x + 2}{x^4 + x^3 + x^2} = \frac{2}{x^2} - \frac{1}{x} + \frac{3x - 1}{x^2 + x + 1}.$$

Příklad 1.58.

$$R(x) = \frac{x + 2}{x^3 - x} = \frac{x + 2}{x(x + 1)(x - 1)} = \frac{A}{x} + \frac{B}{x + 1} + \frac{C}{x - 1}.$$

Odtud

$$x + 2 = A(x + 1)(x - 1) + Bx(x - 1) + Cx(x + 1)$$

a můžeme opět roznásobit a porovnat koeficienty u stejných mocnin.

Zde je ovšem výhodnější jiný postup. Vyjdeme z faktu, že jestliže se dvě funkce sobě rovnají, mají stejné funkční hodnoty pro všechna x . Porovnáme funkční hodnoty ve vhodných bodech:

$$x = 0 : \quad 2 = A(-1) \quad \Rightarrow A = -2$$

$$x = 1 : \quad 3 = C \cdot 2 \quad \Rightarrow C = \frac{3}{2}$$

$$x = -1 : \quad 1 = B(-1)(-2) \quad \Rightarrow B = \frac{1}{2}$$

a odtud

$$\frac{x + 2}{x^3 - x} = -\frac{2}{x} + \frac{1}{2} \frac{1}{x + 1} + \frac{3}{2} \frac{1}{x - 1}.$$

Pro výpočet rozkladu racionální lomené funkce slouží [tento maplet](#).

Mocninnou funkci nazýváme funkci f danou předpisem

$$f(x) = x^a.$$

Přitom mohou nastat tyto případy.

- $a \in \mathbb{N}$. Mocninná funkce s přirozeným exponentem je definovaná $\forall x \in \mathbb{R}$. Je-li a sudé číslo, jedná se o sudou funkci, která je klesající na intervalu $(-\infty, 0)$ a rostoucí na intervalu $(0, \infty)$. Je-li a liché číslo, jedná se o lichou a rostoucí funkci.
- Pro $a = 0$ se jedná o konstantní funkci $f(x) = 1$ pro $x \neq 0$.
- Je-li a celé záporné číslo, $a = -r$, $r \in \mathbb{N}$, je $f(x) = \frac{1}{x^r}$. Funkce je definovaná pro $x \neq 0$.

d) Pro $a = 1/r$, kde $r \in \mathbb{N}$, je

$$f(x) = x^{\frac{1}{r}} = \sqrt[r]{x};$$

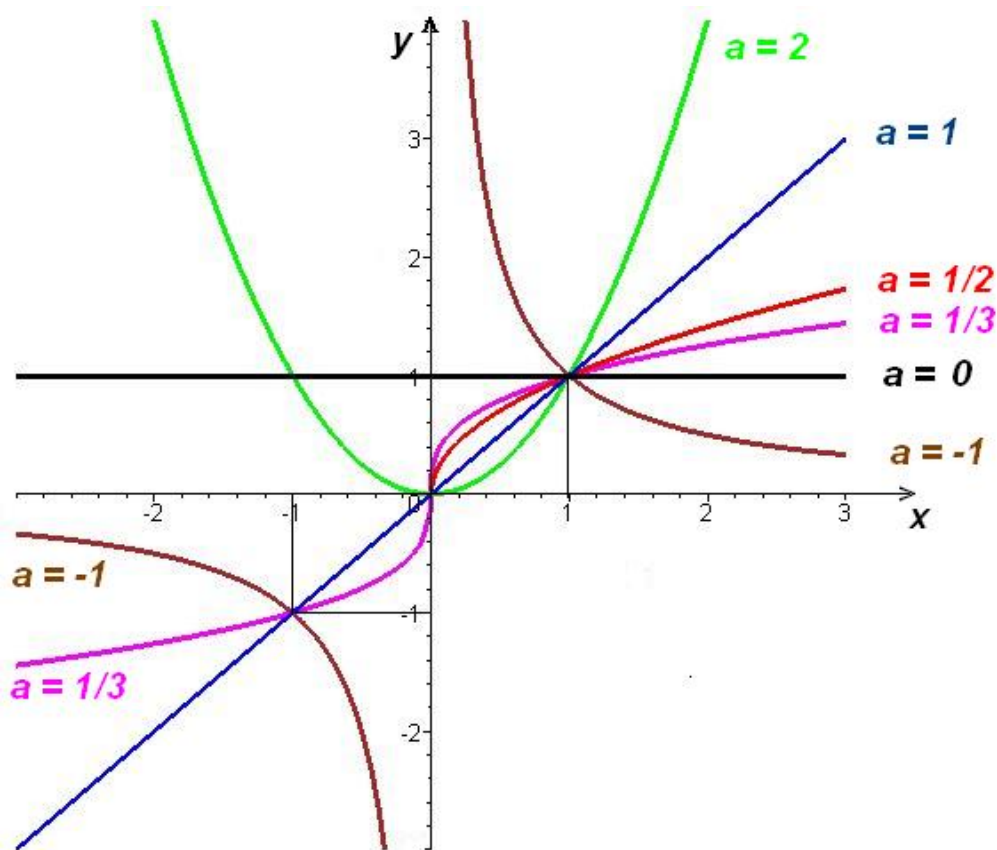
je definovaná na intervalu $\langle 0, \infty \rangle$ pro r sudé a na intervalu $(-\infty, \infty)$ pro r liché. Je rostoucí.

e) $a \in \mathbb{Q}$, $a = \frac{p}{q}$, kde $p, q \in \mathbb{Z}$, $q \neq 0$ a a není z a) – d). Potom je

$$f(x) = x^{\frac{p}{q}} = (x^p)^{\frac{1}{q}} = \sqrt[q]{x^p}.$$

Pro $p/q > 0$ je funkce f definovaná pro $x \in \langle 0, \infty \rangle$, pro $p/q < 0$ je funkce f definovaná pro $x \in (0, \infty)$.

f) Pro a iracionální je mocninná funkce definovaná na intervalu $\langle 0, \infty \rangle$ pro $a > 0$ a na intervalu $(0, \infty)$ pro $a < 0$.



Obr. 1.18: Grafy mocninných funkcí $y = x^a$

Exponenciální funkce je funkce definovaná předpisem

$$f(x) = a^x, \quad a > 0.$$

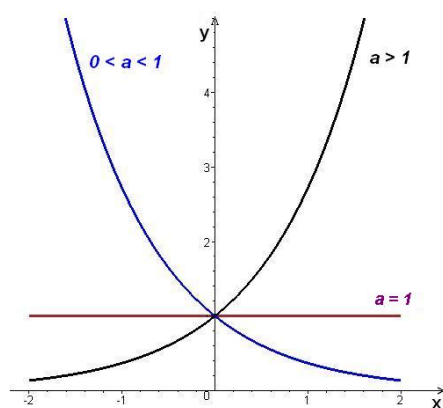
Je rostoucí pro $a > 1$ a klesající pro $0 < a < 1$. Pro $a = 1$ jde o konstantu $f(x) = 1$.

Logaritmická funkce při základu a , kde $0 < a < 1$ nebo $a > 1$ je definovaná na intervalu $(0, \infty)$ a je inverzní funkcí k exponenciální funkci $f(x) = a^x$. Označuje se předpisem

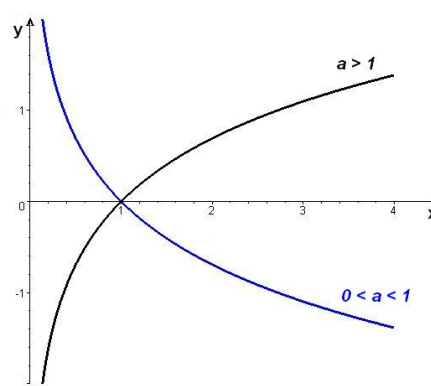
$$f(x) = \log_a x.$$

Je rostoucí pro $a > 1$ a klesající pro $0 < a < 1$.

Logaritmická funkce při základu $e = 2,718281828\dots$ se stručně nazývá jen logaritmická funkce a označuje se $\ln x$. Logaritmickou funkci při základu 10 označujeme místo $\log_{10} x$ symbolem $\log x$.



Obr. 1.19: Exponenciální funkce
 $f(x) = a^x$



Obr. 1.20: Logaritmické funkce
 $f(x) = \log_a x$

Uvedeme některé důležité převodní vztahy:

- Nechť je $a > 0$, potom platí $a^x = e^{x \ln a} \quad \forall x \in \mathbb{R}$
- Nechť je $a > 0$, $b > 0$, přičemž $a \neq 1$, $b \neq 1$, potom $\log_a x = \frac{\log_b x}{\log_b a} \quad \forall x, x > 0$
- Nechť a je číslo, potom platí $x^a = e^{a \ln x} \quad \forall x, x > 0$

Goniometrické (nebo také **trigonometrické**) **funkce** reálného argumentu (úhlu vyjádřeného v obloukové míře) jsou funkce

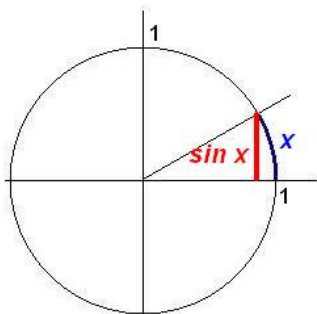
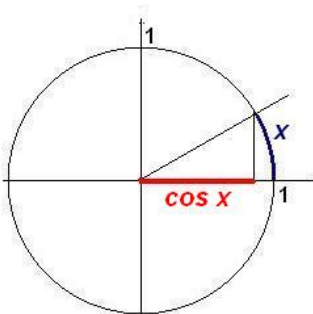
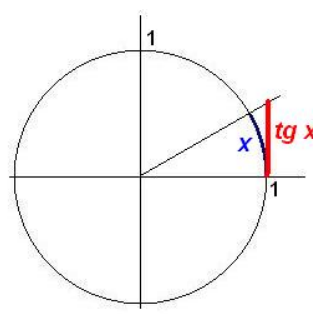
$$f(x) = \sin x, \quad f(x) = \cos x, \quad f(x) = \operatorname{tg} x, \quad f(x) = \operatorname{cotg} x.$$

Lze je zavést pomocí jednotkové kružnice takto:

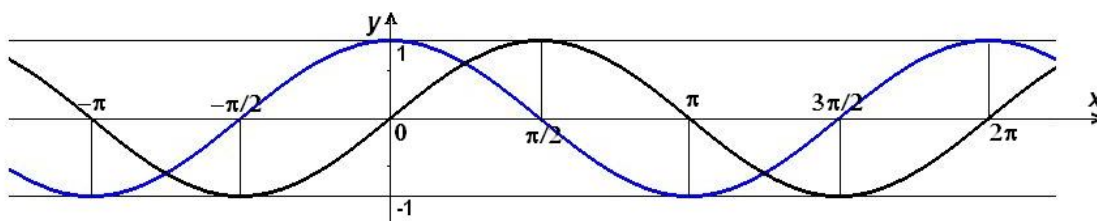
Je-li x délka oblouku na jednotkové kružnici mezi bodem $[1, 0]$ a průsečíkem této kružnice s polopřímku, vycházející z počátku souřadnic, je $\sin x$ roven druhé souřadnici tohoto průsečíku a $\cos x$ jeho první souřadnici (viz obr. 1.21 resp. 1.22, na obr. 1.23 je znázorněn $\operatorname{tg} x$).

Zřejmě platí **základní trigonometrická identita** (plyne z Pythagorovy věty pro trojúhelník, pomocí něhož je sinus a kosinus definován)

$$\sin^2 x + \cos^2 x = 1.$$

Obr. 1.21: $\sin x$ Obr. 1.22: $\cos x$ Obr. 1.23: $\operatorname{tg} x$

Funkce $\sin x$ a $\cos x$ jsou definovány na \mathbb{R} a jsou periodické s periodou 2π . Funkce sinus je lichá a funkce kosinus sudá.

Obr. 1.24: Grafy goniometrických funkcí $y = \sin x$ $y = \cos x$

Dále definujeme

$$\operatorname{tg} x = \frac{\sin x}{\cos x} \quad \text{a} \quad \operatorname{cotg} x = \frac{1}{\operatorname{tg} x} = \frac{\cos x}{\sin x}.$$

Funkce $\operatorname{tg} x$ a $\operatorname{cotg} x$ jsou liché funkce, periodické s periodou π .

Funkce $\operatorname{tg} x$ je definovaná pro všechna $x \in \mathbb{R}$, pro která platí $x \neq (2k+1)\frac{\pi}{2}$, $k \in \mathbb{Z}$, funkce $\operatorname{cotg} x$ je definovaná pro všechna $x \in \mathbb{R}$, pro která platí $x \neq k\pi$, $k \in \mathbb{Z}$.

Cyklometrické funkce jsou inverzní ke goniometrickým funkcím:

Funkce $f(x) = \arcsin x$

je definovaná na intervalu $\langle -1, 1 \rangle$ a je inverzní k funkci $\sin x$ na intervalu $\langle -\frac{\pi}{2}, \frac{\pi}{2} \rangle$.

Funkce $f(x) = \arccos x$

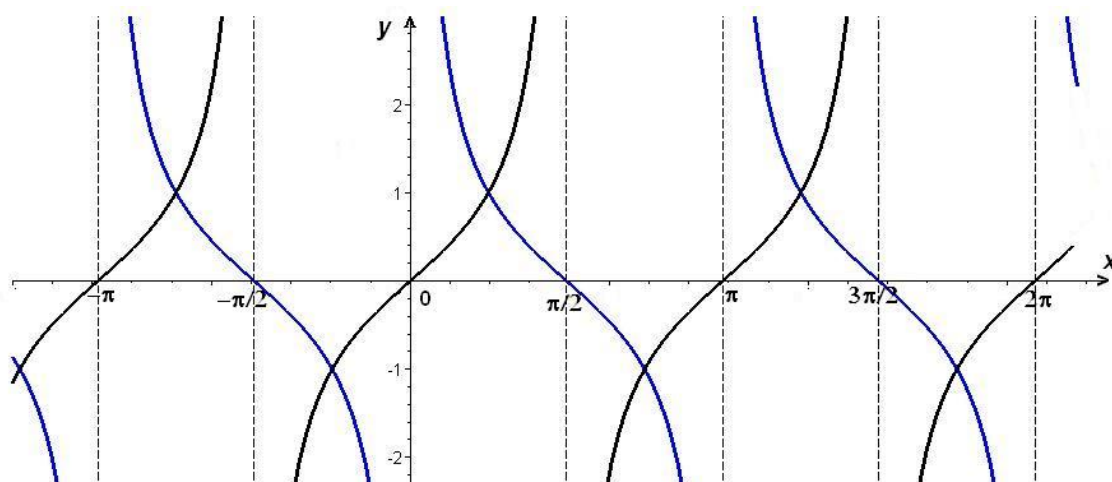
je definovaná na intervalu $\langle -1, 1 \rangle$ a je inverzní k funkci $\cos x$ na intervalu $\langle 0, \pi \rangle$.

Funkce $f(x) = \operatorname{arctg} x$

je definovaná na intervalu $(-\infty, \infty)$ a je inverzní k funkci $\operatorname{tg} x$ na intervalu $(-\frac{\pi}{2}, \frac{\pi}{2})$.

Funkce $f(x) = \operatorname{arccotg} x$

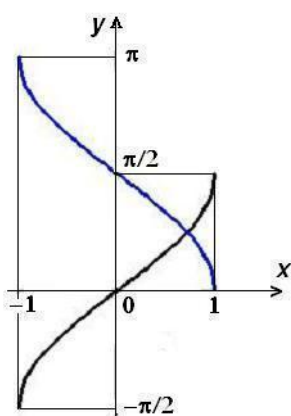
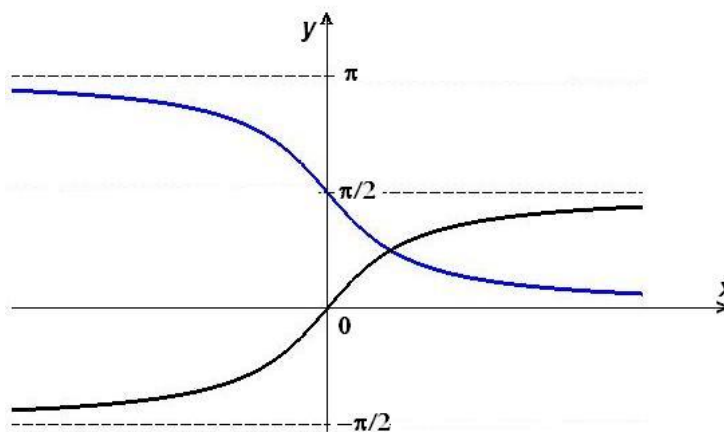
je definovaná na intervalu $(-\infty, \infty)$ a je inverzní k funkci $\operatorname{cotg} x$ na intervalu $(0, \pi)$.

Obr. 1.25: Grafy goniometrických funkcí $y = \operatorname{tg} x$ $y = \operatorname{cotg} x$

Pro cyklotrické funkce platí (pro libovolné x z definičního oboru těchto funkcí):

$$\arcsin x + \arccos x = \frac{\pi}{2} \quad \operatorname{arctg} x + \operatorname{arccotg} x = \frac{\pi}{2}$$

Funkce \arcsin a arctg jsou rostoucí liché funkce, funkce \arccos a $\operatorname{arccotg}$ jsou klesající funkce.

Obr. 1.26: $\arcsin x$, $\arccos x$ Obr. 1.27: $\operatorname{arctg} x$, $\operatorname{arccotg} x$

Poznámka 1.59. V odborných předmětech se dále ještě používají *hyperbolické funkce*, se kterými se můžete seznámit v části **pro zájemce** na konci kapitoly.

Každou funkci, která vznikne z konečného počtu výše uvedených funkcí, tedy konstant,

mocninných, exponenciálních a logaritmických funkcí, trigonometrických a cyklometrických funkcí, pomocí konečného počtu aritmetických operací (tedy sečítání, odečítání, násobení a dělení) a tvoření složené funkce, nazýváme **elementární funkcí**.

Jak se mění grafy elementárních funkcí při změně některých parametrů si můžete vyzkoušet v [tomto Mapletu](#).

Posloupnosti

Posloupnosti nazýváme každou funkci, jejímž definičním oborem je množina přirozených čísel \mathbb{N} , tedy $f : \mathbb{N} \rightarrow \mathbb{R}$ je posloupnost reálných čísel. Obvykle klademe

$$a_n = f(n)$$

a tuto hodnotu nazýváme ***n*-tým členem posloupnosti**. Posloupnost s *n*-tým členem a_n označujeme symbolem $(a_n)_{n=1}^{\infty}$ nebo zkráceně (a_n) .

Je-li zadán předpis pro výpočet *n*-tého členu posloupnosti pomocí předchozího (resp. pomocí *k* předchozích členů), tedy pomocí a_{n-1} (resp. $a_{n-1}, a_{n-2}, \dots, a_{n-k}$) spolu se zadáním hodnoty a_1 (resp. hodnot a_1, a_2, \dots, a_k), říkáme, že posloupnost je **zadaná rekurentně**.

Příklad 1.60. Posloupnost daná rekurentním vztahem

$$a_{n+2} = a_{n+1} + a_n, \quad \text{kde } a_1 = a_2 = 1, \quad \text{tedy } (a_n) = (1, 1, 2, 3, 5, 8, 13, 21, \dots)$$

se nazývá Fibonacciho posloupnost. Tato posloupnost má strukturu, kterou pozorujeme v mnohých situacích, které v sobě mají obsažen růst – ať už jde o růst rostlin nebo o růst počítačové databáze. Dá se ukázat, že pro *n*-tý člen Fibonacciho posloupnosti platí

$$a_n = \frac{1}{2^n \sqrt{5}} \left[(1 + \sqrt{5})^n - (1 - \sqrt{5})^n \right].$$

Je-li $(a_n)_{n=1}^{\infty}$ posloupnost a $(n_k)_{k=1}^{\infty}$ rostoucí posloupnost přirozených čísel, potom se složené zobrazení $(a_{n_k})_{k=1}^{\infty}$ nazývá **vybraná posloupnost** z posloupnosti (a_n) .

Příklad 1.61. Posloupnost 1, 4, 9, 16, 25, ... je vybraná z posloupnosti 1, 2, 3, 4, 5, ... Vnitřní složka příslušného složeného zobrazení je $(n_k) = (k^2)$.

Řekneme, že posloupnost $(a_n)_{n=1}^{\infty}$ je **aritmetická**, existuje-li číslo *d* tak, že platí rekurentní vztah

$$a_{n+1} = a_n + d.$$

Číslo *d* se nazývá **diference**.

Pro *n*-tý člen aritmetické posloupnosti platí $a_n = a_1 + (n-1)d$,
pro součet prvních *n* členů aritmetické posloupnosti platí $s_n = \frac{n}{2}(a_1 + a_n)$.

První tvrzení je zřejmé; jako cvičení na matematickou indukci ukážeme platnost druhého tvrzení:

Pro $n = 2$ tvrzení zřejmě platí.

Nechť $n = 3$, potom

$$s_3 = a_1 + a_2 + a_3 = a_1 + a_1 + d + a_3$$

$$s_3 = a_3 + a_2 + a_1 = a_3 + a_3 - d + a_1$$

$$2s_3 = 3(a_1 + a_3) \Rightarrow s_3 = \frac{3}{2}(a_1 + a_3)$$

Nechť platí $a_n = a_1 + (n - 1)d$. Potom

$$s_{n+1} = \frac{n}{2}(a_1 + a_n) + a_{n+1}$$

$$s_{n+1} = a_1 + \frac{n}{2}(a_2 + a_{n+1})$$

$$\begin{aligned} 2s_{n+1} &= a_1 + \frac{n}{2}(a_1 + a_2 + a_n + a_{n+1}) + a_{n+1} = a_1 + a_{n+1} + \frac{n}{2}(a_1 + a_1 + d + a_{n+1} - d + a_{n+1}) = \\ &= a_1 + a_{n+1} + \frac{n}{2}(2a_1 + 2an + 1) = (n + 1)(a_1 + a_{n+1}) \end{aligned}$$

$$\underline{\underline{s_{n+1} = \frac{n+1}{2}(a_1 + a_{n+1})}}$$

Posloupnost $(a_n)_{n=1}^{\infty}$ se nazývá **geometrická**, jestliže existuje číslo q tak, že platí

$$a_{n+1} = a_n \cdot q.$$

Číslo q se nazývá **kvocient**.

Pro n -tý člen geometické posloupnosti platí

$$a_n = a_1 \cdot q^{n-1},$$

pro součet prvních n členů geometické posloupnosti platí

$$s_n = \begin{cases} a_1 \frac{1-q^n}{1-q} & q \neq 1 \\ n \cdot a_1 & q = 1 \end{cases}$$

Platnost tvrzení pro součet prvních n členů (pro $n \neq 1$) ukážeme přímo:

$$s_n = a_1 + a_1q + a_1q^2 + a_1q^3 + \dots + a_1q^{n-2} + a_1q^{n-1}$$

$$qs_n = a_1q + a_1q^2 + a_1q^3 + \dots + a_1q^{n-1} + a_1q^n$$

$$s_n - qs_n = a_1 - a_1q \Rightarrow s_n(1 - q) = a_1(1 - q^n)$$

$$\underline{\underline{s_n = a_1 \frac{1-q^n}{1-q}}}$$

Pro zájemce

- **Vietovy vzorce:** Je-li

$$P_n(x) = a_n x^n + a_{n-1} x^{n-1} + \dots + a_1 x + a_0 = a_n (x - x_1)(x - x_2) \cdot \dots \cdot (x - x_n),$$

platí:

$$\begin{aligned} a_{n-1} &= -a_n(x_1 + x_2 + \dots + x_n), \\ a_{n-2} &= a_n(x_1x_2 + x_1x_3 + \dots + x_2x_3 + \dots + x_{n-1}x_n), \\ &\vdots \\ a_0 &= (-1)^n a_n(x_1x_2 \dots x_n). \end{aligned}$$

- **Odvození Hornerova schématu:** Buď P polynom a $x_0 \in \mathbb{R}$. Víme, že existují polynomy Q, R tak, že platí

$$P(x) = (x - x_0) Q(x) + R(x),$$

kde stupeň $R <$ stupeň $(x - x_0)$, tedy je roven nule a R je konstanta, $R \in \mathbb{R}$.
Po dosazení x_0 do předchozí rovnosti dostaneme

$$P(x_0) = R, \text{ tedy } P(x) = (x - x_0) Q(x) + P(x_0).$$

Nechť tedy

$$P(x) = \sum_{i=0}^n a_i x^i, \text{ a } Q(x) = \sum_{i=0}^{n-1} b_i x^i.$$

Potom platí

$$\sum_{i=0}^n a_i x^i = (x - x_0) \sum_{i=0}^{n-1} b_i x^i + P(x_0) = b_{n-1} x^n + \sum_{i=1}^{n-1} (b_{i-1} - b_i x_0) x^i + P(x_0) - b_0 x_0.$$

Porovnáním koeficientů dostaneme rovnosti uvedené v levé části následující tabulky, zatímco v pravém sloupci jsou rovnosti z nich jednoduše odvozené:

$$\begin{array}{ll} a_n = b_{n-1} & b_{n-1} = a_n \\ a_{n-1} = b_{n-2} - b_{n-1}x_0 & b_{n-2} = a_{n-1} + x_0 b_{n-1} \\ \vdots & \vdots \\ a_i = b_{i-1} - b_i x_0 & b_{i-1} = a_i + x_0 b_i \\ \vdots & \vdots \\ a_1 = b_0 - b_1 x_0 & b_0 = a_1 + x_0 b_1 \\ a_0 = P(x_0) - b_0 x_0 & P(x_0) = a_0 + x_0 b_0. \end{array}$$

V pravém sloupci je tedy naznačen výpočet koeficientů částečného podílu Q včetně hodnoty $P(x_0)$ polynomu P v bodě x_0 .

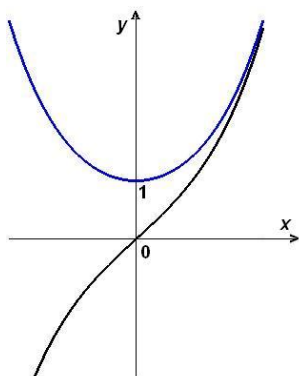
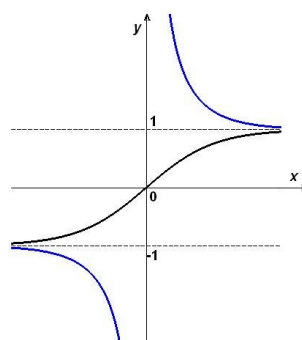
- **Hyperbolické funkce** jsou funkce

$$f(x) = \sinh x, \quad f(x) = \cosh x, \quad f(x) = \operatorname{tgh} x, \quad f(x) = \operatorname{cotgh} x.$$

Jsou definovány pomocí následujících předpisů:

$$\begin{aligned} \sinh x &= \frac{e^x - e^{-x}}{2}, & \cosh x &= \frac{e^x + e^{-x}}{2}, \\ \operatorname{tgh} x &= \frac{\sinh x}{\cosh x} = \frac{e^x - e^{-x}}{e^x + e^{-x}}, & \operatorname{cotgh} x &= \frac{\cosh x}{\sinh x} = \frac{e^x + e^{-x}}{e^x - e^{-x}}. \end{aligned}$$

Grafy hyperbolických funkcí jsou v obr. 1.28 a 1.29.

Obr. 1.28: $\sinh x, \cosh x$ Obr. 1.29: $\operatorname{tgh} x, \operatorname{cotgh} x$

Shrnutí

V tomto odstavci jsme připomněli pojmy:

- funkce: předpis f , přiřazující každému prvku nějaké množiny (definičního oboru D_f) prvek jiné množiny (oboru hodnot H_f),
- graf funkce jedné proměnné: množinu bodů v rovině daných vztahem $\Gamma = \{(x, y) \mid x \in D_f, y = f(x)\}$,

některé typy funkcí (uvedené charakterizující vztahy vždy platí pro každé x z definičního oboru funkce f):

- monotonní funkce: rostoucí resp. klesající ($x_1 < x_2 \Rightarrow f(x_1) < f(x_2)$) resp. $x_1 < x_2 \Rightarrow f(x_1) > f(x_2)$) a neklesající resp. nerostoucí ($x_1 < x_2 \Rightarrow f(x_1) \leq f(x_2)$) resp. $x_1 < x_2 \Rightarrow f(x_1) \geq f(x_2)$),
- sudé resp. liché funkce: $f(-x) = f(x)$ resp. $f(-x) = -f(x)$,
- periodické funkce: existuje číslo p (perioda) tak, že platí $f(x \pm p) = f(x)$,
- ohraničené funkce (shora, zdola): obor hodnot funkce je ohraničený (shora, zdola).

Vytváření nových funkcí z daných funkcí f, g, φ (vztahy platí pro všechna x z definičních oborů vzniklých funkcí):

- zúžení funkce: f/M je funkce s definičním oborem $D_{f/M} = D_f \cap M$ a s vlastností $f/M(x) = f(x)$,
- složená funkce: $f \circ \varphi$ (čti f po φ) je dána vztahem $(f \circ \varphi)(x) = f[\varphi(x)]$,
- inverzní funkce: f^{-1} je funkce s definičním oborem rovným oboru hodnot funkce f a s vlastností $f^{-1}(x) = y \Leftrightarrow f(y) = x$,
- součet, rozdíl, součin a podíl funkcí: funkce $f \pm g, f \cdot g, \frac{f}{g}$ s vlastnostmi $(f \pm g)(x) = f(x) \pm g(x)$, $(f \cdot g)(x) = f(x) \cdot g(x)$, $\frac{f}{g}(x) = \frac{f(x)}{g(x)}$.

Dále jsme uvedli důležité funkce, se kterými budeme hlavně pracovat:

- elementární funkce: polynomy, racionální lomené funkce, obecné mocniny, exponenciální a logaritmické funkce, goniometrické, cyklometrické a hyperbolické funkce,
- posloupnosti: funkce s definičním oborem \mathbb{N} .

Podrobněji jsme si povšimli polynomů a racionálních lomených funkcí; popsali jsme

- rozklad polynomu v reálném oboru: vyjádření polynomu ve tvaru

$$P(x) = a_n(x - \alpha)^k \dots (x^2 + px + q)^t \dots,$$

kde α je k -násobný reálný kořen polynomu $P(x)$ a kvadratická rovnice $x^2 + px + q = 0$ má komplexně sdružené reálné kořeny (tj. $p^2 - 4q < 0$), tedy polynom $P(x)$ má t -násobné komplexně sdružené kořeny,

- rozklad racionální lomené funkce na parciální zlomky: vyjádření racionální lomené funkce ve tvaru

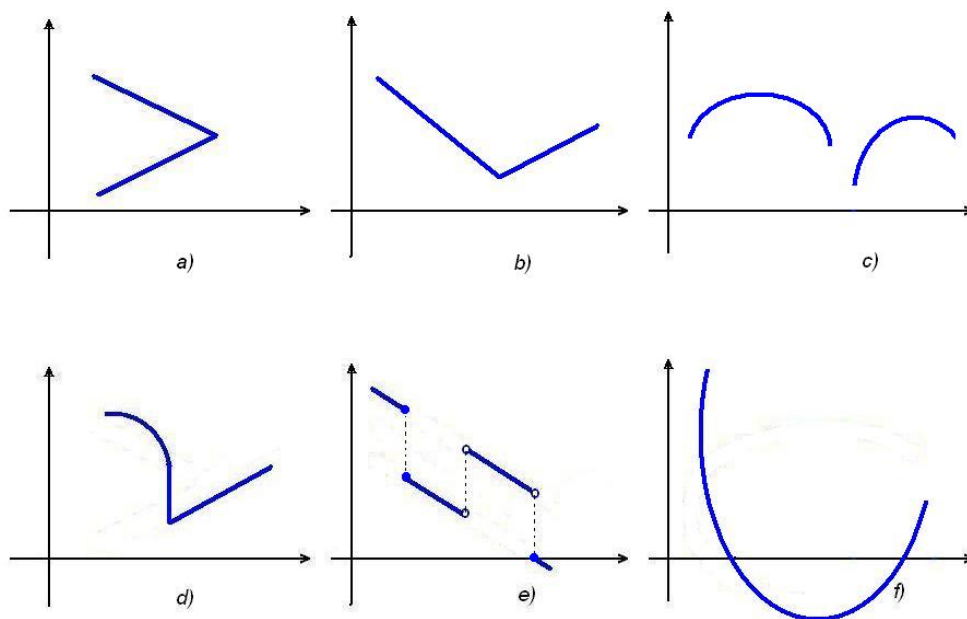
$$\begin{aligned} \frac{P_m(x)}{Q_n(x)} &= \frac{A_k}{(x - \alpha)^k} + \frac{A_{k-1}}{(x - \alpha)^{k-1}} + \dots + \frac{A_1}{(x - \alpha)} + \dots + \\ &+ \frac{B_t x + C_t}{(x^2 + px + q)^t} + \frac{B_{t-1} x + C_{t-1}}{(x^2 + px + q)^{t-1}} + \dots + \frac{B_1 x + C_1}{(x^2 + px + q)}, \end{aligned}$$

je-li $Q_n(x) = (x - \alpha)^k \dots (x^2 + px + q)^t \dots$ rozklad jmenovatele v reálném oboru.

- Pro výpočet funkční hodnoty polynomu, tedy i pro ověření, že dané číslo je kořenem, jsme si uvedli Hornerovo schéma.

Otázky a úkoly

1. Formulujte, co rozumíme pod pojmem funkce a jak je obvykle funkce zadaná.
2. Co je přirozený definiční obor funkce?
3. Najděte alespoň jednu funkci s definičním oborem D a oborem hodnot H tak, aby platilo:
 - a) $D = \mathbb{R}$ a $H = \{3, 5\}$,
 - b) $D = \mathbb{N}$ a H je množina všech kladných lichých čísel,
 - c) $D = \mathbb{R} \setminus \{1, -2, 3\}$ a H je libovolný.
4. Napište funkční předpisy a najděte definiční obory funkcí f , pro které platí:
 - a) $f(x)$ je průměr kruhu o poloměru x ,
 - b) $f(x)$ je plošný obsah kruhu o poloměru x ,
 - c) $f(x)$ je objem krychle o straně x ,
 - d) $f(x)$ je povrch krychle o straně x ,
 - e) $f(x)$ je délka přepony pravoúhlého trojúhelníka, jehož odvěsny mají délku 3 a x .
5. Co je to graf funkce?
6. V obrázcích 1.30 jsou nakresleny křivky. Ve kterém případě se může jednat o graf jisté funkce a ve kterém ne?
7. Známe-li graf funkce f , jak sestrojíme graf funkce g , pro kterou platí ($c, a \in \mathbb{R}$):
 - a) $g(x) = f(-x)$, b) $g(x) = -f(x)$,
 - c) $g(x) = f(x + c)$, d) $g(x) = f(x) + c$,
 - e) $g(x) = a f(x)$, f) $g(x) = f(ax)$?
8. Nechť $f(x) = 2x - 3$ a $I = \langle 1, 2 \rangle$. Pro který z následujících intervalů platí, že $f(I)$ je jeho podmnožinou?
 $\langle -3, 0 \rangle$, $\langle -2, 1 \rangle$, $\langle -1, 2 \rangle$, $\langle 0, 3 \rangle$, $\langle 1, 4 \rangle$.
9. Nechť $f(x) = x^2 + x$ a $I = \langle -1, \frac{1}{2} \rangle$. Pro který z následujících intervalů platí, že $f(I)$ je jeho podmnožinou?
 $\langle -1, 0 \rangle$, $\langle -\frac{3}{4}, \frac{1}{2} \rangle$, $\langle -\frac{1}{2}, \frac{3}{4} \rangle$, $\langle -\frac{1}{4}, 1 \rangle$, $\langle 0, \frac{3}{2} \rangle$.
10. Jestliže pro jistou funkci g platí $g(I) \subset (1, 4)$, do kterého z následujících intervalů zobrazí interval I funkce $-g$?
 $(1, 4)$, $(0, 4)$, $(-4, 0)$, $(-1, 4)$, $(-3, 3)$.



Obr. 1.30: Grafy

11. Jestliže pro jistou funkci h platí $h(I) \subset (1, 4)$, do kterého z následujících intervalů zobrazí interval I funkce $\frac{1}{h}$?
 $(1, 4)$, $(0, 4)$, $(-4, 0)$, $(\frac{1}{2}, 2)$, $(\frac{1}{100}, 1)$.
12. Jestliže platí $f(I) \subset (0, 5)$ a $g(I) \subset (-5, 10)$, do kterého z následujících intervalů zobrazí interval I funkce $f + g$?
 $(0, 5)$, $(-5, 10)$, $(0, 10)$, $(-5, 15)$, $(0, 15)$.
13. Kdy řekneme, že se dvě funkce sobě rovnají?
14. Zjistěte, které z následujících funkcí f, g resp. h (s přirozeným definičním oborem) se sobě rovnají:
 - a) $f(x) = 1$, $g(x) = \frac{x}{x}$,
 - b) $f(x) = \frac{1}{x}$, $g(x) = \frac{x}{x^2}$,
 - c) $f(x) = \sqrt{\frac{x+1}{x}}$, $g(x) = \frac{\sqrt{x+1}}{\sqrt{x}}$,
 - d) $f(x) = \ln x^2$, $g(x) = 2 \ln x$,
 - e) $f(x) = x$, $g(x) = \sqrt{x^2}$, $h(x) = (\sqrt{x})^2$.
15. Co je to zúžení funkce?
16. Najděte zúžení funkcí z příkladu 14 tak, aby se takto vzniklé funkce sobě rovnaly.
17. Jsou dány funkce f a g . Najděte jejich zúžení tak, aby platilo $f/M = g/M$:
 - a) $f(x) = |x - 1| + |x + 1|$, $g(x) = |2x|$,

$$b) f(x) = 2x^2 - 1, \quad g(x) = 1 - 3x.$$

18. Funkce f a g jsou definovány tabulkou (znak N znamená, že funkce není definovaná):

| x | $f(x)$ | $g(x)$ |
|-----|--------|--------|
| a | -2 | 3 |
| b | 0 | -1 |
| c | 1 | 5 |
| d | N | -3 |
| e | 2 | N |

Najděte funkce $f + g$, $f - g$, f/g , g/f , $f^2 - fg + 3$.

19. Pro funkci f platí $f(x + 1) = f(x) + f(1) + 1 \quad \forall x \in \mathbb{R}$.

- Čemu se rovná $f(0)$?
- Je-li navíc $f(1) = 1$, najděte $f(2)$, $f(3)$, $f(-1)$.

20. Pro funkci g platí $g(x + y) = g(x) + g(y) \quad \forall x, y \in \mathbb{R}$.

- Čemu se rovná $g(0)$?
- Ukažte, že platí $g(-x) = -g(x)$, $g(2x) = 2g(x) \quad \forall x \in \mathbb{R}$.
- Je-li navíc $g(1) = 1$, najděte $g(2)$, $g(3)$, $g(\frac{1}{2})$.

21. Najděte alespoň tři příklady funkce f pro kterou platí obě následující podmínky:

- $f(x + y) = f(x) + f(y)$,
- $f(ax) = af(x)$.

Pokuste se formulovat obecný předpis pro funkce s těmito vlastnostmi.

22. Je-li funkce f rostoucí, je nutně

- funkce $2f$ rostoucí
- funkce $-f$ klesající,
- funkce f^2 rostoucí,
- funkce $\frac{1}{f}$ klesající (pro všude nenulovou funkci f)?

23. Nechť funkce f, g jsou definovány na stejném intervalu.

- Jsou-li funkce f i g rostoucí, je i funkce $f + g$ rostoucí?
- Najděte rostoucí funkci f a klesající funkci g tak, aby funkce $f + g$ byla rostoucí.

24. Nechť f je lichá funkce, která je definovaná pro $x = 0$. Jakou zde má funkční hodnotu?

25. Najděte k tak, aby funkce
- $f(x) = x^2 + kx + 1$ byla sudá,
 - $f(x) = x^3 - kx^2 + 2x$ byla lichá.
26. Ukažte, že pro libovolnou funkci f definovanou na intervalu $(-k, k)$, $k > 0$ platí, že $f(x) + f(-x)$ je sudá a $f(x) - f(-x)$ je lichá funkce.
27. Nechť jsou funkce f a g periodické se stejnou periodou. Ukažte, že funkce $f + g$, fg , f/g jsou také periodické.
28. Nechť funkce f je periodická s periodou p . Je-li $a \neq 0$, jakou periodu má funkce $f(ax)$?
29. Ukažte, že platí:
- Všechny konstantní funkce jsou ohraničené.
 - Je-li funkce f na intervalu I ohraničená, je i funkce $-f$ na I ohraničená.
 - Jsou-li funkce f a g ohraničené na intervalu I , jsou také funkce $f + g$ a fg na intervalu I ohraničené.
30. Ve druhém sloupci najděte funkce inverzní k funkcím v prvním sloupci:

$$f_1(x) = \frac{1}{x+2}, \quad g_1(x) = \frac{x}{1-x},$$

$$f_2(x) = \frac{x}{x-1}, \quad g_2(x) = \frac{x}{x-1},$$

$$f_3(x) = 3 + \frac{1}{x}, \quad g_3(x) = \frac{1}{x} - 2,$$

$$f_4(x) = \frac{x}{2} - 2, \quad g_4(x) = \frac{1}{x-3},$$

$$f_5(x) = \frac{x}{x+1}, \quad g_5(x) = 2x + 4.$$

31. Může být funkce sama k sobě inverzní?
32. Ukažte, že inverzní funkce k prosté liché funkci je opět lichá. Co můžeme říci o inverzní funkci k prosté sudé funkci?
33. Co je to složená funkce?
34. Ověřte, že pro definiční obor složené funkce $f \circ g$ platí $D_{f \circ g} = g^{-1}(D_f)$.
35. Ukažte, že každá z následujících funkcí splňuje vztah $f(f(f(x))) = x$:

$$\text{a) } f(x) = 1 - \frac{1}{x}, \quad \text{b) } f(x) = 2 - \frac{1}{x-1},$$

$$\text{c) } f(x) = -\frac{1}{x+1}, \quad \text{d) } f(x) = a - \frac{1}{x+b}, \text{ kde } a + b = 1.$$

36. Nechť pro funkce f, g, h definované na intervalu I platí $f(x) \leq g(x) \leq h(x) \forall x \in I$ a necht' jsou tyto funkce na I rostoucí. Uka'zte, že platí $f(f(x)) \leq g(g(x)) \leq h(h(x))$.
37. Jsou dány funkce f a g pomocí vztahů
- $$f(x) = \begin{cases} |x| & \text{pro } x < 1, \\ 2x - 1 & \text{pro } x \geq 1, \end{cases} \quad g(x) = \begin{cases} 2 - x^2 & \text{pro } x < 0, \\ x + 2 & \text{pro } x \geq 0. \end{cases}$$
- a) Načrtněte jejich grafy.
- b) Najděte: $f(g(0)), f(g(1)), f(g(-2)), f(f(-1)), f(f(-2)), g(f(0)), g(f(-1)), g(f(-2)), g(g(1)), g(g(-1))$.
- c) Řešte vzhledem k x : $f(x) = 0, g(x) = 0, f(x) = x, g(x) = x, f(x) = g(x), f(g(x)) = 1, g(f(x)) = 1$.
- d) Doka'zte, že $f(x) \geq 0$ pro všechna x .
- e) Zjistěte, kdy je $g(x) < 0$.
- f) Doka'zte, že $f(g(x)) \geq 0$ pro všechna x .
- g) Existuje inverzní funkce k f ?
- h) Existuje inverzní funkce k $g \circ f$?
- i) Najděte předpis pro funkci $f \circ g$ a nakreslete její graf.
38. Uka'zte, že čísla $\sqrt{5} - \sqrt{2}, \sqrt{3}, \sqrt{5} + \sqrt{2}$ jsou tři po sobě jdoucí členy jisté geometrické posloupnosti.
39. Je možné, aby součet prvních n členů geometrické posloupnosti, jejíž žádný člen není roven nule, byl nula?
40. Uka'zte, že posloupnost $(a_n)_{n=1}^{\infty}$ je geometrická, právě když pro každé $n > 1$ platí $|a_n| = \sqrt{a_{n-1}a_{n+1}}$.

Cvičení

1. Nechť funkce f je definovaná předpisem $f(x) = \sqrt{x}$. Určete
- a) $f(9)$, b) $f(u)$, c) $f(x+1)$, d) $f(x^2)$.
2. Nechť funkce h je definovaná předpisem $h(x) = \frac{x}{x+1}$. Určete
- a) $h(-x)$, b) $h(x+1)$, c) $h\left(\frac{1}{x}\right)$, d) $h[h(x)]$.
3. Nechť funkce p je definovaná předpisem $p(x) = \frac{1}{x} - 1$. Ověřte, zda platí
- a) $p(x) + p(-x) = -2$, b) $p(2x) = \frac{1}{2}[p(x) - 1]$, c) $p(1-x) = \frac{1}{p(x)}$,
d) $\frac{-1}{p(x)+1} = p(x) + 2$, e) $\frac{1}{p(x)+1} = p\left(\frac{1}{x}\right) + 1$.

4. Jsou dány funkce

$$\text{a) } f(x) = \arcsin(\cos x), \quad \text{b) } f(x) = \begin{cases} \cos x & \text{pro } x \in \langle -\pi, 0 \rangle, \\ \sin x & \text{pro } x \in \langle 0, \pi \rangle. \end{cases}$$

Najděte hodnoty

$$\text{a) } f(0), f(-\pi), f(3\pi), f\left(\frac{\pi}{2}\right), f\left(\frac{\pi}{4}\right);$$

$$\text{b) } f(0), f\left(-\frac{\pi}{2}\right), f\left(\frac{\pi}{4}\right), f(3), f(4).$$

5. Najděte funkce f, g , pro které platí

$$\text{a) } f(x) = ax + b, \quad f(3) = -3, f(-2) = 4,$$

$$\text{b) } g(x) = ax^2 + bx + c, \quad g(0) = 1, g(-1) = 2, g(3) = 18.$$

Vypočtěte $f\left(\frac{1}{2}\right), f(1), g\left(\frac{1}{2}\right), g(1)$.

6. Najděte (přirozené) definiční obory následujících funkcí f , je-li $f(x)$ rovno:

$$\text{a) } \frac{7x^2 + 6x + 5}{x^2 - 1}, \quad \text{b) } \frac{2x + 3}{x^2 + 3x + 2},$$

$$\text{c) } \sqrt{x^2 - 4}, \quad \text{d) } \sqrt{(3x - 2)^2},$$

$$\text{e) } \frac{1}{\sqrt{x - 3}}, \quad \text{f) } \frac{3}{\sqrt{x^2 - 25}},$$

$$\text{g) } \sqrt{\frac{x+1}{x-1}}, \quad \text{h) } \sqrt{(x-2)(x+3)},$$

$$\text{i) } \frac{x}{|x|}, \quad \text{j) } |x| + [x],$$

$$\text{k) } \frac{x}{[x]}, \quad \text{l) } \frac{x}{x - [x]},$$

$$\text{m) } \frac{2x^2}{x + |x|}, \quad \text{n) } \frac{2}{x + |x| - 2},$$

$$\text{o) } |x| \sqrt{\frac{4-x^2}{|4-x^2|}}, \quad \text{p) } |x| \sqrt{\frac{x^2-4}{|4-x^2|}},$$

$$\text{q) } (x^2 + x - 6)^{\sqrt{2}}, \quad \text{r) } \frac{1}{2^{\frac{x}{x-1}} - 3^{\frac{x}{x-1}}},$$

$$\text{s) } \ln(\sqrt{x-3} - 2), \quad \text{t) } \ln(e^x - e^{-x}),$$

$$\text{u) } \ln \frac{x^2 - 5x + 6}{x^2 + x + 1}, \quad \text{v) } \operatorname{tg} \sqrt{2x},$$

$$\text{w) } \arcsin(3 - \sqrt{4-x^2}), \quad \text{x) } \ln(2 \cos x - \sqrt{3}),$$

$$\text{y) } \sqrt{\sin x} + \sqrt{9-x^2}, \quad \text{z) } \sin\left(\ln \frac{1}{3x+1}\right).$$

7. Pomocí známých grafů funkcí a) $y = |x|$, b) $y = x^2$, c) $y = \sin x$, d) $y = \ln x$ a d) $y = e^x$ sestrojte grafy funkcí

a) $y = -|x|$, $y = 1 + |x|$, $y = |x| - 2$, $y = |x + 1|$, $y = |x - 2|$, $y = |x + 1| - 2$,
 $y = 2|x|$;

b) $y = 4x^2$, $y = \frac{1}{4}x^2$, $y = -x^2$, $y = -2x^2$, $y = x^2 + 2$, $y = x^2 - 1$,
 $y = (x + 2)^2$, $y = (x - 1)^2$, $y = \frac{1}{2}(x - 1)^2$, $y = 2(x + 2)^2$, $y = x^2 + 4x + 2$,
 $y = 4x^2 + 8x + 12$;

c) $y = |\sin x|$, $y = -\sin x$, $y = 2 \sin x$, $y = \sin(x + 3)$, $y = 2 \sin \frac{x}{2}$;

d) $y = \ln(2 - x)$, $y = \ln x^2$, $y = 3 \ln 2x$, $y = \ln \frac{1}{x}$;

e) $y = e^{-x}$, $y = -e^x$, $y = -e^{-x}$, $y = 1 + e^x$, $y = e^{x-1}$, $y = \frac{1}{10}e^{\frac{x}{2}}$.

8. Načrtněte grafy funkcí

a) $f(x) = \begin{cases} 2x & \text{pro } x \in \langle 0, 1 \rangle, \\ 3 - x & \text{pro } x \in \langle 1, 3 \rangle; \end{cases}$ b) $f(x) = \begin{cases} 0 & \text{pro } |x| > 1, \\ 1 + x & \text{pro } -1 \leq x \leq 0, \\ 1 - x & \text{pro } 0 < x \leq 1. \end{cases}$

9. Pro zadané funkce f a g najděte $|f|$, $f + g$, $f - g$, fg , g/f :

a) $f(x) = 3x$, $g(x) = 2 - x$,

b) $f(x) = \frac{x-1}{x}$, $g(x) = \frac{1}{x}$,

c) $f(x) = \sqrt{x+2}$, $g(x) = \frac{1}{x+2}$,

d) $f(x) = \begin{cases} 0 & \text{pro } x \leq 0, \\ x & \text{pro } x > 0, \end{cases}$ $g(x) = \begin{cases} 0 & \text{pro } x \leq 0, \\ -x^2 & \text{pro } x > 0. \end{cases}$

10. Zjistěte, které z uvedených funkcí jsou sudé resp. liché:

a) $f(x) = 2$, b) $f(x) = \sqrt{x}$, c) $f(x) = \sqrt[3]{x}$,

d) $f(x) = x - x^2$, e) $f(x) = x^3 - x$, f) $f(x) = \frac{1}{2x}$,

g) $f(x) = \frac{x+2}{x-2}$, h) $f(x) = \frac{x^2}{1+2x^2}$, i) $f(x) = \frac{x}{|x|}$,

j) $f(x) = \frac{x}{|x|}$, k) $f(x) = (-1)^{[x]}$, l) $f(x) = x^4 + \frac{1}{\sqrt[4]{x^2}}$,

m) $f(x) = \chi(x)$, n) $f(x) = \chi(x)[1 - \chi(x)]$, kde χ je Dirichletova funkce,

o) $f(x) = 2^x$, p) $f(x) = x^2 + \sin x^2$, q) $f(x) = \frac{a^x+1}{a^x-1}$,

r) $f(x) = \frac{1}{4+\cotg^2 x}$, s) $f(x) = \cos(\pi - x)$, t) $f(x) = \frac{\sin x}{x}$,

u) $f(x) = x \cosh x$, v) $f(x) = \frac{x+\tgh x}{2+3 \cos x}$, w) $f(x) = \sin x + \cos x$,

x) $f(x) = x \log |x|$, y) $f(x) = \log \frac{2-x}{2+x}$, z) $f(x) = \frac{\sinh x}{\sin x}$.

11. Zjistěte, které z následujících funkcí jsou periodické, a najděte jejich periodu:

- a) $f(x) = 3$, b) $f(x) = (-1)^{[x-1]}$,
 c) $f(x) = \frac{3^{[x]} + (-3)^{[x]}}{3^{[x]}}$, d) $f(x) = \operatorname{sgn}(x - [x] - \frac{1}{2})$,
 e) $f(x) = 2 + \cos x + \cos^2 x$, f) $f(x) = x \sin x$,
 g) $f(x) = \sin \frac{2x}{3}$, h) $f(x) = \cos x^2$,
 i) $f(x) = 5 \cos 2\pi x$, j) $f(x) = \sin \frac{1}{x}$,
 k) $f(x) = \arcsin(\sin x)$, l) $f(x) = 3 \cos x - 5 \sin 4x$,
 m) $f(x) = \ln(\cos x + \sin x)$, n) $f(x) = \sin 2x + \operatorname{tg} \frac{x}{2}$,
 o) $f(x) = 2^{3+2\sin x}$, p) $f(x) = [x] \arccos([x])$.

12. Zjistěte, které z následujících funkcí jsou prosté a najděte k nim inverzní funkce:

- a) $f(x) = 3x$, b) $f(x) = (x - 2)(2 + x)$,
 c) $f(x) = 2 + 3\sqrt{x}$, d) $f(x) = \frac{3-\sqrt{x}}{1-2\sqrt{x}}$,
 e) $f(x) = \frac{x}{x^2+2}$, f) $f(x) = \frac{x^3}{x^3+1}$,
 g) $f(x) = 4^{\sin x}$, h) $f(x) = 3^{\frac{x}{x-1}}$,
 i) $f(x) = 3 + \arccos(2x - 1)$, j) $f(x) = 1 + \sqrt{3 + e^{2x}}$,
 k) $f(x) = 2^{1+\ln \sqrt{x-2}}$, l) $f(x) = 2^{3+\operatorname{arctg} x}$,
 m) $f(x) = \log_2(x + \sqrt{x^2 + 1})$, n) $f(x) = \operatorname{tg}(1 - 2 \operatorname{arctg} x)$,
 o) $f(x) = \begin{cases} x & \text{pro } x < 0 \\ 2x & \text{pro } x \geq 0, \end{cases}$ p) $f(x) = \begin{cases} \frac{x\pi}{2} & \text{pro } |x| \geq 1, \\ \arcsin x & \text{pro } |x| < 1. \end{cases}$
 q) $f(x) = \begin{cases} 2x + 3 & \text{pro } x < -1, \\ x & \text{pro } |x| \leq 1, \\ \sqrt{x} & \text{pro } x > 1. \end{cases}$ r) $f(x) = \begin{cases} 2x & \text{pro } x < -1, \\ x & \text{pro } |x| \leq 1, \\ \sqrt{x} & \text{pro } x > 1. \end{cases}$

13. Ukažte, že každá z následujících funkcí je sama k sobě inverzní:

- a) $f(x) = x$, b) $f(x) = -x$,
 c) $f(x) = \frac{1}{x}$, d) $f(x) = \frac{x+1}{x-1}$,
 e) $f(x) = 2 + \frac{1}{x-2}$, f) $f(x) = -\frac{x}{x+1}$,
 g) $f(x) = \frac{ax+b}{x-a}$, h) $f(x) = \sqrt{1-x^2}$ pro $x \geq 0$.

14. Najděte funkce f , pro které platí:

- a) $f(2x) = x$, b) $f(x + 1) = x$,
c) $f(1 - x) = x$, d) $f(x^2) = x$,
e) $f(\frac{1}{x}) = x$, f) $f(1 + x) = 4x - 1$,
g) $f(2x) = 4x - 1$, h) $f(x^2) = 4x - 1$,
i) $f(1 - x) = 4x - 1$, j) $f(\frac{1}{x}) = 4x - 1$.

15. Následující polynomy rozložte v reálném oboru:

- a) $x^4 - 6x^3 + 11x^2 - 6x$, b) $x^5 - 5x^3 + 4x$,
c) $x^3 + 5x^2 + 8x + 4$, d) $x^4 - 5x^3 + 9x^2 - 7x + 2$,
e) $x^5 + x^4 - x^3 - x^2$, f) $x^7 - 6x^5 + 9x^3 - 4x$,
g) $x^3 + x^2 + x + 1$, h) $x^5 - 5x^4 + 12x^3 - 16x^2 + 11x - 3$,
i) $x^4 + 1$, j) $x^6 - 4x^5 + x^4 + 6x^3 + 20x^2 - 56x + 32$,
k) $x^6 - 64$, l) $x^6 - 5x^5 + 6x^4 + 2x^3 + 4x^2 - 24x + 16$.

16. Následující racionální lomené funkce rozložte na parciální zlomky:

- a) $\frac{1}{x(x+1)(x+2)}$, b) $\frac{3x^2 + 30x - 120}{(x-2)(x+2)(x-5)}$,
c) $\frac{x-1}{(x+1)(x+2)^2}$, d) $\frac{3x-4}{(x-2)(x-1)^3}$,
e) $\frac{5x^2 - 14x + 17}{(x-5)^2(x-1)^2}$, f) $\frac{x^3 + x - 1}{x(x^2 + 1)}$,
g) $\frac{1}{(x+1)^2(x^2+1)^2}$, h) $\frac{1}{(x^2 - 6x + 8)(x^2 + 2x + 2)}$,
i) $\frac{192}{x^6 - 64}$, j) $\frac{4 + 3x^4}{x^2(x^2 + 1)^2}$,
k) $\frac{1}{x^4 + 1}$, l) $\frac{x^3 - 6x^2 + 10x - 2}{(x-3)^2(x^2 - 4x + 5)}$.

17. Zjistěte, na jakou částku vzroste vklad 1000 Kč při 2 procentním celoročním úrokování a) za tři roky, b) za n let.

18. Nákupní cena stroje je 250 000 Kč. Za jakou dobu klesne hodnota stroje na polovinu nákupní ceny, odepisuje-li se ročně na amortizaci 5 procent ceny z předchozího roku?

Výsledky

1. a) 3, b) \sqrt{u} , c) $\sqrt{x+1}$, d) $|x|$;
 2. a) $\frac{x}{x-1}$, b) $\frac{x+1}{x+2}$, c) $\frac{1}{1+x}$, $x \neq 0$, d) $\frac{x}{2x+1}$, $x \neq -1$;
 3. a), b) ano, c) ne (ano pro $x \neq 1$), d) ne (ano pro $x \neq -1$), e) ano;
 4. a) $\frac{\pi}{2}$, $-\frac{\pi}{2}$, $-\frac{\pi}{4}$, 0 , $\frac{\pi}{4}$, b) $0, 0, \frac{\sqrt{2}}{2}, \sin 3$, není def.; 5. a) $f(x) = \frac{1}{5}(6 - 7x)$, b) $g(x) = \frac{1}{3}(5x^2 + 2x) + 1$;
 6. a) $\mathbb{R} \setminus \{-1, 1\}$, b) $\mathbb{R} \setminus \{-1, -2\}$, c) $(-\infty, -2) \cup (2, \infty)$, d) \mathbb{R} , e) $(3, \infty)$, f) $(-\infty, -5) \cup (5, \infty)$, g) $(-\infty, -1) \cup (1, \infty)$, h) $(-\infty, -3) \cup (2, \infty)$, i) $\mathbb{R} \setminus \{0\}$, j) \mathbb{R} , k) $\mathbb{R} \setminus (0, 1)$, l) $(-\infty, 0)$, m) $(0, \infty)$, n) $\mathbb{R} \setminus \{1\}$, o) $(-2, 2)$, p) $(-\infty, -2) \cup (2, \infty)$, q) $(-\infty, -3) \cup (2, \infty)$, r) $\mathbb{R} \setminus \{0, 1\}$, s) $(7, \infty)$, t) $(0, \infty)$, u) $(-\infty, 2) \cup (3, \infty)$, v) $(0, \infty) \setminus \{x \mid x = \frac{\pi^2}{8}(1 + 2k)^2, k \in \mathbb{Z}\}$, w) $\{0\}$, x) $(-\frac{\pi}{6}, \frac{\pi}{6}) + 2k\pi, k \in \mathbb{Z}$, y) $(0, 3)$, z) $(-\frac{1}{3}, \infty)$;

9. b) $(f+g)(x) = 1, x \neq 0$, $(g/f)(x) = \frac{1}{x-1}, x \neq 0$, d) $|f| = f, (f+g)(x) = \begin{cases} 0 & x \leq 0 \\ x-x^2 & x > 0 \end{cases}$, $(f-g)(x) = \begin{cases} 0 & x \leq 0 \\ x+x^2 & x > 0 \end{cases}$, $(fg)(x) = \begin{cases} 0 & x \leq 0 \\ -x^3 & x > 0 \end{cases}$, $(g/f)(x) = -x, x > 0$;

10. a), h), l), m), n), p), r), s), t), z) sudé, c), e), f), i), q), u), v), x), y) liché;

11. a) $\forall p \in \mathbb{R}$, b) 2, c) 2, d) 1, e) 2π , g) 3π , i) 1, k), l), m), n), o) 2π ;

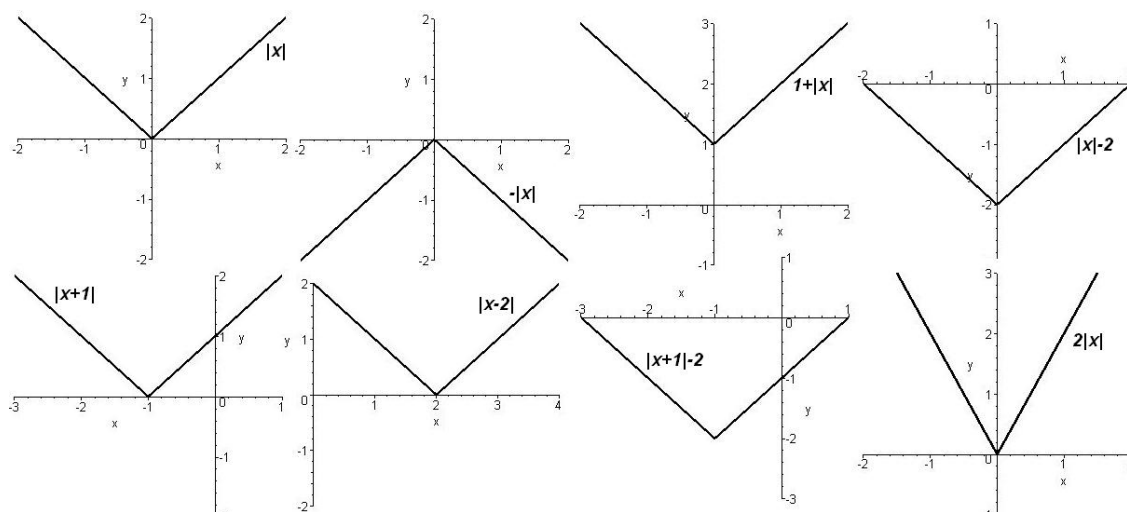
12. a) $\frac{x}{3}$, b) není prostá, c) $\frac{1}{9}(x-2)^2, x \geq 2$, d) $\frac{(x-3)^2}{(2x-1)^2}, x \in (\frac{1}{2}, 3)$, e) není prostá, f) $-\sqrt[3]{\frac{x}{x-1}}$, g) není prostá, h) $\frac{\ln x}{\ln x - \ln 3}$, i) $\frac{1}{2}(1 + \cos(x-3)), x \in (0, \pi)$, j) $\frac{1}{2} \ln(x^2 - 2x - 2)$, k) $2 + e^{2(x-1)}$, l) $\operatorname{tg}\left(\frac{\ln x}{\ln 2} - 3\right)$, m) $2^{x-1} - 2^{1-x}$, n) $\operatorname{tg}\frac{1}{2}(1 - \operatorname{arctg} x)$, o) x pro $x < 0$, $\frac{x}{2}$ pro $x \geq 0$, p) $\sin x$ pro $|x| < \frac{\pi}{2}$, $\frac{2}{\pi}x$ pro $|x| \geq 2$, q) není prostá, r) $\frac{x}{2}$ pro $x < -2$, x pro $|x| \leq 1$, x^2 pro $x > 1$;

14. a) $\frac{x}{2}$, b) $x-1$, c) $1-x$, d) \sqrt{x} pro $x \geq 0$, $-\sqrt{|x|}$ pro $x < 0$, e) $\frac{1}{x}$ pro $x \neq 0$, 0 pro $x=0$, f) $4x-5$, g) $2x-1$, h) $4\sqrt{x}-1$ pro $x \geq 0$, $-4\sqrt{|x|}-1$ pro $x < 0$, i) $3-4x$, j) $\frac{4}{x}-1$ pro $x \neq 0$, -1 pro $x=0$;

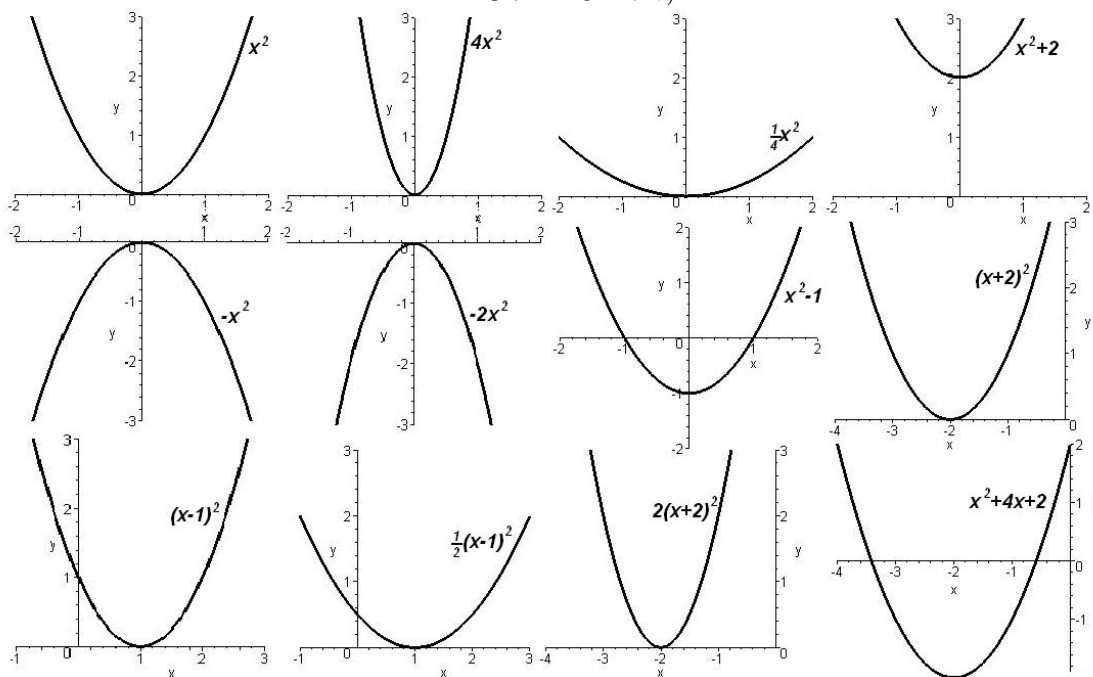
15. a) $x(x-1)(x-2)(x-3)$, b) $x(x+2)(x-2)(x+1)(x-1)$, c) $(x+2)^2(x+1)$, d) $(x-1)^3(x-2)$, e) $x^2(x-1)(x+1)^2$, f) $x(x-1)^2(x+1)^2(x-2)(x+2)$, g) $(x^2+1)(x+1)$, h) $(x-1)^3(x^2+2x+3)$, i) $(x^2+x\sqrt{2}+1)(x^2-x\sqrt{x}+1)$, j) $(x-1)(x-2)^3(x^2+3x+4)$, k) $(x-2)(x+2)(x^2+2x+4)(x^2-2x+4)$, l) $(x-1)(x-2)^3(x^2+2x+2)$;

16. a) $\frac{1}{2x} - \frac{1}{x+1} + \frac{1}{2(x+2)}$, b) $\frac{4}{x-2} - \frac{6}{x+2} + \frac{5}{x-5}$, c) $\frac{2}{x+2} + \frac{3}{(x+2)^2} - \frac{2}{x+1}$, d) $\frac{2}{x-2} - \frac{2}{x-1} - \frac{2}{(x-1)^2} + \frac{1}{(x-1)^3}$, e) $\frac{1}{2(x-1)^2} + \frac{9}{2(x-5)^2}$, f) $1 - \frac{1}{x} \frac{x}{x^2+1}$, g) $\frac{1}{2(x+1)} + \frac{1}{4(x+1)^2} + \frac{1-2x}{4(x^2+1)} - \frac{x}{2(x^2+1)^2}$, h) $\frac{1}{52(x-4)} - \frac{1}{20(x-2)} + \frac{4x+11}{130(x^2+2x+2)}$, i) $\frac{1}{(x-2)} - \frac{1}{x+2} + \frac{x-4}{x^2-2x+4} - \frac{x+4}{x^2+2x+4}$, j) $\frac{4}{x^2} - \frac{1}{x^2+1} - \frac{7}{(x^2+1)^2}$, k) $\frac{2-x\sqrt{2}}{4(x^2-x\sqrt{2}+1)} + \frac{2+x\sqrt{2}}{4(x^2+x\sqrt{2}+1)}$, l) $\frac{1}{2(x-3)^2} - \frac{2x-1}{2(x^2-4x+5)}$.

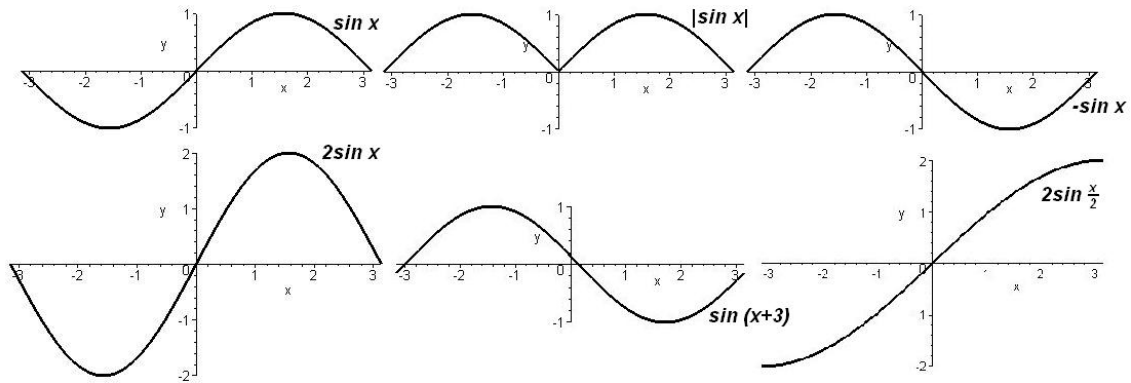
13. a) 1061,208 Kč b) 1000 $(1 + \frac{2}{100})^n$ 13. přibližně za 14 let.



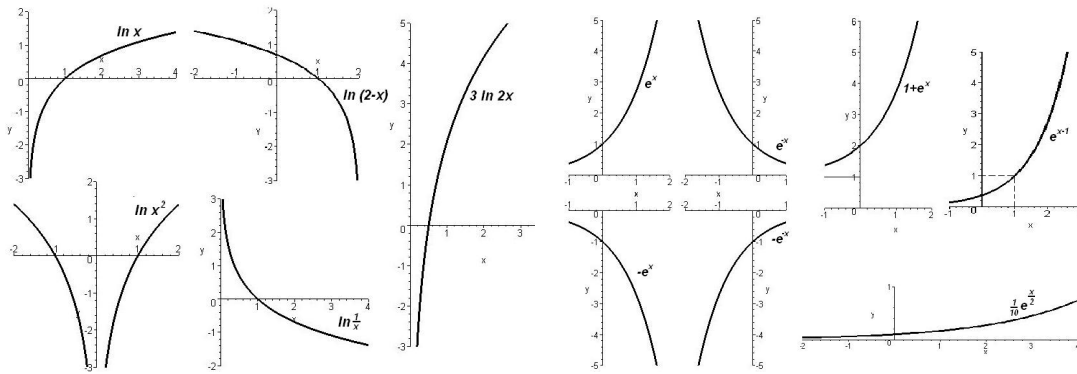
Obr. 1.31: 7. a)



Obr. 1.32: 7. b)

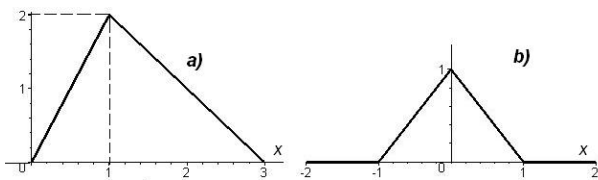


Obr. 1.33: 7. c)



Obr. 1.34: 7. d)

Obr. 1.35: 7. e)



Obr. 1.36: 8. a), b)

2 Lineární algebra

Lineární algebra vznikla z potřeby řešit soustavy lineárních rovnic, a to někdy velmi rozsáhlé – obsahující až tisíce rovnic. To vedlo k pojmu matice a determinantu a dále se ukázalo užitečné zavést abstraktní pojem *vektorový (lineární) prostor*, který má další hojně použití jak v samotné lineární algebře, tak v dalších matematických partiích i například ve fyzice.

Připomeňme, že *lineární rovnici s neznámými* x_1, x_2, \dots, x_n rozumíme rovnicí tvaru

$$a_1x_1 + a_2x_2 + \dots + a_nx_n = b,$$

kde a_1, a_2, \dots, a_n, b jsou čísla. Slovem *lineární* zdůrazňujeme, že neznámé x_1, x_2, \dots, x_n jsou v rovnici obsaženy nejvýše v první mocnině, jsou násobeny číslem, a nejsou v žádném jiném vztahu.

Soustava lineárních rovnic, tedy několik rovnic se stejnými neznámými, tvoří přirozený matematický model pro většinu technických problémů; např. v elektrotechnice pomocí nich řešíme elektrické sítě, ve staticce tvoří základní matematický nástroj pro vyšetřování rovnovážných stavů. Dále se tyto soustavy vyskytují jako součást výpočetního postupu jiných matematických úloh; např. při řešení soustav diferenciálních a diferenčních rovnic užítím operátorového počtu (Laplaceovy resp. Z-transformace) nebo pomocí numerických metod.

2.1 Soustavy lineárních rovnic

Motivace

Příklad 2.1. Hledejme všechny body $P[x, y]$ společné dvěma přímkám p_1, p_2 v rovině, které jsou určeny obecnými rovnicemi

$$p_1 : 2x + 2y = 4, p_2 : 3x - 2y = 11.$$

Řešení spočívá v nalezení takových hodnot x, y , pro které jsou současně splněny obě rovnice. Tyto rovnice jsou v neznámých x, y lineární, Mluvíme proto o *soustavě dvou lineárních rovnic* o dvou neznámých. Tuto soustavu snadno vyřešíme, uvědomíme-li si, že jakákoliv dvojice hodnot x, y splňující obě rovnice musí splňovat také rovnici, kterou dostaneme jako součet těchto rovnic, tj. rovnici

$$5x = 15.$$

Odtud plyne $x = 3$ a dosazením této hodnoty do první rovnice soustavy dostaneme $y = -1$. našli jsme tedy řešení soustavy, kterým je uspořádaná dvojice $x = 3$ a $y = -1$, neboli zadané přímky p_1, p_2 mají společný bod $P[x, y] = [3, -1]$. Z postupu výpočtu plyne, že toto řešení je jediné – nalezený bod je jediný společný bod obou přímek. Stejně řešení dané soustavy bychom tedy obdrželi i pomocí jiné metody (např. dosazovací). Námi použitá metoda spočívala v takové úpravě rovnic soustavy (v našem případě to bylo sčítání dvou rovnic), která vedla k vyloučení (eliminaci) neznámé y a tím k možnosti snadného výpočtu hodnoty zbývajících neznámé x .

Na základě geometrické interpretace lze očekávat, že obecně úloha o určování bodů společných dvěma přímkám v rovině může mít

- jediné řešení (přímky jsou různoběžné),
- žádné řešení (přímky jsou rovnoběžné různé),
- nekonečně mnoho řešení (přímky jsou rovnoběžné totožné).

Druhou a třetí možnost ilustrují tyto soustavy lineárních rovnic:

$$\begin{array}{ll} x + y = 1 & x + y = 1 \\ 3x + 3y = 2 & 3x + 3y = 3 \end{array}$$

Budeme-li tyto soustavy řešit pomocí eliminační metody (od druhé rovnice vždy odečteme trojnásobek první, dostaneme následující dvě soustavy, které jsou ekvivalentní se zadanými (mají stejná řešení):

$$\begin{array}{ll} x + y = 1 & x + y = 1 \\ 0x + 0y = -1 & 0x + 0y = 0 \end{array}$$

První soustavě zřejmě nevyhovuje žádná dvojice x, y (druhá rovnice má tvar $0 = -1$), ve druhé soustavě je druhá rovnice splněna vždy (má tvar $0 = 0$) a řešením soustavy jsou všechny dvojice $[x, y] = [t, 1 - t]$ pro $t \in \mathbb{R}$ libovolné.

Analogicky jako přímky v rovině jsou pomocí lineárních rovnic určeny roviny v prostoru. Úloha o vzájemné poloze tří rovin v prostoru vede na soustavu tří rovnic o třech neznámých; ilustruje ji následující příklad.

Příklad 2.2. Určeme všechny společné body tří rovin ρ_1, ρ_2, ρ_3 s obecnými rovnicemi: $\rho_1 : 3x - 2y + 4z = 6$, $\rho_2 : 2x + 3y - 5z = -8$, $\rho_3 : 5x - 4y + 3z = 7$.

Řešení. Na příslušné soustavě rovnic provedeme ekvivalentní operace (tj. operace nemění výsledné řešení) s cílem eliminace některých neznámých:

$$\begin{aligned} 3x - 2y + 4z &= 6 \\ 2x + 3y - 5z &= -8 \\ 5x - 4y + 3z &= 7 \end{aligned}$$

První rovnici násobíme -2 a ke třetí rovnici pak připočteme takto upravenou první rovnici:

$$\begin{aligned} -6x + 4y - 8z &= -12 \\ 2x + 3y - 5z &= -8 \\ 5x - 4y + 3z &= 7 \\ -6x + 4y - 8z &= -12 \\ 2x + 3y - 5z &= -8 \\ -x \quad - 5z &= -5 \end{aligned}$$

Na řešení zřejmě nemá vliv záměna pořadí rovnic; násobíme třetí rovnici číslem (-1) a napíšeme ji jako novou první rovnici:

$$\begin{aligned} x \quad + 5z &= 5 \\ -6x + 4y - 8z &= -12 \\ 2x + 3y - 5z &= -8 \end{aligned}$$

Nyní ze druhé a třetí rovnice eliminujeme neznámou x - ke druhé rovnici připočteme šestinásobek první rovnice a ke třetí (-2) násobek první rovnice:

$$\begin{aligned} x \quad + 5z &= 5 \\ 4y + 22z &= 18 \\ 3y - 15z &= -18 \end{aligned}$$

Druhou rovnici vydělíme číslem 2, třetí rovnici číslem 3:

$$\begin{aligned} x \quad + 5z &= 5 \\ 2y + 11z &= 9 \\ y - 5z &= -6 \end{aligned}$$

K druhé rovnici připočítáme (-2) násobek třetí rovnice a pak je mezi sebou vyměníme:

$$\begin{aligned} x \quad + 5z &= 5 \\ y - 5z &= -6 \\ 21z &= 21 \end{aligned}$$

Pro trojici (x, y, z) , která je řešením této soustavy, máme

$$z = 1, y = -6 + 5z = -6 + 5 = -1, x = 5 - 5z = 5 - 5 = 0.$$

Trojice $(0, -1, 1)$ je jediným řešením této soustavy; roviny ρ_1, ρ_2, ρ_3 mají jediný společný bod $A = [0, -1, 1]$. \square

Kromě uvedené možnosti jediného průsečíku může nastat při zkoumání vzájemné polohy tří rovin v prostoru ještě některý z následujících případů:

- tři roviny se protnou v jedné přímce, přičemž žádné dvě nejsou totožné; nebo dvě roviny se protnou v jedné přímce a třetí je totožná s některou z nich,
- tři rovnoběžné totožné roviny,
- žádné body společné všem třem rovinám: tři navzájem rovnoběžné různé roviny; nebo takové tři roviny, že každé dvě z nich se protínají v přímce a všechny tři nemají společný bod (jednotlivé průsečnice jsou rovnoběžné); nebo dvě rovnoběžné roviny a třetí totožná s některou z nich

Způsob řešení odpovídající soustavy musí dát možnost odlišit, která z těchto 7 situací nastane.

Uvedeme ještě jeden ilustrační příklad:

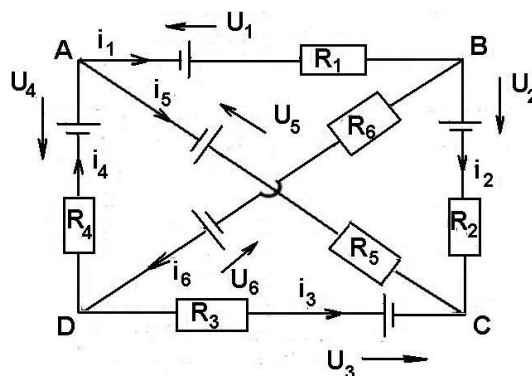
Příklad 2.3.

Máme vypočítat proudy

$$i_k, k = 1, \dots, 6,$$

ve všech větvích elektrického obvodu na Obr. 2.1, kde hodnoty odporů R_k a zdrojů U_k jsou dány vztahy

$$R_k = k[\text{Ohm}] \quad \text{a} \quad U_k = 4k[\text{Volt}].$$



Obr. 2.1: Obvod k příkladu 2.3

Řešení. Použijeme Ohmův zákon o úbytku napětí na odporu: $U = Ri$ a dva Kirchhoffovy zákony, smyčkový a uzlový, které říkají, že algebraický součet (s přihlédnutím ke znaménku) všech napětí v každé uzavřené smyčce je roven nule a algebraický součet všech proudů v každém uzlu je roven nule. Platí tedy

$$\begin{array}{rcccccc}
i_1 & +2i_2 & & & -5i_5 & & = & -24 \\
i_1 & & & & +4i_4 & & +6i_6 & = & 44 \\
i_1 & +2i_2 & -3i_3 & +4i_4 & & & & = & 24 \\
& 2i_2 & -3i_3 & & & & -6i_6 & = & -20 \\
& & -3i_3 & +4i_4 & +5i_5 & & & = & 48 \\
i_1 & & & & -i_4 & +i_5 & & = & 0 \\
-i_1 & +i_2 & & & & & +i_6 & = & 0 \\
& -i_2 & -i_3 & & & & -i_5 & = & 0 \\
& & i_3 & +i_4 & & & -i_6 & = & 0
\end{array}$$

Máme celkem 9 rovnic pro 6 neznámých; jindy se může stát, že počet rovnic je menší než počet neznámých. Obvykle jsme zvyklí na stejný počet rovnic jako neznámých a to nejvýše čtyři. V inženýrské praxi, např. při řešení problémů metodou konečných prvků, se vyskytují soustavy s několika desítkami rovnic.

Jistě jsme vzali v úvahu zbytečně mnoho rovnic – v Teoretické elektrotechnice se dozvíte, jak vybrat právě tolik rovnic, kolik k řešení problému potřebujeme – pro naši čistě algebraickou motivaci uvažujeme rovnice všechny, abychom naznačili matematické prostředky, pomocí nichž se potřebný počet rovnic dostane.

Naši soustavu budeme opět řešit pomocí postupné eliminace proměnných, tzv. **Gaussovou eliminační metodou**, o které podrobněji pohovoříme v odstavci 2.53. Postupnými úpravami vyeliminujeme proměnnou i_1 ze všech rovnic s výjimkou první, proměnnou i_2 ze všech rovnic s výjimkou druhé (eventuálně první) atd. Přitom vzniklá soustava musí být ekvivalentní s původní soustavou, tj. každé řešení soustavy před úpravou musí být řešením soustavy po úpravě a naopak.

Povolenými úpravami zřejmě jsou (některé jsme už použili v předchozích geometrických příkladech) :

- a) záměna pořadí rovnic v soustavě,
- b) záměna pořadí členů s neznámými v rovnicích,
- c) vynásobení kterékoliv rovnice libovolným nenulovým číslem,
- d) připočtení ke kterékoliv rovnici libovolných násobků jiných rovnic,
- e) vynechání rovnice, která je součtem libovolných násobků jiných rovnic.

Z posledního pravidla plyne, že lze vynechat tzv. nulovou rovnici, tj. rovnici tvaru $0.x_1 + 0.x_2 + \dots + 0.x_n = 0$, a také ze všech stejných rovnic ponechat jen jednu.

Pravidla a) — e) jsou tzv. **Gaussovy elementární úpravy** soustavy rovnic.

Použijeme tato pravidla na naši soustavu:

Proměnnou i_1 zřejmě vyeliminujeme z 2. až 9. rovnice takto: od 2., 3. a 6. rovnice odečteme 1. rovnici, k 7. rovnici přičteme 1. rovnici, 4., 5., 8. a 9. rovnici ponecháme. Dostaneme

soustavu:

$$\begin{array}{rcccccc}
 i_1 & +2i_2 & & & -5i_5 & & = & -24 \\
 & -2i_2 & & +4i_4 & +5i_5 & +6i_6 & = & 68 \\
 & & -3i_3 & +4i_4 & +5i_5 & & = & 48 \\
 & 2i_2 & -3i_3 & & & -6i_6 & = & -20 \\
 & & -3i_3 & +4i_4 & +5i_5 & & = & 48 \\
 & -2i_2 & & -i_4 & +6i_5 & & = & 24 \\
 & 3i_2 & & & -5i_5 & +i_6 & = & -24 \\
 & -i_2 & -i_3 & & -i_5 & & = & 0 \\
 & & i_3 & +i_4 & & -i_6 & = & 0
 \end{array}$$

Podobně budeme postupovat při eliminaci proměnné i_2 ze 3. až 9. rovnice – provedeme úpravy: 1.,2.a 3.rov. ponechat, 4.rov.+2.rov., 5.rov.ponechat, 6.rov.-2.rov., 7.rov.+ $\frac{3}{2}$ ×2.rov., 8.rov.- $\frac{1}{2}$ ×2.rov., 9.rov. ponechat.

Vzniklou soustavu napíšeme úsporněji – budeme zapisovat pouze koeficienty u jednotlivých proměnných, které již vypisovat nebudeme; napíšeme je do záhlaví:

$$\begin{array}{cccccc}
 i_1 & i_2 & i_3 & i_4 & i_5 & i_6 & = \\
 1 & 2 & 0 & 0 & -5 & 0 & -24 \\
 0 & -2 & 0 & 4 & 5 & 6 & 68 \\
 0 & 0 & -3 & 4 & 5 & 0 & 48 \\
 0 & 0 & -3 & 4 & 5 & 0 & 48 \\
 0 & 0 & -3 & 4 & 5 & 0 & 48 \\
 0 & 0 & 0 & -5 & 1 & -6 & -44 \\
 0 & 0 & 0 & 6 & \frac{5}{2} & 10 & 78 \\
 0 & 0 & -1 & -2 & -\frac{7}{2} & -3 & -34 \\
 0 & 0 & 1 & 1 & 0 & -1 & 0
 \end{array}$$

Vynecháme 4. a 5. rovnici (jsou stejné jako třetí rovnice). Analogickým postupem eliminujeme další proměnné – závěrem dostaneme (povšimněte si přehozených sloupců u proměnných i_4 a i_5):

$$\begin{array}{cccccc}
 i_1 & i_2 & i_3 & i_5 & i_4 & i_6 & = \\
 1 & 2 & 0 & -5 & 0 & 0 & -24 \\
 0 & -2 & 0 & 5 & 4 & 6 & 68 \\
 0 & 0 & -3 & 5 & 4 & 0 & 48 \\
 0 & 0 & 0 & 1 & -5 & -6 & -44 \\
 0 & 0 & 0 & 0 & 37 & 50 & 376 \\
 0 & 0 & 0 & 0 & 0 & 601 & 2116
 \end{array}$$

což odpovídá soustavě rovnic

$$\begin{array}{rcccccc}
 i_1 & +2i_2 & & & -5i_5 & & = & -24 \\
 & -2i_2 & & & +5i_5 & +4i_4 & +6i_6 & = & 68 \\
 & & -3i_3 & +5i_5 & +4i_4 & & & = & 48 \\
 & & & +i_5 & -5i_4 & -6i_6 & & = & -44 \\
 & & & & 37i_4 & +50i_6 & & = & 376 \\
 & & & & & 601i_6 & & = & 2116
 \end{array}$$

Tuto soustavu, o které říkáme, že má **Gaussův tvar**, již dovedeme snadno řešit postupně od poslední, ze které vyjádříme i_6 :

$$i_6 = \frac{2116}{601} \approx 3,521$$

Vypočítanou hodnotu dosadíme do předposlední rovnice a vyjádříme i_4 :

$$37i_4 = 376 - 50i_6 = 376 - 50 \cdot \frac{2116}{61} = \frac{120176}{601}$$

$$i_4 = \frac{3248}{601} \approx 5,404$$

Analogicky postupně dostaneme

$$i_5 = \frac{2492}{601} \approx 4,146$$

$$i_3 = -\frac{1132}{601} \approx -1,883$$

$$i_2 = -\frac{1360}{601} \approx -2,263$$

$$i_1 = \frac{756}{601} \approx 1,258$$

□

Gaussova eliminační metoda, kterou jsme soustavu řešili, se skládala ze dvou částí: Z převodu soustavy na ekvivalentní soustavu v Gaussově tvaru (to je tzv. **přímý chod**) a z řešení této soustavy (tzv. **zpětný chod**).

V obecném případě by při řešení soustavy rovnic Gaussovou eliminační metodou mohly nastat tyto speciální případy:

- Některý řádek má tvar

$$\begin{array}{cccccc} i_1 & i_2 & i_3 & i_4 & i_5 & i_6 & = \\ 0 & 0 & 0 & 0 & 0 & 0 & a \end{array}$$

kde a je číslo různé od nuly. To by ovšem znamenalo, že v soustavě máme rovnici

$$0 \cdot i_1 + 0 \cdot i_2 + 0 \cdot i_3 + 0 \cdot i_4 + 0 \cdot i_5 + 0 \cdot i_6 = a$$

a tato rovnice jistě nemá řešení. Tedy v tomto případě nemá řešení celá soustava.

- V Gaussově tvaru soustavy je méně rovnic než neznámých – například pět rovnic pro šest neznámých. Potom by se za poslední proměnnou dalo dosadit libovolné číslo (např. k) a provést zpětný chod – soustava by zřejmě měla nekonečně mnoho řešení závislých na výběru čísla k .

Obecně tedy může mít soustava buď jedno, nebo žádné, nebo nekonečně mnoho řešení. V našem příkladu má soustava jedno řešení, jak se dalo očekávat z fyzikální podstaty řešeného problému.

Při řešení naší úlohy jsme zjistili, že nemusíme stále pracovat s celou soustavou rovnic, ale stačí upravovat pouze systém koeficientů a pravých stran uspořádaných do řádků a sloupců – tzv. **matici** soustavy.

Maticový zápis soustavy rovnic

Definice 2.4. Soubor

$$\begin{bmatrix} a_{11} & a_{12} & \cdots & a_{1j} & \cdots & a_{1n} \\ a_{21} & a_{22} & \cdots & a_{2j} & \cdots & a_{2n} \\ \vdots & \vdots & \ddots & \vdots & \ddots & \vdots \\ a_{i1} & a_{i2} & \cdots & a_{ij} & \cdots & a_{in} \\ \vdots & \vdots & \ddots & \vdots & \ddots & \vdots \\ a_{m1} & a_{m2} & \cdots & a_{mj} & \cdots & a_{mn} \end{bmatrix}$$

$m \cdot n$ čísel nazýváme **maticí typu (m, n)** .

Matice budeme označovat velkými tučnými tiskacími písmeny, nebo také symbolem $(a_{ij})_m^n$.

Matici typu $(1, n)$, tedy výraz

$$\mathbf{a} = [a_1 \ a_2 \ \cdots \ a_n]$$

nazýváme **řádkovým vektorem** dimenze n , matici typu $(n, 1)$, tedy výraz

$$\mathbf{x} = \begin{bmatrix} x_1 \\ x_2 \\ \vdots \\ x_n \end{bmatrix}$$

nazýváme **sloupcovým vektorem** dimenze n .

Čísla a_{ij} se nazývají **prvky matice**, index i resp. j se nazývá **řádkový** resp **sloupcový** index.

uspořádanou n -tici $(a_{i1}, a_{i2}, \dots, a_{in})$ nazýváme **i -tým řádkem** matice,

uspořádanou m -tici $(a_{1j}, a_{2j}, \dots, a_{mj})$ nazýváme **j -tým sloupcem** matice.

Matice typu (n, n) se nazývá **čtvercová**. Čtvercová matice, jejíž všechny prvky a_{ij} pro $i \neq j$ jsou rovny nule, se nazývá **diagonální**. Diagonální matice, jejíž všechny prvky a_{ij} pro $i = j$ jsou rovny jedné, se nazývá **jednotková**.

Maticím, jejich vlastnostem a operacím s nimi se budeme podrobně věnovat v kapitole 2.3, na tomto místě uvedeme pouze základní fakta potřebná k výkladu Gaussovy eliminační metody.

Definice 2.5. Mějme libovolnou soustavu m lineárních rovnic o n neznámých:

$$\begin{aligned} a_{11}x_1 + a_{12}x_2 + \cdots + a_{1n}x_n &= b_1 \\ a_{21}x_1 + a_{22}x_2 + \cdots + a_{2n}x_n &= b_2 \\ &\dots \\ a_{m1}x_1 + a_{m2}x_2 + \cdots + a_{mn}x_n &= b_m \end{aligned}$$

Označme

$$\mathbf{A} = \begin{bmatrix} a_{11} & a_{12} & \cdots & a_{1n} \\ a_{21} & a_{22} & \cdots & a_{2n} \\ \vdots & \vdots & \ddots & \vdots \\ a_{m1} & a_{m2} & \cdots & a_{mn} \end{bmatrix}, \quad \mathbf{x} = \begin{bmatrix} x_1 \\ x_2 \\ \vdots \\ x_n \end{bmatrix},$$

$$\mathbf{b} = \begin{bmatrix} b_1 \\ b_2 \\ \vdots \\ b_m \end{bmatrix}, \quad \mathbf{A}|\mathbf{b} = \left[\begin{array}{cccc|c} a_{11} & a_{12} & \cdots & a_{1n} & b_1 \\ a_{21} & a_{22} & \cdots & a_{2n} & b_2 \\ \vdots & \vdots & \ddots & \vdots & \vdots \\ a_{m1} & a_{m2} & \cdots & a_{mn} & b_m \end{array} \right].$$

Používáme následující názvy:

- \mathbf{A} – *matice soustavy*,
- \mathbf{x} – *vektor neznámých*,
- \mathbf{b} – *vektor pravých stran*,
- $\mathbf{A}|\mathbf{b}$ – *rozšířená matice soustavy*,
- $\mathbf{Ax} = \mathbf{b}$ – *maticový zápis soustavy*.

Řešením soustavy nazýváme každou uspořádanou n -tici čísel $x_1 \ x_2 \ \cdots \ x_n$, pro kterou po dosazení do soustavy je každá z rovnic soustavy splněna. Přitom může nastat v závislosti na koeficientech soustavy jedna z těchto tří možností:

- jediné řešení (jediná n -tice $x_1 \ x_2 \ \cdots \ x_n$)
- nekonečně mnoho řešení (nekonečně mnoho n -tic), nebo
- žádné řešení.

Jestliže $m = n$, pak má soustava tolik rovnic jako neznámých a mluvíme o **čtvercové soustavě** se **čtvercovou maticí**, nebo také **řádu n** .

Je-li $\mathbf{b} = \mathbf{o}$, nazývá se soustava **homogenní**.

Gaussova eliminační metoda

Gaussova eliminační metoda řešení soustavy lineárních rovnic, jak jsme již naznačili v předchozích příkladech, se zakládá na konečném počtu postupně prováděných úprav na řádcích rozšířené matice soustavy, které vedou k ekvivalentní soustavě rovnic (tj. soustavě se stejným řešením) s přehlednou maticí, jejíž řešení lze získat velmi jednoduchým způsobem.

Definice 2.6. *Elementární řádkové úpravy* rozšířené matice soustavy lineárních rovnic jsou následující tři druhy úprav:

- záměna dvou řádků; záměnu i -tého a j -tého řádku mezi sebou budeme značit $r_i \leftrightarrow r_j$
- násobení řádku reálným číslem $k \neq 0$; místo původního řádku napíšeme jeho k -násobek; budeme značit $kr_i \rightarrow r_i$

- k některému řádku se připočte k-násobek jiného řádku; značíme $r_i + kr_j \rightarrow r_i$

Řádek rozšířené matice soustavy reprezentuje jednu její rovnici, tudíž po dosazení libovolného řešení dvě reálná čísla, která se sobě rovnají. Žádná z elementárních řádkových úprav neporuší tuto rovnost; elementární řádkové úpravy vytvoří soustavu lineárních rovnic ekvivalentní s původní soustavou.

Příklad 2.7. Řešme následující soustavy rovnic

$$a) \begin{cases} 3x + 4y = 1 \\ x - 2y = 7 \end{cases} \quad b) \begin{cases} 3x + 4y = 1 \\ 6x + 8y = 2 \end{cases} \quad c) \begin{cases} 3x + 4y = 1 \\ 6x + 8y = 3 \end{cases}$$

Řešení. a) Budeme pomocí elementárních řádkových úprav upravovat rozšířenou matici soustavy

$$\mathbf{A}|\mathbf{b} = \left[\begin{array}{cc|c} 3 & 4 & 1 \\ 1 & -2 & 7 \end{array} \right]$$

a na každém řádku napíšeme i příslušnou vzniklou ekvivalentní soustavu rovnic:

$$\begin{array}{l} r_1 \leftrightarrow r_2 \quad \left[\begin{array}{cc|c} 1 & -2 & 7 \\ 3 & 4 & 1 \end{array} \right] \quad \begin{array}{l} x - 2y = 7 \\ 3x + 4y = 1 \end{array} \\ r_2 - 3r_1 \rightarrow r_2 \quad \left[\begin{array}{cc|c} 1 & -2 & 7 \\ 0 & 10 & -20 \end{array} \right] \quad \begin{array}{l} x - 2y = 7 \\ 10y = -20 \end{array} \\ \frac{r_2}{10} \rightarrow r_2 \quad \left[\begin{array}{cc|c} 1 & -2 & 7 \\ 0 & 1 & -2 \end{array} \right] \quad \begin{array}{l} x - 2y = 7 \\ y = -2 \end{array} \\ r_1 + 2r_2 \rightarrow r_1 \quad \left[\begin{array}{cc|c} 1 & 0 & 3 \\ 0 & 1 & -2 \end{array} \right] \quad \begin{array}{l} x = 3 \\ y = -2 \end{array} \end{array}$$

Soustava má jediné řešení $[x, y] = [3, -2]$.

b)

$$\left[\begin{array}{cc|c} 3 & 4 & 1 \\ 6 & 8 & 2 \end{array} \right] \quad r_2 - 2r_1 \rightarrow r_2 \quad \sim \left[\begin{array}{cc|c} 3 & 4 & 1 \\ 0 & 0 & 0 \end{array} \right]$$

Druhá rovnice soustavy se vzniklou rozšířenou maticí je splněna vždy a soustava má nekonečně mnoho řešení určených první rovnicí $3x + 4y = 1$. Řešením soustavy jsou všechny dvojice $[x, y] = \left[\frac{1-t}{3}, t \right]$ pro $t \in \mathbb{R}$ libovolné.

c) ..

$$\left[\begin{array}{cc|c} 3 & 4 & 1 \\ 6 & 8 & 2 \end{array} \right] \quad r_2 - 2r_1 \rightarrow r_2 \quad \sim \left[\begin{array}{cc|c} 3 & 4 & 1 \\ 0 & 0 & 1 \end{array} \right]$$

Druhá rovnice $0 = 1$ nemá řešení, tedy ani soustava nemá řešení.

□

Gaussova matice soustavy, redukovaná matice

Postup při řešení předcházejících příkladů můžeme zobecnit. Budeme provádět elementární řádkové úpravy rozšířené matice soustavy tak, abychom ji převedli na (ekvivalentní) matici v tzv. **Gaussově tvaru**, resp. **gaussovskou (stupňovitou) matici**.

Gaussovou maticí přitom rozumíme matici, ve které první nenulový člen každého řádku má větší sloupcový index než první nenulový člen předchozího řádku a prvky sloupce pod tímto prvním nenulovým členem jsou rovny nule.

Postup převádějící matici na Gaussův tvar se nazývá **Gaussova eliminace**.

Redukovanou maticí rozumíme matici, která má řádky následujícího tvaru:

- Každý nulový řádek (řádek, jehož prvky jsou pouze nuly) se nachází pod libovolným nenulovým řádkem (tj. řádkem, ve kterém je alespoň jeden nenulový prvek)
- První nenulový prvek v každém řádku (nenulový prvek s nejnižším sloupcovým indexem) je roven 1.
- Sloupec obsahující takový prvek 1 má všechny ostatní prvky nulové.
- Sloupcový index prvního nenulového prvku 1 v řádku je větší než sloupcový index prvního nenulového prvku 1 s menším řádkovým indexem.

Postup, kterým rozšířenou matici soustavy převedeme na redukovaný tvar, se nazývá **Gauss-Jordanova eliminace**.

Příklad 2.8. Řešme soustavu lineárních rovnic

$$\begin{aligned} 2x - 2y + z &= 3 \\ 3x + y - z &= 7 \\ x - 3y + 2z &= 0 \end{aligned}$$

pomocí úpravy rozšířené matice soustavy na redukovaný tvar.

Řešení. Rozšířená matice soustavy:

$$\left[\begin{array}{ccc|c} 2 & -2 & 1 & 3 \\ 3 & 1 & -1 & 7 \\ 1 & -3 & 2 & 0 \end{array} \right]$$

Podobně jako v předchozím příkladu zapíšeme použité elementární úpravy:

$$\begin{array}{l}
 r_1 \leftrightarrow r_3 \\
 r_2 - 3r_1 \rightarrow r_2 \\
 r_3 - 2r_1 \rightarrow r_3 \\
 \frac{r_2}{10} \rightarrow r_2 \\
 r_3 - 4r_2 \rightarrow r_3
 \end{array}
 \begin{array}{l}
 \left[\begin{array}{ccc|c} 1 & -3 & 2 & 0 \\ 3 & 1 & -1 & 7 \\ 2 & -2 & 1 & 3 \end{array} \right] \\
 \left[\begin{array}{ccc|c} 1 & -3 & 2 & 0 \\ 0 & 10 & -7 & 7 \\ 2 & -2 & 1 & 3 \end{array} \right] \\
 \left[\begin{array}{ccc|c} 1 & -3 & 2 & 0 \\ 0 & 10 & -7 & 7 \\ 0 & 4 & -3 & 3 \end{array} \right] \\
 \left[\begin{array}{ccc|c} 1 & -3 & 2 & 0 \\ 0 & 1 & -\frac{7}{10} & \frac{7}{10} \\ 0 & 4 & -3 & 3 \end{array} \right] \\
 \left[\begin{array}{ccc|c} 1 & -3 & 2 & 0 \\ 0 & 1 & -\frac{7}{10} & \frac{7}{10} \\ 0 & 0 & -\frac{1}{5} & \frac{1}{5} \end{array} \right]
 \end{array}
 \begin{array}{l}
 x - 3y + 2z = 0 \\
 3x + y - z = 7 \\
 2x - 2y + z = 3 \\
 x - 3y + 2z = 0 \\
 10y - 7z = 7 \\
 2x - 2y + z = 3 \\
 x - 3y + 2z = 0 \\
 10y - 7z = 7 \\
 4y - 3z = 3 \\
 x - 3y + 2z = 0 \\
 y - \frac{7}{10}z = \frac{7}{10} \\
 4y - 3z = 3 \\
 x - 3y + 2z = 0 \\
 y - \frac{7}{10}z = \frac{7}{10} \\
 -\frac{1}{5}z = \frac{1}{5}
 \end{array}$$

Matici soustavy jsme převedli na Gaussův tvar, z příslušné soustavy rovnic lze snadno „zpětným chodem“ neznámé vypočítat. Budeme ale pokračovat dále:

$$\begin{array}{l}
 -5r_3 \rightarrow r_3 \\
 r_2 + \frac{r_3}{7} \rightarrow r_2 \\
 r_1 - 2r_3 \rightarrow r_1 \\
 r_1 + 3r_2 \rightarrow r_1
 \end{array}
 \begin{array}{l}
 \left[\begin{array}{ccc|c} 1 & -3 & 2 & 0 \\ 0 & 1 & -\frac{7}{10} & \frac{7}{10} \\ 0 & 0 & 1 & -1 \end{array} \right] \\
 \left[\begin{array}{ccc|c} 1 & -3 & 2 & 0 \\ 0 & 1 & 0 & 0 \\ 0 & 0 & 1 & -1 \end{array} \right] \\
 \left[\begin{array}{ccc|c} 1 & -3 & 0 & 2 \\ 0 & 1 & 0 & 0 \\ 0 & 0 & 1 & -1 \end{array} \right] \\
 \left[\begin{array}{ccc|c} 1 & 0 & 0 & 2 \\ 0 & 1 & 0 & 0 \\ 0 & 0 & 1 & -1 \end{array} \right]
 \end{array}
 \begin{array}{l}
 x - 3y + 2z = 0 \\
 y - \frac{7}{10}z = \frac{7}{10} \\
 z = -1 \\
 x - 3y + 2z = 0 \\
 y = 0 \\
 z = -1 \\
 x - 3y = 2 \\
 y = 0 \\
 z = -1 \\
 x = 2 \\
 y = 0 \\
 z = -1
 \end{array}$$

Soustava rovnic příslušná poslední matici, která je v redukovaném tvaru, nám dává přímo výsledek – soustava má jediné řešení $(x, y, z) = (2, 0, -1)$. \square

Naznačíme algoritmus Gauss-Jordanovy eliminační metody (přesně je uveden v části Pro zájemce).

- (1) V rozšířené matici soustavy vyhledáme nenulový sloupec s nejmenším sloupcovým indexem a pomocí vhodných elementárních úprav (záměnou řádků, připočtením násobku jiného řádku, dělením vhodným číslem) vytvoříme v jeho prvním řádku prvek 1 (tento krok je možné vynechat).

- (2) Pomocí připočtení vhodných násobků prvního řádku vytvoříme na všech místech pod tímto prvkem samé nulové prvky.
- (3) Kroky (1),(2) budeme opakovat na matici, která vznikne vynecháním prvního řádku a prvního sloupce poslední vytvořené matice; budeme pokračovat, pokud se takový postup neukončí vyčerpáním řádků nebo sloupců.
- (4) V takto získané matici začneme posledním nenulovým řádkem a pokud není současně prvním, pak pomocí elementárních řádkových úprav vytvoříme nad prvkem 1 s nejmenším sloupcovým indexem samé nulové prvky. Budeme pokračovat po řádcích nahoru až po první řádek včetně.

Vzhledem na účel, pro který tento postup provádíme – řešení soustavy lineárních rovnic, postup ukončíme, jestliže se na kterémkoliv kroku eliminace vyskytne řádek tvaru

$$0 \quad \dots \quad 0 \quad | \quad c$$

kde $c \neq 0$, tento řádek odpovídá sporné rovnici $0 = c$ a soustava tedy nemá řešení.

Příklad 2.9. Máme najít rovnici paraboly, která prochází body $A = [1, -5]$, $B = [-2, 7]$, $C = [3, 17]$.

Řešení. Budeme hledat koeficienty a, b, c v rovnici paraboly $y = a + bx + cx^2$ tak, aby jí souřadnice daných bodů vyhovovaly – budeme řešit soustavu rovnic

$$\begin{aligned} a + b + c &= -5 \\ a - 2b + 4c &= 7 \\ a + 3b + 9c &= 17 \end{aligned}$$

Budeme řešit Gauss-Jordanovou eliminací rozšířené matice soustavy:

$$\begin{aligned} \left[\begin{array}{ccc|c} 1 & 1 & 1 & -5 \\ 1 & -2 & 4 & 7 \\ 1 & 3 & 9 & 17 \end{array} \right] & \begin{array}{l} r_2 - r_1 \rightarrow r_2 \\ r_3 - r_1 \rightarrow r_3 \\ \sim \end{array} & \left[\begin{array}{ccc|c} 1 & 1 & 1 & -5 \\ 0 & -3 & 3 & 12 \\ 0 & 2 & 8 & 22 \end{array} \right] & \begin{array}{l} -\frac{r_2}{3} \rightarrow r_2 \\ \frac{r_3}{2} \rightarrow r_3 \\ \sim \end{array} \\ \left[\begin{array}{ccc|c} 1 & 1 & 1 & -5 \\ 0 & 1 & -1 & -4 \\ 0 & 1 & 4 & 11 \end{array} \right] & \begin{array}{l} r_3 - r_2 \rightarrow r_3 \\ \sim \end{array} & \left[\begin{array}{ccc|c} 1 & 1 & 1 & -5 \\ 0 & 1 & -1 & -4 \\ 0 & 0 & 5 & 15 \end{array} \right] & \begin{array}{l} \frac{r_3}{5} \rightarrow r_3 \\ \sim \end{array} \\ \left[\begin{array}{ccc|c} 1 & 1 & 1 & -5 \\ 0 & 1 & -1 & -4 \\ 0 & 0 & 1 & 3 \end{array} \right] & \begin{array}{l} r_1 - r_3 \rightarrow r_1 \\ r_2 + r_3 \rightarrow r_2 \\ \sim \end{array} & \left[\begin{array}{ccc|c} 1 & 1 & 0 & -8 \\ 0 & 1 & 0 & -1 \\ 0 & 0 & 1 & 3 \end{array} \right] & \begin{array}{l} r_1 - r_2 \rightarrow r_1 \\ \sim \end{array} \end{aligned}$$

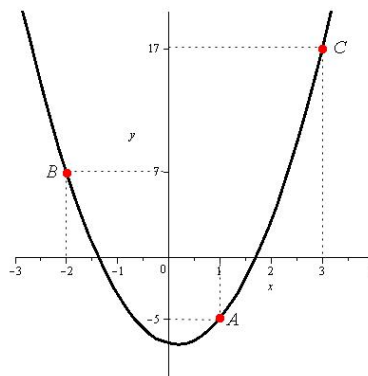
□

Příklad 2.10. Rozložte na parciální zlomky funkci

$$f(x) = \frac{3x^4 + x^3 + 2x^2 + x - 3}{(x-1)(x^2+1)^2}.$$

$$\left[\begin{array}{ccc|c} 1 & 0 & 0 & -7 \\ 0 & 1 & 0 & -1 \\ 0 & 0 & 1 & 3 \end{array} \right]$$

Poslední matice už je v redukovaném tvaru a plyne odtud $a = -7$, $b = -1$, $c = 3$ a hledaná parabola má rovnici $y = -7 - x + 3x^2$. Tato úloha se nazývá *interpolační úloha* a nalezený polynom je tzv. *interpolační polynom*. (Postup lze zobecnit a pro daných $(n + 1)$ bodů hledat interpolační polynom stupně n .)



Obr. 2.2: Obr. k příkladu 2.9

Řešení.

$$\frac{3x^4 + x^3 + 2x^2 + x - 3}{(x-1)(x^2+1)^2} = \frac{A}{x-1} + \frac{Bx+C}{x^2+1} + \frac{Dx+E}{x^2+1)^2}$$

$$3x^4 + x^3 + 2x^2 + x - 3 = x^4(A+B) + x^3(-B+C) + x^2(2A+B-C+D) + x(-B+C-D+E) + (A-C-E)$$

Porovnáním koeficientů u stejných mocnin dostaneme soustavu rovnic

$$\begin{array}{rcll} x^4: & A + B & & = 3 \\ x^3: & -B + C & & = 1 \\ x^2: & 2A + B - C + D & & = 2 \\ x^1: & -B + C - D + E & & = 1 \\ x^0: & A & - C & - E = 3 \end{array}$$

Budeme upravovat rozšířenou matici soustavy:

$$\left[\begin{array}{ccccc|c} 1 & 1 & 0 & 0 & 0 & 3 \\ 0 & -1 & 1 & 0 & 0 & 1 \\ 2 & 1 & -1 & 1 & 0 & 2 \\ 0 & -1 & 1 & -1 & 1 & 1 \\ 1 & 0 & -1 & 0 & -1 & -3 \end{array} \right] \begin{array}{l} r_3 - 2r_1 \rightarrow r_3 \\ r_5 - r_1 \rightarrow r_5 \\ \sim \end{array} \left[\begin{array}{ccccc|c} 1 & 1 & 0 & 0 & 0 & 3 \\ 0 & -1 & 1 & 0 & 0 & 1 \\ 0 & -1 & -1 & 1 & 0 & -4 \\ 0 & -1 & 1 & -1 & 1 & 1 \\ 0 & -1 & -1 & 0 & -1 & -6 \end{array} \right]$$

$$\begin{array}{l} -r_2 \rightarrow r_2 \\ r_3 - r_5 \rightarrow r_3 \\ \sim \end{array} \left[\begin{array}{ccccc|c} 1 & 1 & 0 & 0 & 0 & 3 \\ 0 & 1 & -1 & 0 & 0 & -1 \\ 0 & -1 & -1 & 1 & 0 & -4 \\ 0 & -1 & 1 & -1 & 1 & 1 \\ 0 & 0 & 0 & 1 & 1 & 2 \end{array} \right] \begin{array}{l} r_3 + r_2 \rightarrow r_3 \\ r_4 + r_2 \rightarrow r_4 \\ \sim \end{array}$$

$$\left[\begin{array}{ccccc|c} 1 & 1 & 0 & 0 & 0 & 3 \\ 0 & 1 & -1 & 0 & 0 & -1 \\ 0 & 0 & -2 & 1 & 0 & -5 \\ 0 & 0 & 0 & -1 & 1 & 0 \\ 0 & 0 & 0 & 1 & 1 & 2 \end{array} \right] \begin{array}{l} r_5 + r_4 \rightarrow r_5 \\ \sim \end{array} \left[\begin{array}{ccccc|c} 1 & 1 & 0 & 0 & 0 & 3 \\ 0 & 1 & -1 & 0 & 0 & -1 \\ 0 & 0 & -2 & 1 & 0 & -5 \\ 0 & 0 & 0 & -1 & 1 & 0 \\ 0 & 0 & 0 & 0 & 2 & 2 \end{array} \right]$$

$$\begin{array}{l} \frac{r_5}{2} \rightarrow r_5 \\ -r_4 \rightarrow r_4 \\ \sim \end{array} \left[\begin{array}{ccccc|c} 1 & 1 & 0 & 0 & 0 & 3 \\ 0 & 1 & -1 & 0 & 0 & -1 \\ 0 & 0 & -2 & 1 & 0 & -5 \\ 0 & 0 & 0 & 1 & -1 & 0 \\ 0 & 0 & 0 & 0 & 1 & 1 \end{array} \right] \begin{array}{l} r_4 + r_5 \rightarrow r_4 \\ \sim \end{array}$$

$$\left[\begin{array}{ccccc|c} 1 & 1 & 0 & 0 & 0 & 3 \\ 0 & 1 & -1 & 0 & 0 & -1 \\ 0 & 0 & -2 & 0 & 0 & -6 \\ 0 & 0 & 0 & 1 & 0 & 1 \\ 0 & 0 & 0 & 0 & 1 & 1 \end{array} \right] \begin{array}{l} -\frac{r_3}{2} \rightarrow r_3 \\ \sim \end{array} \left[\begin{array}{ccccc|c} 1 & 1 & 0 & 0 & 0 & 3 \\ 0 & 1 & -1 & 0 & 0 & -1 \\ 0 & 0 & 1 & 0 & 0 & 3 \\ 0 & 0 & 0 & 1 & 0 & 1 \\ 0 & 0 & 0 & 0 & 1 & 1 \end{array} \right]$$

$$\begin{array}{l} r_2 + r_3 \rightarrow r_2 \\ \sim \end{array} \left[\begin{array}{ccccc|c} 1 & 1 & 0 & 0 & 0 & 3 \\ 0 & 1 & 0 & 0 & 0 & 2 \\ 0 & 0 & 1 & 0 & 0 & 3 \\ 0 & 0 & 0 & 1 & 0 & 1 \\ 0 & 0 & 0 & 0 & 1 & 1 \end{array} \right] \begin{array}{l} r_1 - r_2 \rightarrow r_1 \\ \sim \end{array} \left[\begin{array}{ccccc|c} 1 & 0 & 0 & 0 & 0 & 1 \\ 0 & 1 & 0 & 0 & 0 & 2 \\ 0 & 0 & 1 & 0 & 0 & 3 \\ 0 & 0 & 0 & 1 & 0 & 1 \\ 0 & 0 & 0 & 0 & 1 & 1 \end{array} \right]$$

Dostáváme $A = 1, B = 2, C = 3, D = 1, E = 1$, tedy

$$\frac{3x^4 + x^3 + 2x^2 + x - 3}{(x-1)(x^2+1)^2} = \frac{1}{x-1} + \frac{2x+3}{x^2+1} + \frac{x+1}{(x^2+1)^2}.$$

□

K řešení jednoduchých soustav lineárních rovnic lze použít [tento Maplet](#).

Poznámka o zaokrouhlovacích chybách a špatně podmíněných soustavách

V této části si povšimneme soustav rovnic z hlediska numerického:

Soustavy rovnic, které vycházejí z praxe, obvykle řešíme s využitím počítače (nebo alespoň na kalkulačce). Při těchto výpočtech jsou vstupující čísla pochopitelně zaokrouhlovány na nějaký konečný počet platných cifer a tím vznikají **zaokrouhlovací chyby**. Přitom předpokládáme (nebo doufáme), že takové malé změny vedou k výsledkům s malou chybou. Například soustava

$$\begin{array}{rcl} x + & y & = 2 \\ x - & 1,014y & = 0 \end{array}$$

má řešení $x \doteq 1,007$, $y \doteq 0,993$, zatímco řešení soustavy, kterou dostaneme zaokrouhlením na dvě desetinná místa:

$$\begin{array}{rcl} x + & y & = 2 \\ x - & 1,01y & = 0 \end{array}$$

je velmi „podobné“: $x \doteq 1,005$, $y \doteq 0,995$.

Naproti tomu soustava

$$\begin{aligned}x + y &= 2 \\x + 1,014y &= 0\end{aligned}$$

má řešení $x \doteq 144,9$ $y \doteq -142,9$, zatímco řešení „zaokrouhlené soustavy“

$$\begin{aligned}x + y &= 2 \\x + 1,01y &= 0\end{aligned}$$

je $x \doteq 202$ $y \doteq -200$.

Poslední soustava je příkladem tzv. **špatně podmíněné soustavy**, kdy malá změna v koeficientech soustavy vede k velké změně řešení.

Shrnutí

- pojem matice typu (m, n) : obdélníkové schéma $m \times n$ čísel (prvků matice) a_{ij} , $i = 1, 2, \dots, m$, $j = 1, 2, \dots, n$, uspořádaných do m řádků a n sloupců,
- řádkový resp. sloupcový vektor: matice typu $(1, n)$ resp. matice typu $(n, 1)$,
- a pojmy související se soustavou lineárních rovnic:
 - matice soustavy: matice sestavená z koeficientů levých stran rovnic v soustavě,
 - vektor neznámých a vektor pravých stran,
 - rozšířená matice soustavy: matice soustavy rozšířená o jeden sloupec tvořený vektorem pravých stran rovnic soustavy.
- zápis soustavy v maticovém tvaru $\mathbf{Ax} = \mathbf{b}$;
- Gaussova eliminační metoda řešení soustav rovnic: konečný počet elementárních řádkových úprav rozšířené matice soustavy, které vedou k ekvivalentní soustavě rovnic (tj. soustavě se stejným řešením) s přehlednou maticí, jejíž řešení lze získat velmi jednoduchým způsobem,
- elementární řádkové úpravy rozšířené matice soustavy lineárních rovnic: následující tři druhy úprav:
 - záměna dvou řádků;
 - násobení řádku reálným číslem $k \neq 0$;
 - k některému řádku se připočte k -násobek jiného řádku.

Otázky a úkoly

1. Co je to maticový zápis soustavy lineárních rovnic?
2. Co je to matice soustavy, rozšířená matice soustavy?
3. Ohodnoťte následující úryvky ze studentských prací:

a) „Je-li dán systém rovnic

$$\begin{aligned}x_1 - 2x_2 &= 0 \\ 2x_1 - 4x_2 &= 0\end{aligned}$$

odečteme dvojnásobek první rovnice od druhé a $1/2$ -násobek druhé rovnice od první. Touto Gaussovou eliminací dostaneme ekvivalentní systém $0 = 0$ a $0 = 0$, a tím dvouparametrický systém řešení $x_1 = a$ (libovolné), $x_2 = b$ (libovolné).“

b) „Je-li dán systém rovnic

$$\begin{aligned}x_1 + x_2 - 4x_3 &= 0 \\ 2x_1 - x_2 + x_3 &= 0\end{aligned}$$

protože se obě levé strany rovnají nule, rovnají se. Dostáváme tedy rovnici

$$x_1 + x_2 - 4x_3 = 2x_1 - x_2 + x_3,$$

která je ekvivalentní se zadaným systémem.“

Kde jsou chyby?

4. Co je to řešení soustavy m lineárních rovnic o n neznámých?
5. Soustavu dvou lineárních rovnic o dvou neznámých můžeme interpretovat graficky jako dvě přímky v rovině. Na posledním příkladu této kapitoly naznačte, co znamená graficky špatná podmíněnost soustavy.

Cvičení

1. Následující soustavy rovnic řešte v maticovém tvaru Gaussovou eliminační metodou. Každý krok popište.

| | |
|---|---|
| <p>a) $2x-3y=1$ $5x+y=2$</p> | <p>b) $2x+y=0$ $3x-2y=0$</p> |
| <p>c) $x+2y=4$</p> | <p>d) $x-y+z=1$ $2x-y-z=8$</p> |
| <p>e) $2x_1-x_2-x_3-5x_4=6$</p> | <p>f) $2x_1-x_2-x_3-3x_4=0$ $x_1-x_2+4x_3=2$</p> |
| <p>g) $x+2y+3z=4$ $5x+6y+7z=8$ $9x+10y+11z=12$</p> | <p>h) $x_1+x_2-2x_3=3$ $x_1-x_2-3x_3=1$ $x_1-3x_2-4x_3=-1$</p> |
| <p>i) $2x_1-x_2=6$ $3x_1+2x_2=4$ $x_1+10x_2=-12$ $6x_1+11x_2=-2$</p> | <p>j) $x_1-x_2+2x_3+x_4=-1$ $2x_1+x_2+x_3-x_4=4$ $x_1+2x_2-x_3-2x_4=5$ $x_1+x_3=1$</p> |
| <p>k) $x_1+x_3=1$ $x_1+2x_2-x_3-2x_4=5$ $x_1-x_2+2x_3+x_4=0$ $2x_1+x_2+x_3-x_4=4$</p> | <p>l) $x_3+x_4=2$ $4x_2-x_3+x_4=0$ $x_1-x_2+2x_3+x_4=4$</p> |
| <p>m) $2x+y+z=10$ $3x+y-z=6$ $x-2y-4z=-10$</p> | <p>n) $2x_1+x_2=1$ $x_1+2x_2+x_3=1$ $x_2+2x_3+x_4=1$ $x_3+2x_4=1$</p> |
| <p>o) $2x_1+x_2=0$ $x_1+2x_2+x_3=-1$ $x_2+2x_3=-4$</p> | <p>p) $2x_1+x_2+x_4+2x_5=0$ $x_1+x_2-x_3=0$ $x_1+x_2+x_3-3x_4+2x_5=0$ $2x_1+2x_2-x_3+x_5=0$</p> |

2. Čtyřciferné číslo má ciferný součet 20. Součet jeho posledních dvou cifer je roven druhé cifře zvětšené o 5, součet krajních cifer se rovná druhé cifře zmenšené o 3. Jestliže cifry tohoto čísla napíšeme v opačném pořadí, číslo se zvětší o 2178. Najděte toto číslo.
3. Jestliže jednu stranu trojúhelníka zvětšíme o 11 cm a druhou o totéž zmenšíme, dostaneme rovnostranný trojúhelník. Jestliže první stranu vynásobíme čtyřmi, bude o 10 cm větší než trojnásobek třetí strany. Zjistěte, jak velké jsou strany trojúhelníka.
4. Jestliže se jeden rozměr kvádra zvětší o 1 cm, povrch kvádra se zvětší o 54 cm². Jestliže se druhý rozměr kvádra zvětší o 2 cm, povrch kvádra se zvětší o 96 cm². Jestliže se třetí rozměr kvádra zvětší o 3 cm, povrch kvádra se zvětší o 126 cm². Určete rozměry kvádra.
5. Na koupališti je 5500 lidí. Žen je dvakrát tolik jako mužů a dětí čtyřikrát tolik jako žen. Kolik je mužů, žen a dětí?

6. Kyselina sírová se skládá z vodíku, síry a kyslíku, přičemž poměr hmot vodíku a síry je 1:16 a poměr hmot kyslíku a síry je 2:1. Kolik každého prvku obsahuje 1323 g kyseliny?
7. Řemeslník má čtyři různé slitiny, které obsahují cín, olovo, vizmut a kadmium. První slitina obsahuje 20 kg cínu a 10 kg olova (cínová pájka), druhá slitina obsahuje 6 kg cínu a 12 kg olova (olověná pájka), třetí obsahuje 10,5 kg vizmutu, 6,4 kg olova a 3,1 kg cínu (vizmut – Roseův kov). Poslední slitina obsahuje 10 kg vizmutu, 5 kg olova, 2,5 kg kadmia a 2,5 kg cínu. Jaké množství každé slitiny je třeba použít k přípravě slitiny, která by obsahovala 81 kg vizmutu, 75 kg olova, 15 kg kadmia a 40 kg cínu?

Výsledky

1. a) $\frac{1}{17}(7, -1)$, b) $(0, 0)$, c) $(4 - 2t, t)$, d) $(7 + 2t, 6 + 3t, t)$, e) $(t, 2t - s - 5u - 6, s, u)$, f) $(2 + t - 4s, t, s, \frac{1}{3}(2 - 5s))$, g) $(t - 2, 3 - 2t, t)$, h) $(7 - 5t, t, 2 - 2t)$, i) $\frac{1}{7}(16, -10)$, j) $(1 - t, 2 + t + s, t, s)$, k) nemá řeš., l) $(1 - t, t, 1 + 2t, 1 - 2t)$, m) $\frac{1}{4}(14, -3, 15)$, n) $\frac{1}{5}(2, 1, 1, 2)$, o) $\frac{1}{2}(-1, 2, -5)$, p) $(-t, 0, -t, 0, t)$;
 2. 1793;
 3. 43cm, 54cm, 65cm;
 4. 9, 12, 15;
 5. 500 mužů, 1000 žen, 4000 dětí;
 6. 27g vodíku, 432 g síry, 864 g kyslíku;
 7. $\frac{9}{50}$ kg, $\frac{38}{15}$ kg, 2kg, 6kg.

2.2 Aritmetické vektory

Nejdříve si všimneme „jednořádkového schématu“, tedy uspořádané n -tice čísel; zavedeme mezi nimi aritmetické operace, analogické operacím s čísly, a budeme studovat další jejich vlastnosti.

Základní pojmy, aritmetické operace

Definice 2.11. Nechť n je nějaké přirozené číslo.

Uspořádanou n -tici reálných čísel $\mathbf{a} = (a_1, a_2, a_3, \dots, a_n)$ nazýváme n -rozměrným **aritmetickým vektorem**.

Číslo $a_i, i = 1, \dots, n$ se nazývá **i -tá složka** vektoru \mathbf{a} .

O dvou vektorech \mathbf{a}, \mathbf{b} říkáme, že se **rovnají** a píšeme $\mathbf{a} = \mathbf{b}$, právě když se rovnají jejich odpovídající si složky, tedy když platí $a_i = b_i \forall i$.

Součtem $\mathbf{a} + \mathbf{b}$ dvou n -rozměrných vektorů o složkách a_i, b_i nazýváme vektor \mathbf{c} o složkách $c_i = a_i + b_i \forall i$.

Součinem $\alpha \mathbf{a}$ reálného čísla α s n -rozměrným vektorem \mathbf{a} o složkách a_i nazýváme vektor \mathbf{d} o složkách $d_i = \alpha a_i, i = 1, \dots, n$.

Vektor, jehož všechny složky jsou rovny nule, nazýváme **nulovým vektorem** a značíme \mathbf{o} .

Místo $(-1)\mathbf{a}$ píšeme $-\mathbf{a}$ a místo $\mathbf{a} + (-\mathbf{b})$ píšeme $\mathbf{a} - \mathbf{b}$ a tento vektor nazýváme **rozdílem vektorů \mathbf{a}, \mathbf{b}** .

Množinu všech reálných n -rozměrných aritmetických vektorů, v níž jsou definovány uvedené operace sečítání a násobení číslem, nazýváme **n -rozměrným aritmetickým vektorovým prostorem \mathcal{V}_n nad oborem reálných čísel**.

Snadno prověříme následující tvrzení:

Věta 2.12. Pro operace v aritmetickém vektorovém prostoru platí následující pravidla:

1. $\mathbf{a} + \mathbf{b} = \mathbf{b} + \mathbf{a}$, $(\mathbf{a} + \mathbf{b}) + \mathbf{c} = \mathbf{a} + (\mathbf{b} + \mathbf{c})$ (komutativita a asociativita sečítání)
2. existuje takový vektor \mathbf{o} (je to nulový vektor), že $\mathbf{a} + \mathbf{o} = \mathbf{a}$
3. $\alpha(\mathbf{a} + \mathbf{b}) = \alpha\mathbf{a} + \alpha\mathbf{b}$
 $(\alpha + \beta)\mathbf{a} = \alpha\mathbf{a} + \beta\mathbf{a}$ (distributivita násobení číslem)
4. $\alpha(\beta\mathbf{a}) = (\alpha\beta)\mathbf{a}$, $0\mathbf{a} = \mathbf{o}$, $\alpha\mathbf{o} = \mathbf{o}$
5. rovnost $\alpha\mathbf{a} = \mathbf{o}$ nastane, právě když $\alpha = 0$ nebo když $\mathbf{a} = \mathbf{o}$
6. $-(\alpha\mathbf{a}) = (-\alpha)\mathbf{a} = \alpha(-\mathbf{a})$

Důkaz 2.2 věty naleznete v části **Pro zájemce** na konci kapitoly.

Definice 2.13. 1. **Skalárním součinem** $\mathbf{u} \cdot \mathbf{v}$ dvou n -rozměrných vektorů o složkách u_i, v_i , $i = 1, 2, \dots, n$, nazýváme číslo definované vztahem

$$\mathbf{u} \cdot \mathbf{v} = u_1v_1 + u_2v_2 + \dots + u_nv_n.$$

2. Platí-li pro $\mathbf{u}, \mathbf{v} \in \mathcal{V}_n$: $\mathbf{u} \cdot \mathbf{v} = 0$, řekneme, že \mathbf{u} a \mathbf{v} jsou **ortogonální**. (Jedná se o zobecnění pojmu „kolmost“.)
3. Systém vektorů $\mathbf{u}_1, \mathbf{u}_2, \dots, \mathbf{u}_k \in \mathcal{V}_n$ se nazývá **ortogonální systém vektorů**, jsou-li tyto vektory po dvou ortogonální. Platí-li navíc $\mathbf{u}_i \cdot \mathbf{u}_i = 1 \forall i$, říkáme, že systém je **ortonormální**.

Příklad 2.14. a) Nechť $\mathbf{a} = (1, 0, -2)$, $\mathbf{b} = (3, 2, 0)$. Potom

$$\mathbf{a} + \mathbf{b} = (4, 2, -2), \quad 3\mathbf{a} = (3, 0, -6) \quad \text{a} \quad \mathbf{a} \cdot \mathbf{b} = 3.$$

- b) Systém vektorů $\{\mathbf{i}, \mathbf{j}, \mathbf{k}\}$, kde $\mathbf{i} = (1, 0, 0)$, $\mathbf{j} = (0, 1, 0)$, $\mathbf{k} = (0, 0, 1)$, tvoří zřejmě ortonormální systém vektorů.

Vektory ve fyzice, geometrická reprezentace

Obvykle se poprvé setkáme s pojmem vektoru v nějakém fyzikálním kontextu – při studiu mechaniky, elektrických a magnetických polí atp. Zde se studují vektory v dvoj- a troj-dimenzionálním prostoru a odpovídají síle, rychlosti, pozici částice atd. Mají jednak velikost, jednak směr; mohou být zvětšovány (zmenšovány) pomocí multiplikativního faktoru, sečítány pomocí rovnoběžníkového pravidla; mezi vektory je definován skalární a vektorový součin atd.

Určující charakteristiky fyzikálního vektoru – velikost a směr – motivují jeho reprezentaci pomocí orientované úsečky, nebo „šipky“, kde její délka určuje velikost vektoru; povšimněme si, že umístění vektoru zde není specifikováno.

Pro geometrickou interpretaci uvažujme trojrozměrný vektorový prostor – všechny uspořádané trojice reálných čísel – a intuitivně jej chápeme jako prostor bodů v prostoru, kde složky trojice udávají souřadnice bodu v některé souřadné soustavě. Fyzikální vektor $\mathbf{v} = (v_1, v_2, v_3)$ potom bude systém všech orientovaných úseček, které jsou rovnoběžné a stejně dlouhé jako orientovaná úsečka s počátečním bodem v počátku zvolené souřadné soustavy a s koncovým bodem v bodě o souřadnicích $[v_1, v_2, v_3]$.

Lineární závislost, báze, souřadnice vektoru

Definice 2.15. • Řekneme, že vektor $\mathbf{a} \in \mathcal{V}_n$ je *lineární kombinací* vektorů $\mathbf{a}_1, \mathbf{a}_2, \dots, \mathbf{a}_k$ z \mathcal{V}_n , existují-li taková čísla $\alpha_1, \alpha_2, \dots, \alpha_k$, že platí

$$\mathbf{a} = \alpha_1 \mathbf{a}_1 + \alpha_2 \mathbf{a}_2 + \dots + \alpha_k \mathbf{a}_k.$$

- Řekneme, že vektory $\mathbf{a}_1, \mathbf{a}_2, \dots, \mathbf{a}_k$ z \mathcal{V}_n jsou *lineárně závislé*, jestliže alespoň jeden z nich je lineární kombinací ostatních. Nejsou-li vektory $\mathbf{a}_1, \mathbf{a}_2, \dots, \mathbf{a}_k$ z \mathcal{V}_n lineárně závislé, potom říkáme, že jsou *lineárně nezávislé*.

V předchozí definici jsme nepředpokládali nenulovost čísel $\alpha_1, \alpha_2, \dots, \alpha_k$, tedy některá z nich, nebo dokonce všechna tato čísla mohou být rovna nule.

Tedy zřejmě libovolná k -tice vektorů obsahující nulový vektor je pro $k > 1$ lineárně závislá; pro úplnost dodefinujeme tento pojem i na případ $k = 1$ – jeden vektor \mathbf{o} budeme považovat za lineárně závislý.

Příklad 2.16. Nechť $\mathbf{a} = (3, 1, 0)$, $\mathbf{b} = (-1, 0, 2)$, $\mathbf{c} = (7, 2, -2)$.

Vektory $\mathbf{a}, \mathbf{b}, \mathbf{c}$ jsou lineárně závislé, protože $\mathbf{c} = 2\mathbf{a} - \mathbf{b}$.

Naproti tomu vektory $\mathbf{e}_1 = (1, 0, 0)$, $\mathbf{e}_2 = (0, 1, 0)$, $\mathbf{e}_3 = (0, 0, 1)$ jsou zřejmě lineárně nezávislé.

Snadno ukážeme, že platí následující věta:

Věta 2.17. Vektory $\mathbf{a}_1, \mathbf{a}_2, \dots, \mathbf{a}_k$ z \mathcal{V}_n jsou lineárně závislé, právě když existují čísla $\beta_1, \beta_2, \dots, \beta_k$ taková, že alespoň jedno z nich je různé od nuly a platí $\beta_1 \mathbf{a}_1 + \beta_2 \mathbf{a}_2 + \dots + \beta_k \mathbf{a}_k = \mathbf{o}$.

Důkaz 2.2 věty naleznete v části **Pro zájemce** na konci kapitoly.

Definice 2.18. Libovolnou uspořádanou n -tici $(\mathbf{a}_1, \mathbf{a}_2, \dots, \mathbf{a}_n)$ tvořenou n lineárně nezávislými vektory z \mathcal{V}_n nazýváme **bází vektorového prostoru** \mathcal{V}_n .

Nejjednodušší takovou bází je systém vektorů $(\mathbf{e}_1, \mathbf{e}_2, \dots, \mathbf{e}_n)$, kde

$$\mathbf{e}_1 = (1, 0, \dots, 0), \mathbf{e}_2 = (0, 1, 0, \dots, 0), \dots, \mathbf{e}_n = (0, 0, \dots, 0, 1),$$

tedy vektory \mathbf{e}_i jsou dány uspořádanými n -ticemi $(0, \dots, 0, 1, 0, \dots, 0)$, kde 1 je na i -tém místě. Tato báze se nazývá **kanonická**.

Vektory kanonické báze tvoří lineárně nezávislý systém; utvoříme-li jejich libovolnou lineární kombinaci $\alpha_1 \mathbf{e}_1 + \alpha_2 \mathbf{e}_2 + \dots + \alpha_n \mathbf{e}_n$, dostaneme vektor $(\alpha_1, \alpha_2, \dots, \alpha_n)$, který je roven nulovému vektoru pouze v případě $\alpha_1 = \alpha_2 = \dots = \alpha_n = 0$ a to podle věty 2.17 znamená, že dané vektory jsou lineárně nezávislé.

Existují samozřejmě i jiné báze než kanonická:

Příklad 2.19. Ukážeme, že systém vektorů

$$B = (\mathbf{v}_1, \mathbf{v}_2, \mathbf{v}_3), \quad \text{kde } \mathbf{v}_1 = (1, 1, 1), \mathbf{v}_2 = (0, 1, 1), \mathbf{v}_3 = (0, 0, 1),$$

tvoří bázi aritmetického vektorového prostoru \mathcal{V}_3 .

Řešení. Protože $n = 3$ a vektory jsou tři, stačí prověřit jejich lineární nezávislost. Předpokládejme, že existují čísla a, b, c , která nejsou současně všechna rovna nule, tak že platí $a \mathbf{v}_1 + b \mathbf{v}_2 + c \mathbf{v}_3 = \mathbf{o}$, tedy

$$a(1, 1, 1) + b(0, 1, 1) + c(0, 0, 1) = (a, a + b, a + b + c) = (0, 0, 0).$$

Uspořádané trojice čísel nalevo i napravo poslední rovnosti se musí rovnat, tedy platí

$$\begin{aligned} a &= 0 \\ a + b &= 0 \\ a + b + c &= 0 \end{aligned} \quad \Rightarrow \quad a = b = c = 0 \quad \Rightarrow$$

dané vektory jsou lineárně nezávislé, tvoří bázi aritmetického vektorového prostoru \mathcal{V}_3 . \square

Důležitost existence báze v aritmetickém vektorovém prostoru ukazuje následující věta:

Věta 2.20. *Nechť $(\mathbf{a}_1, \mathbf{a}_2, \dots, \mathbf{a}_n)$ je libovolná báze vektorového prostoru \mathcal{V}_n . Potom každý vektor \mathbf{a} z prostoru \mathcal{V}_n je lineární kombinací vektorů z této báze, tj. existují čísla $\alpha_1, \alpha_2, \dots, \alpha_n$ taková, že platí*

$$\mathbf{a} = \alpha_1 \mathbf{a}_1 + \alpha_2 \mathbf{a}_2 + \dots + \alpha_n \mathbf{a}_n.$$

Důkaz věty bude triviální až se seznámíme s analýzou řešitelnosti soustav lineárních rovnic.

Definice 2.21. Čísla $\alpha_1, \alpha_2, \dots, \alpha_n$ z věty 2.20 se nazývají **souřadnice vektoru \mathbf{a} vzhledem k bázi $(\mathbf{a}_1, \mathbf{a}_2, \dots, \mathbf{a}_n)$** .

V případě kanonické báze je zřejmá i -tá souřadnice daného vektoru $\mathbf{a} = (a_1, a_2, \dots, a_n)$ právě číslo a_i .

Příklad 2.22. Najděme souřadnice vektoru $\mathbf{a} = (1, 2, -1)$ vzhledem k bázi B z příkladu 2.19.

Řešení. Hledáme čísla a, b, c pro která platí

$$\mathbf{a} = (1, 2, -1) = a(1, 1, 1) + b(0, 1, 1) + c(0, 0, 1).$$

Hledaná čísla budou řešením soustavy

$$\begin{aligned} a &= 1 \\ a + b &= 2 \\ a + b + c &= -1 \end{aligned} \quad \Rightarrow \quad a = 1, b = 1, c = -3.$$

Píšeme $\mathbf{a}_B = (1, 1, -3)$. □

Hodnost systému vektorů

V dalším textu, při studiu matic a determinantů, budeme pomocí jistých „transformací“ převádět systém vektorů (řádky matice) na jiný, jednodušší, přičemž budeme požadovat zachování vlastností systému z hlediska lineární nezávislosti. Proto uvedeme ještě následující definici:

Definice 2.23. Nechť jsou dány dva systémy vektorů z \mathcal{V}_n :

$$M = \{\mathbf{u}_1, \mathbf{u}_2, \dots, \mathbf{u}_k\}, M' = \{\mathbf{u}'_1, \mathbf{u}'_2, \dots, \mathbf{u}'_k\}.$$

Řekneme, že M' vznikne z M **elementární transformací**, jestliže existuje index i tak, že pro $j \neq i$ je $\mathbf{u}_j = \mathbf{u}'_j$ a dále platí jedna z následujících možností:

- $\exists \alpha \neq 0$ tak, že platí $\mathbf{u}'_i = \alpha \mathbf{u}_i$ – vynásobení jednoho vektoru nenulovým číslem;
- $\exists k \neq i$ tak, že platí $\mathbf{u}'_i = \mathbf{u}_i + \mathbf{u}_k$ – připočtení jiného vektoru k danému.

Věta 2.24. *Budte $M = \{\mathbf{u}_1, \mathbf{u}_2, \dots, \mathbf{u}_k\}$, $M' = \{\mathbf{u}'_1, \mathbf{u}'_2, \dots, \mathbf{u}'_k\}$ dva systémy vektorů z \mathcal{V}_n a necht' M' vznikne z M konečným počtem elementárních transformací. Potom vektory z M' jsou lineárně nezávislé, právě když vektory z M jsou lineárně nezávislé.*

Důkaz 2.2 věty naleznete v části **Pro zájemce** na konci kapitoly.

Definice 2.25. Necht' je dán systém $\{\mathbf{a}_1, \mathbf{a}_2, \dots, \mathbf{a}_n\}$ libovolných vektorů z \mathcal{V}_n . Jestliže v systému existuje h lineárně nezávislých vektorů a ne více, potom číslo h nazýváme **hodností systému**.

Příklad 2.26. Hodnost systému vektorů $\mathbf{a}, \mathbf{b}, \mathbf{c}$, kde

$$\mathbf{a} = (3, 1, 0), \mathbf{b} = (-1, 0, 2), \mathbf{c} = (7, 2, -2),$$

je rovna dvěma, protože vektory \mathbf{a}, \mathbf{b} jsou lineárně nezávislé, zatímco (jak již víme, viz příklad 2.16) vektory $\mathbf{a}, \mathbf{b}, \mathbf{c}$ jsou lineárně závislé.

Pro zájemce

Důkaz věty o aritmetických operacích s vektory se provede využitím vlastností operací s čísly; např:

1. Necht' $\mathbf{a} = (a_1, a_2, \dots, a_n)$, $\mathbf{b} = (b_1, b_2, \dots, b_n)$. Potom $\mathbf{a} + \mathbf{b} = (a_1 + b_1, a_2 + b_2, \dots, a_n + b_n) = (b_1 + a_1, b_2 + a_2, \dots, b_n + a_n) = \mathbf{b} + \mathbf{a}$, protože výraz $a_k + b_k$ je součet čísel, pro který platí komutativní zákon. Analogicky budeme postupovat při důkazu platnosti asociativního zákona pro součet aritmetických vektorů využitím asociativního zákona pro součet čísel – jednotlivých souřadnic.

2. Necht' $\mathbf{o} = (o_1, o_2, \dots, o_n)$. Potom platí

$$\mathbf{a} + \mathbf{o} = \mathbf{a} \Leftrightarrow (a_1 + o_1, a_2 + o_2, \dots, a_n + o_n) = (a_1, a_2, \dots, a_n) \Leftrightarrow$$

$$a_1 + o_1 = a_1, a_2 + o_2 = a_2, \dots, a_n + o_n = a_n \Rightarrow o_1 = o_2 = \dots = o_n = 0,$$

tedy \mathbf{o} je nulový vektor.

Zbylé části věty dokažte podobně jako cvičení.

Důkaz věty 2.17 Necht' jsou vektory $\mathbf{a}_1, \mathbf{a}_2, \dots, \mathbf{a}_k$ lineárně závislé. Pro $k = 1$ je $\mathbf{a}_1 = \mathbf{o}$ a to je závislý vektor. Necht' $k > 1$. Podle definice je jeden z nich lineární kombinací ostatních; necht' je to např. \mathbf{a}_1 . Tedy

$$\mathbf{a}_1 = \alpha_2 \mathbf{a}_2 + \dots + \alpha_k \mathbf{a}_k \Leftrightarrow -\mathbf{a}_1 + \alpha_2 \mathbf{a}_2 + \dots + \alpha_k \mathbf{a}_k = \mathbf{o}.$$

Stačí tedy položit $\alpha_i = \beta_i$ pro $i \neq 1$, $\beta_1 = -1$.

Opačné tvrzení se dokáže analogicky; proveďte jako cvičení.

Důkaz věty 2.24 provedeme pro případ tří vektorů $A = \{\mathbf{u}, \mathbf{v}, \mathbf{w}\}$, při obecném počtu by postup byl analogický, ovšem zápis nepřehledný. Postup lze zobecnit matematickou indukcí.

1. Necht' systém A je lineárně nezávislý, tedy $a \mathbf{u} + b \mathbf{v} + c \mathbf{w} = \mathbf{o} \Leftrightarrow a = 0 \wedge b = 0 \wedge c = 0$.

- a) Uvažujme systém $A' = \{\mathbf{u}', \mathbf{v}', \mathbf{w}'\}$, kde $\mathbf{u}' = \alpha \mathbf{u}$, $\alpha \neq 0$, $\mathbf{v}' = \mathbf{v}$, $\mathbf{w}' = \mathbf{w}$, a předpokládejme, že A' je lineárně závislý systém. Existují tedy taková čísla a' , b' , c' , která nejsou vesměs nulová, že platí $a' \mathbf{u}' + b' \mathbf{v}' + c' \mathbf{w}' = \mathbf{o}$. Ale

$$a' \mathbf{u}' + b' \mathbf{v}' + c' \mathbf{w}' = a' \alpha \mathbf{u} + b' \mathbf{v} + c' \mathbf{w} = \mathbf{o} \quad a' \alpha = 0 \wedge b' = 0 \wedge c' = 0 \quad (\alpha \neq 0),$$

protože systém A je lineárně nezávislý, tedy musí platit $a' = 0 \wedge b' = 0 \wedge c' = 0$ a to je spor s předpokladem A' je lineárně závislý.

- b) Uvažujme systém $A' = \{\mathbf{u}', \mathbf{v}', \mathbf{w}'\}$, kde $\mathbf{u}' = \mathbf{u} + \mathbf{v}$, $\mathbf{v}' = \mathbf{v}$, $\mathbf{w}' = \mathbf{w}$ a předpokládejme, že A' je lineárně závislý systém. Existují tedy taková čísla a' , b' , c' , která nejsou vesměs nulová, že platí $a' \mathbf{u}' + b' \mathbf{v}' + c' \mathbf{w}' = \mathbf{o}$. Ale

$$a' \mathbf{u}' + b' \mathbf{v}' + c' \mathbf{w}' = a' (\mathbf{u} + \mathbf{v}) + b' \mathbf{v} + c' \mathbf{w} = a' \mathbf{u} + (a' + b') \mathbf{v} + c' \mathbf{w} = \mathbf{o}$$

$$a' = 0 \wedge a' + b' = 0 \wedge c' = 0,$$

protože systém A je lineárně nezávislý, tedy musí platit $a' = 0 \wedge b' = 0 \wedge c' = 0$ a to je spor s předpokladem A' je lineárně závislý.

2. Nechť systém A je lineárně závislý, tedy jeden z vektorů systému lze vyjádřit jako lineární kombinaci zbývajících. Nechť např. $\mathbf{w} = a \mathbf{u} + b \mathbf{v}$.

- a) Uvažujme systém $A' = \{\mathbf{u}', \mathbf{v}', \mathbf{w}'\}$, kde $\mathbf{u}' = \alpha \mathbf{u}$, $\alpha \neq 0$, $\mathbf{v}' = \mathbf{v}$, $\mathbf{w}' = \mathbf{w}$. Potom

$$\mathbf{w}' = \mathbf{w} = a \mathbf{u} + b \mathbf{v} = a \frac{1}{\alpha} \mathbf{u}' + b \mathbf{v}' \quad \Rightarrow$$

systém A' tvoří lineárně závislé vektory.

- b) Uvažujme systém $A' = \{\mathbf{u}', \mathbf{v}', \mathbf{w}'\}$, kde $\mathbf{u}' = \mathbf{u} + \mathbf{v}$, $\mathbf{v}' = \mathbf{v}$, $\mathbf{w}' = \mathbf{w}$. Potom

$$\mathbf{w}' = \mathbf{w} = a \mathbf{u} + b \mathbf{v} = a \mathbf{u}' - \mathbf{v}' + b \mathbf{v}' = a \mathbf{u}' + (b - a) \mathbf{v}' \quad \Rightarrow$$

systém A' tvoří lineárně závislé vektory.

Shrnutí

V tomto odstavci jsme zavedli pojmy:

- n -rozměrný aritmetický vektor: uspořádaná n -tice reálných čísel,
- součet vektorů a součin vektoru s číslem: provádí se po složkách,
- aritmetický vektorový prostor: množina všech n -rozměrných aritmetických vektorů s operacemi součtu a násobení číslem,
- skalární součin dvou vektorů: číslo, pro které platí $\mathbf{u} \cdot \mathbf{v} = \sum_{i=1}^n u_i v_i$,
- lineární kombinace vektorů: $\alpha_1 \mathbf{a}_1 + \alpha_2 \mathbf{a}_2 + \dots + \alpha_k \mathbf{a}_k$, $\mathbf{a}_i \in \mathcal{V}_n$, $\alpha_i \in \mathbb{R}$, $i = 1, \dots, k$,
- lineární závislost resp. nezávislost vektorů: systém vektorů je závislý, můžeme-li jeden z těchto vektorů vyjádřit jako lineární kombinaci ostatních; je nezávislý, není-li závislý,
- báze vektorového prostoru \mathcal{V}_n : uspořádaná n -tice lineárně nezávislých vektorů,
- souřadnice vektoru vzhledem k bázi: koeficienty v té lineární kombinaci vektorů báze, která je rovna danému vektoru,
- podprostor: podmnožina uzavřená k operacím součtu vektorů a násobení číslem,
- dimenze: maximální počet lineárně nezávislých vektorů,
- lineární obal množiny: nejmenší vektorový prostor obsahující prvky dané množiny (generátory),
- hodnota systému vektorů: počet lineárně nezávislých vektorů v systému.

Otázky a úlohy

1. Co je aritmetický vektor dimenze n ?
2. Co je aritmetický n -rozměrný vektorový prostor?
3. Jaká jsou pravidla pro aritmetické operace s aritmetickými vektory?
4. Co je skalární součin dvou aritmetických vektorů?

5. Co znamená, že vektory a_1, a_2, \dots, a_k jsou lineárně závislé? Co znamená, že jsou lineárně nezávislé?
6. Nechť $A = \{\mathbf{u}_1, \mathbf{u}_2, \dots, \mathbf{u}_k\}$ je systém n -rozměrných aritmetických vektorů. Prověřte následující tvrzení:
 - a) Jestliže systém A obsahuje dva stejné vektory, je lineárně závislý.
 - b) Jestliže systém A obsahuje nulový vektor, je lineárně závislý.
 - c) Jestliže systém A obsahuje dva vektory, z nichž jeden je násobek druhého, je lineárně závislý.
 - d) Jestliže část systému A je lineárně závislá, je celý systém lineárně závislý.
 - e) Jestliže platí $k > n$, je systém A lineárně závislý.
7. Nechť $\{\mathbf{u}_1, \mathbf{u}_2, \mathbf{u}_3\}$ je lineárně závislý systém nenulových vektorů a nechť se vektor \mathbf{u}_3 nedá vyjádřit jako lineární kombinace vektorů $\mathbf{u}_1, \mathbf{u}_2$. Ukažte, že v tomto případě je vektor \mathbf{u}_1 násobkem vektoru \mathbf{u}_2 .
8. Co je to báze aritmetického vektorového prostoru?
9. Co jsou to souřadnice vektoru vzhledem k dané bázi a jak je určujeme?
10. Jak definujeme podprostor aritmetického vektorového prostoru a co je to dimenze a báze podprostoru?
11. Co je to lineární obal systému vektorů?
12. Co je hodnota systému vektorů a při jakých úpravách se hodnota systému nemění?
13. Ukažte, že systém vektorů $\mathbf{u}, \mathbf{v}, \mathbf{w}$ má stejnou hodnotu jako systém vektorů $\mathbf{u} + \mathbf{v}, \mathbf{v} + \mathbf{w}, \mathbf{w} + \mathbf{u}$.

Cvičení

1. Zjistěte, zda platí $\mathbf{u} = \mathbf{v}$, je-li
 - a) $\mathbf{u} = (1, 1, 1), \quad \mathbf{v} = (1, 1, 1, 1)$
 - b) $\mathbf{u} = (3, 6, 9), \quad \mathbf{v} = (3, 6, 10)$
 - c) $\mathbf{u} = (\sqrt{2}, \pi, 7, 1), \quad \mathbf{v} = (\pi, \sqrt{2}, 7, 1)$
 - d) $\mathbf{u} = (3, 3, 3, 3), \quad \mathbf{v} = (2, 2, 2, 2)$
2. Nechť $\mathbf{u}_1 = (1, 3, 5), \mathbf{u}_2 = (3, 5, 1), \mathbf{u}_3 = (1, 5, 3), \mathbf{u}_4 = (3, 5, 1)$. Které z těchto vektorů se sobě rovnají?
3. Najděte x a y resp. z tak, aby platilo
 - a) $(x, 3) = (2, x + y)$
 - b) $(2x, 3, y) = (4, x + z, 2z)$
 - c) $x(1, 1) + y(2, -1) = (1, 4)$
4. Nechť $\mathbf{u} = (2, -7, 1), \mathbf{v} = (-3, 0, 4), \mathbf{w} = (0, 5, -8)$. Najděte
 - a) $\mathbf{u} + \mathbf{v}$
 - b) $\mathbf{v} - \mathbf{w}$
 - c) $3\mathbf{u} - 4\mathbf{v}$
 - d) $2\mathbf{u} + 3\mathbf{v} - 5\mathbf{w}$

5. Najděte aritmetický vektor \mathbf{x} tak, aby platilo $\mathbf{u} + \mathbf{x} = \mathbf{v}$, je-li

$$\begin{array}{ll} a) \mathbf{u} = (3, 2, -1), \quad \mathbf{v} = (3, 4, 5) & b) \mathbf{u} = \left(\frac{2}{5}, \frac{3}{7}, \frac{7}{8}\right), \quad \mathbf{v} = \left(-\frac{1}{6}, \frac{4}{3}, \frac{5}{9}\right) \\ c) \mathbf{u} = (-2, 3), \quad \mathbf{v} = (2, 0, 1) & d) \mathbf{u} = (5, 8, -9, 2), \quad \mathbf{v} = (4, 5, 1, -1) \end{array}$$

6. Zjistěte, zda jsou dané systémy vektorů lineárně nezávislé nebo závislé. Vyjádřete vektor $\mathbf{v} = (2, 5)$ jako lineární kombinaci vektorů $\mathbf{u}_1, \mathbf{u}_2$ resp. $\mathbf{u}_1, \mathbf{u}_2, \mathbf{u}_3$ v každém z případů a), b), c), je-li to možné:

$$\begin{array}{ll} a) \mathbf{u}_1 = (3, 2), \quad \mathbf{u}_2 = (1, 8) & b) \mathbf{u}_1 = (4, 1), \quad \mathbf{u}_2 = (12, 3) \\ c) \mathbf{u}_1 = (3, 5), \quad \mathbf{u}_2 = (2, 2), \quad \mathbf{u}_3 = (1, 4) \end{array}$$

7. Zjistěte, který z daných systémů vektorů $\mathbf{u}_1, \mathbf{u}_2$ resp. $\mathbf{u}_1, \mathbf{u}_2, \mathbf{u}_3$ tvoří bázi příslušného aritmetického vektorového prostoru a najděte souřadnice daného vektoru \mathbf{v} vzhledem k této bázi:

$$\begin{array}{lll} a) \mathbf{v} = (1, 4), \quad \mathbf{u}_1 = (1, 1), \quad \mathbf{u}_2 = (2, -1) \\ b) \mathbf{v} = (1, -2, 5), \quad \mathbf{u}_1 = (1, 1, 1), \quad \mathbf{u}_2 = (1, 2, 3), \quad \mathbf{u}_3 = (2, -1, 1) \\ c) \mathbf{v} = (2, 3, -5), \quad \mathbf{u}_1 = (1, 2, -3), \quad \mathbf{u}_2 = (2, -1, -4), \quad \mathbf{u}_3 = (1, 7, -5) \end{array}$$

8. Najděte všechny hodnoty λ , pro které lze daný vektor \mathbf{v} vyjádřit jako lineární kombinaci vektorů $\mathbf{u}_1, \mathbf{u}_2, \mathbf{u}_3$:

$$\begin{array}{lll} a) \mathbf{v} = (8, -8, \lambda), \quad \mathbf{u}_1 = (3, 2, 1), \quad \mathbf{u}_2 = (1, 0, 7), \quad \mathbf{u}_3 = (2, -5, 3) \\ b) \mathbf{v} = (5, 3, \lambda), \quad \mathbf{u}_1 = (1, 0, 2), \quad \mathbf{u}_2 = (0, 1, 1), \quad \mathbf{u}_3 = (4, 1, 9) \\ c) \mathbf{v} = (1, 3, 5), \quad \mathbf{u}_1 = (1, 3, 4), \quad \mathbf{u}_2 = (2, 8, -2), \quad \mathbf{u}_3 = (3, 1, \lambda) \\ d) \mathbf{v} = (\lambda, 6, 7), \quad \mathbf{u}_1 = (1, 4, 5), \quad \mathbf{u}_2 = (3, 8, 10), \quad \mathbf{u}_3 = (0, -4, -5) \end{array}$$

9. Vypočítejte skalární součin $\mathbf{u} \cdot \mathbf{v}$, je-li

$$\begin{array}{ll} a) \mathbf{u} = (2, -3, 6), \quad \mathbf{v} = (8, 2, -3), \\ b) \mathbf{u} = (1, -8, 0, 5), \quad \mathbf{v} = (3, 6, 4). \end{array}$$

10. Nechť $\mathbf{u} = (3, 2, 1)$, $\mathbf{v} = (5, -3, 4)$, $\mathbf{w} = (1, 6, -7)$. Prověřte, že platí $(\mathbf{u} + \mathbf{v}) \cdot \mathbf{w} = \mathbf{u} \cdot \mathbf{w} + \mathbf{v} \cdot \mathbf{w}$.

11. Nechť $\mathbf{u} = (1, 2, 3, -4)$, $\mathbf{v} = (5, -6, 7, 8)$ a $k = 3$. Prověřte, že platí $k(\mathbf{u} \cdot \mathbf{v}) = (k\mathbf{u}) \cdot \mathbf{v} = \mathbf{u} \cdot (k\mathbf{v})$.

12. Najděte všechny dvojice vektorů $\mathbf{u} = (a, b)$, $\mathbf{v} = (c, d)$, které tvoří ortonormální systém.

Výsledky

1. a)b)c)d) ne. 2. $\mathbf{u}_2 = \mathbf{u}_4$;
3. a) $x = 2, y = 1$, b) $x = 2, y = 2, z = 1$, c) $x = 3, y = -1$;
4. a) $(-1, -7, 5)$, b) $(-3, -5, 12)$, c) $(18, -21, -13)$, d) $(-5, -39, 54)$;
5. a) $(0, 2, 6)$, b) $\left(-\frac{17}{30}, \frac{19}{21}, -\frac{23}{72}\right)$, c) nelze, d) $(-1, -3, 10, -3)$;
6. a) nez., $\mathbf{v} = \frac{1}{2}\mathbf{u}_1 + \frac{1}{2}\mathbf{u}_2$, b) záv., nelze, c) záv., $\mathbf{v} = 0\mathbf{u}_1 + \frac{1}{2}\mathbf{u}_2 + \mathbf{u}_3$;
7. a) ano, $\mathbf{v} = 3\mathbf{u}_1 - \mathbf{u}_2$, b) ano, $\mathbf{v} = -6\mathbf{u}_1 + 3\mathbf{u}_2 + 2\mathbf{u}_3$, c) ne, $\mathbf{u}_3 = 3\mathbf{u}_1 - \mathbf{u}_2$;
8. a) lib., b) $\lambda = 13$, c) $\lambda \neq 52$, d) žádné; 9 a) -8, b) nelze.

2.3 Matice

V kapitole o soustavách lineárních rovnic jsme pro jejich řešení zavedli pojem matice, v této kapitole se jim budeme věnovat podrobněji. Ukážeme, že je možné uvažovat o vztazích mezi maticemi, nebo zavést operace s maticemi analogické operacím s reálnými čísly.

Základní pojmy

Definice 2.27. Soubor

$$\begin{bmatrix} a_{11} & a_{12} & \cdots & a_{1j} & \cdots & a_{1n} \\ a_{21} & a_{22} & \cdots & a_{2j} & \cdots & a_{2n} \\ \vdots & \vdots & \ddots & \vdots & \ddots & \vdots \\ a_{i1} & a_{i2} & \cdots & a_{ij} & \cdots & a_{in} \\ \vdots & \vdots & \ddots & \vdots & \ddots & \vdots \\ a_{m1} & a_{m2} & \cdots & a_{mj} & \cdots & a_{mn} \end{bmatrix}$$

$m \cdot n$ čísel nazýváme **maticí typu (m, n)** .

Matice budeme označovat velkými tučnými tiskacími písmeny, nebo také symbolem $(a_{ij})_m^n$.

Čísla a_{ij} se nazývají **prvky matice**,

aritmetický vektor $(a_{i1}, a_{i2}, \dots, a_{in})$ nazýváme **i -tým řádkem** matice,

aritmetický vektor $(a_{1j}, a_{2j}, \dots, a_{mj})$ nazýváme **j -tým sloupcem** matice.

Prvky a_{ii} , $i = 1, \dots, k$, $k = \min(m, n)$, tvoří tzv. **hlavní diagonálu matice**

$$\mathbf{A} = (a_{ij})_m^n.$$

Je-li $m \leq n$ (matice \mathbf{A} má nanejvýš tolik řádků kolik sloupců), všechny prvky v hlavní diagonále matice \mathbf{A} jsou různé od nuly a všechny její prvky pod hlavní diagonálou jsou nulové, říkáme, že matice \mathbf{A} je v **Gaussově tvaru** (**gaussovská**).

Jestliže jsou všechny prvky matice typu (m, n) nulové, potom ji nazýváme **nulovou maticí** typu (m, n) a označujeme \mathbf{O}_m^n , nebo jen \mathbf{O} .

Platí-li pro matici $\mathbf{A} = (a_{ij})_m^n$ $m = n$, říkáme, že matice \mathbf{A} je **čtvercová řádu n** .

Čtvercovou maticí, jejíž všechny prvky neležící na hlavní diagonále jsou nulové, nazýváme **diagonální maticí**.

Jsou-li všechny prvky v hlavní diagonále diagonální matice rovny jedné, nazýváme ji **jednotkovou maticí řádu n** a značíme \mathbf{E}_n , nebo krátce \mathbf{E} .

Jestliže jsou ve čtvercové matici všechny prvky pod (resp. nad) hlavní diagonálou rovny nule, nazýváme ji **horní** (resp. **dolní**) **trojúhelníkovou maticí**.

Čtvercová matice $\mathbf{A} = (a_{ij})_n^n$, pro jejíž všechny prvky platí $a_{ij} = a_{ji}$ (resp. $a_{ij} = -a_{ji}$), se nazývá *symetrická* (resp. *antisymetrická*).

Nechť je dána matice $\mathbf{A} = (a_{ij})_m^n$. Matici, kterou získáme z matice \mathbf{A} vynecháním některých řádků event. sloupců, nazýváme *submaticí* matice \mathbf{A} .

Matici, kterou získáme z matice \mathbf{A} vynecháním j -tého řádku a k -tého sloupce, nazýváme *submaticí matice \mathbf{A} příslušnou k prvku a_{jk}* a budeme ji označovat symbolem \mathbf{A}_{jk} .

Příklad 2.28. Pro matici

$$\mathbf{A} = \begin{bmatrix} a_{11} & a_{12} & a_{13} \\ a_{21} & a_{22} & a_{23} \\ a_{31} & a_{32} & a_{33} \end{bmatrix}$$

je

$$\mathbf{A}_{11} = \begin{bmatrix} a_{22} & a_{23} \\ a_{32} & a_{33} \end{bmatrix}, \quad \mathbf{A}_{13} = \begin{bmatrix} a_{21} & a_{22} \\ a_{31} & a_{32} \end{bmatrix}, \quad \mathbf{A}_{33} = \begin{bmatrix} a_{11} & a_{12} \\ a_{21} & a_{22} \end{bmatrix}$$

Transponovaná matice

Definice 2.29. Nechť je dána matice $\mathbf{A} = (a_{ij})_m^n$ typu (m, n) . Matici $\mathbf{B} = (b_{ij})_n^m$ typu (n, m) , pro jejíž prvky platí

$$b_{ij} = a_{ji}, \quad i = 1, 2, \dots, n, \quad j = 1, 2, \dots, m,$$

nazveme maticí *transponovanou* k matici \mathbf{A} a označujeme ji \mathbf{A}^T .

Příklad 2.30. Je-li

$$\mathbf{A} = \begin{bmatrix} 2 & 5 & 0 \\ -3 & 1 & 5 \end{bmatrix}, \quad \text{je } \mathbf{A}^T = \begin{bmatrix} 2 & -3 \\ 5 & 1 \\ 0 & 5 \end{bmatrix}.$$

Je-li \mathbf{A} symetrická matice, platí zřejmě $\mathbf{A}^T = \mathbf{A}$.

Každý n -rozměrný aritmetický vektor \mathbf{x} lze zřejmě považovat za jednořádkovou matici typu $(1, n)$ nebo za jednosloupcovou matici typu $(n, 1)$. Pro naše účely je výhodnější chápat vektory jako matice sloupcové, tedy

$$\mathbf{x} = \begin{bmatrix} x_1 \\ x_2 \\ \vdots \\ x_n \end{bmatrix}, \quad \mathbf{x}^T = [x_1 \ x_2 \ \cdots \ x_n]$$

Někdy budeme v dalším textu pro jednoduchost psát, tak jak jsme zavedli,

$$\mathbf{x} = (x_1, x_2, \dots, x_n)$$

bude-li z kontextu zřejmé, chápeme-li vektor jako matici jednořádkovou nebo jednosloupcovou.

Aritmetické operace

Definice 2.31. O dvou maticích $\mathbf{A} = (a_{ij})_m^n$, $\mathbf{B} = (b_{ij})_m^n$ říkáme, že se **sobě rovnají**, a píšeme $\mathbf{A} = \mathbf{B}$, jestliže jsou téhož typu a odpovídající si prvky se rovnají, tj. platí-li

$$a_{ij} = b_{ij} \quad \forall i = 1, 2, \dots, m, \quad j = 1, 2, \dots, n$$

Motivační příklad 1.: (Příklad, stejně jako ostatní motivační příklady v této kapitole, je převzat ze skript Gavalcová, Pražák: Základy matematiky 2) Nechť P_1, P_2 jsou dvě prodejny motocyklů, přičemž se v obou prodejnách prodávají 4 modely motocyklů M_1, M_2, M_3, M_4 . Obrat prodejem v tisících dolarů z prodeje jednotlivých modelů za měsíc srpen a září určitého roku zapíšeme do tabulek:

| | | | | |
|-------|-------|-------|-------|-------|
| S | M_1 | M_2 | M_3 | M_4 |
| P_1 | 12 | 6 | 0 | 9 |
| P_2 | 12 | 3 | 2 | 19 |

| | | | | |
|-------|-------|-------|-------|-------|
| Z | M_1 | M_2 | M_3 | M_4 |
| P_1 | 0 | 9 | 0 | 13 |
| P_2 | 10 | 6 | 4 | 10 |

- a) Jaký byl obrat jednotlivých prodejen v srpnu a září dohromady sledovaný pro jednotlivé modely?
- b) Jak vzrostl obrat jednotlivých prodejen v září ve srovnání s obratem v srpnu?
- c) Jestliže každá z prodejen dostane pětiprocentní bonifikaci z obratu v září, jaká bude celková bonifikace každé z prodejen P_1, P_2 ?

Řešení. Tabulky budeme považovat za matice; označme je \mathbf{A}, \mathbf{B} .

- a) Celkový obrat jednotlivých prodejen (za jednotlivé modely) dostaneme zřejmě jako matici, kde na jednotlivá místa napíšeme součet obrátů jednotlivých prodejen za každý model, tedy „součty po prvcích na stejných místech“ v maticích \mathbf{A}, \mathbf{B} :

$$\mathbf{C} = \begin{bmatrix} 12 & 6 & 0 & 9 \\ 12 & 3 & 2 & 19 \end{bmatrix} + \begin{bmatrix} 0 & 9 & 0 & 13 \\ 10 & 6 & 4 & 10 \end{bmatrix} = \begin{bmatrix} 12 & 15 & 0 & 22 \\ 22 & 9 & 6 & 29 \end{bmatrix}$$

– na jednotlivých místech tabulky jsou součty obrátů za každý typ.

- b) Růst obratu v září vzhledem na srpen budeme také reprezentovat maticí; příslušné prvky teď budou rozdíly prvků nacházející se na stejných místech:

$$\mathbf{D} = \begin{bmatrix} 0 & 9 & 0 & 13 \\ 10 & 6 & 4 & 10 \end{bmatrix} + \begin{bmatrix} 12 & 6 & 0 & 9 \\ 12 & 3 & 2 & 19 \end{bmatrix} = \begin{bmatrix} -12 & 3 & 0 & 4 \\ -2 & 3 & 2 & -9 \end{bmatrix}$$

- c) Bonifikaci z prodeje stanovíme maticí, která vznikne násobením každého jejího prvku číslem 0,05; tím se určí bonifikace z prodeje jednotlivých modelů pro obě prodejny:

$$0,05 \cdot \mathbf{B} = 0,05 \cdot \begin{bmatrix} 0 & 9 & 0 & 13 \\ 10 & 6 & 4 & 10 \end{bmatrix} = \begin{bmatrix} 0 & 0,45 & 0 & 0,65 \\ 0,50 & 0,30 & 0,20 & 0,50 \end{bmatrix}$$

a celková bonifikace pro první prodejnu je rovna součtu čísel v prvním řádku matice, tedy 1,1 tisíc dolarů a druhá prodejna dostala (analogicky) 1,5 tisíc dolarů.

□

Definice 2.32. *Součtem* dvou matic $\mathbf{A} = (a_{ij})_m^n$, $\mathbf{B} = (b_{ij})_m^n$ stejného typu (m, n) rozumíme matici $\mathbf{C} = (c_{ij})_m^n$ typu (m, n) takovou, že $c_{ij} = a_{ij} + b_{ij}$. Píšeme $\mathbf{C} = \mathbf{A} + \mathbf{B}$. Součet matic různého typu se nedefinuje.

Součinem čísla α s maticí $\mathbf{A} = (a_{ij})_m^n$ rozumíme matici $\mathbf{C} = (c_{ij})_m^n$ takovou, že $c_{ij} = \alpha a_{ij}$. Píšeme $\mathbf{C} = \alpha \mathbf{A}$. Místo $(-1)\mathbf{A}$ píšeme $-\mathbf{A}$ a místo $\mathbf{A} + (-1)\mathbf{B}$ píšeme $\mathbf{A} - \mathbf{B}$ a tuto matici nazýváme *rozdílem matic \mathbf{A}, \mathbf{B}* .

Příklad 2.33. Necht' jsou dány matice

$$\mathbf{A} = \begin{bmatrix} 3 & 4 & 2 \\ -1 & 2 & 3 \\ 2 & 1 & 4 \end{bmatrix} \quad \mathbf{B} = \begin{bmatrix} 1 & -1 & 2 \\ 2 & 1 & -2 \\ 3 & 2 & 1 \end{bmatrix}$$

Potom

$$\mathbf{A} + \mathbf{B} = \begin{bmatrix} 4 & 3 & 4 \\ 1 & 3 & 1 \\ 5 & 3 & 5 \end{bmatrix} \quad \mathbf{A} - \mathbf{B} = \begin{bmatrix} 2 & 5 & 0 \\ -3 & 1 & 5 \\ -1 & -1 & 3 \end{bmatrix} \quad 2\mathbf{A} = \begin{bmatrix} 6 & 8 & 4 \\ -2 & 4 & 6 \\ 4 & 2 & 8 \end{bmatrix}$$

Věta 2.34. *Pro sečítání matic a pro násobení matice číslem platí následující pravidla:*

1. $\mathbf{A} + \mathbf{B} = \mathbf{B} + \mathbf{A}$ *(komutativita součtu)*
2. $(\mathbf{A} + \mathbf{B}) + \mathbf{C} = \mathbf{A} + (\mathbf{B} + \mathbf{C})$ *(asociativita součtu)*
3. $\mathbf{A} + \mathbf{O} = \mathbf{A}$ *(nulová matice)*
4. *k maticím \mathbf{A}, \mathbf{B} existuje právě jedna matice \mathbf{X} taková, že $\mathbf{A} + \mathbf{X} = \mathbf{B}$;
platí $\mathbf{X} = \mathbf{B} - \mathbf{A}$*
5. $\alpha(\mathbf{A} + \mathbf{B}) = \alpha\mathbf{A} + \alpha\mathbf{B}$, $(\alpha + \beta)\mathbf{A} = \alpha\mathbf{A} + \beta\mathbf{A}$ *(distributivita násobení číslem)*

(Důkaz věty se provede analogicky důkazu věty 2.12 o aritmetických operacích s vektory; proveďte za cvičení.)

Násobení matic

Motivační příklad 2.: Určitý výrobní podnik vyrábí tři produkty A_1, A_2, A_3 a na jednotku jejich výroby potřebuje určitá množství čtyř surovin s_1, s_2, s_3, s_4 , která jsou uvedena v první tabulce (matice spotřeby). Předpokládejme, že existují dvě možné varianty výroby v_1, v_2 produktů A_1, A_2, A_3 závislé na využívání prostředků podniku; podle nich bude objem produkce určen druhou tabulkou (matice výroby).

| | | | |
|-------|-------|-------|-------|
| | A_1 | A_2 | A_3 |
| s_1 | 8 | 0 | 0 |
| s_2 | 100 | 0,5 | 5 |
| s_3 | 10 | 1 | 0,5 |
| s_4 | 200 | 2 | 2 |

| | | |
|-------|-------|-------|
| | v_1 | v_2 |
| A_1 | 20 | 2 |
| A_2 | 1000 | 2000 |
| A_3 | 500 | 1000 |

Kolik jednotek surovin je potřeba při jednotlivých výrobních variantách?

Řešení. Hledáme vztah mezi množstvím každé ze čtyř surovin a dvěma výrobními variantami; určíme proto prvky nové matice \mathbf{C} , typ které pak musí být 4×2 , a to takto: Kombinujeme řádky matice \mathbf{S} a sloupce matice \mathbf{V} ; jestliže se budeme zabývat i -tou surovinou (vezmeme i -tý řádek matice \mathbf{S}) potřebnou pro k -tou variantu výroby (k -tý sloupec matice \mathbf{V}) a budeme tvořit součet součinů prvků nacházejících se na stejných pozicích v i -tém řádku matice \mathbf{S} a k -tém sloupci matice \mathbf{V} , pak vzhledem k významu prvků matic \mathbf{S}, \mathbf{V} určuje hodnota součtu těchto součinů dvojic prvků v i -tém řádku a k -tém sloupci matice \mathbf{C} právě celkové množství i -té suroviny potřebné při k -té variantě výroby:

$$\mathbf{C} = \mathbf{S} \cdot \mathbf{V} = \begin{bmatrix} 8 & 0 & 0 \\ 100 & 0,5 & 5 \\ 10 & 1 & 0,5 \\ 200 & 2 & 2 \end{bmatrix} \cdot \begin{bmatrix} 20 & 2 \\ 1000 & 2000 \\ 500 & 1000 \end{bmatrix} = \begin{bmatrix} 160 & 16 \\ 5000 & 6200 \\ 1450 & 2520 \\ 7000 & 6400 \end{bmatrix}$$

Dostali jsme tabulku pro spotřebu jednotlivých surovin při obou výrobních variantách:

| | v_1 | v_2 |
|-------|-------|-------|
| s_1 | 160 | 16 |
| s_2 | 5000 | 6200 |
| s_3 | 1450 | 2520 |
| s_4 | 7000 | 6400 |

□

Definice 2.35. *Součinem* \mathbf{AB} matice $\mathbf{A} = (a_{ij})_m^p$ typu (m, p) s maticí $\mathbf{B} = (b_{ij})_p^n$ typu (p, n) nazýváme matici $\mathbf{C} = (c_{ij})_m^n$ typu (m, n) , pro jejíž prvky platí

$$c_{ij} = a_{i1}b_{1j} + a_{i2}b_{2j} + \cdots + a_{ip}b_{pj} = \sum_{r=1}^p a_{ir}b_{rj}.$$

Jinak řečeno: řádky matice \mathbf{A} a sloupce matice \mathbf{B} považujeme za p -rozměrné vektory a potom prvek c_{ij} dostaneme jako skalární součin i -tého řádku matice \mathbf{A} a j -tého sloupce matice \mathbf{B} .

Protože skalární součin vektorů je definován jen pro vektory stejné dimenze, je násobení matic definováno jen v případě, že první matice má stejný počet sloupců jako druhá matice řádků.

Příklad 2.36. Uvažujme matice \mathbf{A}, \mathbf{B} z 2.33. Potom

$$\mathbf{AB} = \begin{bmatrix} 17 & 5 & 0 \\ 12 & 9 & -3 \\ 16 & 7 & 6 \end{bmatrix} \quad \mathbf{BA} = \begin{bmatrix} 8 & 4 & 7 \\ 1 & 8 & -1 \\ 9 & 17 & 16 \end{bmatrix}$$

Příklad 2.37. Nechť

$$\mathbf{A} = \begin{bmatrix} 4 & 2 & 5 \\ 0 & 3 & 2 \\ 0 & 4 & 3 \end{bmatrix} \quad \mathbf{B} = \begin{bmatrix} 1/4 & 14/4 & -11/4 \\ 0 & 3 & -2 \\ 0 & -4 & 3 \end{bmatrix}$$

Potom

$$\mathbf{AB} = \begin{bmatrix} 1 & 0 & 0 \\ 0 & 1 & 0 \\ 0 & 0 & 1 \end{bmatrix} \quad \mathbf{BA} = \begin{bmatrix} 1 & 0 & 0 \\ 0 & 1 & 0 \\ 0 & 0 & 1 \end{bmatrix}$$

Příklad 2.38.

$$\mathbf{A} = \begin{bmatrix} 1 & 2 & 3 \\ 4 & 5 & 6 \\ 7 & 8 & 9 \end{bmatrix} \quad \mathbf{B} = \begin{bmatrix} 1 \\ -2 \\ 1 \end{bmatrix} \quad \mathbf{AB} = \begin{bmatrix} 0 \\ 0 \\ 0 \end{bmatrix}$$

Věta 2.39. Pro násobení matic \mathbf{A} , \mathbf{B} , \mathbf{C} platí následující pravidla:

1. $\mathbf{A}(\mathbf{BC}) = (\mathbf{AB})\mathbf{C}$ (asociativita součinu)
2. $(\mathbf{A} + \mathbf{B})\mathbf{C} = \mathbf{AC} + \mathbf{BC}$, $\mathbf{C}(\mathbf{A} + \mathbf{B}) = \mathbf{CA} + \mathbf{CB}$ (distributivita)
3. $\mathbf{OA} = \mathbf{O}$, $\mathbf{AO} = \mathbf{O}$
4. $(\mathbf{AB})^T = \mathbf{B}^T \mathbf{A}^T$
5. $\alpha(\mathbf{AB}) = (\alpha\mathbf{A})\mathbf{B} = \mathbf{A}(\alpha\mathbf{B})$

pokud jsou příslušné součty a součiny definovány, tj. mají-li matice \mathbf{A} , \mathbf{B} , \mathbf{C} předepsané typy.

Důkaz věty naleznete v části **Pro zájemce** na konci kapitoly.

Pro násobení matic neplatí obecně analogická pravidla, jaká platí pro násobení čísel. Neplatí obecně komutativní zákon, nemusí tedy platit $\mathbf{AB} = \mathbf{BA}$ (viz př. 2.36). Platí-li $\mathbf{AB} = \mathbf{BA}$, říkáme, že matice \mathbf{A} , \mathbf{B} **komutují**. V př. 2.38 jsme dále viděli, že součinem dvou nenulových matic může být matice nulová.

Inverzní matice

Jednotková matice hraje při násobení matic roli jednotky: Nechť $\mathbf{A} = (a_{ij})_m^n$ je libovolná matice typu (m, n) , \mathbf{E}_m , \mathbf{E}_n jsou jednotkové matice řádu m a n . Potom zřejmě platí

$$\mathbf{AE}_n = \mathbf{E}_m \mathbf{A} = \mathbf{A}$$

Pro součin \mathbf{AA} užíváme zkrácený zápis $\mathbf{AA} = \mathbf{A}^2$, analogicky $\mathbf{AAA} = \mathbf{A}^3, \dots, \mathbf{A}^0 = \mathbf{E}$.

S využitím tohoto zápisu můžeme dosadit matici do polynomu:

Nechť

$$f(x) = a_0 + a_1x + a_2x^2 + \cdots + a_nx^n.$$

Hodnotu $f(\mathbf{A})$ definujeme jako matici

$$f(\mathbf{A}) = a_0\mathbf{E} + a_1\mathbf{A} + a_2\mathbf{A}^2 + \cdots + a_n\mathbf{A}^n.$$

Tyto výpočty můžeme pochopitelně realizovat jen v případě čtvercových matic (proč?).

Pro čtvercové matice platí následující věta:

Věta 2.40. *Budte $\mathbf{A}, \mathbf{B}, \mathbf{C}$ čtvercové matice řádu n takové, že $\mathbf{BA} = \mathbf{E}_n = \mathbf{AC}$. Potom $\mathbf{B} = \mathbf{C}$.*

Důkaz věty naleznete v části **Pro zájemce** na konci kapitoly.

Definice 2.41. Nechť \mathbf{A} je čtvercová matice řádu n . Jestliže existuje čtvercová matice \mathbf{B} téhož řádu n taková, že $\mathbf{BA} = \mathbf{AB} = \mathbf{E}_n$, kde \mathbf{E}_n je jednotková matice řádu n , potom tuto matici nazýváme *inverzní maticí* k \mathbf{A} a značíme symbolem \mathbf{A}^{-1} .

Matice \mathbf{A} , k níž existuje inverzní matice, se nazývá *regulární* (*invertovatelná*), v opačném případě se \mathbf{A} nazývá *singulární*.

Ne ke každé matici existuje inverzní matice, snadno se dá ukázat, že například matice

$$\begin{bmatrix} 1 & 0 \\ 0 & 0 \end{bmatrix} \text{ není regulární:}$$

Hledejme čísla a, b, c, d tak, aby platilo

$$\begin{bmatrix} a & b \\ c & d \end{bmatrix} \cdot \begin{bmatrix} 1 & 0 \\ 0 & 0 \end{bmatrix} = \begin{bmatrix} 1 & 0 \\ 0 & 1 \end{bmatrix}.$$

Podle definice součinu matic musí platit pro prvek a_{22} matice napravo $c \cdot 0 + d \cdot 0 = 1$ a to je spor.

Poznámka 2.42. Soustavu n lineárních rovnic o n neznámých s maticí \mathbf{A} a vektorem pravých stran \mathbf{b} můžeme zapsat pomocí maticového násobení ve tvaru

$$\mathbf{A} \cdot \mathbf{x} = \mathbf{b},$$

kde \mathbf{x} je sloupcový vektor neznámých, $\mathbf{x}^T = [x_1, x_2, \dots, x_n]$. Jestliže je \mathbf{A} regulární, pak řešení této soustavy můžeme najít vynásobením maticové rovnice zleva inverzní maticí \mathbf{A}^{-1} , tj.:

$$\mathbf{x} = \mathbf{A}^{-1} \cdot \mathbf{b},$$

což připomíná řešení lineární rovnice v reálných číslech.

Tento postup je jednoduchý pouze zdánlivě; výpočet inverzní matice u rozsáhlejších soustav je totiž podstatně náročnější než jiné současné metody přímo řešící soustavu (např. Gaussova eliminační metoda).

V následujícím příkladu si ukážeme, že i v případě soustavy tří rovnic může být postup řešení pomocí inverzní matice zbytečně komplikovaný:

Příklad 2.43. Pomocí inverzní matice řešte soustavu rovnic

$$\begin{aligned} x_1 + x_2 + x_3 &= 3 \\ x_2 + x_3 &= 2 \\ x_3 &= 1 \end{aligned}$$

Řešení. Matice soustavy má tvar

$$\mathbf{A} = \begin{bmatrix} 1 & 1 & 1 \\ 0 & 1 & 1 \\ 0 & 0 & 1 \end{bmatrix},$$

je to horní trojúhelníková matice, je Gaussovská. Zpětným chodem ihned dostaneme

$$\mathbf{x} = (x_1, x_2, x_3) = (1, 1, 1),$$

což ostatně vidíme na první pohled. Máme ovšem řešení najít pomocí inverzní matice. Inverzní matice k matici \mathbf{A} je, jak se snadno přesvědčíme

$$\mathbf{A}^{-1} = \begin{bmatrix} 1 & -1 & 0 \\ 0 & 1 & -1 \\ 0 & 0 & 1 \end{bmatrix}.$$

Tedy

$$\mathbf{x} = \mathbf{A}^{-1}\mathbf{b} = \begin{bmatrix} 1 & -1 & 0 \\ 0 & 1 & -1 \\ 0 & 0 & 1 \end{bmatrix} \begin{bmatrix} 3 \\ 2 \\ 1 \end{bmatrix} = \begin{bmatrix} 1 \\ 1 \\ 1 \end{bmatrix}.$$

Řešení soustavy pomocí inverzní matice bylo skutečně zbytečně komplikované. □

Poznámka 2.44. Pomocí inverzní matice můžeme řešit i maticovou rovnici $\mathbf{A} \cdot \mathbf{X} = \mathbf{B}$ resp. $\mathbf{X} \cdot \mathbf{A} = \mathbf{B}$ vynásobením inverzní maticí \mathbf{A}^{-1} (existuje-li) zleva, resp. zprava:

$$\mathbf{A}^{-1} \cdot \mathbf{A} \cdot \mathbf{X} = \mathbf{A}^{-1} \cdot \mathbf{B} \Rightarrow \mathbf{X} = \mathbf{A}^{-1} \cdot \mathbf{B} \quad \text{resp.} \quad \mathbf{X} \cdot \mathbf{A} \cdot \mathbf{A}^{-1} = \mathbf{B} \cdot \mathbf{A}^{-1} \Rightarrow \mathbf{X} = \mathbf{B} \cdot \mathbf{A}^{-1}.$$

Kombinace těchto postupů umožní najít řešení složitějších maticových rovnic, např.

$$\mathbf{A} \cdot \mathbf{X} \cdot \mathbf{B} = \mathbf{C} \Leftrightarrow \mathbf{X} = \mathbf{A}^{-1} \cdot \mathbf{C} \cdot \mathbf{B}^{-1},$$

jsou-li matice \mathbf{A} , \mathbf{B} regulární.

Věta 2.45. *Budte \mathbf{A}, \mathbf{B} regulární matice řádu n . Potom*

1. *součin \mathbf{AB} je regulární matice a platí $(\mathbf{AB})^{-1} = \mathbf{B}^{-1}\mathbf{A}^{-1}$,*
2. *matice \mathbf{A}^{-1} je regulární a platí $(\mathbf{A}^{-1})^{-1} = \mathbf{A}$.*

Důkaz věty je triviální: $\mathbf{AB}\mathbf{B}^{-1}\mathbf{A}^{-1} = \mathbf{A}(\mathbf{B}\mathbf{B}^{-1})\mathbf{A}^{-1} = \mathbf{A}\mathbf{A}^{-1} = \mathbf{E}$.

Hodnost matice, ekvivalence matic

Definice 2.46. *Hodností matice \mathbf{A} rozumíme hodnost soustavy vektorů vytvořených řádky této matice. Označujeme ji $h(\mathbf{A})$.*

Matice \mathbf{A} má tedy hodnost $h(\mathbf{A})$, jestliže v ní existuje právě $h(\mathbf{A})$ lineárně nezávislých řádků.

Platí následující velmi užitečná věta:

Věta 2.47. *Platí*

$$h(\mathbf{A}) = h(\mathbf{A}^T),$$

tedy transponovaná matice má stejnou hodnost jako matice původní – počet lineárně nezávislých řádků matice je stejný jako počet lineárně nezávislých sloupců.

Důkaz věty je dosti komplikovaný; využívá věty o řešitelnosti rovnic. Provádět ho nebudeme. (Viz Bican: Lineární algebra a geometrie.)

Jak víme z předchozí kapitoly, hodnost soustavy vektorů se nemění při použití libovolného počtu elementárních transformací; jestliže budeme vyšetřovat systém vektorů tvořících řádky dané matice, pak elementární transformace matice (soustavy rovnic), jak byla zavedena v kapitole o soustavách rovnic, nemění vztah lineární závislosti nebo nezávislosti řádků matice; platí tedy

Věta 2.48. *Elementární transformace nemění hodnost matice.*

Nyní si elementárních transformací matic povšimneme blíže:

Věta 2.49. *Realizace elementárních transformací vynásobením regulární maticí:*

1. *Vynásobení k -tého řádku matice \mathbf{A} typu (m, n) číslem α je možné realizovat vynásobením matice \mathbf{A} zleva diagonální maticí, ve které je $a_{ii} = 1$ pro $i \neq k$, $a_{kk} = \alpha$.*

2. Připočtení l -tého řádku ke k -tému řádku v matici \mathbf{A} je možné realizovat vynásobením matice \mathbf{A} zleva maticí, která vznikne z příslušné jednotkové matice, jestliže nulu na místě prvku a_{kl} nahradíme jedničkou, tedy maticí (b_{ij}) , kde $b_{ii} = 1$, $b_{kl} = 1$, $b_{ij} = 0$ pro $i \neq j, i \neq k, j \neq l$.
3. Příslušné sloupcové elementární transformace se dají realizovat analogicky vynásobením vhodnou maticí zprava.

Tvrzení ve větě nebudeme dokazovat, provedeme demonstraci na následujícím příkladu:

Příklad 2.50. Realizace připočtení řádku k jinému řádku (zde třetího k druhému) vynásobením regulární maticí zleva:

$$\begin{bmatrix} 1 & 0 & 0 \\ 0 & 1 & 1 \\ 0 & 0 & 1 \end{bmatrix} \cdot \begin{bmatrix} a_{11} & a_{12} & a_{13} \\ a_{21} & a_{22} & a_{23} \\ a_{31} & a_{32} & a_{33} \end{bmatrix} = \begin{bmatrix} a_{11} & a_{12} & a_{13} \\ a_{21} + a_{31} & a_{22} + a_{32} & a_{23} + a_{33} \\ a_{31} & a_{32} & a_{33} \end{bmatrix}$$

Definice 2.51. Matice \mathbf{A}, \mathbf{B} nazveme *ekvivalentní* a píšeme $\mathbf{A} \sim \mathbf{B}$, jestliže se dá jedna na druhou převést pomocí elementárních transformací.

Věta 2.52. $\mathbf{A} \sim \mathbf{B}$, právě když existují regulární matice \mathbf{R}, \mathbf{S} tak, že $\mathbf{B} = \mathbf{R} \cdot \mathbf{A} \cdot \mathbf{S}$.

Důkaz: Směr (\Rightarrow) je zřejmý; tvrzení je pouze jinak formulované tvrzení věty předchozí. Opačný směr vyžaduje vyjádření libovolné regulární čtvercové matice ve tvaru součinu matic zprostředkujících elementární transformace a provádět ho nebudeme.

Věta 2.53. (Gaussova eliminace) Pomocí řádkových elementárních transformací lze každou matici převést na matici v Gaussově tvaru, přičemž počet nenulových řádků je roven hodnotě matice.

Důsledek: Matice téhož typu jsou ekvivalentní, právě když mají stejnou hodnot.

Dále se snadno přesvědčíme, že platí věty

Věta 2.54. Hodnota každé gaussovské matice \mathbf{A} typu (m, n) , kde $m \leq n$, je rovna číslu m .

Důkaz si rozmyslete jako cvičení, stejně tak jako důkaz následující věty:

Věta 2.55. Čtvercová matice stupně n je regulární, právě když $h(\mathbf{A}) = n$.

Příklad 2.56. Máme určit hodnotu $h(\mathbf{A})$ matice

$$\mathbf{A} = \begin{bmatrix} 1 & -2 & 3 & -4 & 2 \\ 1 & 2 & -1 & 0 & -1 \\ 1 & -1 & 2 & -3 & 0 \\ 0 & 1 & -1 & 1 & -2 \\ 2 & 3 & -1 & 1 & 4 \end{bmatrix}.$$

Řešení. Naznačenými úpravami postupně dostaneme:

$$\mathbf{A} = \begin{bmatrix} 1 & -2 & 3 & -4 & 2 \\ 1 & 2 & -1 & 0 & -1 \\ 1 & -1 & 2 & -3 & 0 \\ 0 & 1 & -1 & 1 & -2 \\ 2 & 3 & -1 & 1 & 4 \end{bmatrix} \begin{array}{l} r_2 - r_1 \rightarrow r_2 \\ r_3 - r_1 \rightarrow r_3 \\ r_5 - 2r_1 \rightarrow r_5 \\ \sim \end{array} \begin{bmatrix} 1 & -2 & 3 & -4 & 2 \\ 0 & 4 & -4 & 4 & -3 \\ 0 & 1 & -1 & 1 & -2 \\ 0 & 1 & -1 & 1 & -2 \\ 0 & 7 & -7 & 9 & 0 \end{bmatrix}$$

$$\begin{array}{l} r_2 \leftrightarrow r_3 \\ r_4 \text{ vynechat} \\ \sim \end{array} \begin{bmatrix} 1 & -2 & 3 & -4 & 2 \\ 0 & 1 & -1 & 1 & -2 \\ 0 & 4 & -4 & 4 & -3 \\ 0 & 7 & -7 & 9 & 0 \end{bmatrix} \begin{array}{l} r_3 - 4r_2 \rightarrow r_3 \\ r_4 - 7r_2 \rightarrow r_4 \\ \sim \end{array} \begin{bmatrix} 1 & -2 & 3 & -4 & 2 \\ 0 & 1 & -1 & 1 & -2 \\ 0 & 0 & 0 & 0 & 5 \\ 0 & 0 & 0 & 2 & 14 \end{bmatrix}$$

$$\begin{array}{l} r_3 \leftrightarrow r_4 \\ \sim \end{array} \begin{bmatrix} 1 & -2 & 2 & -4 & 3 \\ 0 & 1 & -2 & 1 & -1 \\ 0 & 0 & 0 & 2 & 14 \\ 0 & 0 & 0 & 0 & 5 \end{bmatrix}$$

Poslední matice je však již gaussovská, a tedy $h(\mathbf{A})=4$. □

Výpočet inverzní matice 1

Z předchozích úvah plyne, že

- každá regulární matice \mathbf{A} řádu n je ekvivalentní s jednotkovou maticí stejného řádu, a tedy se dá postupnými řádkovými elementárními transformacemi na ni převést,
- tato úprava se dá realizovat násobením vhodnou maticí zleva.

Tedy existuje matice \mathbf{R} tak, že platí $\mathbf{R} \cdot \mathbf{A} = \mathbf{E}$ – ale taková matice je právě matice inverzní k \mathbf{A} , tedy $\mathbf{R} = \mathbf{A}^{-1}$. Jestliže stejné řádkové transformace použijeme na jednotkovou matici, provedeme součin $\mathbf{A}^{-1} \cdot \mathbf{E} = \mathbf{A}^{-1}$.

Budeme tedy postupovat následujícím způsobem:

- K zadané matici, kterou máme invertovat, přičteme jednotkovou matici stejného řádu.
- Elementárními řádkovými transformacemi upravíme vzniklou matici na redukovaný tvar, tedy tak, aby v levé části (na místě zadané matice) vznikla matice jednotková.
- V pravé části matice (na místě jednotkové matice) je hledaná matice inverzní:

$$\mathbf{A}|\mathbf{E} \sim \mathbf{A}^{-1} \cdot \mathbf{A}|\mathbf{A}^{-1} \cdot \mathbf{E} = \mathbf{E}|\mathbf{A}^{-1}.$$

Protože při popsaném postupu současně určujeme k matici \mathbf{A} její redukovanou matici, musí být její hodnota rovna řádu matice; tedy **matice \mathbf{A} je regulární, je-li její hodnota rovna jejímu řádu.**

Příklad 2.57. Nalezněte inverzní matici k matici

$$\mathbf{A} = \begin{bmatrix} 4 & 2 & 5 \\ 0 & 3 & 2 \\ 0 & 4 & 3 \end{bmatrix}.$$

Řešení. Sestavíme matici soustavy rozšířenou o příslušnou jednotkovou matici a budeme postupně upravovat:

$$\left[\begin{array}{ccc|ccc} 4 & 2 & 5 & 1 & 0 & 0 \\ 0 & 3 & 2 & 0 & 1 & 0 \\ 0 & 4 & 3 & 0 & 0 & 1 \end{array} \right] \begin{array}{l} r_3 - \frac{4r_2}{3} \rightarrow r_3 \\ 3r_3 \rightarrow r_3 \\ \sim \end{array} \left[\begin{array}{ccc|ccc} 4 & 2 & 5 & 1 & 0 & 0 \\ 0 & 3 & 2 & 0 & 1 & 0 \\ 0 & 0 & 1 & 0 & -4 & 3 \end{array} \right]$$

$$\begin{array}{l} r_1 - 5r_3 \rightarrow r_1 \\ r_2 - 2r_3 \rightarrow r_2 \\ \sim \end{array} \left[\begin{array}{ccc|ccc} 4 & 2 & 0 & 1 & 20 & -15 \\ 0 & 3 & 0 & 0 & 9 & -6 \\ 0 & 0 & 1 & 0 & -4 & 3 \end{array} \right] \begin{array}{l} \frac{r_2}{3} \rightarrow r_2 \\ \sim \end{array} \left[\begin{array}{ccc|ccc} 4 & 2 & 0 & 1 & 20 & -15 \\ 0 & 1 & 0 & 0 & 3 & -2 \\ 0 & 0 & 1 & 0 & -4 & 3 \end{array} \right]$$

$$\begin{array}{l} r_1 - 2r_2 \rightarrow r_1 \\ \sim \end{array} \left[\begin{array}{ccc|ccc} 4 & 0 & 0 & 1 & 14 & -11 \\ 0 & 1 & 0 & 0 & 3 & -2 \\ 0 & 0 & 1 & 0 & -4 & 3 \end{array} \right] \begin{array}{l} \frac{r_1}{5} \rightarrow r_1 \\ \sim \end{array} \left[\begin{array}{ccc|ccc} 1 & 0 & 0 & 1/4 & 14/4 & -11/4 \\ 0 & 1 & 0 & 0 & 3 & -2 \\ 0 & 0 & 1 & 0 & -4 & 3 \end{array} \right]$$

tedy platí

$$\mathbf{A}^{-1} = \begin{bmatrix} 1/4 & 14/4 & -11/4 \\ 0 & 3 & -2 \\ 0 & -4 & 3 \end{bmatrix}.$$

□

Inverzní matici lze přímo najít (nebo provést zkoušku) pomocí [tohoto Mapletu](#).

Řešitelnost soustavy, Frobeniova věta

V odstavci 2.1 jsme viděli, že při přímém chodu v Gaussově eliminační metodě dospějeme k jedné ze dvou možností:

$$a) \left[\begin{array}{cccc|cccc} \neq & x & x & \cdots & x & x & \cdots & x \\ 0 & \neq & x & \cdots & x & x & \cdots & x \\ 0 & 0 & \neq & \cdots & x & x & \cdots & x \\ \vdots & \vdots & \vdots & \ddots & \vdots & \vdots & \ddots & \vdots \\ 0 & 0 & 0 & \cdots & \neq & x & \cdots & x \end{array} \right] \leftarrow k$$

$$b) \left[\begin{array}{cccc|cccc} \neq & x & x & \cdots & x & x & \cdots & x \\ 0 & \neq & x & \cdots & x & x & \cdots & x \\ 0 & 0 & \neq & \cdots & x & x & \cdots & x \\ \vdots & \vdots & \vdots & \ddots & \vdots & \vdots & \ddots & \vdots \\ 0 & 0 & 0 & \cdots & \neq & x & \cdots & x \\ 0 & 0 & 0 & \cdots & 0 & 0 & \cdots & 0 \end{array} \right] \leftarrow k$$

kde symbol \neq znamená libovolné číslo různé od nuly, x libovolné číslo a $(\leftarrow k)$ označuje k -tý řádek. V prvním případě má soustava řešení (alespoň jedno), ve druhém případě nemá žádné řešení.

Přitom elementární úpravy soustavy rovnic odpovídají příslušným elementárním transformacím řádkových vektorů rozšířené matice soustavy. Všimneme-li si, že v prvním případě mají matice soustavy i rozšířená matice soustavy stejnou hodnotu, ve druhém případě nikoliv, vidíme, že platí:

Věta 2.58. (Frobeniova)

1. *Soustava $\mathbf{Ax} = \mathbf{b}$, $\mathbf{x} = (x_1, x_2, \dots, x_n)$ má řešení, právě když $h(\mathbf{A}) = h(\mathbf{A}|\mathbf{b})$ (hodnota matice soustavy je stejná jako hodnota rozšířené matice soustavy).*
2. *Jestliže $h(\mathbf{A}) = h(\mathbf{A}|\mathbf{b}) = k$, potom v případě $k < n$ má soustava nekonečně mnoho řešení, která mohou být zapsána pomocí $n - k$ parametrů, a v případě $k = n$ má soustava právě jedno řešení.*
3. *Platí-li $h(\mathbf{A}) < h(\mathbf{A}|\mathbf{b})$, soustava nemá řešení.*

Důkaz věty naleznete v části **Pro zájemce**.

Je-li soustava čtvercová, je buď $h(\mathbf{A}) = n$, nebo $h(\mathbf{A}) < n$. V prvním případě je automaticky $h(\mathbf{A}) = h(\mathbf{A}|\mathbf{b})$ a podle Frobeniovy věty má soustava právě jedno řešení a navíc je $|\mathbf{A}| \neq 0$, tj. matice \mathbf{A} je regulární. Ve druhém případě je $|\mathbf{A}| = 0$, tj. matice \mathbf{A} je singulární, a podle Frobeniovy věty soustava buď nemá žádné řešení, nebo má nekonečně mnoho řešení.

Je-li soustava homogenní, je automaticky splněna podmínka $h(\mathbf{A}) = h(\mathbf{A}|\mathbf{b}) = k$ a podle Frobeniovy věty má soustava jedno řešení (pro $k = n$), nebo nekonečně mnoho řešení (pro $k < n$). V prvním případě se pochopitelně jedná pouze o nulové řešení.

Příklad 2.59. Je dána soustava lineárních rovnic

$$\begin{array}{rccccrcr} x_1 & + & x_2 & - & x_3 & = & -1 \\ 2x_1 & - & x_2 & + & x_3 & = & 4 \\ 3x_1 & - & 7x_2 & - & 2x_3 & = & -1 \\ -2x_1 & + & 5x_2 & + & x_3 & = & 1 \end{array}$$

Pomocí Frobeniovy věty máme zjistit, zda soustava má řešení a kolik; v kladném případě všechna řešení najít.

Řešení. Pomocí elementárních úprav vyšetříme hodnoty matic soustavy:

$$\begin{array}{ccc}
\left[\begin{array}{ccc|c} 1 & 1 & -1 & -1 \\ 2 & -1 & 1 & 4 \\ 3 & -7 & -2 & -1 \\ -2 & 5 & 1 & 1 \end{array} \right] & \begin{array}{l} r_2 - 2r_1 \rightarrow r_1 \\ r_3 - 3r_1 \rightarrow r_3 \\ r_4 + 2r_1 \rightarrow r_4 \\ \sim \end{array} & \left[\begin{array}{ccc|c} 1 & 1 & -1 & -1 \\ 0 & -3 & 3 & 6 \\ 0 & -10 & 1 & 2 \\ 0 & 7 & -1 & -1 \end{array} \right] \\
\sim & & \sim \\
\left[\begin{array}{ccc|c} 1 & 1 & -1 & -1 \\ 0 & 1 & 1 & -2 \\ 0 & -10 & 1 & 2 \\ 0 & 7 & -1 & -1 \end{array} \right] & \begin{array}{l} r_3 + 10r_2 \rightarrow r_3 \\ r_4 - 7r_2 \rightarrow r_4 \\ \sim \end{array} & \\
\sim & & \sim \\
\left[\begin{array}{ccc|c} 1 & 1 & -1 & -1 \\ 0 & 1 & -1 & -2 \\ 0 & 0 & -9 & -18 \\ 0 & 0 & 6 & 13 \end{array} \right] & \begin{array}{l} r_4 + \frac{r_3}{3} \rightarrow r_4 \\ \sim \end{array} & \left[\begin{array}{ccc|c} 1 & 1 & -1 & -1 \\ 0 & 1 & -1 & -2 \\ 0 & 0 & -9 & -18 \\ 0 & 0 & 0 & 1 \end{array} \right]
\end{array}$$

Tedy $h(\mathbf{A}) = 3$, $h(\mathbf{A}|\mathbf{b}) = 4$. Soustava nemá řešení.

(Můžeme si povšimnout, že poslední řádek poslední matice vlastně znamená $0 \cdot x_3 = 1$.) \square

Příklad 2.60. Pomocí Frobeniovy věty rozhodněte, pro která α má následující soustava rovnic alespoň jedno řešení:

$$\begin{array}{rclcl}
x & + & 2y & - & z & = & 3 \\
2x & - & y & + & z & = & 0 \\
-x & + & y & + & \alpha z & = & 1
\end{array}$$

Řešení. Rozšířená matice soustavy má tvar

$$\mathbf{A}|\mathbf{b} = \left[\begin{array}{ccc|c} 1 & 2 & -1 & 3 \\ 2 & -1 & 1 & 0 \\ -1 & 1 & \alpha & 1 \end{array} \right],$$

matici upravíme na trojúhelníkový tvar (Gaussovou eliminací) a dostaneme

$$\mathbf{A}|\mathbf{b} \sim \left[\begin{array}{ccc|c} 1 & 2 & -1 & 3 \\ 0 & 5 & -3 & 6 \\ 0 & 0 & 5\alpha + 4 & 2 \end{array} \right].$$

Aby soustava měla řešení, nesmí být hodnota rozšířené matice větší než hodnota matice soustavy – tedy musí platit

$$5\alpha + 4 \neq 0 \quad \Rightarrow \quad \alpha \neq -\frac{4}{5}.$$

Je-li $\alpha = -\frac{4}{5}$, soustava nemá řešení. \square

Pro zájemce

Důkaz věty o pravidlech pro součin matic je dosti pracný a spočívá v použití definice pro předepsané součiny; ukážeme si to na části 1. a 4., zbylé můžete provést analogicky jako cvičení:

1. Nechtě

$$\mathbf{A} = (a_{ij})_m^p, \mathbf{B} = (b_{ij})_p^q, \mathbf{C} = (c_{ij})_q^n, \mathbf{AB} = ((ab)_{ij})_m^q, \mathbf{BC} = ((bc)_{ij})_p^n, \mathbf{A(BC)} = (d_{ij})_m^n, \quad (\mathbf{AB})\mathbf{C} = (d'_{ij})_m^n \quad \text{kde}$$

$$(ab)_{ij} = a_{i1}b_{1j} + \dots + a_{ip}b_{pj} = \sum_{s=1}^p a_{is}b_{sj}, \quad (bc)_{ij} = b_{i1}c_{1j} + \dots + b_{iq}c_{qj} = \sum_{r=1}^q b_{ir}c_{rj}$$

Potom

$$d_{ij} = a_{i1}(bc)_{1j} + \dots + a_{ip}(bc)_{pj} = \sum_{s=1}^p a_{is}(bc)_{sj} = \sum_{s=1}^p a_{is} \left(\sum_{r=1}^q b_{sr}c_{rj} \right) = \sum_{s=1}^p \sum_{r=1}^q a_{is}b_{sr}c_{rj},$$

$$d'_{ij} = (ab)_{i1}c_{1j} + \dots + (ab)_{iq}c_{qj} = \sum_{r=1}^q (ab)_{ir}c_{rj} = \sum_{r=1}^q \left(\sum_{s=1}^p a_{is}b_{sr} \right) c_{rj} = \sum_{r=1}^q \sum_{s=1}^p a_{is}b_{sr}c_{rj} = d_{ij}.$$

4. Nechtě

$$\mathbf{A} = (a_{ij})_m^p, \mathbf{B} = (b_{ij})_p^n, \mathbf{AB} = (c_{ij})_m^n, \mathbf{A}^T = (\alpha_{ij})_p^m, \mathbf{B}^T = (\beta_{ij})_n^p, (\mathbf{AB})^T = (\gamma_{ij})_n^m, \mathbf{B}^T\mathbf{A}^T = (\gamma'_{ij})_n^m,$$

kde $\alpha_{ij} = a_{ji}$, $\beta_{ij} = b_{ji}$ a dále

$$c_{ij} = a_{i1}b_{1j} + \dots + a_{ip}b_{pj} = \sum_{r=1}^p a_{ir}b_{rj} \quad \Rightarrow \quad \gamma_{ij} = c_{ji} = \sum_{r=1}^p a_{jr}b_{rj}.$$

Potom

$$\gamma'_{ij} = \beta_{i1}\alpha_{1j} + \dots + \beta_{ip}\alpha_{pj} = \sum_{r=1}^p \beta_{ir}\alpha_{rj} = \sum_{r=1}^p b_{ri}a_{jr} = \gamma_{ij}.$$

Důkaz věty 2.40 se provede snadno s použitím předpokladů věty, definice jednotkové matice a asociativního zákona pro násobení matic:

$$\mathbf{B} = \mathbf{BE}_n = \mathbf{B(AC)} = (\mathbf{BA})\mathbf{C} = \mathbf{E}_n\mathbf{C} = \mathbf{C}.$$

Důkaz Frobeniovy věty

1. Jestliže má soustava $\mathbf{Ax} = \mathbf{b}$, tedy soustava

$$\begin{aligned} a_{11}x_1 + a_{12}x_2 + \dots + a_{1n}x_n &= b_1 \\ a_{21}x_1 + a_{22}x_2 + \dots + a_{2n}x_n &= b_2 \\ \dots & \\ a_{m1}x_1 + a_{m2}x_2 + \dots + a_{mn}x_n &= b_m \end{aligned}$$

řešení $\mathbf{y} = (y_1, y_2, \dots, y_n)$, tedy když platí, že

$$\begin{aligned} a_{11}y_1 + a_{12}y_2 + \dots + a_{1n}y_n &= b_1 \\ a_{21}y_1 + a_{22}y_2 + \dots + a_{2n}y_n &= b_2 \\ \dots & \\ a_{m1}y_1 + a_{m2}y_2 + \dots + a_{mn}y_n &= b_m \end{aligned},$$

je poslední sloupec rozšířené matice $\mathbf{A|b}$ soustavy lineární kombinací prvních n sloupců, protože poslední rovnosti znamenají, že

$$y_1(a_{11}, a_{21}, \dots, a_{m1}) + y_2(a_{12}, a_{22}, \dots, a_{m2}) + \dots + y_n(a_{1n}, a_{2n}, \dots, a_{mn}) = (b_1, b_2, \dots, b_m).$$

Odtud plyne, že $h(\mathbf{A}) = h(\mathbf{A|b})$, protože matice $\mathbf{A|b}$ vznikne z matice \mathbf{A} přidáním jediného sloupce, který je lineární kombinací sloupců matice \mathbf{A} .

2. Jestliže platí $h(\mathbf{A}) = h(\mathbf{A|b})$, nemá matice $\mathbf{A|b}$ více lineárně nezávislých sloupců než matice \mathbf{A} . Její poslední sloupec tedy musí být lineární kombinací předchozích sloupců, tj. existují čísla y_1, y_2, \dots, y_n tak, že platí

$$y_1(a_{11}, a_{21}, \dots, a_{m1}) + y_2(a_{12}, a_{22}, \dots, a_{m2}) + \dots + y_n(a_{1n}, a_{2n}, \dots, a_{mn}) = (b_1, b_2, \dots, b_m).$$

Tedy $\mathbf{y} = (y_1, y_2, \dots, y_n)$ je řešení dané soustavy.

Shrnutí

V tomto odstavci jsme se věnovali pojmu a vlastnostem matic. Zavedli jsme:

- pojem matice typu (m, n) : obdélníkové schéma $m \times n$ čísel (prvků matice) a_{ij} , $i = 1, 2, \dots, m$, $j = 1, 2, \dots, n$, uspořádaných do m řádků a n sloupců,
- hlavní diagonálu matice: systém prvků se stejným řádkovým a sloupcovým indexem,
- speciální matice:
 - a) nulovou matici: všechny její prvky jsou rovny nule,
 - b) Gaussovu matici: všechny prvky pod hlavní diagonálou jsou rovny nule,
 - c) čtvercovou matici: $m = n$,
 - d) horní resp. dolní trojúhelníkovou matici: čtvercová matice s nulovými prvky pod resp. nad hlavní diagonálou,
 - e) diagonální matici: čtvercová matice s nulovými prvky mimo hlavní diagonálu,
 - f) jednotkovou matici: diagonální matici s hlavní diagonálou tvořenou samými jedničkami;
- matice utvořené k dané matici:
 - a) submatice: vznikne vynecháním některých řádků nebo sloupců,
 - b) submatice příslušná k prvku a_{jk} : vznikne vynecháním j -tého řádku a k -tého sloupce,
 - c) transponovaná matice: vznikne překlopením podél hlavní diagonály;
- součet matic a násobení matice číslem: po prvcích stejně jako u aritmetických vektorů,
- součin matic \mathbf{A}, \mathbf{B} : matice, jejíž prvky c_{jk} vzniknou jako skalární součin j -tého řádku matice \mathbf{A} s k -tým sloupcem matice \mathbf{B} ,
- inverzní matici k matici \mathbf{A} : matice, jejíž součin s danou maticí je roven matici jednotkové,
- pojem regulární matice: matice, k níž existuje inverzní matice,
- pojem hodnosti matice: hodnost systému vektorů tvořených řádky (sloupci) matice, tedy maximální počet lineárně nezávislých řádků (sloupců); je to počet nenulových řádků Gaussova tvaru dané matice,

- elementární transformace matic: elementární transformace systému vektorů tvořených řádky (sloupci) matice, tedy buď vynásobení řádku (sloupce) matice nenulovým číslem, připočtení násobku řádku (sloupce) k jinému nebo záměna řádků (sloupců),
- Gaussova eliminace matice: úprava matice na Gaussův tvar pomocí řádkových elementárních transformací,
- uvedli jsme metodu nalezení inverzní matice využívající Gaussovu eliminaci,
- Frobeniova věta o řešitelnosti soustav lineárních rovnic:
 1. Homogenní soustava k lineárních rovnic o n neznámých $\mathbf{Ax} = \mathbf{o}$ má vždy řešení. Toto řešení je
 - právě jedno a to nulové (triviální), je-li $k = n$ a $h(\mathbf{A}) = n$,
 - je jich nekonečně mnoho a jsou závislé na $n - h$ parametrech, je-li $h(\mathbf{A}) = h$.
 2. Nehomogenní soustava k lineárních rovnic o n neznámých $\mathbf{Ax} = \mathbf{b}$
 - nemá řešení, jestliže hodnota matice soustavy je menší než hodnota rozšířené matice soustavy: $h(\mathbf{A}) < h(\mathbf{A}|\mathbf{b})$,
 - má právě jedno řešení, je-li $k = n$ a hodnota matice soustavy je rovna n : $h(\mathbf{A}) = h(\mathbf{A}|\mathbf{b}) = n$,
 - má nekonečně mnoho řešení závislých na $n - h$ parametrech, je-li $h(\mathbf{A}) = h(\mathbf{A}|\mathbf{b}) = h < n$.

Otázky a úkoly

1. Co je to matice typu (m, n) ?
2. Jak definujeme sčítání matic a násobení matice číslem? Uveďte pravidla pro tyto operace.
3. Jak je definován součin matic?
4. Označme pomocí symbolu (m, n) matici typu (m, n) . Jakého typu jsou (pokud existují) následující součiny?
 a) $(2, 3)(3, 4)$ b) $(4, 1)(1, 2)$ c) $(1, 2)(3, 1)$ d) $(5, 2)(2, 3)$ e) $(3, 4)(3, 4)$ f) $(2, 2)(2, 4)$
5. Kdy řekneme, že matice $\mathbf{A} = (a_{ij})_m^n$ je diagonální?

6. Nechť $\mathbf{A} = (a_{ij})_n$, $\mathbf{B} = (b_{ij})_n$ jsou diagonální matice. Ukažte, že matice $\mathbf{A} \cdot \mathbf{B} = \mathbf{C} = (c_{ij})_n$ je také diagonální, přičemž platí $c_{ij} = \begin{cases} 0 & \text{pro } i \neq j \\ a_{ij}b_{ij} & \text{pro } i = j \end{cases}$.
7. Nechť \mathbf{A} je matice typu (m, n) , $m > 1$, $n > 1$, \mathbf{u}, \mathbf{v} jsou vektory. Za jakých podmínek jsou definovány součiny $\mathbf{A}\mathbf{u}$ resp. $\mathbf{v}\mathbf{A}$?
8. Jak definujeme transponovanou matici?
9. Pro jakou matici \mathbf{A} je definován součin $\mathbf{A}\mathbf{A}^T$ resp. $\mathbf{A}^T\mathbf{A}$?
10. Jak definujeme symetrickou a antisymetrickou matici?
11. Ukažte, že pro čtvercovou matici \mathbf{A} platí $\mathbf{A} + \mathbf{A}^T$ je symetrická, $\mathbf{A} - \mathbf{A}^T$ je antisymetrická matice. Užitím této skutečnosti rozložte matici \mathbf{A} na součet symetrické a antisymetrické matice.
12. Co znamená, že dvě matice jsou ekvivalentní?
13. Co jsou elementární transformace matic?
14. Jak se realizují elementární transformace matic pomocí násobení regulární maticí?
15. Jak je definovaná hodnota matice a jak se počítá?
16. Jak se může změnit hodnota matice, jestliže ji rozšíříme o
 - a) jeden sloupec,
 - b) dva sloupce?
17. Uveďte příklad matice, která má hodnotu
 - a) 1
 - b) 2
 - c) 3
18. Co je to inverzní matice?
19. Existuje-li inverzní matice k matici \mathbf{A} , co můžete říci o inverzní matici k matici $k\mathbf{A}$?
20. Existuje-li inverzní matice k matici \mathbf{A} , co můžete říci o inverzní matici k matici \mathbf{A}^T ?
21. Co můžete říci o matici inverzní k diagonální matici?
22. Platí pro dvě čtvercové matice řádu n vztah $\mathbf{A}^2 - \mathbf{B}^2 = (\mathbf{A} + \mathbf{B}) \cdot (\mathbf{A} - \mathbf{B})$?
23. Uveďte Frobeniovu větu a naznačte její důkaz.
24. Může mít systém 20-ti lineárních algebraických rovnic o 14-ti neznámých jediné řešení? Může nemít řešení? Může mít řešení závislé na dvou, 14-ti, 16-ti parametrech? Vysvětlete!
25. Uveďte příklad systému m lineárních rovnic o n neznámých, kde
 - a) $m = 2$, $n = 4$,
 - b) $m = 1$, $n = 4$,
 který nemá řešení.

26. Může homogenní systém lineárních rovnic nemít řešení? Odůvodněte!
27. Čtvercová soustava homogenních rovnic má netriviální řešení. Co musí platit pro determinant její matice?
28. Je dán systém lineárních rovnic $\mathbf{Ax} = \mathbf{b}$, kde \mathbf{A} je řádu 6×6 . Gaussovou eliminační metodou jsme našli řešení $\mathbf{x} = \mathbf{x}_0 + a_1\mathbf{x}_1 + a_2\mathbf{x}_2$, kde a_1, a_2 jsou libovolná čísla. Je \mathbf{A} regulární? Vysvětlete!

Cvičení

1. Nechť

$$\mathbf{A} = \begin{bmatrix} 2 & 1 & 1 \\ 3 & 1 & 2 \\ 1 & -1 & 0 \end{bmatrix} \quad \mathbf{B} = \begin{bmatrix} 1 & 1 & 1 \\ 2 & 1 & 2 \\ 1 & 2 & 3 \end{bmatrix} \quad \mathbf{C} = \begin{bmatrix} 4 & 1 & 1 \\ -4 & 2 & 0 \\ 1 & 2 & 1 \end{bmatrix}$$

$$\mathbf{D} = \begin{bmatrix} 1 & 2 & 3 \\ 2 & 2 & 1 \\ 3 & 1 & 2 \end{bmatrix} \quad \mathbf{F} = \begin{bmatrix} 3 & 1 & -2 \\ 2 & -1 & 1 \\ 2 & 1 & 1 \end{bmatrix} \quad \mathbf{G} = \begin{bmatrix} 2 & -1 & 1 \\ 1 & 0 & 0 \\ 0 & 1 & 3 \end{bmatrix}$$

Vypočítejte prvky x_{12} a x_{31} matice \mathbf{X} , kde

$$a) \mathbf{X} = \mathbf{G}^2 \quad b) \mathbf{X} = \mathbf{BC} - \mathbf{CB} \quad c) \mathbf{X} = \mathbf{A}^3 - \mathbf{A}^2 + \mathbf{E}_3$$

$$d) \mathbf{X} = \mathbf{DF} + \mathbf{FD} \quad e) \mathbf{X} = (\mathbf{D} + \mathbf{F})(\mathbf{D} - \mathbf{F}) \quad f) \mathbf{X} = \mathbf{D}^2 - \mathbf{F}^2$$

2. Nechť $\mathbf{A} = \begin{bmatrix} 1 & 0 & 5 \\ 8 & 4 & 1 \end{bmatrix}$, $\mathbf{B} = \begin{bmatrix} 3 & 1 & 0 \\ 0 & 8 & 0 \end{bmatrix}$. Určete matice $\mathbf{X}, \mathbf{Y}, \mathbf{Z}$ z rovnic

$$a) 2\mathbf{A} + \mathbf{X} = \mathbf{B}, \quad b) 3(\mathbf{B} - 2\mathbf{Y}) = 4\mathbf{A} + 5\mathbf{Y}, \quad c) \mathbf{A}^T = 2\mathbf{Y} - 3\mathbf{B}^T.$$

3. Určete, jaké podmínky musí splňovat prvky matice $\mathbf{A} = \begin{bmatrix} a & b \\ 0 & c \end{bmatrix}$, aby platilo

$$a) \mathbf{A} \cdot \mathbf{A}^T = \mathbf{E}_2, \quad b) \mathbf{A}^2 = \mathbf{E}_2.$$

4. Pro matici $\mathbf{A} = \begin{bmatrix} a & b \\ c & d \end{bmatrix}$ určete součiny

$$a) \mathbf{A} \cdot \mathbf{A}^T, \quad b) \mathbf{A}^2, \quad c) \mathbf{A} \cdot (\mathbf{E}_2 - \mathbf{A}).$$

5. Vypočítejte $\mathbf{A}^2, \mathbf{A}^3$, je-li $\mathbf{A} = \begin{bmatrix} 1 & 1 & 1 \\ 0 & 1 & 1 \\ 0 & 0 & 1 \end{bmatrix}$.

6. Vypočítejte $\mathbf{X} = \mathbf{A}^n$, je-li

$$a) \mathbf{A} = \begin{bmatrix} 1 & 1 \\ 0 & 1 \end{bmatrix} \quad b) \mathbf{A} = \begin{bmatrix} \cos \alpha & -\sin \alpha \\ \sin \alpha & \cos \alpha \end{bmatrix} \quad c) \mathbf{A} = \begin{bmatrix} 2 & -1 \\ 3 & -2 \end{bmatrix}$$

7. Nalezněte všechny matice, které komutují s maticí \mathbf{A} , kde

$$a) \mathbf{A} = \begin{bmatrix} 0 & 1 \\ 2 & 3 \end{bmatrix} \quad b) \mathbf{A} = \begin{bmatrix} 1 & 3 \\ 2 & 4 \end{bmatrix} \quad c) \mathbf{A} = \begin{bmatrix} 1 & 0 \\ 0 & 1 \end{bmatrix}$$

8. Nalezněte všechny čtvercové matice \mathbf{A} druhého řádu takové, že matice \mathbf{A}^2 je

a) nulová b) jednotková

9. Najděte matici \mathbf{Z} pro kterou platí $\mathbf{AZ} = \mathbf{B}$, je-li

$$a) \mathbf{A} = \begin{bmatrix} 2 & 1 \\ 1 & 0 \end{bmatrix}, \quad \mathbf{B} = \begin{bmatrix} 3 & 2 \\ 1 & 1 \end{bmatrix} \quad b) \mathbf{A} = \begin{bmatrix} 4 & 6 \\ 6 & 9 \end{bmatrix}, \quad \mathbf{B} = \begin{bmatrix} 1 & 1 \\ 1 & 1 \end{bmatrix}$$

10. Určete x, y, z pro která platí

$$a) 2\mathbf{A} = \mathbf{B}^2 + \mathbf{C}, \quad \mathbf{A} = \begin{bmatrix} x & 0 \\ 0 & 1 \end{bmatrix}, \quad \mathbf{B} = \begin{bmatrix} 1 & y \\ -1 & 0 \end{bmatrix}, \quad \mathbf{C} = \begin{bmatrix} 0 & 1 \\ z & 1 \end{bmatrix}$$

$$b) \mathbf{A}(\mathbf{B} + \mathbf{C}) = \mathbf{B}, \quad \mathbf{A} = \begin{bmatrix} -1 & 2 \\ x & -\frac{3}{4} \end{bmatrix}, \quad \mathbf{B} = \begin{bmatrix} 0 & y \\ -1 & 0 \end{bmatrix}, \quad \mathbf{C} = \begin{bmatrix} z & -1 \\ 1 & 2 \end{bmatrix}$$

$$c) \mathbf{A} - 2\mathbf{B} = \mathbf{CA}, \quad \mathbf{A} = \begin{bmatrix} 4 & 1 \\ -2 & 0 \end{bmatrix}, \quad \mathbf{B} = \begin{bmatrix} 2x & y-1 \\ -5 & -1 \end{bmatrix}, \quad \mathbf{C} = \begin{bmatrix} 0 & 1 \\ z & 0 \end{bmatrix}$$

11. Vypočítejte hodnotu následujících matic:

$$a) \mathbf{A} = \begin{bmatrix} 0 & 4 & 10 & 1 \\ 4 & 8 & 18 & 7 \\ 10 & 18 & 40 & 17 \\ 1 & 7 & 17 & 3 \end{bmatrix}$$

$$b) \mathbf{B} = \begin{bmatrix} 2 & 1 & 11 & 2 \\ 1 & 0 & 4 & -1 \\ 11 & 4 & 56 & 5 \\ 2 & -1 & 5 & -6 \end{bmatrix}$$

$$c) \mathbf{C} = \begin{bmatrix} 1 & -2 & 3 & -1 & -1 & -2 \\ 2 & -1 & 1 & 0 & -2 & -2 \\ -2 & -5 & 8 & -4 & 3 & -1 \\ 6 & 0 & -1 & 2 & -7 & -5 \\ -1 & -1 & 1 & -1 & 2 & 1 \end{bmatrix}$$

$$d) \mathbf{D} = \begin{bmatrix} 3 & 2 & -1 & 2 & 0 & 1 \\ 4 & 1 & 0 & -3 & 0 & 2 \\ 2 & -1 & -2 & 1 & 1 & -3 \\ 3 & 1 & 3 & -9 & -1 & 6 \\ 3 & -1 & -5 & 7 & 2 & -7 \end{bmatrix}$$

12. Vyšetřete hodnotu následujících matic v závislosti na parametrech α, β :

$$\begin{aligned} a) \quad \mathbf{A} &= \begin{bmatrix} 2 & 1 & 1 & 1 \\ 1 & 3 & -2 & 18 \\ \alpha & 2 & 1 & 5 \\ 3 & 1 & 2 & -2 \end{bmatrix} & b) \quad \mathbf{B} &= \begin{bmatrix} 3 & \alpha & 10 & 1 \\ 2 & -1 & \alpha & 3 \\ 5 & 10 & 30 & -5 \end{bmatrix} \\ c) \quad \mathbf{C} &= \begin{bmatrix} 2 & 3 & -1 \\ \alpha & \beta & -2 \\ 0 & -1 & 1 \end{bmatrix} & d) \quad \mathbf{D} &= \begin{bmatrix} 4 & 3 & -2 & 1 \\ 2 & -1 & 3 & 4 \\ \alpha & 2 & 1 & 1 \\ \beta & -3 & 2 & 1 \end{bmatrix} \end{aligned}$$

13. Vypočítejte inverzní matici \mathbf{A}^{-1} k matici \mathbf{A} a proveďte zkoušku:

$$\begin{aligned} a) \quad \mathbf{A} &= \begin{bmatrix} a & b \\ c & d \end{bmatrix} & b) \quad \mathbf{A} &= \begin{bmatrix} \cos x & -\sin x \\ \sin x & \cos x \end{bmatrix} \\ c) \quad \mathbf{A} &= \begin{bmatrix} 3 & -2 & 1 \\ 2 & 0 & -1 \\ 1 & -3 & 3 \end{bmatrix} & d) \quad \mathbf{A} &= \begin{bmatrix} 1 & 1 & 1 \\ 1 & 1 & 0 \\ 1 & 0 & 0 \end{bmatrix} \\ e) \quad \mathbf{A} &= \begin{bmatrix} 0 & 1 & -1 \\ 1 & 0 & -1 \\ 0 & -1 & 1 \end{bmatrix} & f) \quad \mathbf{A} &= \begin{bmatrix} 4 & 0 & 0 \\ 2 & -1 & 1 \\ 1 & 0 & 2 \end{bmatrix} \end{aligned}$$

14. Vypočítejte inverzní matici \mathbf{A}^{-1} k matici \mathbf{A} a proveďte zkoušku:

$$\begin{aligned} a) \quad \mathbf{A} &= \begin{bmatrix} 2 & -1 & 1 & 0 \\ 0 & 1 & 2 & -1 \\ -2 & 0 & 0 & 1 \\ 1 & -1 & 1 & 0 \end{bmatrix} & b) \quad \mathbf{A} &= \begin{bmatrix} 0 & 0 & 1 & 1 \\ 0 & 1 & -1 & 0 \\ 1 & 0 & 1 & 1 \\ -1 & 1 & 0 & 0 \end{bmatrix} \\ c) \quad \mathbf{A} &= \begin{bmatrix} 1 & 1 & 1 & 1 \\ 0 & 1 & 1 & 1 \\ 0 & 0 & 1 & 1 \\ 0 & 0 & 0 & 1 \end{bmatrix} & d) \quad \mathbf{A} &= \begin{bmatrix} 1 & 0 & -1 & 2 \\ 1 & 1 & -1 & 1 \\ -2 & 0 & 3 & -6 \\ -4 & -1 & 6 & -10 \end{bmatrix} \end{aligned}$$

15. Určete matici \mathbf{X} , pro kterou platí

$$\begin{aligned} a) \quad \begin{bmatrix} 1 & 2 \\ 3 & 4 \end{bmatrix} \cdot \mathbf{X} &= \begin{bmatrix} 3 & 5 \\ 5 & 9 \end{bmatrix}, & b) \quad \begin{bmatrix} 3 & -1 \\ 5 & -2 \end{bmatrix} \cdot \mathbf{X} \cdot \begin{bmatrix} 5 & 6 \\ 7 & 8 \end{bmatrix} &= \begin{bmatrix} 14 & 16 \\ 9 & 10 \end{bmatrix}, \\ c) \quad \mathbf{X} \cdot \begin{bmatrix} 3 & -2 \\ 5 & -4 \end{bmatrix} &= \begin{bmatrix} -1 & 2 \\ -5 & 6 \end{bmatrix}, & d) \quad \begin{bmatrix} 1 & 2 & -3 \\ 3 & 2 & -4 \\ 2 & -1 & 0 \end{bmatrix} \cdot \mathbf{X} &= \begin{bmatrix} 1 & -2 & 0 \\ 10 & 2 & 7 \\ 10 & 7 & 8 \end{bmatrix}. \end{aligned}$$

16. Metodou inverzní matice řešte lineární soustavy rovnic

$$a) \quad \begin{bmatrix} 5 & -8 \\ 5 & 4 \end{bmatrix} \cdot \mathbf{x} = \begin{bmatrix} 0 \\ 6 \end{bmatrix}, \quad b) \quad \begin{bmatrix} 2 & -4 & 0 \\ 0 & 2 & -4 \\ 4 & 0 & -2 \end{bmatrix} \cdot \mathbf{x} = \begin{bmatrix} -11 \\ 29 \\ 17 \end{bmatrix}.$$

17. Pomocí Frobeniovy věty rozhodněte, při jakých hodnotách parametrů α, β má daná soustava rovnic alespoň jedno řešení:

$$\begin{array}{l} a) \quad \alpha x - 2y + \beta z = 1 \\ \quad -2x + \beta y - 2z = 3 \\ \quad \quad x - y + z = 0 \end{array} \quad b) \quad \begin{array}{l} x + 2y - z = 3 \\ 2x - y + z = 0 \\ -x + y + \alpha z = 1 \end{array}$$

$$\begin{array}{l} c) \quad x - y + z - u = 1 \\ \quad 2x + y + z + 2u = 0 \\ \quad \quad -y - 2z + u = 0 \\ \quad \quad \quad 2y + 2z + \alpha u = \beta \end{array} \quad d) \quad \begin{array}{l} -2x + 2y - z + u = 2 \\ \quad x - y + 3z - u = -2 \\ \quad \quad 3x - 3y + 2z + 2u = \alpha \end{array}$$

18. Rozhodněte, zda daná soustava má řešení. V kladném případě všechna řešení nalezněte.

$$\begin{array}{l} a) \quad 2x - y + z = 4 \\ \quad x + y - z = -1 \\ \quad \quad 3x - 7y - 2z = -1 \\ \quad \quad \quad -2x + 5y + z = 1 \end{array} \quad b) \quad \begin{array}{l} y + 2z = -6 \\ 2x - y - z = 4 \\ 3x + y - z = 9 \\ 5x + 2y = 9 \end{array}$$

$$\begin{array}{l} c) \quad x - 2y + 3z - u = 0 \\ \quad 3x - y + z + u = 1 \\ \quad \quad x + y - 13z + 7u = 2 \end{array} \quad d) \quad \begin{array}{l} 2x - y = 0 \\ 3x - z = 0 \\ 4x - u = 0 \\ 8x - 7y + 6z - 5u = 16 \end{array}$$

$$\begin{array}{l} e) \quad 2x + y + z + u + v = 2 \\ \quad x + 2y + z + u + v = 0 \\ \quad \quad x + y + 3z + u + v = 3 \\ \quad \quad \quad x + y + z + 4u + v = -2 \\ \quad \quad \quad \quad x + y + z + u + 5v = 5 \end{array} \quad f) \quad \begin{array}{l} x + 2y + 3z + 4u + 5v = 13 \\ 2x + y + 2z + 3u + 4v = 10 \\ 2x + 2y + z + 2u + 3v = 11 \\ 2x + 2y + 2z + u + 2v = 6 \\ 2x + 2y + 2z + 2u + v = 3 \end{array}$$

19. Zjistěte, jaké podmínky musí splňovat koeficienty daných homogenních soustav, aby měly nenulové řešení:

$$\begin{array}{l} a) \quad ax + by + z = 0 \\ \quad cx + dy - u = 0 \\ \quad \quad -ey + cz + au = 0 \\ \quad \quad \quad ey + dz + bu = 0 \end{array} \quad b) \quad \begin{array}{l} ax + by + cz + du = 0 \\ bx - ay + dz - cu = 0 \\ cx - dy - az + bu = 0 \\ dx + cy - bz - au = 0 \end{array}$$

$$\begin{array}{l} c) \quad x - by - cz - du - ev = 0 \\ \quad -ax + y - cz - du - ev = 0 \\ \quad \quad -ax - by + z - du - ev = 0 \\ \quad \quad \quad -ax - by - cz + u - ev = 0 \\ \quad \quad \quad \quad -ax - by - cz - du + v = 0 \end{array}$$

20. Zjistěte, pro které parametry λ mají následující homogenní soustavy netriviální řešení (jsou to skutečně homogenní soustavy?). Najděte všechna netriviální řešení daných soustav odpovídající nalezeným hodnotám λ .

$$\begin{array}{lll} \text{a)} & \begin{array}{l} 2x + y = \lambda x \\ x + 2y = \lambda y \end{array} & \text{b)} & \begin{array}{l} 2x - y = \lambda x \\ -x + 2y = \lambda y \end{array} & \text{c)} & \begin{array}{l} x - 2y = \lambda x \\ 4x - 8y = \lambda y \end{array} \\ \\ \text{d)} & \begin{array}{l} z = \lambda x \\ z = \lambda y \\ x + y + 2z = \lambda z \end{array} & \text{e)} & \begin{array}{l} x + y + z = \lambda x \\ y + z = \lambda y \\ 2z = \lambda z \end{array} & \text{f)} & \begin{array}{l} 2x + y + z = \lambda x \\ x + 2y + z = \lambda y \\ x + y + 2z = \lambda z \end{array} \end{array}$$

Výsledky

1. a) $-1, 1$, b) $-2, -7$, c) $4, -2$, d) $8, 22$, e) $13, -7$, f) $9, 1$;

2. a) $\mathbf{X} = \begin{bmatrix} 1 & 1 & -10 \\ -16 & 0 & -2 \end{bmatrix}$, b) $\mathbf{Y} = \begin{bmatrix} \frac{5}{11} & \frac{3}{11} & -\frac{20}{11} \\ -\frac{32}{11} & \frac{8}{11} & -\frac{4}{11} \end{bmatrix}$, c) $\mathbf{Z} = \begin{bmatrix} -4 & 4 \\ -\frac{3}{2} & -10 \\ -\frac{5}{2} & \frac{1}{2} \end{bmatrix}$;

3. a) $a^2 = c^2 = 1, b = 0$, b) $a^2 = c^2 = 1, b(a + c) = 0$;

4. a) $\begin{bmatrix} a^2 + b^2 & ac + bd \\ ac + bd & c^2 + d^2 \end{bmatrix}$, b) $\begin{bmatrix} a^2 + bc & ab + bd \\ ac + cd & bc + d^2 \end{bmatrix}$, c) $\begin{bmatrix} a - a^2 - bc & b - ab - bd \\ c - ac - cd & c - bc - d^2 \end{bmatrix}$;

5. $\mathbf{A}^2 = \begin{bmatrix} 1 & 2 & 3 \\ 0 & 1 & 2 \\ 0 & 0 & 1 \end{bmatrix}$, $\mathbf{A}^3 = \begin{bmatrix} 1 & 3 & 6 \\ 0 & 1 & 3 \\ 0 & 0 & 1 \end{bmatrix}$

6. a) $\begin{bmatrix} 1 & n \\ 0 & 1 \end{bmatrix}$, b) $\begin{bmatrix} \cos n\alpha & -\sin n\alpha \\ \sin n\alpha & \cos n\alpha \end{bmatrix}$, c) E_2 pro n sudé, A pro n liché;

7. a) $\begin{bmatrix} b - 3a & a \\ 2a & b \end{bmatrix}$, b) $\begin{bmatrix} b - 3a & 2a \\ 3a & b \end{bmatrix}$, c) každá čtvercová matice 2. řádu;

8. a) $\begin{bmatrix} 0 & 0 \\ c & 0 \end{bmatrix}$ nebo $\begin{bmatrix} a & b \\ -\frac{a^2}{b} & -a \end{bmatrix}$, $b \neq 0$, b) $\pm E_2$ nebo $\pm \begin{bmatrix} 1 & 0 \\ c & -1 \end{bmatrix}$ nebo $\begin{bmatrix} a & b \\ \frac{1-a^2}{b} & -a \end{bmatrix}$;

9. a) $\begin{bmatrix} 1 & 1 \\ 1 & 0 \end{bmatrix}$, b) neex.;

10. a) $x = 1, y = -1, z = 1$, b) neex., c) $x = \frac{3}{2}, y = \frac{3}{2}, z = 2$;

11. a) 2, b) 2, c) 3, d) 3;

12. a) 2 pro $\alpha = 3$, 3 pro $\alpha \neq 3$, b) 2 pro $\alpha = 2$, 3 pro $\alpha \neq 2$, c) 2 pro $\beta = \alpha + 2$, 3 pro $\beta \neq \alpha + 2$, d) 3 pro $\alpha = -2(\beta + 1)$, 4 pro $\alpha \neq -2(\beta + 1)$.

13. a) $\frac{1}{ad-bc} \begin{bmatrix} d & -b \\ -c & a \end{bmatrix}$, b) A^T , c) $\begin{bmatrix} 3 & -3 & -2 \\ 7 & -8 & -5 \\ 6 & -7 & -4 \end{bmatrix}$, d) $\begin{bmatrix} 0 & 0 & 1 \\ 0 & 1 & -1 \\ 1 & -1 & 0 \end{bmatrix}$, e) neex., f) $\frac{1}{8} \begin{bmatrix} 2 & 0 & 0 \\ 3 & -8 & 4 \\ -1 & 0 & 4 \end{bmatrix}$;

14. a) $\frac{1}{3} \begin{bmatrix} 3 & 0 & 0 & -3 \\ 4 & 1 & 1 & -6 \\ 1 & 1 & 1 & 0 \\ 6 & 0 & 3 & -6 \end{bmatrix}$, b) $\begin{bmatrix} -1 & 0 & 1 & 0 \\ -1 & 0 & 1 & 1 \\ -1 & -1 & 1 & 1 \\ 2 & 1 & -1 & -1 \end{bmatrix}$, c) $\begin{bmatrix} 1 & -1 & 0 & 0 \\ 0 & 1 & -1 & 0 \\ 0 & 0 & 1 & -1 \\ 0 & 0 & 0 & 1 \end{bmatrix}$, d) $\begin{bmatrix} 3 & 0 & 1 & 0 \\ -2 & 2 & -2 & 1 \\ 0 & 2 & -3 & 2 \\ -1 & 1 & -2 & 1 \end{bmatrix}$;

15. a) $\begin{bmatrix} 1 & -1 \\ 2 & 3 \end{bmatrix}$, b) $\begin{bmatrix} 1 & 2 \\ 3 & 4 \end{bmatrix}$, c) $\begin{bmatrix} 3 & -2 \\ 5 & -4 \end{bmatrix}$, d) $\begin{bmatrix} 6 & 4 & 5 \\ 2 & 1 & 2 \\ 3 & 3 & 3 \end{bmatrix}$;

16. a) $\mathbf{x} = \begin{bmatrix} \frac{4}{5} \\ \frac{1}{2} \end{bmatrix}$, b) $\mathbf{x} = \begin{bmatrix} \frac{3}{2} \\ \frac{7}{2} \\ -\frac{11}{2} \end{bmatrix}$; 17. a) nemá řeš. pro $\alpha = \beta \vee \beta = 2$, b) nemá řeš. pro $\alpha = -\frac{4}{5}$, c) nemá řeš. pro

$\alpha = 0 \wedge \beta \neq -\frac{4}{7}$, d) má řeš. $\forall \alpha$;

18. a) nemá řeš., b) $(1, 2, -4)$, c) $(\frac{1}{4} - t, 0, t, \frac{1}{4} + 2t)$, d) $(-2, -4, -6, -8)$, e) $(1, -1, 1, -1, 1)$, f) $(0, 2, -2, 0, 3)$;

19. a) netrív. řešení pro $ad - bc = 0 \vee ad - bc = e$, b) netrív. řešení pouze pro $(a, b, c, d) = (0, 0, 0, 0)$, c) netrív. řešení pro některé dva parametry současně rovny -1 ;

20. a) $\lambda_1 = 3, \mathbf{v}_1 = \alpha(1, 1); \lambda_2 = 1, \mathbf{v}_2 = \alpha(-1, 1)$, b) $\lambda_1 = 1, \mathbf{v}_1 = \alpha(1, 1); \lambda_2 = 3, \mathbf{v}_2 = \alpha(-1, 1)$, c) $\lambda_1 = -7, \mathbf{v}_1 = \alpha(1, 4); \lambda_2 = 0, \mathbf{v}_2 = \alpha(2, 1)$, d) $\lambda_1 = 1 + \sqrt{3}, \mathbf{v}_1 = \alpha(1, 1, 1 + \sqrt{3}); \lambda_2 = 1 - \sqrt{3}, \mathbf{v}_2 = \alpha(1, 1, 1 - \sqrt{3}); \lambda_3 = 0, \mathbf{v}_3 = \alpha(-1, 1, 0)$, e) $\lambda_1 = 2, \mathbf{v}_1 = \alpha(2, 1, 1); \lambda_2 = 1, \mathbf{v}_2 = \alpha(1, 0, 0)$, f) $\lambda_1 = 4, \mathbf{v}_1 = \alpha(1, 1, 1); \lambda_2 = 1, \mathbf{v}_2 = \alpha(-1, 0, 1) + \beta(-1, 1, 0)$;

2.4 Determinanty

Motivace

Uvažujme soustavu

$$\begin{aligned} a_{11}x_1 + a_{12}x_2 &= b_1 \\ a_{21}x_1 + a_{22}x_2 &= b_2 \end{aligned}$$

dvou rovnic o dvou neznámých. Násobme první rovnici číslem a_{22} , druhou číslem $-a_{12}$ a takto získané rovnice sečteme. Dále vynásobíme první rovnici číslem $-a_{21}$, druhou číslem a_{11} a znovu sečteme. Dostaneme soustavu

$$\begin{aligned} (a_{11}a_{22} - a_{12}a_{21})x_1 &= b_1a_{22} - b_2a_{12} \\ (a_{11}a_{22} - a_{12}a_{21})x_2 &= a_{11}b_2 - a_{21}b_1 \end{aligned}$$

Je vidět, že naše soustava bude mít řešení jedině v tom případě, jestliže číslo

$$D = a_{11}a_{22} - a_{12}a_{21}$$

bude různé od nuly; toto číslo má tedy podstatnou úlohu při řešení naší jednoduché soustavy – determinuje její řešení.

Toto číslo nazveme **determinantem** matice $\mathbf{A} = \begin{bmatrix} a_{11} & a_{12} \\ a_{21} & a_{22} \end{bmatrix}$ a označujeme ho

$\begin{vmatrix} a_{11} & a_{12} \\ a_{21} & a_{22} \end{vmatrix}$, nebo $|\mathbf{A}|$, popřípadě $\det \mathbf{A}$.

Označíme-li

$$D_1 = \begin{vmatrix} b_1 & a_{12} \\ b_2 & a_{22} \end{vmatrix} = b_1a_{22} - b_2a_{12}, \quad D_2 = \begin{vmatrix} a_{11} & b_1 \\ a_{21} & b_2 \end{vmatrix} = a_{11}b_2 - a_{21}b_1,$$

platí pro řešení naší soustavy

$$(x_1, x_2) = \left(\frac{D_1}{D}, \frac{D_2}{D} \right).$$

Vzorec pro výpočet hodnoty determinantu

$$|\mathbf{A}| = \begin{vmatrix} a_{11} & a_{12} \\ a_{21} & a_{22} \end{vmatrix} = a_{11}a_{22} - a_{12}a_{21}$$

se nazývá **křížové pravidlo** pro determinant druhého řádu (prvky determinantu se násobí do kříže).

Všimneme si ještě soustavy tří rovnic o třech neznámých

$$\begin{aligned} a_{11}x_1 + a_{12}x_2 + a_{13}x_3 &= b_1 \\ a_{21}x_1 + a_{22}x_2 + a_{23}x_3 &= b_2 \\ a_{31}x_1 + a_{32}x_2 + a_{33}x_3 &= b_3 \end{aligned}$$

První rovnici násobíme číslem

$$|\mathbf{A}_{11}| = \begin{vmatrix} a_{22} & a_{23} \\ a_{32} & a_{33} \end{vmatrix} = a_{22}a_{33} - a_{23}a_{32},$$

druhou číslem

$$|\mathbf{A}_{21}| = \begin{vmatrix} a_{12} & a_{13} \\ a_{32} & a_{33} \end{vmatrix} = a_{12}a_{33} - a_{13}a_{32},$$

třetí číslem

$$|\mathbf{A}_{31}| = \begin{vmatrix} a_{12} & a_{13} \\ a_{22} & a_{23} \end{vmatrix} = a_{12}a_{23} - a_{13}a_{22}$$

a vzniklé rovnice sečteme. Dostaneme

$$(a_{11}|\mathbf{A}_{11}| - a_{21}|\mathbf{A}_{21}| + a_{31}|\mathbf{A}_{31}|)x_1 = b_1|\mathbf{A}_{11}| - b_2|\mathbf{A}_{21}| + b_3|\mathbf{A}_{31}|.$$

Koeficient u x_1 je číslo

$$a_{11}a_{22}a_{33} + a_{13}a_{21}a_{32} + a_{12}a_{23}a_{31} - a_{12}a_{21}a_{33} - a_{11}a_{23}a_{32} - a_{13}a_{22}a_{31},$$

které opět označíme písmenem D .

Provedeme další analogické úpravy pro osamostatnění proměnných x_2, x_3 a dostaneme

$$\begin{aligned} Dx_1 &= b_1|\mathbf{A}_{11}| - b_2|\mathbf{A}_{21}| + b_3|\mathbf{A}_{31}| \\ Dx_2 &= -b_1|\mathbf{A}_{12}| + b_2|\mathbf{A}_{22}| - b_3|\mathbf{A}_{32}| \\ Dx_3 &= b_1|\mathbf{A}_{13}| - b_2|\mathbf{A}_{23}| + b_3|\mathbf{A}_{33}| \end{aligned}$$

a odtud již snadno určíme řešení soustavy za předpokladu, že číslo D je různé od nuly.

Číslo D opět nazveme **determinantem matice \mathbf{A}** a označíme ho $|\mathbf{A}|$. Platí tedy

$$|\mathbf{A}| = \begin{vmatrix} a_{11} & a_{12} & a_{13} \\ a_{21} & a_{22} & a_{23} \\ a_{31} & a_{32} & a_{33} \end{vmatrix} = a_{11}a_{22}a_{33} + a_{13}a_{21}a_{32} + a_{12}a_{23}a_{31} - a_{12}a_{21}a_{33} - a_{11}a_{23}a_{32} - a_{13}a_{22}a_{31}.$$

Tento postup výpočtu hodnoty determinantu třetího řádu se nazývá **Sarusovo pravidlo**; asi nejlépe si ho zapamatujeme takto:

Utvoříme následující schema :

$$\begin{vmatrix} a_{11} & a_{12} & a_{13} & a_{11} & a_{12} \\ a_{21} & a_{22} & a_{23} & a_{21} & a_{22} \\ a_{31} & a_{32} & a_{33} & a_{31} & a_{32} \end{vmatrix}$$

a budeme násobit trojice prvků v diagonálách shora dolů; ve směru zleva doprava je opatříme znaménkem $+$ a ve směru zprava doleva znaménkem $-$ a vzniklé výrazy sečteme.

Vraťme se k naší soustavě: Jestliže dále označíme

$$D_1 = \begin{vmatrix} b_1 & a_{12} & a_{13} \\ b_2 & a_{22} & a_{23} \\ b_3 & a_{32} & a_{33} \end{vmatrix}, \quad D_2 = \begin{vmatrix} a_{11} & b_1 & a_{13} \\ a_{21} & b_2 & a_{23} \\ a_{31} & b_3 & a_{33} \end{vmatrix}, \quad D_3 = \begin{vmatrix} a_{11} & a_{12} & b_1 \\ a_{21} & a_{22} & b_2 \\ a_{31} & a_{32} & b_3 \end{vmatrix},$$

platí pro řešení soustavy

$$(x_1, x_2, x_3) = \left(\frac{D_1}{D}, \frac{D_2}{D}, \frac{D_3}{D} \right).$$

Pro řešení rozsáhlejších soustav analogickým způsobem je užitečné zavést pojem determinantu obecně.

V hlavní definici budeme potřebovat pojem **permutace**, se kterým jste se již setkali na střední škole; připomeneme si ho.

Permutace

Definice 2.61. **Permutací** p množiny M rozumíme libovolné vzájemně jednoznačné zobrazení $p : M \rightarrow M$ (tedy přeskupení, přerovnání prvků množiny). Je-li $M = \{1, 2, \dots, n\}$ (množina indexů), p – permutace této množiny, zapisujeme ji obvykle ve tvaru $p = \begin{pmatrix} 1 & 2 & \cdots & n \\ p(1) & p(2) & \cdots & p(n) \end{pmatrix}$, nebo jednoduše $p = (p(1) p(2) \cdots p(n))$.

Příklad 2.62. Buď $M = \{1, 2, 3, 4\}$. Definujme zobrazení p předpisem

$$p(1) = 3, p(2) = 4, p(3) = 2, p(4) = 1.$$

Toto zobrazení je permutace a píšeme

$$p = \begin{pmatrix} 1 & 2 & 3 & 4 \\ 3 & 4 & 2 & 1 \end{pmatrix} \quad \text{neboli} \quad p = (3 \ 4 \ 2 \ 1).$$

Definice 2.63. 1. **Inverzí** v permutaci $p = (p(1) p(2) \cdots p(n))$ nazýváme dvojici (i, j) takovou, že $i < j$, $p(i) > p(j)$.

2. Permutace p je **sudá** (resp. **lichá**), má-li sudý (resp. lichý) počet inverzí.

3. Číslo $(-1)^k$, kde k je počet inverzí v permutaci p , se nazývá **znaménko** permutace p a značí se $\text{sgn}(p)$.

Příklad 2.64. a) Identická permutace $id = (1 \ 2 \ \cdots \ n)$ nemá žádnou inverzi – je sudá.

b) Permutace $p = (2 \ 3 \ \cdots \ n \ 1)$ má $n - 1$ inverzí.

c) Permutace z předchozího příkladu, $p = (3 \ 4 \ 2 \ 1)$, má 5 inverzí – $(3, 2)$, $(3, 1)$, $(4, 2)$, $(4, 1)$, $(2, 1)$ – je lichá.

Definice determinantu

Definice 2.65. Nechť je dána čtvercová matice

$$\mathbf{A} = \begin{bmatrix} a_{11} & a_{12} & \cdots & a_{1n} \\ a_{21} & a_{22} & \cdots & a_{2n} \\ \vdots & \vdots & \ddots & \vdots \\ a_{n1} & a_{n2} & \cdots & a_{nn} \end{bmatrix}.$$

Nechť $p(1), p(2), \dots, p(n)$ je libovolná permutace čísel $1, 2, \dots, n$ (permutací je $n!$). Utvořme součin $a_{1p(1)} \cdot a_{2p(2)} \cdot a_{3p(3)} \cdots a_{np(n)}$ a vynásobme jej číslem (-1) v případě, že permutace je lichá; jinak ponechejme součin beze změny. Provedeme-li to pro všechny permutace, dostaneme $n!$ součinů. Jejich součet se pak nazývá **determinant n -tého řádu matice \mathbf{A}** a označuje se $|\mathbf{A}|$, popřípadě $\det \mathbf{A}$. Píšeme

$$|\mathbf{A}| = \begin{vmatrix} a_{11} & a_{12} & \cdots & a_{1n} \\ a_{21} & a_{22} & \cdots & a_{2n} \\ \vdots & \vdots & \ddots & \vdots \\ a_{n1} & a_{n2} & \cdots & a_{nn} \end{vmatrix}.$$

Platí tedy

$$|\mathbf{A}| = \sum_p \operatorname{sgn}(p) a_{1p(1)} a_{2p(2)} \cdots a_{np(n)},$$

kde se sčítá přes všechny permutace p množiny $\{1, 2, \dots, n\}$.

Pro **výpočet determinantu** tedy sestavujeme všechny možné součiny o n činitelích tak, že z každého sloupce a každého řádku vybereme vždy právě jeden činitel. V každém takovém součinu uspořádáme činitele podle prvních (řádkových) indexů (musí se, pochopitelně, vyskytnout všechny); pořadí sloupcových indexů tvoří permutaci, jejíž sudost nebo lichost určuje znaménko tohoto součinu ve výsledném součtu. Takových součinů je tolik, jako je permutací množiny sloupcových indexů – tedy pro determinant n -tého řádu je to $n!$. Součet všech takto vytvořených součinů opatřených příslušnými znaménky je pak hodnota determinantu.

Jako cvičení je dobré ověřit, že křížové resp. Sarusovo pravidlo, jak jsme je výše uvedli, přesně odpovídá výpočtu hodnoty determinantu druhého resp. třetího řádu podle definice.

Pro výpočet determinantu, resp. pro kontrolu správnosti výpočtů je možné použít [tento Maplet](#).

Využitím hlubší znalosti vlastností permutací se dá dokázat následující důležitá věta:

Věta 2.66. Nechť \mathbf{A} je čtvercová matice. Potom platí: $|\mathbf{A}^T| = |\mathbf{A}|$.

Význam věty spočívá v tom, že nahradíme-li v libovolném tvrzení o determinantech slovo „řádek“ slovem „sloupec“, dostáváme opět platné tvrzení o determinantech. Proto budeme formulovat věty pro determinanty pouze pro řádky.

Základní vlastnosti determinantů, výpočet determinantů

Výpočet hodnoty determinantu přímo z definice se prakticky neprovádí – počet sčítanců v definiční sumě je $n!$. Efektivnější metody výpočtu vyplývají z následujících tvrzení:

Věta 2.67. *Nechť \mathbf{A} je čtvercová matice. Potom platí:*

1. *Jestliže matice \mathbf{A} obsahuje nulový řádek, potom $|\mathbf{A}| = 0$.*
2. *Jestliže matice \mathbf{B} vznikne z matice \mathbf{A} výměnou dvou řádků, potom platí $|\mathbf{B}| = -|\mathbf{A}|$.*
3. *Jestliže matice \mathbf{A} má dva řádky stejné, potom $|\mathbf{A}| = 0$.*
4. *Jestliže \mathbf{B} vznikne z matice \mathbf{A} vynásobením jednoho řádku číslem λ , potom platí $|\mathbf{B}| = \lambda|\mathbf{A}|$.*
5. *Pro libovolné číslo $j \in \{1, 2, \dots, n\}$ platí*

$$\begin{vmatrix} a_{11} & \cdots & a_{1n} \\ \vdots & \ddots & \vdots \\ a_{j1} + b_{j1} & \cdots & a_{jn} + b_{jn} \\ \vdots & \ddots & \vdots \\ a_{n1} & \cdots & a_{nn} \end{vmatrix} = \begin{vmatrix} a_{11} & \cdots & a_{1n} \\ \vdots & \ddots & \vdots \\ a_{j1} & \cdots & a_{jn} \\ \vdots & \ddots & \vdots \\ a_{n1} & \cdots & a_{nn} \end{vmatrix} + \begin{vmatrix} a_{11} & \cdots & a_{1n} \\ \vdots & \ddots & \vdots \\ b_{j1} & \cdots & b_{jn} \\ \vdots & \ddots & \vdots \\ a_{n1} & \cdots & a_{nn} \end{vmatrix}$$

6. *Determinant matice, v níž je jeden řádek lineární kombinací ostatních, je roven nule.*
7. *Determinant se nezmění, jestliže k libovolnému řádku přičteme lineární kombinaci ostatních.*
8. *Determinant trojúhelníkové resp. diagonální matice je roven součinu prvků v její hlavní diagonále.*
9. *Determinant jednotkové matice je roven jedné.*

Příklad 2.68. Máme vyjádřit následující součet tří determinantů jedním determinatem:

$$\begin{vmatrix} 1 & 2 & 3 \\ -2 & 5 & 4 \\ 2 & -1 & -2 \end{vmatrix} + \begin{vmatrix} 1 & 2 & 3 \\ 2 & -1 & -2 \\ 4 & 2 & -1 \end{vmatrix} + 2 \begin{vmatrix} 0 & 3 & 5 \\ 2 & -1 & -2 \\ 1 & 2 & 3 \end{vmatrix}.$$

Řešení. Ve druhém determinantu zaměníme 2. a 3. řádek, ve třetím nejdříve 2. a 3. řádek a poté 1. a 2. řádek; vzniklý 2. řádek násobíme koeficientem 2:

$$\begin{vmatrix} 1 & 2 & 3 \\ -2 & 5 & 4 \\ 2 & -1 & -2 \end{vmatrix} - \begin{vmatrix} 1 & 2 & 3 \\ 4 & 2 & -1 \\ 2 & -1 & -2 \end{vmatrix} + \begin{vmatrix} 1 & 2 & 3 \\ 0 & 6 & 10 \\ 2 & -1 & -2 \end{vmatrix} =$$

Vzniklé determinanty se liší pouze ve druhém řádku, podle části 5. věty 2.67 tedy dostaneme

$$= \begin{vmatrix} 1 & 2 & 3 \\ -6 & 9 & 15 \\ 2 & -1 & -2 \end{vmatrix} = -3 \begin{vmatrix} 1 & 2 & 3 \\ 2 & -3 & -5 \\ 2 & -1 & -2 \end{vmatrix}$$

□

Poznámka: Hodnotu determinantu můžeme vyčíslit tak, že pomocí pravidel ve větě 2.67 (Gaussovou eliminací) matici upravíme na trojúhelníkový tvar a poté vynásobíme prvky v hlavní diagonále:

Příklad 2.69. Pomocí dovolených úprav máme vypočítat hodnotu determinantu

$$D = \begin{vmatrix} 1 & 1 & 1 & 1 \\ 1 & 2 & 3 & 4 \\ 1 & 3 & 6 & 10 \\ 1 & 4 & 10 & 20 \end{vmatrix}.$$

Řešení. Provedeme postupně následující úpravy:

$$D \stackrel{\substack{r_2-r_1 \rightarrow r_2 \\ r_3-r_1 \rightarrow r_3 \\ r_4-r_1 \rightarrow r_4}}{=} \begin{vmatrix} 1 & 1 & 1 & 1 \\ 0 & 1 & 2 & 3 \\ 0 & 1 & 3 & 6 \\ 0 & 1 & 4 & 10 \end{vmatrix} \stackrel{\substack{r_3-r_2 \rightarrow r_3 \\ r_4-r_2 \rightarrow r_4}}{=} \begin{vmatrix} 1 & 1 & 1 & 1 \\ 0 & 1 & 2 & 3 \\ 0 & 0 & 1 & 3 \\ 0 & 0 & 1 & 4 \end{vmatrix} \stackrel{r_4-r_3 \rightarrow r_4}{=} \begin{vmatrix} 1 & 1 & 1 & 1 \\ 0 & 1 & 2 & 3 \\ 0 & 0 & 1 & 3 \\ 0 & 0 & 0 & 1 \end{vmatrix}.$$

To je determinant horní trojúhelníkové matice, a tedy $D = 1$. □

Pomocí podrobnějšího rozepsání definice determinantu dostaneme rekurzivní metodu pro výpočet determinantu; nejdříve definujeme pomocný pojem **algebraického doplňku** a dále pojem **adjungované matice**, který budeme později potřebovat:

Definice 2.70. 1. Je-li $|\mathbf{A}_{ij}|$ determinant submatice (**subdeterminant**) matice \mathbf{A} , která je příslušná k prvku a_{ij} , tedy vznikla vynecháním i -tého řádku a j -tého sloupce v matici \mathbf{A} , potom číslo \mathcal{A}_{ij} definované předpisem

$$\mathcal{A}_{ij} = (-1)^{i+j} |\mathbf{A}_{ij}|$$

se nazývá **algebraickým doplňkem** prvku a_{ij} matice \mathbf{A} .

2. Matice

$$\mathbf{A}^* = (\mathcal{A}_{ij})^T$$

se nazývá *adjungovaná matice* k matici \mathbf{A} .

Příklad 2.71. Vypočítáme $|\mathbf{A}|$ a \mathbf{A}^* , je-li

$$\mathbf{A} = \begin{bmatrix} \frac{1}{3} & -\frac{2}{3} & \frac{2}{3} \\ \frac{2}{3} & -\frac{1}{3} & -\frac{2}{3} \\ \frac{2}{3} & \frac{2}{3} & \frac{1}{3} \end{bmatrix}$$

Řešení.

$$\begin{aligned} |\mathbf{A}| &= \frac{1}{27} \begin{vmatrix} 1 & -2 & 2 \\ 2 & -1 & -2 \\ 2 & 2 & 1 \end{vmatrix} = \frac{1}{27} \begin{vmatrix} 1 & -2 & 2 \\ 0 & -3 & -3 \\ 0 & 6 & -3 \end{vmatrix} = \\ &= -\frac{1}{3} \begin{vmatrix} 1 & -2 & 2 \\ 0 & 1 & 1 \\ 0 & 2 & -1 \end{vmatrix} = -\frac{1}{3} \begin{vmatrix} 1 & -2 & 2 \\ 0 & 1 & 1 \\ 0 & 0 & -3 \end{vmatrix} = 1 \end{aligned}$$

$$\mathcal{A}_{11} = (-1)^{1+1} \frac{1}{9} \begin{vmatrix} -1 & -2 \\ 2 & 1 \end{vmatrix} = \frac{1}{9}(-1 + 4) = \frac{1}{3}$$

$$\mathcal{A}_{12} = (-1)^{1+2} \frac{1}{9} \begin{vmatrix} 2 & -2 \\ 2 & 1 \end{vmatrix} = -\frac{1}{9}(2 + 4) = -\frac{2}{3}$$

$$\mathcal{A}_{13} = (-1)^{1+3} \frac{1}{9} \begin{vmatrix} 2 & -1 \\ 2 & 2 \end{vmatrix} = \frac{1}{9}(4 + 2) = \frac{2}{3}$$

$$\mathcal{A}_{21} = (-1)^{2+1} \frac{1}{9} \begin{vmatrix} -2 & 2 \\ 2 & 1 \end{vmatrix} = -\frac{1}{9}(-2 - 4) = \frac{2}{3}$$

$$\mathcal{A}_{22} = (-1)^{2+2} \frac{1}{9} \begin{vmatrix} 1 & 2 \\ 2 & 1 \end{vmatrix} = \frac{1}{9}(1 - 4) = -\frac{1}{3}$$

$$\mathcal{A}_{23} = (-1)^{2+3} \frac{1}{9} \begin{vmatrix} 1 & -2 \\ 2 & 2 \end{vmatrix} = -\frac{1}{9}(2 + 4) = -\frac{2}{3}$$

$$\mathcal{A}_{31} = (-1)^{3+1} \frac{1}{9} \begin{vmatrix} -2 & 2 \\ -1 & -2 \end{vmatrix} = \frac{1}{9}(4 + 2) = \frac{2}{3}$$

$$\mathcal{A}_{32} = (-1)^{3+2} \frac{1}{9} \begin{vmatrix} 1 & 2 \\ 2 & -2 \end{vmatrix} = -\frac{1}{9}(-2 - 4) = \frac{2}{3}$$

$$\mathcal{A}_{33} = (-1)^{3+3} \frac{1}{9} \begin{vmatrix} 1 & -2 \\ 2 & -1 \end{vmatrix} = \frac{1}{9}(-1 + 4) = \frac{1}{3}$$

$$(\mathcal{A}_{ij}) = \mathbf{A}, \quad \mathbf{A}^* = (\mathcal{A}_{ij})^T = \begin{bmatrix} \frac{1}{3} & \frac{2}{3} & \frac{2}{3} \\ -\frac{2}{3} & -\frac{1}{3} & \frac{2}{3} \\ \frac{2}{3} & -\frac{2}{3} & \frac{1}{3} \end{bmatrix}$$

□

Pomocí pojmu algebraického doplňku můžeme formulovat větu, na základě které se skutečně vyhodnocují determinanty řádu většího než tři:

Věta 2.72. (Laplaceova o rozvoji determinantu) *Nechť \mathbf{A} je čtvercová matice n -tého řádu a nechť r je libovolné číslo z množiny $\{1, 2, \dots, n\}$. Potom platí vztahy*

$$|\mathbf{A}| = a_{r1}\mathcal{A}_{r1} + a_{r2}\mathcal{A}_{r2} + \dots + a_{rn}\mathcal{A}_{rn}$$

– *rozvoj determinantu podle r -tého řádku a*

$$|\mathbf{A}| = a_{1r}\mathcal{A}_{1r} + a_{2r}\mathcal{A}_{2r} + \dots + a_{nr}\mathcal{A}_{nr}$$

– *rozvoj determinantu podle r -tého sloupce.*

Důkaz spočívá v podrobnějším rozepsání definice determinantu; opět je dobré ověřit tvrzení věty na determinantu čtvrtého řádu. Odtud zobecněním bude patrný postup v obecném případě.

Příklad 2.73. Máme vypočítat hodnotu determinantu

$$D = \begin{vmatrix} 1 & 4 & 0 & 3 \\ 2 & -1 & 1 & 5 \\ 0 & 4 & 1 & 4 \\ 3 & 5 & 9 & 2 \end{vmatrix}.$$

Řešení. Provedeme rozvoj podle prvního sloupce:

$$D = 1 \begin{vmatrix} -1 & 1 & 5 \\ 4 & 1 & 4 \\ 5 & 9 & 2 \end{vmatrix} - 2 \begin{vmatrix} 4 & 0 & 3 \\ 4 & 1 & 4 \\ 5 & 9 & 2 \end{vmatrix} + 0 \begin{vmatrix} 4 & 0 & 3 \\ -1 & 1 & 5 \\ 5 & 9 & 2 \end{vmatrix} - 3 \begin{vmatrix} 4 & 0 & 3 \\ -1 & 1 & 5 \\ 4 & 1 & 4 \end{vmatrix}.$$

Determinanty třetího řádu vypočítáme Sarusovým pravidlem a dostaneme

$$D = 1 \cdot 201 - 2 \cdot (-43) - 3 \cdot (-19) = 344.$$

□

Věta 2.74. (Determinant součinu matic) *Nechť \mathbf{A}, \mathbf{B} jsou čtvercové matice n -tého řádu. Potom platí: $|\mathbf{AB}| = |\mathbf{A}| \cdot |\mathbf{B}|$.*

Důkaz opět spočívá v podrobném rozepsání definice determinantů obou násobených matic a je dost pracný.

Věta 2.75. *Čtvercová matice \mathbf{A} je regulární, právě když pro její determinant platí $|\mathbf{A}| \neq 0$.*

Důkaz naleznete v části **Pro zájemce** na konci kapitoly.

Má-li tedy čtvercová matice nenulový determinant, je regulární, a tudíž její hodnota je rovna jejímu řádu. Hodnota matice můžeme určit s využitím jistých determinantů i v případě singulární matice resp. v případě matice obdélníkové; budeme vyšetřovat determinanty čtvercových submatic dané matice. Ty mají svůj speciální název:

Definice 2.76. *Minorem k -tého řádu matice \mathbf{A} typu (m, n) se rozumí determinant čtvercové matice, která vznikne z matice \mathbf{A} vynecháním libovolných $m - k$ řádků a $n - k$ sloupců.*

Pro hodnotu matice platí věta:

Věta 2.77. *Hodnota matice je rovna maximálnímu řádu nenulových minorů.*

Důkaz provádět nebudeme.

Příklad 2.78. Jsou dány čtyři aritmetické vektory $\mathbf{v}_1 = (3, 1, -2, 1)$, $\mathbf{v}_2 = (2, 4, 2, 2)$, $\mathbf{v}_3 = (7, -3, -5, -1)$, $\mathbf{v}_4 = (3, -1, 1, -1)$. Máme mezi nimi najít maximální systém lineárně nezávislých vektorů.

Řešení. Hodnota matice

$$\begin{bmatrix} 3 & 1 & -2 & 1 \\ 2 & 4 & 2 & 2 \\ 7 & -3 & -5 & -1 \\ 3 & -1 & 1 & -1 \end{bmatrix}$$

je rovna 3, protože

$$\begin{vmatrix} 3 & 1 & -2 \\ 2 & 4 & 2 \\ 7 & -3 & -5 \end{vmatrix} = 50 \neq 0, \quad \text{a} \quad \begin{vmatrix} 3 & 1 & -2 & 1 \\ 2 & 4 & 2 & 2 \\ 7 & -3 & -5 & -1 \\ 3 & -1 & 1 & -1 \end{vmatrix} = 0.$$

Tedy vektory $\mathbf{v}_1, \mathbf{v}_2, \mathbf{v}_3$ jsou lineárně nezávislé a vektor \mathbf{v}_4 je jejich lineární kombinací. Podobně i vektory $\mathbf{v}_2, \mathbf{v}_3, \mathbf{v}_4$ jsou lineárně nezávislé a vektor \mathbf{v}_1 je jejich lineární kombinací.

□

Výpočet inverzní matice 2

V této části si uvedeme jiný postup výpočtu inverzní matice, který využívá jejího determinantu; tedy je vhodný pro matice nepříliš vysokých řádů:

Věta 2.79. *Bud' $\mathbf{A} = (a_{ij})_n$ regulární matice a $\mathbf{A}^{-1} = (a_{ij}^*)_n$ matice k ní inverzní. Potom platí $\mathbf{A}^{-1} = \frac{\mathbf{A}^*}{|\mathbf{A}|}$, tedy*

$$a_{ij}^* = \frac{\mathcal{A}_{ji}}{|\mathbf{A}|},$$

kde číslo \mathcal{A}_{kl} je algebraický doplněk prvku a_{kl} matice \mathbf{A} (viz definice 2.70).

Důkaz věty naleznete v části **Pro zájemce** na konci kapitoly.

Příklad 2.80. Máme najít inverzní matici k matici

$$\mathbf{A} = \begin{bmatrix} 1 & 1 & 1 \\ 0 & 1 & 1 \\ 0 & 0 & 1 \end{bmatrix}.$$

Řešení. Platí zřejmě $|\mathbf{A}| = 1$ a dále

$$|\mathbf{A}_{11}| = |\mathbf{A}_{21}| = |\mathbf{A}_{22}| = |\mathbf{A}_{32}| = |\mathbf{A}_{33}| = \begin{vmatrix} 1 & 1 \\ 0 & 1 \end{vmatrix} = 1,$$

$$|\mathbf{A}_{12}| = \begin{vmatrix} 0 & 1 \\ 0 & 1 \end{vmatrix} = 0, \quad |\mathbf{A}_{13}| = \begin{vmatrix} 0 & 1 \\ 0 & 0 \end{vmatrix} = 0,$$

$$|\mathbf{A}_{23}| = \begin{vmatrix} 1 & 1 \\ 0 & 0 \end{vmatrix} = 0, \quad |\mathbf{A}_{31}| = \begin{vmatrix} 1 & 1 \\ 1 & 1 \end{vmatrix} = 0$$

a dále

$$\mathcal{A}_{11} = (-1)^{1+1}|\mathbf{A}_{11}| = 1, \quad \mathcal{A}_{21} = (-1)^{2+1}|\mathbf{A}_{21}| = -1, \quad \mathcal{A}_{22} = (-1)^{2+2}|\mathbf{A}_{22}| = 1,$$

$$\mathcal{A}_{32} = (-1)^{3+2}|\mathbf{A}_{32}| = -1, \quad \mathcal{A}_{33} = (-1)^{3+3}|\mathbf{A}_{33}| = 1$$

a ostatní algebraické doplňky jsou rovny nule. Odtud

$$\mathbf{A}^{-1} = \begin{bmatrix} 1 & -1 & 0 \\ 0 & 1 & -1 \\ 0 & 0 & 1 \end{bmatrix}.$$

□

Jako cvičení se můžete přesvědčit, že $\mathbf{A} \cdot \mathbf{A}^{-1} = \mathbf{E}_3$.

Příklad 2.81. Inverzní matice k matici \mathbf{A} z příkladu 2.71 je zřejmě přímo rovna matici adjungované a protože platí $|\mathbf{A}| = 1$, dostáváme

$$\mathbf{A}^{-1} = \mathbf{A}^* = \mathbf{A}^T.$$

Cramerovo pravidlo

V této části využijeme pojmu determinantu při formulaci zobecněného vztahu pro řešení soustavy lineárních rovnic, analogického s postupem, který jsme odvodili v odstavci 2.4 o motivaci k pojmu determinantu:

Věta 2.82. (Cramerovo pravidlo) *Je-li dána soustava n lineárních rovnic o n neznámých $\mathbf{Ax} = \mathbf{b}$, jejíž matice \mathbf{A} je regulární, platí*

$$(x_1, x_2, \dots, x_n) = \left(\frac{|\mathbf{A}_1|}{|\mathbf{A}|}, \frac{|\mathbf{A}_2|}{|\mathbf{A}|}, \dots, \frac{|\mathbf{A}_n|}{|\mathbf{A}|} \right),$$

kde \mathbf{A}_k je matice vytvořená z matice \mathbf{A} tak, že její k -tý sloupec je nahrazen sloupcem pravých stran \mathbf{b} .

Důkaz naleznete v části **Pro zájemce** na konci kapitoly.

Příklad 2.83. Užitím Cramerova pravidla máme najít x_1 a x_2 vyhovující soustavě rovnic

$$\begin{aligned} 2x_1 + x_2 &= 1 \\ x_1 + 2x_2 + x_3 &= 0 \\ x_2 + 2x_3 + x_4 &= 0 \\ x_3 + 2x_4 &= 0 \end{aligned}$$

Řešení.

$$\mathbf{A} = \begin{bmatrix} 2 & 1 & 0 & 0 \\ 1 & 2 & 1 & 0 \\ 0 & 1 & 2 & 1 \\ 0 & 0 & 1 & 2 \end{bmatrix}, \quad \mathbf{A}|\mathbf{b} = \left[\begin{array}{cccc|c} 2 & 1 & 0 & 0 & 1 \\ 1 & 2 & 1 & 0 & 0 \\ 0 & 1 & 2 & 1 & 0 \\ 0 & 0 & 1 & 2 & 0 \end{array} \right],$$

$$\mathbf{D} = |\mathbf{A}| = 2 \cdot \begin{vmatrix} 2 & 1 & 0 \\ 1 & 2 & 1 \\ 0 & 1 & 2 \end{vmatrix} - \begin{vmatrix} 1 & 0 & 0 \\ 1 & 2 & 1 \\ 0 & 1 & 2 \end{vmatrix} = 2 \cdot 4 - 3 = 5,$$

$$\mathbf{D}_1 = \begin{vmatrix} 1 & 1 & 0 & 0 \\ 0 & 2 & 1 & 0 \\ 0 & 1 & 2 & 1 \\ 0 & 0 & 1 & 2 \end{vmatrix} = \begin{vmatrix} 2 & 1 & 0 \\ 1 & 2 & 1 \\ 0 & 1 & 2 \end{vmatrix} = 4, \quad x_1 = \frac{\mathbf{D}_1}{\mathbf{D}} = \frac{4}{5},$$

$$\mathbf{D}_2 = \begin{vmatrix} 2 & 1 & 0 & 0 \\ 1 & 0 & 1 & 0 \\ 0 & 0 & 2 & 1 \\ 0 & 0 & 1 & 2 \end{vmatrix} = - \begin{vmatrix} 1 & 1 & 0 \\ 0 & 2 & 1 \\ 0 & 1 & 2 \end{vmatrix} = -3, \quad x_2 = \frac{\mathbf{D}_2}{\mathbf{D}} = -\frac{3}{5}.$$

□

Z hlediska složitosti výpočtu je pro větší počet rovnic Cramerovo pravidlo nevhodné (jeho součástí je výpočet $n + 1$ determinantů n -tého řádu; přitom determinant n -tého řádu je součtem $n!$ součinů po n činitelích) – používá se obvykle nejvýše pro tři rovnice o třech neznámých, resp. v situaci, kdy nepotřebujeme najít všechny neznámé, ale třeba jen jednu. Navíc je Cramerovo pravidlo použitelné pouze na čtvercové soustavy.

Většinou se používá Gaussova eliminační metoda nebo některá její modifikace. Při jejich použití není třeba předem vědět, zda soustava má či nemá řešení – to zjistíme během řešení, protože Frobeniova věta je vlastně výsledkem této metody. Navíc zde nemusí být stejný počet rovnic jako neznámých.

Pro zájemce

Důkaz věty o determinantu regulární matice: Směr \Rightarrow je důsledkem věty 2.74;

Nechť je \mathbf{A} regulární čtvercová matice a \mathbf{A}^{-1} matice k ní inverzní. Tedy $\mathbf{A}^{-1} \cdot \mathbf{A} = \mathbf{E}_n$ a odtud ihned plyne $|\mathbf{A}^{-1}| \cdot |\mathbf{A}| = |\mathbf{E}_n| = 1$, tj. $|\mathbf{A}| \neq 0$ a současně $|\mathbf{A}^{-1}| = \frac{1}{|\mathbf{A}|}$.

Opačný směr dokazovat nebudeme.

Důkaz věty o vztahu inverzní a adjungované matice: Nechť \mathbf{A} je regulární matice, \mathbf{A}^* matice k ní adjungovaná. Potom $\mathbf{A} \cdot \mathbf{A}^* = (\sum_k a_{ik} \mathcal{A}_{jk})$;

Pro $i = j$ je

$$\sum_k a_{ik} \mathcal{A}_{ik} = |\mathbf{A}|$$

podle Laplaceovy věty, Pro $i \neq j$ je $\sum_k a_{ik} \mathcal{A}_{jk}$ roven determinantu, který získáme z $|\mathbf{A}|$ tak, že j -tý řádek nahradíme i -tým, tedy je roven nule.

Odtud

$$\mathbf{A} \cdot \mathbf{A}^* = |\mathbf{A}| \cdot \mathbf{E} \Rightarrow \mathbf{A} \cdot \left(\frac{1}{|\mathbf{A}|} \cdot \mathbf{A}^* \right) = \mathbf{E} \Rightarrow \frac{1}{|\mathbf{A}|} \cdot \mathbf{A}^* = \mathbf{A}^{-1}.$$

Důkaz Cramerova pravidla: Řešíme soustavu

$$\mathbf{A}\mathbf{x} = \mathbf{b}.$$

Násobíme zleva inverzní maticí k matici soustavy \mathbf{A}^{-1} :

$$\mathbf{x} = \mathbf{A}^{-1}\mathbf{b} = \frac{1}{|\mathbf{A}|}\mathbf{A}^*\mathbf{b}.$$

Odtud

$$x_j = \frac{1}{|\mathbf{A}|} (b_1 \mathcal{A}_{1j} + \dots + b_n \mathcal{A}_{nj}) = \frac{|\mathbf{A}_j|}{|\mathbf{A}|}.$$

Shrnutí

V této kapitole jsme zavedli

- determinant $|\mathbf{A}|$: číslo přiřazené čtvercové matici \mathbf{A} ; pro matici řádu n je to součet všech možných součinů o n činitelích vzniklých tak, že z každého řádku a každého sloupce matice vybereme vždy jeden prvek, přičemž každý tento součin je opatřen jistým znaménkem – toto znaménko určíme podle toho, jakou permutaci tvoří sloupcové indexy činitelů v součinu, jestliže činitele uspořádáme podle řádkových indexů;
- vlastnosti determinantu:
 - a) determinant matice s nulovým řádkem (sloupcem) je roven nule,
 - b) determinant s dvěma řádky (sloupci) stejnými je roven nule;
- metody výpočtu determinantu:
 1. pomocí dovolených úprav –
 - a) vynásobení řádku (sloupce) číslem a (výsledek je $a|\mathbf{A}|$),
 - b) přičtení lineární kombinace jiných řádků (sloupců) k danému řádku (sloupci) (hodnota determinantu se nezmění),
 2. pomocí Laplaceova rozvoje, tj. užitím pojmu algebraického doplňku prvku determinantu,
- pojem adjungované matice, který jsme použili pro druhý způsob výpočtu inverzní matice.

Pro řešení soustavy lineárních rovnic jsme uvedli Cramerovo pravidlo, kde jsou k výpočtu použity determinanty, a tudíž je použitelné pouze pro čtvercové soustavy ($k = n$) a jen pro n dostatečně malé. Navíc je nutné, aby soustava měla regulární matici.

Otázky a úkoly

1. Co je determinant čtvercové matice \mathbf{A} ?
2. Na základě definice determinantu odvoďte křížové a Sarusovo pravidlo.
3. Jaké jsou vlastnosti determinantů?

4. Jak se změní determinant n -tého řádu, jestliže jeho řádky napíšeme v obráceném pořadí?
5. Jak se změní determinant, jestliže jeho matici překlopíme podle vedlejší diagonály?
6. Uveďte vztah pro výpočet determinantu pomocí rozvoje podle r -tého řádku.
7. Formulujte větu o rozvoji determinantu podle 1. řádku pro obecný determinant třetího řádu a toto tvrzení proveďte.
8. Naznačte postup při výpočtu determinantu Gaussovou eliminační metodou pro případ determinantu třetího řádu.
9. Na příkladu obecných čtvercových matic \mathbf{A}, \mathbf{B} druhého řádu proveďte vztah $|\mathbf{A} \cdot \mathbf{B}| = |\mathbf{A}| \cdot |\mathbf{B}|$.
10. Říkáme, že dvě matice \mathbf{A}, \mathbf{B} jsou *podobné*, existuje-li regulární matice \mathbf{P} tak, že $\mathbf{A} = \mathbf{P}^{-1} \cdot \mathbf{B} \cdot \mathbf{P}$. Ukažte, že podobné matice mají stejné determinanty.
11. Čemu je roven determinant trojúhelníkové matice? Odůvodněte!
12. Co musí platit pro determinant matice, která je invertovatelná? Odůvodněte!
13. Pro jistou matici \mathbf{A} jsme našli inverzní matici

$$a) \quad \mathbf{A}^{-1} = \begin{bmatrix} 1 & 2 & 0 \\ 0 & 1 & 0 \\ 3 & 0 & 0 \end{bmatrix} \quad b) \quad \mathbf{A}^{-1} = \begin{bmatrix} 1 & 1 & 1 \\ 2 & 2 & 2 \\ 3 & 0 & 0 \end{bmatrix}$$

Jsou tyto výsledky správné? Vysvětlete!

14. Jestliže existuje nějaké číslo p tak, že platí $\mathbf{A}^p = \mathbf{0}$, říkáme že \mathbf{A} je *nilpotentní* (potenciálně nil = nula). Ukažte, že platí
 - a) nilpotentní matice je nutně singulární,
 - b) $(\mathbf{E} - \mathbf{A})^{-1} = \mathbf{E} + \mathbf{A} + \mathbf{A}^2 + \dots + \mathbf{A}^{p-1}$.
15. Formulujte Cramerovo pravidlo a uveďte, pro jaké typy systémů lineárních rovnic se dá použít a pro jaké případy je vhodné je použít.

Cvičení

1. Zjistěte počet inverzí v permutacích
 - a) (3, 4, 2, 5, 1)
 - b) (6, 4, 3, 5, 1, 2)
 - c) (5, 6, 3, 4, 1, 2)
 - d) (1, 3, 5, 7, ..., 2n - 1, 2, 4, 6, ..., 2n)

e) $(2, 4, 6, \dots, 2n, 1, 3, 5, 7, \dots, 2n - 1)$

2. Určete, které ze součinů se vyskytují v definici determinantů příslušného řádu a jaké mají znaménko:

a) $a_{34}a_{21}a_{43}a_{12}$

b) $a_{37}a_{45}a_{12}a_{63}a_{74}a_{51}a_{26}$

c) $a_{23}a_{41}a_{32}a_{13}$

d) $a_{61}a_{45}a_{23}a_{36}a_{52}a_{14}$

e) $a_{21}a_{53}a_{44}a_{32}a_{15}$

3. Zvolte čísla i a k tak, aby se daný součin vyskytoval v determinantu příslušného řádu se záporným znaménkem:

a) $a_{14}a_{i3}a_{k1}a_{42}$

b) $a_{35}a_{i2}a_{14}a_{k3}a_{51}$

c) $a_{64}a_{5i}a_{13}a_{2k}a_{46}a_{35}$

4. Použitím definice determinantu vypočítejte koeficienty u x^3 a x^4 ve výrazu

$$P(x) = \begin{vmatrix} 2x & x & 1 & 2 \\ 1 & x & 1 & -1 \\ 3 & 2 & x & 1 \\ 1 & 1 & 1 & x \end{vmatrix}$$

5. Pouze na základě vlastností determinantů ukažte, že platí

$$a) \begin{vmatrix} a & b & c \\ d & e & f \\ m & n & p \end{vmatrix} = \begin{vmatrix} a+kd & b+ke & c+kf \\ d & e & f \\ m & n & p \end{vmatrix} \quad b) \begin{vmatrix} 1 & a & bc \\ 1 & b & ca \\ 1 & c & ab \end{vmatrix} = \begin{vmatrix} 1 & a & a^2 \\ 1 & b & b^2 \\ 1 & c & c^2 \end{vmatrix}$$

$$c) \begin{vmatrix} 3 & 1 & 3 \\ 4 & 2 & 1 \\ 5 & 6 & -3 \end{vmatrix} = \begin{vmatrix} 3 & 1 & 0 \\ 4 & 2 & -3 \\ 5 & 6 & -8 \end{vmatrix} \quad d) \begin{vmatrix} 4 & 3 & 2 \\ 1 & -2 & 0 \\ 3 & 5 & 7 \end{vmatrix} = \begin{vmatrix} 9 & -7 & 2 \\ 1 & -2 & 0 \\ 3 & 5 & 7 \end{vmatrix}$$

6. Vyjádřete uvedené součty nebo rozdíly jediným determinantem:

$$a) \begin{vmatrix} 4 & 7 & 7 \\ 3 & 4 & 1 \\ 4 & 1 & 7 \end{vmatrix} - \begin{vmatrix} 1 & 3 & -8 \\ 3 & 4 & 1 \\ 4 & 1 & 7 \end{vmatrix} \quad b) \begin{vmatrix} 1 & 2 & 1 \\ 3 & 4 & -5 \\ 5 & 1 & 0 \end{vmatrix} + \begin{vmatrix} 2 & 2 & 1 \\ 4 & 4 & -5 \\ 3 & 1 & 0 \end{vmatrix}$$

7. Následující determinanty vypočítejte tak, že je vyjádříte jako součet několika vhodných determinantů:

$$a) \begin{vmatrix} 4165228 & 4165218 \\ 4164926 & 4164936 \end{vmatrix} \qquad b) \begin{vmatrix} 4165218 & 4165228 \\ 4164926 & 4164936 \end{vmatrix}$$

$$c) \begin{vmatrix} 2167245 & 2167235 & 2167235 \\ 4132612 & 4132622 & 4132612 \\ -6299847 & -6299847 & -6299837 \end{vmatrix} \qquad d) \begin{vmatrix} 331 & 433 & 333 \\ 1091 & 553 & 453 \\ 353 & 755 & 675 \end{vmatrix}$$

8. Pomocí vhodných úprav vypočítejte determinanty

$$a) \begin{vmatrix} 1 & 1 & 1 & 1 \\ 1 & 2 & 3 & 4 \\ 1 & 3 & 6 & 10 \\ 1 & 4 & 10 & 20 \end{vmatrix} \qquad b) \begin{vmatrix} 3 & 1 & 1 & 1 \\ 1 & 3 & 1 & 1 \\ 1 & 1 & 3 & 1 \\ 1 & 1 & 1 & 3 \end{vmatrix} \qquad c) \begin{vmatrix} 2 & 1 & 0 & 0 & 0 \\ 1 & 2 & 1 & 0 & 0 \\ 0 & 1 & 2 & 1 & 0 \\ 0 & 0 & 1 & 2 & 1 \\ 0 & 0 & 0 & 1 & 2 \end{vmatrix}$$

9. Pomocí rozvoje podle vhodného řádku nebo sloupce vypočítejte determinanty

$$a) \begin{vmatrix} 2 & -3 & 4 & 0 \\ a & b & c & d \\ 1 & -2 & 5 & 2 \\ 4 & 3 & -1 & 3 \end{vmatrix} \qquad b) \begin{vmatrix} 1 & 0 & -1 & 1 \\ 0 & -1 & 1 & 1 \\ a & b & c & d \\ -1 & 1 & 1 & 0 \end{vmatrix} \qquad c) \begin{vmatrix} 10 & 0 & 3 & a \\ 5 & 0 & b & 0 \\ -2 & c & 8 & 13 \\ d & 0 & 0 & 0 \end{vmatrix}$$

10. Úpravou na trojúhelníkový tvar vypočítejte determinanty

$$a) \begin{vmatrix} 1 & 1 & 1 & 1 \\ 1 & 0 & 1 & 1 \\ 1 & 1 & 0 & 1 \\ 1 & 1 & 1 & 0 \end{vmatrix} \qquad b) \begin{vmatrix} 3 & 2 & 2 & 2 \\ 2 & 3 & 2 & 2 \\ 2 & 2 & 3 & 2 \\ 2 & 2 & 2 & 3 \end{vmatrix}$$

11. Nechť

$$D_n = \begin{vmatrix} a_1 & 1 & 0 & \dots & 0 & 0 \\ -1 & a_2 & 1 & \dots & 0 & 0 \\ 0 & -1 & a_3 & \ddots & 0 & 0 \\ \vdots & \vdots & \ddots & \ddots & \ddots & \vdots \\ 0 & 0 & 0 & \ddots & a_{n-1} & 1 \\ 0 & 0 & 0 & \dots & -1 & a_n \end{vmatrix}.$$

Ukažte, že platí rovnost

$$D_n = a_n D_{n-1} + D_{n-2}.$$

12. Řešte rovnice

$$a) \begin{vmatrix} x & x+1 & x-1 \\ 1 & 1 & 1 \\ 1 & -1 & 0 \end{vmatrix} = 0 \quad b) \begin{vmatrix} 1 & x & x \\ 1 & 1 & x \\ 1 & 1 & 1 \end{vmatrix} = 4$$

13. Pro která čísla a, b je matice \mathbf{A} regulární?

$$a) \mathbf{A} = \begin{bmatrix} 0 & 1 & 1 & 1 \\ 1 & 0 & a & b \\ 1 & a & 0 & 0 \\ 1 & b & 0 & 0 \end{bmatrix} \quad b) \mathbf{A} = \begin{bmatrix} 1+a & 1 & 1 & 1 \\ 1 & 1-a & 1 & 1 \\ 1 & 1 & 1+b & 1 \\ 1 & 1 & 1 & 1-b \end{bmatrix}$$

14. Pomocí adjungované matice najděte inverzní matice k maticím z příkladu 13 ze Cvičení ke kapitole o maticích.

15. Pomocí Cramerova pravidla vypočítejte x_1 a x_2 , která vyhovují následujícím soustavám rovnic:

$$\begin{array}{lll} a) & \begin{array}{l} x_1+4x_2=0 \\ 3x_1-x_2=6 \end{array} & b) \quad \begin{array}{l} ax_1+bx_2=c \\ dx_1+ex_2=f \end{array} & c) \quad \begin{array}{l} x_1-2x_2+x_3=4 \\ 2x_1+3x_2+x_3=-7 \\ 4x_1+x_2+2x_3=0 \end{array} \\ d) & \begin{array}{l} x_1+2x_2+3x_3=9 \\ x_1+4x_2=6 \\ x_1-5x_3=2 \end{array} & e) \quad \begin{array}{l} x_1+x_2+x_3=1 \\ x_1+2x_2+3x_3=0 \\ x_1-x_2+4x_3=0 \end{array} & f) \quad \begin{array}{l} 2x_1+x_2=1 \\ x_1+2x_2+x_3=0 \\ x_2+2x_3+x_4=0 \\ x_3+2x_4=0 \end{array} \end{array}$$

Výsledky

1. a) 6, b) 12, c) 12;

2. a) ano +, b) ano +, c) ne, d) ano +, e) ano -;

3. a) $i=2, k=3$, b) $i=2, k=4$, c) $i=1, k=2$;

4. koeficient u x^4 je 2, u x^3 -1;

5. a) 1.ř+k×2.ř., c) 3.sl. - 1.sl., d) 1.ř. +5× 2.ř.;

$$6. a) \begin{vmatrix} 3 & 4 & 15 \\ 3 & 4 & 1 \\ 4 & 1 & 7 \end{vmatrix}, b) \begin{vmatrix} 3 & 2 & 1 \\ 7 & 4 & -5 \\ 8 & 1 & 0 \end{vmatrix};$$

$$7. a) \text{Determinant je tvaru } \begin{vmatrix} x+10 & x \\ y & y+10 \end{vmatrix} = \begin{vmatrix} x & x \\ y & y \end{vmatrix} + \begin{vmatrix} x & x \\ 0 & 10 \end{vmatrix} + \begin{vmatrix} 10 & 0 \\ y & y+10 \end{vmatrix} + \begin{vmatrix} 10 & 0 \\ 0 & 10 \end{vmatrix} = 10x + 10y + 100 = 83301540,$$

b) Analogicky $10x - 10y = 2920$, c) $100x + 100y + 100z + 1000 = 1000$;

8. a) 1, b) 48, c) 6;

9. a) $10a + 60b + 40c - 45d$, b) $-3a - b - 2c + d$, c) $abcd$;

10. a) -1, b) 9;

12. a) nemá řeš., b) 3, -1;

13. a) $a \neq b$, b) $a \neq 0 \wedge b \neq 0$.

3 Diferenciální počet

3.1 Úvodní poznámky – motivace

Při řešení úloh z fyziky, chemie, technických a jiných vědních oborů, při matematické formulaci zákonů v přírodních vědách užíváme často pojmy jako např. derivace, integrál, diferenciální rovnice. Uveďme několik příkladů:

Příklad 3.1. Problém nalézt rozměry čtvercového otevřeného bazénu daného objemu V tak, aby na obložení jeho stěn bylo zapotřebí co nejméně materiálu, vede k úloze určit nejmenší hodnotu funkce

$$S = \frac{4V}{x} + x^2, \quad x > 0,$$

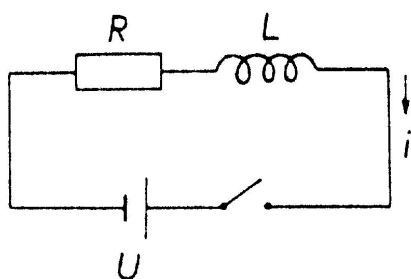
kde S je celkový plošný obsah stěn bazénu, x strana čtvercového dna; hloubka bazénu je $y = V/x^2$. Řešením úlohy vychází

$$x = \sqrt[3]{2V}, \quad y = \sqrt[3]{\frac{1}{4}V}.$$

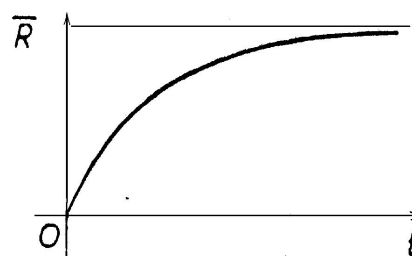
Hodnotu x jsme získali jako kořen rovnice

$$-\frac{4V}{x^2} + 2x = 0,$$

jejíž levá strana je derivací funkce S podle proměnné x .



Obr. 3.1: RL obvod



Obr. 3.2: $i(t) = \frac{U}{R}(1 - e^{-(R/L)t})$

Příklad 3.2. V obrázku 3.1 je schematicky znázorněn elektrický obvod s rezistorem odporu R a induktorem indukčnosti L připojený na zdroj konstantního napětí U . Po zapnutí

spínače začne obvodem protékat proud i . Pro jeho průběh v závislosti na čase dostaneme užitím Kirchhoffova zákona vztah

$$Ri + L \frac{di}{dt} = U.$$

Druhý člen na levé straně této rovnice, zvané diferenciální, tj. součin indukčnosti L a derivace di/dt funkce $i = i(t)$, udává indukované napětí na induktoru. Řešením diferenciální rovnice je funkce

$$i(t) = \frac{U}{R} (1 - e^{-(R/L)t}).$$

Průběh proudu je znázorněn na grafu této funkce v obrázku 3.2.

Příklad 3.3. Konáme-li sadu měření např. nějaké fyzikální veličiny, je každé jednotlivé měření zatíženo chybou, jejíž příčiny neznáme a pokládáme ji za tzv. náhodnou veličinu. Pravděpodobnost P , že chyba určitého měření leží v intervalu $(-\varepsilon, \varepsilon)$, je dána vzorcem

$$P(-\varepsilon, \varepsilon) = \frac{1}{\sigma\sqrt{2\pi}} \int_{-\varepsilon}^{\varepsilon} e^{-x^2/(2\sigma^2)} dx,$$

kde výraz $\int_{-\varepsilon}^{\varepsilon} e^{-x^2/(2\sigma^2)} dx$ se nazývá určitý integrál funkce $e^{-x^2/(2\sigma^2)}$, σ je střední kvadratická chyba měření.

Již z těchto několika málo příkladů je patrné, že pomocí výše použitých pojmů můžeme formulovat úlohy nebo vytvořit matematický model situací v různých oborech technické praxe a jejich řešením získat údaje, které nás zajímají. Vytváření takového aparátu, odvozování a vyšetřování jeho vlastností patří do vědního oboru zvaného **matematická analýza**.

3.2 Limita

Při vyšetřování průběhu funkce v celém jejím definičním oboru je především třeba charakterizovat její lokální vlastnosti, tj. chování funkce v okolí jednotlivých bodů. Zajímá nás např. chování dané funkce f , blíží-li se hodnoty argumentu x k některému bodu a . Může se stát, že se při tomto blíženi funkční hodnoty blíží k některému číslu b , což budeme vyjadřovat formulací „funkce f má v bodě a limitu rovnu b “. Proces „blížení“ je ovšem nutno matematicky precizovat, což učiníme v této kapitole. Nejprve uvedeme některé problémy, které k této situaci vedou.

V matematické analýze hraje např. důležitou úlohu podíl

$$\frac{\varphi(x) - \varphi(a)}{x - a},$$

kde φ je daná funkce, a pevný bod. Tento podíl tzv. přírůstku funkce $\varphi(x) - \varphi(a)$ k přírůstku argumentu $x - a$ může značit např. průměrnou rychlost pohybu bodu po přímce,

jehož zákon dráhy je dán vztahem $y = \varphi(x)$, kde y je dráha, kterou bod urazí za čas x . Zajímá nás, jak se mění hodnota tohoto podílu – jinak řečeno, jak se mění hodnota funkce f dané vztahem

$$f(x) = \frac{\varphi(x) - \varphi(a)}{x - a},$$

jestliže se hodnoty argumentu x blíží k číslu a , což často značíme $x \rightarrow a$. V uvedeném fyzikálním významu daného podílu se ptáme, jak se mění průměrná rychlost pohybu, když se časový úsek zkracuje.

Je zřejmé, že musí být stále $x \neq a$ a že jmenovatel se blíží k nule; obvykle se blíží k nule i číselník. Jakých hodnot však při tom nabývá podíl, tj. jaké jsou hodnoty funkce $f(x)$? Uvedeme několik příkladů.

Příklad 3.4. a) Nechť $\varphi(x) = x^2$, $a = 1$. Potom

$$f(x) = \frac{x^2 - 1}{x - 1}.$$

Pro $x \neq 1$ je hodnota funkce f rovna

$$f(x) = \frac{(x + 1)(x - 1)}{x - 1} = x + 1.$$

Když $x \rightarrow 1$ (přičemž stále $x \neq 1$), pak $f(x) \rightarrow 2$ (viz obr. 3.3).

Jinak formulováno: K libovolně malému $\varepsilon > 0$ existuje $\delta > 0$ tak, že pro každé x , pro něž je $0 < |x - 1| < \delta$, platí $|f(x) - 2| < \varepsilon$, neboli

pro $x \in (1 - \delta, 1 + \delta)$, $x \neq 1$ platí $f(x) \in (2 - \varepsilon, 2 + \varepsilon)$.

b) Nechť $\varphi(x) = \sqrt[3]{x}$, $a = 0$. Potom

$$f(x) = \frac{\sqrt[3]{x}}{x}.$$

Pro $x \neq 0$ je

$$f(x) = \frac{1}{\sqrt[3]{x^2}}.$$

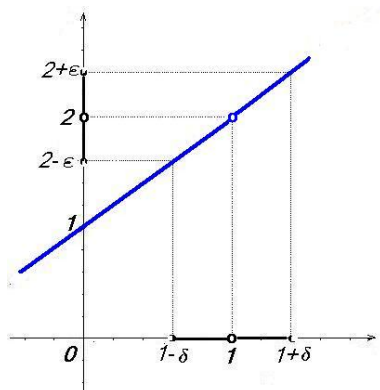
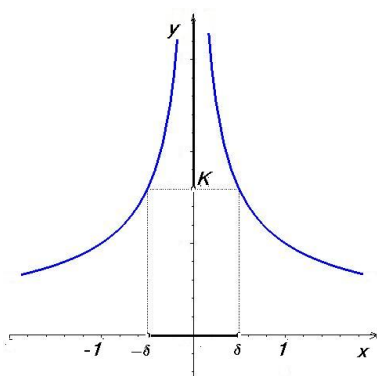
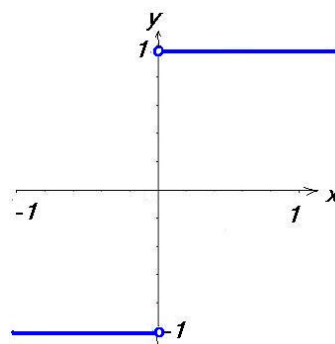
Jestliže $x \rightarrow 0$, pak hodnoty $f(x)$ neomezeně vzrůstají, protože jmenovatel zlomku se blíží v kladných hodnotách k nule a číselník je stále roven 1 (viz obr. 3.4). Formulováno přesněji:

Zvolíme-li libovolně velké $K > 0$, můžeme nalézt $\delta > 0$ tak, že pro každé $x \neq 0$, pro něž je $|x| < \delta$, platí $f(x) > K$.

c) Nechť $\varphi(x) = |x|$, $a = 0$. Potom

$$f(x) = \frac{|x|}{x} = \begin{cases} \frac{x}{x} = 1 & x > 0 \\ \frac{-x}{x} = -1 & x < 0 \end{cases},$$

tedy funkční hodnoty dané funkce se „zleva“ blíží k -1 a „zprava“ k 1 (viz obr. 3.5)

Obr. 3.3: $y = \frac{x^2-1}{x-1}$ Obr. 3.4: $y = \frac{1}{\sqrt{x^2}}$ Obr. 3.5: $y = \frac{|x|}{x}$

Definice limity

Definici základního prostředku matematické analýzy – limity – budeme formulovat tak, aby byla použitelná i pro zobrazení, která jsou obecnější než reálné funkce reálné proměnné:

Definice 3.5. Řekneme, že funkce f má v bodě a **limitu** b , když

- a je hromadným bodem množiny D_f ,
- k libovolnému okolí $\mathcal{U}(b)$ limity b existuje okolí $\mathcal{U}(a)$ bodu a tak, že funkce f zobrazí redukované okolí $\mathcal{U}^*(a)$ do $\mathcal{U}(b)$, tedy

$$\forall \mathcal{U}(b) \exists \mathcal{U}(a) : \mathcal{U}^*(a) \subset f^{-1}(\mathcal{U}(b)).$$

Potom píšeme $\lim_{x \rightarrow a} f(x) = b$ nebo $f(x) \rightarrow b$ pro $x \rightarrow a$.

Je-li $b \neq \pm\infty$, mluvíme o **vlastní limitě**, v opačném případě o **limitě nevlastní**.

Nejčastěji budeme vyšetřovat funkce, které budou definovány na nějakém redukovaném okolí bodu a ; v tom případě bude první podmínka v definici limity automaticky splněna.

Jsou-li body a, b vlastní a označíme-li ε, δ poloměry okolí $\mathcal{U}(b), \mathcal{U}(a)$ v tomto pořadí, lze druhou podmínku v definici limity formulovat následovně:

$$\forall \varepsilon > 0 \exists \delta > 0 \forall x \in D_f : 0 < |x - a| < \delta \Rightarrow |f(x) - b| < \varepsilon.$$

Je-li b nevlastní, např. $b = \infty$, lze tvrzení $\lim_{x \rightarrow a} f(x) = \infty$ formulovat takto:

$$\forall K > 0 \exists \delta > 0 \forall x \in D_f : 0 < |x - a| < \delta \Rightarrow f(x) > K,$$

a analogicky pro a nevlastní, např. $a = \infty$, lze tvrzení $\lim_{x \rightarrow \infty} f(x) = b$ formulovat takto:

$$\forall \varepsilon > 0 \exists K > 0 \forall x \in D_f : x > K \Rightarrow |f(x) - b| < \varepsilon.$$

Jako cvičení zformulujte podobně definici limity pro případy, kdy a nebo b je nevlastní bod $-\infty$.

Příklad 3.6. V příkladu 3.4 jsme ukázali přímo z definice limity, že

$$\lim_{x \rightarrow 1} \frac{x^2 - 1}{x - 1} = 2, \quad \lim_{x \rightarrow 0} \frac{\sqrt[3]{x}}{x} = \infty, \quad \lim_{x \rightarrow 0} \frac{|x|}{x} \text{ neex.}$$

Poznámky k definici limity

1. Vlastními slovy můžeme fakt, že funkce f má v bodě a limitu b formulovat takto: Funkční hodnoty funkce f v okolí bodu a lze s libovolnou přesností aproximovat číslem b ; neboli blíží-li se bod x k bodu a , liší se hodnota $f(x)$ od čísla b libovolně málo.
2. Všimněte si, že v definici limity je vyloučen bod $x = a$, tudíž limita funkce v bodě a nezávisí na tom, zda a jak je funkce v tomto bodě definovaná. Proto dvě funkce, které se od sebe liší pouze v bodě a , budou mít v tomto bodě tutéž limitu, nebo nebude mít limitu žádná z nich.
3. V definici je využito jen hodnot funkce v okolí bodu a . Proto dvě funkce, které mají tytéž hodnoty ve všech bodech nějakého redukováného okolí bodu a , mají v tomto bodě tutéž limitu, nebo v něm nemá limitu žádná z nich.
4. Funkce, jejíž limitu počítáme, tedy nemusí být definovaná v bodě a . Zřejmě by ale nemělo smysl, aby v některém redukováném okolí tohoto bodu neležely vůbec body z definičního oboru funkce f – je tedy přirozené požadovat, aby bod a byl hromadným bodem definičního oboru.

Snadno se ukáže (ověřte jako cvičení - sporem) platnost následujícího tvrzení:

Věta 3.7. *Funkce f má v bodě a nejvýš jednu limitu.*

Příklad 3.8. Vypočítáme několik limit přímo z definice:

1. $\lim_{x \rightarrow a} c = c,$
2. $\lim_{x \rightarrow a} x = a,$
3. $\lim_{x \rightarrow \pm\infty} \frac{1}{x} = 0,$
4. $\lim_{x \rightarrow \infty} a^x = \infty$ pro $a > 1$
5. $\lim_{x \rightarrow -\infty} a^x = 0$ pro $a > 1$

Řešení.

1. Jde o limitu konstantní funkce $f(x) = c$. Zvolíme-li $\mathcal{U}(c)$ libovolně, potom $f(x) \in \mathcal{U}(c)$ pro všechna x a tím spíše pro x z nějakého redukováného okolí bodu a ; to platí i v tom případě, že bod a je nevlastní.
2. V tomto případě je $f(x) = x$ a pro každé $\mathcal{U}(a)$ je $f(x) \in \mathcal{U}(a)$, je-li $x \in \mathcal{U}^*(a)$.

3. Zvolme okolí $(-\varepsilon, \varepsilon)$ bodu 0 ($\varepsilon > 0$). Potom $f(x) \in (-\varepsilon, \varepsilon)$ znamená, že $|\frac{1}{x}| < \varepsilon$. To je splněno jednak pro všechna $x \in (\frac{1}{\varepsilon}, \infty)$, což je okolí bodu ∞ , jednak pro všechna $x \in (-\infty, -\frac{1}{\varepsilon})$, což je okolí bodu $-\infty$.
4. $a^x > K$ pro $x > \log_a K$.
5. $|a^x| = a^x < \varepsilon$ pro $x < \log_a \varepsilon$.

□

Limita parciální funkce (relativní limita)

Vyšetřujeme spolu s limitou funkce f v bodě a také limitu parciální funkce f/M , kde a je hromadný bod množiny M .

Limitu funkce f/M budeme značit symbolem $\lim_{\substack{x \rightarrow a \\ x \in M}} f(x)$ a nazveme ji **relativní limitou**

nebo též limitou vzhledem k množině M .

Jestliže platí, že ke každému okolí $\mathcal{U}(b)$ existuje $\mathcal{U}^*(a)$ tak, že funkce f zobrazí všechny body tohoto okolí do $\mathcal{U}(b)$, tím spíše tam zobrazí všechny body množiny $\mathcal{U}^*(a) \cap M$, tedy zřejmě platí následující věta:

Věta 3.9. Je-li $\lim_{x \rightarrow a} f(x) = b$, potom pro každou množinu M takovou, že a je hromadným bodem $M \cap D_f$, platí $\lim_{\substack{x \rightarrow a \\ x \in M}} f(x) = b$.

Speciálním případem relativních limit jsou jednostranné limity:

Definice 3.10. Definujeme:

1. **limitu zprava:** $\lim_{x \rightarrow a^+} f(x) = \lim_{\substack{x \rightarrow a \\ x \in (a, \infty)}} f(x)$,
2. **limitu zleva:** $\lim_{x \rightarrow a^-} f(x) = \lim_{\substack{x \rightarrow a \\ x \in (-\infty, a)}} f(x)$.

Příklad 3.11.

$$1. \lim_{x \rightarrow 0^+} \frac{1}{x} = \infty, \quad 2. \lim_{x \rightarrow 0^-} \frac{1}{x} = -\infty.$$

Řešení.

1. Zvolme okolí (K, ∞) , kde $K > 0$. Potom pro všechna $x \in (0, \frac{1}{K})$ je $\frac{1}{x} \in (K, \infty)$, přičemž interval $(0, \frac{1}{K})$ je průnikem okolí $(-\frac{1}{K}, \frac{1}{K})$ bodu 0 s intervalem $(0, \infty)$.

Část 2. se ukáže analogicky. □

Vztah mezi limitou funkce a jednostrannými limitami popisuje následující užitečná věta:

Věta 3.12. Funkce f má ve vnitřním bodě definičního oboru limitu, právě když má v tomto bodě obě jednostranné limity a ty se sobě rovnají. Potom platí

$$\lim_{x \rightarrow a^+} f(x) = \lim_{x \rightarrow a^-} f(x) = \lim_{x \rightarrow a} f(x).$$

Důkaz věty naleznete v části **Pro zájemce** na konci kapitoly.
Pro výpočet limit můžete použít `mapletLimit` nebo `Maplet`.

Limita posloupnosti

Protože množina \mathbb{N} všech přirozených čísel má jediný hromadný bod ∞ , má u posloupností smysl vyšetřovat jen limitu $\lim_{n \rightarrow \infty} a_n$. Pro posloupnost můžeme definici limity napsat v následujícím tvaru:

$$\lim_{n \rightarrow \infty} a_n = b \iff \forall \varepsilon > 0 \exists K > 0 \forall n \in \mathbb{N}, n > K : |a_n - b| < \varepsilon.$$

Formulováno vlastními slovy: Posloupnost (a_n) má limitu b , jestliže v libovolném okolí limity b od jistého indexu leží všechny členy posloupnosti.

Posloupnost, která má vlastní limitu, se nazývá **konvergentní**, posloupnost, která má nevlastní limitu nebo nemá žádnou limitu se nazývá **divergentní**.

Příklad 3.13. $\lim_{n \rightarrow \infty} \frac{1}{n} = 0$.

Řešení. Posloupnost $(\frac{1}{n})$ je zúžením funkce $f : f(x) = \frac{1}{x}$ na \mathbb{N} , tj. $(\frac{1}{n}) = f|_{\mathbb{N}}$. Protože již víme, že $\lim_{x \rightarrow +\infty} \frac{1}{x} = 0$ (příklad 3.8), dostáváme podle věty 3.9 o relativní limitě

$$\lim_{n \rightarrow \infty} \frac{1}{n} = 0. \quad \square$$

Posloupnost $1, 1, 2, \frac{1}{2}, 3, \frac{1}{3}, 4, \frac{1}{4}, \dots$ zřejmě nemá limitu, ale můžeme z ní vybrat dvě konvergentní posloupnosti

$$\lim_{n \rightarrow \infty} a_{2n} = \lim_{n \rightarrow \infty} \frac{1}{n} = 0, \quad \lim_{n \rightarrow \infty} a_{2n-1} = \lim_{n \rightarrow \infty} n = \infty.$$

Pro limity těchto vybraných posloupností platí, že v libovolném okolí každého z nich leží nekonečně mnoho členů dané posloupnosti, ale ne všechny od jistého indexu, jak to platí pro limitu. Takové „parciální limity“ posloupnosti nazýváme **hromadnými hodnotami** zadané posloupnosti, definujeme:

Definice 3.14. Bod b se nazývá **hromadnou hodnotou** posloupnosti (a_n) , jestliže pro každé okolí $\mathcal{U}(b)$ je $a_n \in \mathcal{U}(b)$ pro nekonečně mnoho indexů n .

Porovnejme definici hromadné hodnoty posloupnosti s definicí limity, tj. $a_n \in \mathcal{U}(b)$ pro všechna n z některého okolí ∞ ; takových indexů n je jistě nekonečně mnoho. Odtud vidíme, že pokud má posloupnost limitu, je tato limita její hromadnou hodnotou (a to jedinou). V obecném případě může mít posloupnost více hromadných hodnot; zavádíme následující označení:

Definice 3.15. Největší z hromadných hodnot posloupnosti (a_n) se nazývá **horní limita** a značí se $\limsup a_n$ nebo $\overline{\lim} a_n$. Nejmenší z hromadných hodnot posloupnosti (a_n) se nazývá **dolní limita** a značí se $\liminf a_n$ nebo $\underline{\lim} a_n$.

Z definice plyne

$$\liminf a_n \leq \limsup a_n,$$

přičemž rovnost nastává, právě když má posloupnost (a_n) limitu. Potom platí

$$\liminf a_n = \limsup a_n = \lim_{n \rightarrow \infty} a_n.$$

Poznamenejme, že tato skutečnost platí pro každou hromadnou hodnotu posloupnosti, tedy je-li číslo b hromadnou hodnotou posloupnosti (a_n) , existuje vybraná posloupnost (a_k) z této posloupnosti pro kterou platí $\lim_{k \rightarrow \infty} a_k = b$.

Pojem horní a dolní limity posloupnosti budeme potřebovat v kapitole o mocninných řadách.

Věty o limitách

Pojem limity (zvláště ve vlastním bodě) jsme zavedli hlavně pro případy, kdy se do zkoumaného výrazu hodnota, ve které limitu počítáme, nedá dosadit. V předchozím odstavci jsme v 3.8 přímo z definice ukázali, že pro funkce $f(x) = c$, $f(x) = x$ a $f(x) = a^x$ je limita v libovolném bodě rovna funkční hodnotě; ze střední školy víte, že takto můžeme limitu počítat vždy, když dosadit jde. K tomu ale potřebujeme prověřit některé vlastnosti limit (např. aritmetické operace s limitami) a dále některé další základní limity, např. že $\lim_{x \rightarrow a} \sin x = \sin a$, $\lim_{x \rightarrow a} \cos x = \cos a$. Tomu se budeme věnovat v tomto odstavci, uvedeme (převážně bez důkazu) některé věty o limitách reálných funkcí, jejichž platnost umožní počítat limity dosazením.

Věta 3.16. Limity a nerovnosti

1. Nechť $\lim_{x \rightarrow a} f(x) < \lim_{x \rightarrow a} g(x)$. Potom existuje okolí $\mathcal{U}(a)$ tak, že pro všechna $x \in \mathcal{U}^*(a) \cap D_f \cap D_g$ platí $f(x) < g(x)$.
2. Nechť existují limity $\lim_{x \rightarrow a} f(x) = b$, $\lim_{x \rightarrow a} g(x) = c$ a na jistém okolí $\mathcal{U}^*(a)$ platí $f(x) \leq g(x)$. Potom je $b \leq c$.
3. **(O sevření)** Nechť $\lim_{x \rightarrow a} f(x) = \lim_{x \rightarrow a} h(x) = b$ a na jistém ryzím okolí bodu a platí

$$f(x) \leq g(x) \leq h(x).$$

Potom také $\lim_{x \rightarrow a} g(x) = b$.

Řečeno vlastními slovy: platí-li jistá (ostrá) nerovnost mezi limitami dvou funkcí v nějakém bodě, platí na nějakém okolí tohoto bodu stejná nerovnost i mezi funkčními hodnotami těchto funkcí; a naopak platí-li na jistém okolí nějaká (i ostrá) nerovnost mezi funkčními hodnotami dvou funkcí, platí (neostrá!) nerovnost mezi limitami; třetí tvrzení charakterizuje jeho název. Větu nebudeme dorazovat.

Užitím vět o nerovnostech a limitách ukážeme, že platí

1. Pro libovolné $a \in \mathbb{R}$ platí

$$\lim_{x \rightarrow a} \sin x = \sin a, \quad \lim_{x \rightarrow a} \cos x = \cos a.$$

a) Nejdříve ověříme pomocné tvrzení:

Platí-li $\forall x \in \mathcal{U}^*(a) \cap D_f$

$$|f(x) - b| \leq k|x - a|,$$

kde $a, b, k \in \mathbb{R}$, $k > 0$, potom

$$\lim_{x \rightarrow a} f(x) = b.$$

Zvolme libovolně okolí $\mathcal{U}(b, \varepsilon)$.

Položíme-li $\delta = \varepsilon/k$, je $\mathcal{U}^*(a) = \{x \in \mathbb{R}, 0 < |x - a| < \varepsilon/k\}$. Platí tedy

$$|f(x) - b| \leq k|x - a| < k \frac{\varepsilon}{k} = \varepsilon,$$

tedy $\lim_{x \rightarrow a} f(x) = b$.

b) Použijeme nerovnost $|\sin x| \leq |x|$ která platí pro každé $x \in \mathbb{R}$, a nerovnosti $|\sin x| \leq 1$, $|\cos x| \leq 1$. Protože

$$\sin x - \sin a = 2 \sin \frac{x-a}{2} \cos \frac{x+a}{2}, \quad \text{je} \quad |\sin x - \sin a| \leq 2 \left| \frac{x-a}{2} \right| = |x-a|.$$

Odtud podle a) je $\lim_{x \rightarrow a} \sin x = \sin a$.

c) Analogicky se dokáže tvrzení $\lim_{x \rightarrow a} \cos x = \cos a$.

2.

$$\lim_{x \rightarrow 0} \frac{\sin x}{x} = 1.$$

(Tuto limitu v nule budeme potřebovat při odvození derivace $\sin(x)$ a navíc funkce $f(x) = \frac{\sin(x)}{x}$, vystupuje odborných technických aplikacích.)

Pro

$$x \in \left(0, \frac{\pi}{2}\right) \quad \text{resp.} \quad x \in \left(-\frac{\pi}{2}, 0\right)$$

platí nerovnosti

$$\sin x \leq x \leq \operatorname{tg} x, \quad \text{resp.}$$

$$\operatorname{tg} x \leq x \leq \sin x,$$

které se názorně ověří pomocí zobrazení funkcí $\sin x$, $\operatorname{tg} x$ na jednotkové kružnici

(obrázek vpravo)

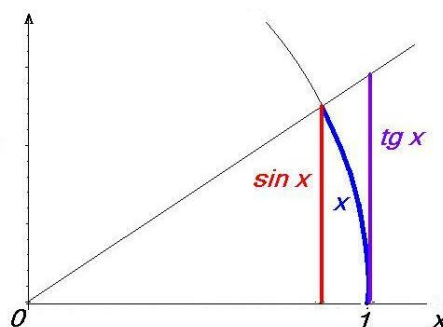
Tedy pro $x \in \left(-\frac{\pi}{2}, \frac{\pi}{2}\right)$ $x \neq 0$ platí

$$\cos x \leq \frac{\sin x}{x} \leq 1.$$

Víme, že $\lim_{x \rightarrow 0} 1 = 1$, kromě toho také

$$\lim_{x \rightarrow 0} \cos x = 1$$

Zbytek plyne z věty o sevření.



Obr. 3.6: K výpočtu $\lim_{x \rightarrow 0} \frac{\sin x}{x}$

Pro výpočet limit je velmi důležitá následující věta o aritmetických operacích:

Věta 3.17. o aritmetických operacích pro limity *Nechť funkce f , g mají vlastní limity v bodě a a platí $\lim_{x \rightarrow a} f(x) = b$ a $\lim_{x \rightarrow a} g(x) = c$, pak*

$$\lim_{x \rightarrow a} [f(x) \pm g(x)] = b \pm c,$$

$$\lim_{x \rightarrow a} f(x)g(x) = b \cdot c,$$

je-li navíc $c \neq 0$, platí

$$\lim_{x \rightarrow a} \frac{f(x)}{g(x)} = \frac{b}{c}$$

Důkaz věty naleznete v části **Pro zájemce** na konci kapitoly.

Příklad 3.18.

$\lim_{x \rightarrow a} P(x) = P(a)$, kde $P(x) = a_n x^n + a_{n-1} x^{n-1} + \dots + a_1 x + a_0$ je polynom.

Řešení. Vyšetřujeme limitu k -tého členu polynomu s použitím věty 3.17 a příkladu 3.8.

Dostáváme $\lim_{x \rightarrow a} a_k x^k = \lim_{x \rightarrow a} a_k \cdot (\lim_{x \rightarrow a} x)^k = a_k a^k$

a odtud $\lim_{x \rightarrow a} P(x) = \lim_{x \rightarrow a} \sum_{k=0}^n a_k x^k = \sum_{k=0}^n \lim_{x \rightarrow a} a_k x^k = \sum_{k=0}^n a_k a^k = P(a)$. □

Je-li nějaká funkce f ohraničená (např. shora, $f(x) \leq c, c \in \mathbb{R}$) a přitom rostoucí, musí být (podle věty o nerovnostech) její limita $\lim_{x \rightarrow \infty} f(x) \leq a$, navíc platí

Věta 3.19. Každá funkce f , která je neklesající (resp. nerostoucí) a shora (resp. zdola) ohraničená na některém intervalu (K, ∞) má v bodě ∞ vlastní limitu b a platí

$$b = \sup_{x \in (K, \infty)} f(x) \quad \left(\text{resp. } b = \inf_{x \in (K, \infty)} f(x) \right)$$

Příklad 3.20. Posloupnost $\left(1 + \frac{1}{n}\right)_{n=1}^{\infty}$ je konvergentní.

Řešení.

$$\begin{aligned} a_n &= \left(1 + \frac{1}{n}\right)^n = \sum_{k=0}^n \binom{n}{k} \frac{1}{n^k} = \sum_{k=0}^n \frac{n(n-1)\cdots(n-k+1)}{k!} \cdot \frac{1}{n^k} = \\ &= \sum_{k=0}^n \frac{1}{k!} \left(1 - \frac{1}{n}\right) \left(1 - \frac{2}{n}\right) \cdots \left(1 - \frac{k-1}{n}\right); \\ a_{n+1} &= \sum_{k=0}^n \frac{1}{k!} \left(1 - \frac{1}{n+1}\right) \left(1 - \frac{2}{n+1}\right) \cdots \left(1 - \frac{k-1}{n+1}\right). \end{aligned}$$

Odtud je zřejmé, že $a_n < a_{n+1}$, tedy posloupnost je rostoucí. Dále

$$a_n < \sum_{k=0}^n \frac{1}{k!} = 2 + \frac{1}{2!} + \cdots + \frac{1}{n!} < 2 + \frac{1}{2} + \frac{1}{2^2} + \cdots + \frac{1}{2^{n-1}} < 2 + 1 = 3.$$

To znamená, že posloupnost je shora ohraničená a má vlastní limitu. \square

Posloupnost $\left(1 + \frac{1}{n}\right)_{n=1}^{\infty}$ vystupuje při tzv. složeném úrokování: Jestliže r je roční úroková míra a úrok se počítá k -krát ročně, pak banka jeden rok rozdělí na k stejně dlouhých úrokovacích období a za úrokovou míru platnou pro každé úrokovací období se vezme jen odpovídající část $\frac{r}{k}$. Na konci prvního úrokovacího období vzroste počáteční vklad P na hodnotu $P \cdot \left(1 + \frac{r}{k}\right)$ (korun), na konci druhého resp. třetího úrokovacího období na $P \cdot \left(1 + \frac{r}{k}\right) \cdot \left(1 + \frac{r}{k}\right) = P \cdot \left(1 + \frac{r}{k}\right)^2$ (korun) resp. $P \cdot \left(1 + \frac{r}{k}\right)^3$ (korun), na konci prvního roku se úrok počítal právě k -krát a budoucí hodnota B vkladu P v tomto okamžiku tedy je $B = P \cdot \left(1 + \frac{r}{k}\right)^k$ (korun).

Nechť počáteční vklad je jedna koruna, $P = 1$ a nechť úroková míra je extrémně vysoká $r = 1$.

Při úrokování jednou ročně vzroste vklad $P = 1$ ke konci roku na budoucí hodnotu $B = 1 \cdot (1 + 1) = 2$ koruny (zde jsme měli $k = 1, t = 1$).

Při úrokování dvakrát ročně ($k = 2$) vzroste vklad 1 koruna ke konci první poloviny roku při úrokové míře 0,5 na hodnotu $B = \left(1 + \frac{1}{2}\right)^{0,5 \cdot 2} = 1,5$ koruny; ke konci roku, tedy po uplynutí druhého úrokovacího období při stejné úrokové míře na hodnotu

$B = \left(1 + \frac{1}{2}\right) \cdot \left(1 + \frac{1}{2}\right) = \left(1 + \frac{1}{2}\right)^2 = 2,25$ (korun).

Indukcí je možné usoudit, že při n -násobném úrokování v průběhu roku vklad 1 koruna vzroste ke konci roku na hodnotu $B = \left(1 + \frac{1}{n}\right)^n$ (korun) a to je posloupnost vyšetřovaná v předchozím příkladu.

Limita této posloupnosti hraje v matematické analýze významnou roli. Označujeme ji e a nazýváme **Eulerovo číslo**:

$$\lim_{n \rightarrow \infty} \left(1 + \frac{1}{n}\right)^n = e = 2,718\ 281\ 828\ 459 \dots$$

Věty o nevlastních limitách

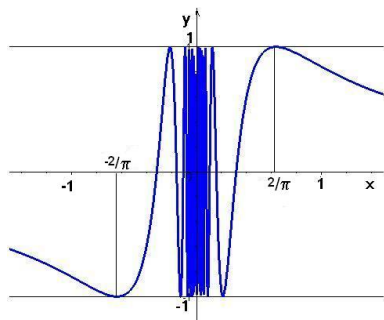
Věta 3.21.

1. $\lim_{x \rightarrow a} f(x) = \infty \Leftrightarrow \lim_{x \rightarrow a} (-f(x)) = -\infty$
2. $\lim_{x \rightarrow a} f(x) = \pm\infty \Rightarrow \lim_{x \rightarrow a} |f(x)| = \infty$
3. $\lim_{x \rightarrow a} |f(x)| = \infty \Leftrightarrow \lim_{x \rightarrow a} \frac{1}{f(x)} = 0$
4. $\lim_{x \rightarrow a} f(x) = \infty, g(x)$ ohraničená $\Rightarrow \lim_{x \rightarrow a} [f(x) + g(x)] = \infty$
5. $\lim_{x \rightarrow a} f(x) = \infty, g(x) \geq c, c > 0 \Rightarrow \lim_{x \rightarrow a} [f(x) \cdot g(x)] = \infty$

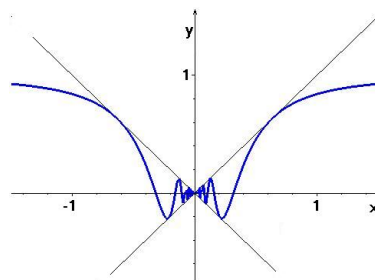
Věty 4., 5. jsou formulovány pro nevlastní limitu ∞ avšak z věty 1. plyne jejich platnost i pro bod $-\infty$. Kromě toho podmínky položené na funkci g stačí vztáhnout na některé okolí bodu a . Zaměníme-li ve větě 5. podmínku $g(x) \geq c$ na $g(x) \leq -c$, bude limita součinu $-\infty$. navíc z věty 3. a 5. plyne

$$6. \lim_{x \rightarrow a} f(x) = 0, g(x) \text{ ohraničená} \Rightarrow \lim_{x \rightarrow a} [f(x) \cdot g(x)] = 0$$

Příklad 3.22. $\lim_{x \rightarrow 0} x \sin \frac{1}{x} = 0$, protože funkce \sin je ohraničená a $\lim_{x \rightarrow 0} x = 0$.



Obr. 3.7: $f(x) = \sin \frac{1}{x}$



Obr. 3.8: $f(x) = x \sin \frac{1}{x}$

Příklad 3.23. Podobně ukážeme, že pro funkci f definovanou předpisem

$$f(x) = x \cdot \chi(x) = \begin{cases} x & x \in (Q) \\ 0 & x \notin (Q) \end{cases} \quad \text{platí} \quad \lim_{x \rightarrow 0} x \cdot \chi(x) = 0,$$

protože funkce χ je ohraničená a $\lim_{x \rightarrow 0} x = 0$.

Příklad 3.24. Nechť $P_m(x)$ je polynom stupně m a $Q_n(x)$ polynom stupně n . Máme vypočítat

$$\text{a) } \lim_{x \rightarrow \infty} \frac{P_m(x)}{Q_n(x)}, \quad \text{b) } \lim_{x \rightarrow a} \frac{P_m(x)}{Q_n(x)}, \text{ je-li } P_m(a) = Q_n(a) = 0.$$

Řešení. a) Nechť

$$P_m(x) = a_m x^m + a_{m-1} x^{m-1} + \dots + a_1 x + a_0,$$

$$Q_n(x) = b_n x^n + b_{n-1} x^{n-1} + \dots + b_1 x + b_0.$$

Rozlišíme tři případy:

1. $m < n$: Vyšetřovanou racionální lomenou funkci rozšíříme výrazem x^{-n} (čitatele i jmenovatele dělíme nejvyšší mocninou x , která se ve zlomku vyskytuje); dostaneme

$$\lim_{x \rightarrow \infty} \frac{P_m(x)}{Q_n(x)} = \lim_{x \rightarrow \infty} \frac{a_m x^{m-n} + a_{m-1} x^{m-n-1} + \dots + a_1 x^{1-n} + a_0 x^{-n}}{b_n + b_{n-1} x^{-1} + \dots + b_1 x^{1-n} + b_0 x^{-n}};$$

limita jmenovatele je zřejmě rovna b_n (ostatní sčítance obsahují záporné mocniny x , a tedy mají nulovou limitu), protože podle předpokladu je $m < n$, jsou i všechny mocniny x v čitateli záporné, a tedy limita čitatele je rovna nule. Proto limita celého zlomku je rovna nule.

2. $m = n$: Opět dělíme čitatele i jmenovatele vyšetřovaného zlomku nejvyšší mocninou x , která je stejná v čitateli i jmenovateli a je rovna n . Dostaneme

$$\lim_{x \rightarrow \infty} \frac{P_n(x)}{Q_n(x)} = \lim_{x \rightarrow \infty} \frac{a_n + a_{n-1} x^{-1} + \dots + a_1 x^{1-n} + a_0 x^{-n}}{b_n + b_{n-1} x^{-1} + \dots + b_1 x^{1-n} + b_0 x^{-n}},$$

mocniny x v čitateli i jmenovateli jsou záporné, a tedy je limita celého zlomku rovna $\frac{a_n}{b_n}$.

3. $m > n$: Nejdříve z polynomu v čitateli i z polynomu ve jmenovateli vytkneme koeficient u nejvyšších mocnin x :

$$\lim_{x \rightarrow \infty} \frac{P_m(x)}{Q_n(x)} = \frac{a_m}{b_n} \lim_{x \rightarrow \infty} \frac{x^m + \frac{a_{m-1}}{a_m} x^{m-1} + \dots + \frac{a_1}{a_m} x + \frac{a_0}{a_m}}{x^n + \frac{b_{n-1}}{b_n} x^{n-1} + \dots + \frac{b_1}{b_n} x + \frac{b_0}{b_n}}.$$

Čitatele i jmenovatele vydělíme nejvyšší mocninou x vyskytující se ve jmenovateli zlomku, tedy n a dostaneme:

$$\lim_{x \rightarrow \infty} \frac{P_m(x)}{Q_n(x)} = \frac{a_m}{b_n} \lim_{x \rightarrow \infty} \frac{x^{m-n} + \frac{a_{m-1}}{a_m} x^{m-n-1} + \dots + \frac{a_1}{a_m} x^{1-n} + \frac{a_0}{a_m} x^{-n}}{1 + \frac{b_{n-1}}{b_n} x^{-1} + \dots + \frac{b_1}{b_n} x^{1-n} + \frac{b_0}{b_n} x^{-n}};$$

limita zlomku je rovna ∞ , výsledek bude $\pm\infty$ podle znaménka podílu $\frac{a_m}{b_n}$.

Závěrem dostáváme

$$\lim_{x \rightarrow \infty} \frac{P_m(x)}{Q_n(x)} = \begin{cases} 0 & \text{pro } m < n \\ a_n/b_n & \text{pro } m = n \\ \infty \\ -\infty \end{cases} \text{ pro } \begin{cases} m > n, a_m/b_n > 0 \\ m > n, a_m/b_n < 0 \end{cases}$$

b) Podle zadání je $x = a$ kořenem obou polynomů; platí tedy

$$P_m(x) = (x - a)^k \bar{P}(x), \quad Q_n(x) = (x - a)^l \bar{Q}(x),$$

kde $\bar{P}(a) \neq 0$ a $\bar{Q}(a) \neq 0$, přičemž k resp. l je násobnost čísla a jako kořenu polynomu $P_m(x)$ resp. $Q_n(x)$. Odtud

$$\lim_{x \rightarrow a} \frac{P_m(x)}{Q_n(x)} = \frac{\bar{P}(a)}{\bar{Q}(a)} \lim_{x \rightarrow a} (x - a)^{k-l}.$$

Opět mohou nastat tři případy:

1. $k > l$: limita je zřejmě rovna nule;
2. $k = l$: limita je rovna $\bar{P}(a)/\bar{Q}(a)$;
3. $k < l$: zde výsledek závisí na tom, zda je číslo $l - k$ sudé nebo liché:
 - (a) $k < l$, $l - k$ sudé – limita je rovna nekonečnu opatřenému znaménkem, jaké má podíl $\bar{P}(a)/\bar{Q}(a)$;
 - (b) $k < l$, $l - k$ liché – limita neexistuje, jednostranné limity jsou nevlastní s různým znaménkem:
Je-li $\bar{P}(a)/\bar{Q}(a) > 0$, je limita zprava rovna ∞ , limita zleva rovna $-\infty$, pro $\bar{P}(a)/\bar{Q}(a) < 0$ jsou znaménka opačná.

□

Uvedeme několik konkrétních případů:

Příklad 3.25. Máme vypočítat následující limity racionálních lomených funkcí:

- a) $\lim_{x \rightarrow 2} \frac{x^2 - 4}{x^2 - 3x + 2}$ b) $\lim_{x \rightarrow 1} \frac{x^2 - 4}{x^2 - 3x + 2}$ c) $\lim_{x \rightarrow 1} \frac{x^3 - 4x^2 + 5x - 2}{x^5 - 3x + 2}$
 d) $\lim_{x \rightarrow 1} \frac{x^5 - 3x + 2}{x^3 - 3x^2 + 3x - 1}$ e) $\lim_{x \rightarrow \infty} \frac{x^2 - 4}{x^2 - 3x + 2}$ f) $\lim_{x \rightarrow \infty} \frac{(x + 3)(x + 4)(x + 5)}{x^4 + x - 11}$
 g) $\lim_{x \rightarrow \infty} \frac{7x^3 - 2x}{6 - 13x^2}$

Řešení. a)

$$\lim_{x \rightarrow 2} \frac{x^2 - 4}{x^2 - 3x + 2} = \lim_{x \rightarrow 2} \frac{(x-2)(x+2)}{(x-2)(x-1)} = \lim_{x \rightarrow 2} \frac{x+2}{x-1} = 4$$

b)

$$\lim_{x \rightarrow 1} \frac{x^2 - 4}{x^2 - 3x + 2} = \lim_{x \rightarrow 1} \frac{x^2 - 4}{x-2} \cdot \frac{1}{x-1} = 3 \lim_{x \rightarrow 1} \frac{1}{x-1} = \begin{cases} 3 \lim_{x \rightarrow 1^+} \frac{1}{x-1} = \infty \\ 3 \lim_{x \rightarrow 1^-} \frac{1}{x-1} = -\infty \end{cases}$$

c)

$$\begin{aligned} \lim_{x \rightarrow 1} \frac{x^3 - 4x^2 + 5x - 2}{x^5 - 3x + 2} &= \lim_{x \rightarrow 1} \frac{(x-2)(x-1)^2}{(x-1)(x^4 + x^3 + x^2 + x - 2)} = \\ &= \lim_{x \rightarrow 1} \frac{(x-1)(x-2)}{x^4 + x^3 + x^2 + x - 2} = 0 \end{aligned}$$

d)

$$\begin{aligned} \lim_{x \rightarrow 1} \frac{x^5 - 3x + 2}{x^3 - 3x^2 + 3x - 1} &= \lim_{x \rightarrow 1} \frac{(x-1)(x^4 + x^3 + x^2 + x - 2)}{(x-1)^3} = \\ &= 2 \lim_{x \rightarrow 1} \frac{1}{(x-1)^2} = \infty \end{aligned}$$

e)

$$\lim_{x \rightarrow \infty} \frac{x^2 - 4}{x^2 - 3x + 2} = \lim_{x \rightarrow \infty} \frac{1 - 4\frac{1}{x^2}}{1 - 3\frac{1}{x} + 2\frac{1}{x^2}} = 1$$

f)

$$\lim_{x \rightarrow \infty} \frac{(x+3)(x+4)(x+5)}{x^4 + x - 11} = \lim_{x \rightarrow \infty} \frac{\frac{1}{x}(1 + \frac{3}{x})(1 + \frac{4}{x})(1 + \frac{5}{x})}{1 + \frac{1}{x^3} - \frac{11}{x^4}} = 0$$

g)

$$\lim_{x \rightarrow \infty} \frac{7x^3 - 2x}{6 - 13x^2} = -\frac{7}{13} \lim_{x \rightarrow \infty} \frac{x^3 - \frac{2}{7}x}{x^2 - \frac{6}{13}} = -\frac{7}{13} \lim_{x \rightarrow \infty} \frac{x(1 - \frac{2}{7}\frac{1}{x^2})}{1 - \frac{6}{13}\frac{1}{x^2}} = -\infty$$

□

Limita složené funkce

Věta 3.26. *Nechť*

1. *a je hromadný bod množiny D_f , kde $f = h \circ g$,*

2. existují limity

$$c = \lim_{x \rightarrow a} g(x), \quad d = \lim_{t \rightarrow c} h(t),$$

3. na jistém okolí bodu a je pro $x \neq a$ také $g(x) \neq c$.

Potom existuje limita složené funkce f v bodě a , přičemž

$$\lim_{x \rightarrow a} f(x) = d.$$

Poznámka: Je-li funkce h spojitá v bodě c (viz následující kapitola), je možno podmínku 3. vynechat.

V následujícím příkladě naznačíme techniku počítání limit:

Příklad 3.27. Máme vypočítat následující limity:

$$\begin{array}{lll} \text{a)} \quad \lim_{x \rightarrow 0} \frac{\sqrt{2+x} - \sqrt{2}}{x} & \text{b)} \quad \lim_{x \rightarrow 4} \frac{\sqrt{x} - 2}{\sqrt{x^3} - 8} & \text{c)} \quad \lim_{x \rightarrow 0} \frac{\sin 4x + \sin 7x}{\sin 3x} \\ \text{d)} \quad \lim_{x \rightarrow 0} \frac{x}{\arctg x} & \text{e)} \quad \lim_{x \rightarrow 0} \frac{1 - \cos x}{x^2} & \text{f)} \quad \lim_{x \rightarrow 0} \frac{\operatorname{tg} x - \sin x}{\sin^3 x} \\ \text{g)} \quad \lim_{x \rightarrow \infty} \frac{\sqrt{3x^2 + 9}}{2x + 3} & \text{h)} \quad \lim_{x \rightarrow \infty} \frac{\sqrt{x + 2\sqrt{3x + 4\sqrt{5x}}}}{\sqrt{2x + 1}} \end{array}$$

Řešení.

a) Limita čitatele i jmenovatele je rovna nule; zlomek upravíme tak, abychom (analogicky jako u racionální lomené funkce) příslušný kořenový činitel vykrátili:

$$\begin{aligned} \lim_{x \rightarrow 0} \frac{\sqrt{2+x} - \sqrt{2}}{x} &= \lim_{x \rightarrow 0} \frac{\sqrt{2+x} - \sqrt{2}}{x} \frac{\sqrt{2+x} + \sqrt{2}}{\sqrt{2+x} + \sqrt{2}} = \\ &= \lim_{x \rightarrow 0} \frac{2+x-2}{x} \frac{1}{\sqrt{2+x} + \sqrt{2}} = \lim_{x \rightarrow 0} \frac{1}{\sqrt{2+x} + \sqrt{2}} = \frac{\sqrt{2}}{4}. \end{aligned}$$

Při výpočtu limity jmenovatele jsme použili větu o limitě složené funkce:

$$\lim_{x \rightarrow 0} \sqrt{2+x} = \sqrt{\lim_{x \rightarrow 0} (2+x)} = \sqrt{2}.$$

b) Zde můžeme jmenovatele rozložit jako rozdíl třetích mocnin:

$$\begin{aligned} \lim_{x \rightarrow 4} \frac{\sqrt{x} - 2}{\sqrt{x^3} - 8} &= \lim_{x \rightarrow 4} \frac{\sqrt{x} - 2}{(\sqrt{x})^3 - 2^3} = \lim_{x \rightarrow 4} \frac{\sqrt{x} - 2}{(\sqrt{x} - 2)(x + 2\sqrt{x} + 4)} = \\ &= \lim_{x \rightarrow 4} \frac{1}{x + 2\sqrt{x} + 4} = \frac{1}{12}. \end{aligned}$$

c) Využijeme známé limity $\lim_{x \rightarrow 0} \frac{\sin x}{x} = 1$ s vnitřní složkou $x = kt$ pro vhodné k .

Nejdříve čitatele i jmenovatele zlomku dělíme x a jednotlivé vzniklé zlomky rozšíříme vhodnou konstantou:

$$\lim_{x \rightarrow 0} \frac{\sin 4x + \sin 7x}{\sin 3x} = \lim_{x \rightarrow 0} \frac{\frac{\sin 4x}{x} + \frac{\sin 7x}{x}}{\frac{\sin 3x}{x}} = \lim_{x \rightarrow 0} \frac{4 \frac{\sin 4x}{4x} + 7 \frac{\sin 7x}{7x}}{3 \frac{\sin 3x}{3x}} = \frac{4 + 7}{3} = \frac{11}{3}.$$

d) Položíme $x = \operatorname{tg} t$ (pro $t \rightarrow 0$ je $x \rightarrow 0$):

$$\lim_{x \rightarrow 0} \frac{x}{\arctg x} = \lim_{t \rightarrow 0} \frac{\operatorname{tg} t}{\arctg(\operatorname{tg} t)} = \lim_{t \rightarrow 0} \frac{\operatorname{tg} t}{t} = \lim_{t \rightarrow 0} \frac{\sin t}{t \cos t} = 1.$$

e) Využijeme známou goniometrickou identitu $1 - \cos^2 x = \sin^2 x$ a opět větu o limitě složené funkce:

$$\lim_{x \rightarrow 0} \frac{1 - \cos x}{x^2} = \lim_{x \rightarrow 0} \frac{(1 - \cos x)(1 + \cos x)}{x^2(1 + \cos x)} = \lim_{x \rightarrow 0} \left(\frac{\sin x}{x} \right)^2 \frac{1}{1 + \cos x} = \frac{1}{2}.$$

f) Postupnými úpravami dostaneme

$$\begin{aligned} \lim_{x \rightarrow 0} \frac{\operatorname{tg} x - \sin x}{\sin^3 x} &= \lim_{x \rightarrow 0} \frac{\sin x \left(\frac{1}{\cos x} - 1 \right)}{\sin^3 x} = \lim_{x \rightarrow 0} \frac{1 - \cos x}{\cos x \sin^2 x} \frac{1 + \cos x}{1 + \cos x} = \\ &= \lim_{x \rightarrow 0} \frac{1}{\cos x(1 + \cos x)} = \frac{1}{2}. \end{aligned}$$

g) Limita čitatele i jmenovatele je ∞ ; budeme postupovat analogicky jako u limit racionálních lomených funkcí, opět s použitím věty o limitě složené funkce:

$$\lim_{x \rightarrow \infty} \frac{\sqrt{3x^2 + 9}}{2x + 3} = \lim_{x \rightarrow \infty} \frac{\sqrt{x^2(3 + \frac{9}{x^2})}}{x(2 + \frac{3}{x})} = \lim_{x \rightarrow \infty} \frac{\sqrt{3 + \frac{9}{x^2}}}{2 + \frac{3}{x}} = \frac{\sqrt{3}}{2}.$$

V čitateli zadaného podílu byla druhá odmocnina výrazu, v němž nejvyšší mocnina x byla 2; můžeme tedy říci, že nejvyšší mocnina x v čitateli je 1 a koeficient u této nejvyšší mocniny x je $\sqrt{3}$. Jmenovatel je polynom 1. stupně s koeficientem u x rovným 2. Vidíme, že náš výsledek je vlastně opět podíl koeficientů u nejvyšších mocnin (jsou-li tyto mocniny stejné).

h) Použijme předchozí úvahu: Nejvyšší mocnina x v čitateli i jmenovateli je $\frac{1}{2}$ a podíl koeficientů u těchto mocnin je $\frac{1}{\sqrt{2}}$ a to by měl být výsledek. Přesvědčíme se výpočtem:

$$\begin{aligned} \lim_{x \rightarrow \infty} \frac{\sqrt{x + 2\sqrt{3x + 4\sqrt{5x}}}}{\sqrt{2x + 1}} &= \lim_{x \rightarrow \infty} \frac{\sqrt{x} \sqrt{1 + \frac{2}{x} \sqrt{3x + 4\sqrt{5x}}}}{\sqrt{x} \sqrt{2 + \frac{1}{x}}} = \\ &= \lim_{x \rightarrow \infty} \frac{\sqrt{1 + 2\sqrt{3 \frac{1}{x} + 4\sqrt{5 \frac{1}{x^3}}}}}{\sqrt{2 + \frac{1}{x}}} = \frac{1}{\sqrt{2}} = \frac{\sqrt{2}}{2}. \end{aligned}$$

□

Příklad 3.28. Pomocí věty o limitě složené funkce odvodíme některé důležité limity:

$$\begin{array}{ll} \text{a) } \lim_{x \rightarrow \infty} \left(1 + \frac{1}{x}\right)^x = e & \text{b) } \lim_{x \rightarrow -\infty} \left(1 + \frac{1}{x}\right)^x = e \\ \text{c) } \lim_{x \rightarrow \infty} \left(1 + \frac{c}{x}\right)^x = e^c & \text{d) } \lim_{x \rightarrow 0} (1+x)^{\frac{1}{x}} = e \end{array}$$

Řešení.

a) Pro $x > 1$ platí

$$\left(1 + \frac{1}{n+1}\right)^n < \left(1 + \frac{1}{x}\right)^x < \left(1 + \frac{1}{n}\right)^{n+1}$$

kde $n = [x]$ je celá část x , tj. přirozené číslo n , pro které je

$$n \leq x < n + 1.$$

Přejdeme-li k limitě pro $x \rightarrow \infty$, a tedy i pro $n \rightarrow \infty$, dostaneme

$$\begin{aligned} \lim_{n \rightarrow \infty} \left(1 + \frac{1}{n+1}\right)^n &= \lim_{n \rightarrow \infty} \frac{\left(1 + \frac{1}{n+1}\right)^{n+1}}{1 + \frac{1}{n+1}} = \frac{e}{1} = e, \\ \lim_{n \rightarrow \infty} \left(1 + \frac{1}{n}\right)^{n+1} &= \lim_{n \rightarrow \infty} \left(1 + \frac{1}{n}\right)^n \cdot \left(1 + \frac{1}{n}\right) = e \cdot 1 = e. \end{aligned}$$

Odtud podle věty o sevření 3 plyne

$$\lim_{x \rightarrow \infty} \left(1 + \frac{1}{x}\right)^x = e.$$

b) Návod: Použijeme větu o limitě složené funkce tak, že za vnitřní složku volíme funkci $u = -x - 1$ (tedy $x = -u - 1$).

c) Návod: Použijeme větu o limitě složené funkce tak, že za vnitřní složku volíme funkci $u = \frac{x}{c}$.

d) Návod: Použijeme větu o limitě složené funkce tak, že za vnitřní složku volíme funkci $u = \frac{1}{x}$.

□

Pro výpočet limit můžete použít [tento Maplet](#), pro limity posloupností [tento Maplet](#).

Asymptoty grafu funkce

Pojem asymptoty je nám znám u hyperbol – např. graf funkce $f(x) = \frac{1}{x}$ je rovnoosá hyperbola se svislou asymptotou $x = 0$ a vodorovnou asymptotou $y = 0$, horní větev hyperboly $y^2 - x^2 = 1$ – graf funkce $f(x) = \sqrt{1 - x^2}$ má asymptoty $y = \pm x$; zajímají nás tedy „tečny grafu funkce v nekonečnu“, které budeme vyšetřovat pomocí limit v této kapitole.

Definice 3.29.

- a) Přímka $x = a$ se nazývá **asymptotou bez směrnice (svislou asymptotou)** grafu funkce f , jestliže

$$\lim_{x \rightarrow a^-} f(x) = \pm\infty, \quad \text{nebo} \quad \lim_{x \rightarrow a^+} f(x) = \pm\infty.$$

- b) Přímka $y = ax + b$ se nazývá **asymptotou se směrnicí** grafu funkce f , jestliže

$$\lim_{x \rightarrow \infty} [f(x) - (ax + b)] = 0, \quad \text{nebo} \quad \lim_{x \rightarrow -\infty} [f(x) - (ax + b)] = 0.$$

Místo asymptota grafu funkce f říkáme také stručněji asymptota funkce f .

Věta 3.30.

1. Jestliže je přímka $y = ax + b$ asymptotou funkce f , potom

$$a = \lim_{x \rightarrow \pm\infty} \frac{f(x)}{x}, \quad b = \lim_{x \rightarrow \pm\infty} [f(x) - ax], \quad \text{kde } \lim \text{ je buď } \lim_{x \rightarrow \infty} \text{ nebo } \lim_{x \rightarrow -\infty}.$$

2. Naopak, jestliže existují vlastní limity z 1., potom přímka $y = ax + b$ je asymptotou funkce f .

Příklad 3.31. Máme najít asymptoty funkce $f : f(x) = x + \frac{1}{x-1}$.

Řešení. $\lim_{x \rightarrow 1^+} (x + \frac{1}{x-1}) = \infty,$

$$\lim_{x \rightarrow 1^-} (x + \frac{1}{x-1}) = -\infty.$$

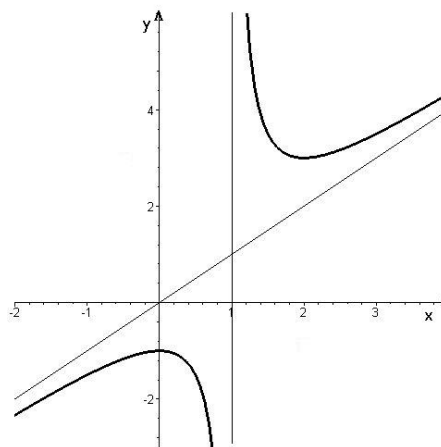
Je tedy přímka $x = 1$ svislou asymptotou funkce f .

Protože

$$a = \lim_{x \rightarrow \pm\infty} \frac{f(x)}{x} = \lim_{x \rightarrow \pm\infty} \left(1 + \frac{1}{x(x-1)}\right) = 1,$$

$$b = \lim_{x \rightarrow \pm\infty} (f(x) - ax) = \lim_{x \rightarrow \pm\infty} \frac{1}{x-1} = 0,$$

je přímka $y = x$ jedinou asymptotou se směrnicí funkce f . \square



Obr. 3.9: $f(x) = x + \frac{1}{x-1}$

Asymptoty lze počítat a znázornit pomocí [tohoto Mapletu](#).

Pro zájemce

Důkaz věty o jednostranných limitách:

- a) Jestliže existuje $\lim_{x \rightarrow a} f(x) = b$, existují (podle věty 3.9 o relativní limitě) i obě jednostranné limity, protože

$$\lim_{x \rightarrow a^+} f(x) = \lim_{x \rightarrow a} f|_{(a, \infty)}(x) \quad \text{a} \quad \lim_{x \rightarrow a^-} f(x) = \lim_{x \rightarrow a} f|_{(-\infty, a)}(x).$$

- b) Jestliže existují jednostranné limity a rovnají se b , potom ke každému okolí $\mathcal{U}(b)$ existují okolí $\mathcal{U}_1(a)$, $\mathcal{U}_2(a)$ taková, že pro $x \in \mathcal{U}_1(a) \cap D_f \cap (-\infty, a)$ je $f(x) \in \mathcal{U}(b)$ a pro $x \in \mathcal{U}_2(a) \cap D_f \cap (a, \infty)$ je také $f(x) \in \mathcal{U}(b)$. Označíme-li $\mathcal{U}(a) = \mathcal{U}_1(a) \cup \mathcal{U}_2(a)$, potom pro $x \in \mathcal{U}^*(a) \cap D_f$ je $f(x) \in \mathcal{U}(b)$.

Důkaz věty o aritmetických operacích: Naznačíme důkaz pro limitu součtu.

Máme ukázat, že $\lim_{x \rightarrow a} (f(x) + g(x)) = b + c$. Zvolme tedy libovolně $\varepsilon > 0$; máme najít $\delta > 0$ tak, aby pro každé $x \in \mathcal{U}^*(a) \cap D_{f+g}$ platilo $|f(x) + g(x) - (b + c)| < \varepsilon$.

Položme $\varepsilon_1 = \frac{\varepsilon}{2}$. Protože platí $\lim_{x \rightarrow a} f(x) = b$ a $\lim_{x \rightarrow a} g(x) = c$, existují δ_1, δ_2 tak, že

$$\forall x : 0 < |x - a| < \delta_1 \Rightarrow |f(x) - b| < \varepsilon_1 \quad \text{a} \quad \forall x : 0 < |x - a| < \delta_2 \Rightarrow |g(x) - c| < \varepsilon_1.$$

Položme $\delta = \min\{\delta_1, \delta_2\}$. Potom

$$\forall x : 0 < |x - a| < \delta \Rightarrow |(f + g)(x) - (b + c)| = |(f(x) - b) + (g(x) - c)| \leq |f(x) - b| + |g(x) - c| < \varepsilon_1 + \varepsilon_1 = \varepsilon$$

a to jsme měli dokázat.

Důkaz věty o limitě složené funkce: Ke každému $\mathcal{U}(d)$ existuje $\mathcal{U}(c)$ a ke každému $\mathcal{U}(c)$ existuje $\mathcal{U}(a)$ tak, že $x \neq a, x \in \mathcal{U}(a) \Rightarrow g(x) \in \mathcal{U}(c)$ a podle 3. $g(x) \neq c \Rightarrow h(g(x)) = f(x) \in \mathcal{U}(d)$.

Shrnutí

V této kapitole jsme se věnovali základnímu prostředku, s nímž pracuje matematická analýza – pojmu limity. Definovali jsme

- limitu funkce f v bodě a : $\lim_{x \rightarrow a} f(x) = b$, jestliže k libovolnému okolí $\mathcal{U}(b)$ limity b existuje okolí $\mathcal{U}(a)$ bodu a tak, že funkce f zobrazí množinu $\mathcal{U}^*(a) \cap D_f$ do předem zvoleného $\mathcal{U}(b)$, přitom jsme připustili i možnosti $a = \pm\infty$ resp. $b = \pm\infty$,
- limitu zleva resp. zprava: podmínku v definici limity klademe pouze na body $x < a$ resp. $x > a$; tedy např. $\lim_{x \rightarrow a^-} f(x) = b$, jestliže k libovolnému okolí $\mathcal{U}(b)$ limity b existuje okolí $\mathcal{U}(a)$ bodu a tak, že funkce f zobrazí množinu $\mathcal{U}^*(a) \cap D_f \cap (-\infty, a)$ do předem zvoleného $\mathcal{U}(b)$,
- speciálně limitu posloupnosti (a_n) : $\lim_{n \rightarrow \infty} a_n = b$, jestliže k libovolnému okolí $\mathcal{U}(b)$ limity b existuje číslo K tak, že pro všechny indexy n , pro které platí $n > K$, je $a_n \in \mathcal{U}(b)$.

Dále jsme odvodili pravidla pro počítání limit:

- jsou-li f, g funkce a obě limity $\lim_{x \rightarrow a} f(x)$ a $\lim_{x \rightarrow a} g(x)$ existují a jsou konečné, platí
 1. $\lim_{x \rightarrow a} (f(x) \pm g(x)) = \lim_{x \rightarrow a} f(x) \pm \lim_{x \rightarrow a} g(x)$,
 2. $\lim_{x \rightarrow a} kf(x) = k \lim_{x \rightarrow a} f(x)$ pro každou konstantu $k \in \mathbb{R}$,
 3. $\lim_{x \rightarrow a} f(x)g(x) = \lim_{x \rightarrow a} f(x) \lim_{x \rightarrow a} g(x)$,
 4. $\lim_{x \rightarrow a} \frac{f(x)}{g(x)} = \frac{\lim_{x \rightarrow a} f(x)}{\lim_{x \rightarrow a} g(x)}$, je-li $\lim_{x \rightarrow a} g(x) \neq 0$,
 5. $\lim_{x \rightarrow a} f(x)^{g(x)} = \left(\lim_{x \rightarrow a} f(x) \right)^{\lim_{x \rightarrow a} g(x)}$, je-li $\lim_{x \rightarrow a} f(x) > 0$;
- je-li $\lim_{x \rightarrow a} f(x) = 0$ a $|g(x)| < K$, je $\lim_{x \rightarrow a} f(x)g(x) = 0$;
- pro nevlastní limity platí
 1. $\lim_{x \rightarrow a} f(x) = \infty \Leftrightarrow \lim_{x \rightarrow a} (-f(x)) = -\infty$,
 2. $\lim_{x \rightarrow a} |f(x)| = \infty \Leftrightarrow \lim_{x \rightarrow a} \frac{1}{f(x)} = 0$,
 3. $\lim_{x \rightarrow a} f(x) = \infty \wedge |g(x)| < K, \Rightarrow \lim_{x \rightarrow a} (f(x) + g(x)) = \infty$,
 4. $\lim_{x \rightarrow a} f(x) = \infty \wedge g(x) \geq c, c > 0 \Rightarrow \lim_{x \rightarrow a} (f(x)g(x)) = \infty$;
- je-li $\lim_{u \rightarrow b} f(u) = B$, $\lim_{x \rightarrow a} g(x) = b$ a navíc existuje takové okolí $\mathcal{U}(a)$ bodu a , že $\forall x \in \mathcal{U}^*(a)$ je $g(x) \neq b$, potom pro limitu složené funkce $f \circ g$ platí $\lim_{x \rightarrow a} f(g(x)) = B$.

Závěrem jsme zavedli pojem asymptoty grafu funkce:

- asymptota bez směrnice (svislá): přímka $x = a$ je svislá asymptota funkce f , je-li $\lim_{x \rightarrow a^-} f(x)$, nebo $\lim_{x \rightarrow a^+} f(x)$ nevlastní,
- asymptota se směrnicí: přímka $y = ax + b$ je asymptota funkce f , je-li $\lim_{x \rightarrow \infty} [f(x) - (ax + b)] = 0$, nebo $\lim_{x \rightarrow -\infty} [f(x) - (ax + b)] = 0$;
- pro a, b platí: $a = \lim_{x \rightarrow \pm\infty} \frac{f(x)}{x}$ a $b = \lim_{x \rightarrow \pm\infty} (f(x) - ax)$.

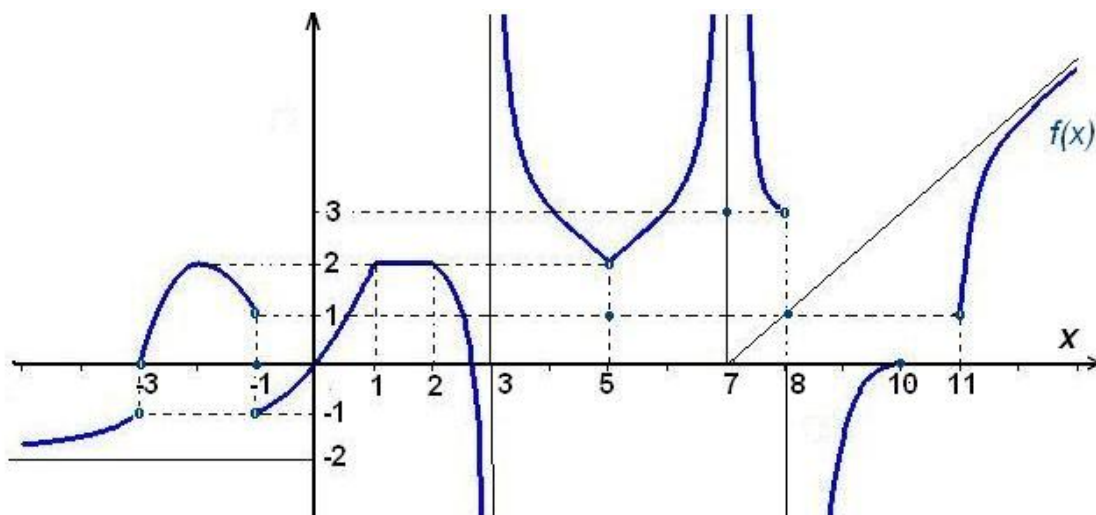
Otázky a úkoly

1. Které z následujících tvrzení je ekvivalentní s $\lim_{x \rightarrow a} f(x) = b$?
 - a) pro libovolné okolí $\mathcal{U}(b)$ bodu b a libovolné okolí $\mathcal{U}(a)$ bodu a zobrazí funkce f množinu $\mathcal{U}^*(a) \cap D_f$ do $\mathcal{U}(b)$,
 - b) existuje okolí $\mathcal{U}(b)$ bodu b a okolí $\mathcal{U}(a)$ bodu a tak, že funkce f zobrazí množinu $\mathcal{U}^*(a) \cap D_f$ do $\mathcal{U}(b)$,
 - c) pro libovolné okolí $\mathcal{U}(a)$ bodu a existuje okolí $\mathcal{U}(b)$ bodu b tak, že funkce f zobrazí množinu $\mathcal{U}^*(a) \cap D_f$ do $\mathcal{U}(b)$,
 - d) pro libovolné okolí $\mathcal{U}(b)$ bodu b existuje okolí $\mathcal{U}(a)$ bodu a tak, že funkce f zobrazí množinu $\mathcal{U}^*(a) \cap D_f$ do $\mathcal{U}(b)$,
 - e) existuje okolí $\mathcal{U}(b)$ bodu b tak, že pro libovolné okolí $\mathcal{U}(a)$ bodu a zobrazí funkce f množinu $\mathcal{U}^*(a) \cap D_f$ do $\mathcal{U}(b)$,
 - f) existuje okolí $\mathcal{U}(a)$ bodu a tak, že pro libovolné okolí $\mathcal{U}(b)$ bodu b zobrazí funkce f množinu $\mathcal{U}^*(a) \cap D_f$ do $\mathcal{U}(b)$.

V případě záporné odpovědi uveďte vždy protipříklad.

2. Může existovat $\lim_{x \rightarrow 2} f(x)$, jestliže f není definována pro $x = 2$?
3. Je-li $\lim_{x \rightarrow 2} f(x) = 5$, co můžeme říci o $f(2)$?
4. Může být $\lim_{x \rightarrow 2} f(x) = \lim_{x \rightarrow 3} f(x)$?
5. Může se stát, že f nenabývá nikdy hodnoty 6 a přesto $\lim_{x \rightarrow 3} f(x) = 6$?
6. Může se stát, aby se funkce rovnala dvojnásobku jiné funkce a přesto s ní měla stejnou limitu v nějakém bodě?
7. Ukažte, že číslo b není limitou posloupnosti (a_n) , jestliže
 - a) $a_n = \frac{1}{n}$, $b = 10^{-7}$; b) $a_n = 13^n$, $b = 10^{-100}$; c) $a_n = \sqrt[n]{n}$, $b = 1 + 10^{-6}$.
8.
 - a) Načrtněte graf funkce f pro kterou platí $f(x) = |x| - x$.
 - b) Pro která a existuje $\lim_{x \rightarrow a} f(x)$?
9. Funkce f je definovaná předpisem $f(x) = \begin{cases} 1 & \text{pro } x \in \mathbb{Z} \\ 0 & \text{pro } x \notin \mathbb{Z} \end{cases}$
 - a) Načrtněte graf funkce f .
 - b) Existuje $\lim_{x \rightarrow 3} f(x)$?
 - c) Existuje $\lim_{x \rightarrow 3,5} f(x)$?
 - d) Pro která a existuje $\lim_{x \rightarrow a} f(x)$?

10. Funkce f je definovaná předpisem $f(x) = \begin{cases} x & \text{pro } x \in \mathbb{Q} \\ -x & \text{pro } x \notin \mathbb{Q} \end{cases}$
- Naznačte, jak vypadá graf funkce f .
 - Existuje $\lim_{x \rightarrow 1} f(x)$?
 - Existuje $\lim_{x \rightarrow \sqrt{2}} f(x)$?
 - Pro která a existuje $\lim_{x \rightarrow a} f(x)$?
11. Funkce f je definovaná předpisem $f(x) = \begin{cases} x^2 & \text{pro } x \in \mathbb{Q} \\ x^3 & \text{pro } x \notin \mathbb{Q} \end{cases}$
- Naznačte, jak vypadá graf funkce f ,
 - Existuje $\lim_{x \rightarrow 2} f(x)$?
 - Existuje $\lim_{x \rightarrow 1} f(x)$?
 - Existuje $\lim_{x \rightarrow 0} f(x)$?
 - Pro která a existuje $\lim_{x \rightarrow a} f(x)$?
12. Nechť funkce f je zadána grafem v obr. 3.10. Zjistěte, čemu se rovnají limity a funkční hodnoty funkce f ve význačných bodech definičního oboru $-\infty, -3, -1, 1, 2, 3, 5, 7, 8, 10, 11, \infty$. (Proveďte si geometrickou představu o limitě.)



Obr. 3.10: Geometrická představa o limitě

13. Nechť $f(x) = x^x$ pro $x > 0$.
- Pomocí kalkulačky doplňte tabulku

| | | | | | | | |
|-------|-----|-----|-----|-----|-----|-----|------|
| x | 1,0 | 0,5 | 0,4 | 0,3 | 0,2 | 0,1 | 0,01 |
| x^x | | | | | | | |

- b) Jaká je asi nejmenší hodnota funkce f na intervalu $(0, 1)$?
- c) Myslíte, že $\lim_{x \rightarrow 0^+} x^x$ existuje? Jestliže ano, čemu je asi rovna?
14. Může mít polynom a) svislou asymptotu, b) asymptotu se směrnicí? Jestliže ano, uveďte příklad, jestliže ne, odůvodněte.
15. Uveďte příklad funkce, která má následující asymptoty:
- a) $x = 1, \quad x = 2, \quad x = 3,$
 b) $x = -1, \quad x = 1, \quad y = 0,$
 c) $x = -1, \quad x = 1, \quad y = -2, \quad y = 2.$

Cvičení

1. Vypočítejte následující limity:

a) $\lim_{x \rightarrow 4} \frac{x^2 + 7x - 44}{x^2 - 6x + 8}$ b) $\lim_{x \rightarrow 1} \left(\frac{1}{x^2 - 1} - \frac{2}{x^4 - 1} \right)$ c) $\lim_{x \rightarrow 0} \frac{(1+3x)^4 - (1+4x)^3}{x^2}$
 d) $\lim_{x \rightarrow \infty} \frac{x^2 + 2x + 1}{5x}$ e) $\lim_{x \rightarrow \infty} \left(\frac{x^2 + x - 1}{2x^2 - x + 1} \right)^3$ f) $\lim_{x \rightarrow \infty} \frac{(4x-1)^{100}(3x+1)^{200}}{(6x+5)^{300}}$

2. Vypočítejte

a) $\lim_{x \rightarrow -2} \frac{\sqrt{6+x} - 2}{x+2}$ b) $\lim_{x \rightarrow \infty} (\sqrt{x-2} - \sqrt{x})$
 c) $\lim_{x \rightarrow \infty} (\sqrt[3]{1-x^3} + x)$ d) $\lim_{x \rightarrow \infty} \frac{\sqrt[4]{x^5} + \sqrt[5]{x^3} + \sqrt[6]{x^8}}{\sqrt[3]{x^4 + 2}}$

3. Vypočítejte

a) $\lim_{x \rightarrow 0} \frac{\operatorname{tg} 5x}{\operatorname{tg} 6x}$ b) $\lim_{x \rightarrow 0} \frac{\cos x - \cos^3 x}{x^2}$
 c) $\lim_{x \rightarrow 0} \frac{\arcsin x}{x}$ d) $\lim_{x \rightarrow 0} \frac{\sin x}{x^3}$

4. Vypočítejte limity zprava a zleva daných funkcí f v bodě a , jestliže

a) $f(x) = x e^{-1/x}, \quad a = 0$ b) $f(x) = \frac{1}{1+e^{1/x}}, \quad a = 0$
 c) $f(x) = \frac{2^{1/x} + 3}{3^{1/x} + 2}, \quad a = 0$ d) $f(x) = \frac{x(x+2)}{|x+2|}, \quad a = -2$
 e) $f(x) = \frac{x}{|\operatorname{tg} x|}, \quad a = 0$ f) $f(x) = \operatorname{arctg} \frac{1}{1+x}, \quad a = -1$

5. Vypočítejte limity posloupností

a) $\lim_{n \rightarrow \infty} \left(1 + \frac{1}{n+5} \right)^{n+6}$ b) $\lim_{n \rightarrow \infty} \left(\frac{n+2}{n} \right)^{\frac{3n}{2}}$ c) $\lim_{n \rightarrow \infty} \left(1 + \frac{1}{n} \right)^{\frac{1}{n}}$
 d) $\lim_{n \rightarrow \infty} (\sqrt{n+2} - \sqrt{n})$ e) $\lim_{n \rightarrow \infty} (\sqrt{n}(\sqrt{n+1} - \sqrt{n}))$ f) $\lim_{n \rightarrow \infty} \frac{a^n}{1+a^n}, \quad a > 0$

6. Najděte asymptoty následujících funkcí:

$$a) f(x) = 3x + \frac{3}{x-2}, \quad b) f(x) = \frac{1}{x+1} + \frac{1}{x} + \frac{1}{x-1},$$

$$c) f(x) = \frac{x^3+2}{x^2-4}, \quad d) f(x) = x + \frac{2x}{x^2-1},$$

$$e) f(x) = \sqrt[3]{x^3 + 4x^2}, \quad f) f(x) = \frac{x\sqrt{x^2+1}}{2x^2-1},$$

$$g) f(x) = 2x - \frac{2\cos x}{x}, \quad h) f(x) = \frac{x \sin x}{1+x^2},$$

$$i) f(x) = x e^{1/x^2}, \quad j) f(x) = x \ln\left(e + \frac{1}{x}\right),$$

$$k) f(x) = x \operatorname{arctg} x, \quad l) f(x) = \operatorname{arctg} \frac{1}{x}.$$

Výsledky

1. a) $\frac{15}{2}$, b) $\frac{1}{2}$, c) 6, d) ∞ , e) $\frac{1}{8}$, f) 6^{-100} ;

2. a) $\frac{1}{4}$, b) 0, c) 0, d) 1;

3. a) $\frac{5}{6}$, b) 1, c) 1, d) ∞ ;

4. a) 0; $-\infty$, b) 0; 1, c) 0; $\frac{3}{2}$, d) -2; 2, e) 1; -1, f) $\frac{\pi}{2}$; $-\frac{\pi}{2}$;

5. a) e, b) e^3 , c) 1, d) 0, e) $\frac{1}{2}$, f) 1 pro $a > 1$, $\frac{1}{2}$ pro $a = 1$, 0 pro $a < 1$.

6. a) $x = 2$, $y = 3x$, b) $x = -1$, $x = 0$, $x = 1$, $y = 0$, c) $x = -2$, $x = 2$, $y = x$, d) $x = -1$, $x = 1$, $y = x$, e) $y = x + \frac{4}{3}$, f) $x = 1/\sqrt{2}$, $x = -1/\sqrt{2}$, $y = \frac{1}{2}$, g) $x = 0$, $y = 2x$, h) $y = 0$, i) $x = 0$, $y = x$, j) $x = -\frac{1}{e}$, $y = x + \frac{1}{e}$, k) $y = \pm \frac{\pi}{2}x - 1$, l) $y = 0$;

3.3 Spojitost

Pomocí limity se zavádí pojem spojitosti funkce (zobrazení):

Definice 3.32. Funkce f se nazývá **spojitá v bodě a** , platí-li $\lim_{x \rightarrow a} f(x) = f(a)$; to znamená, že

$$a) \quad a \in D_f, \text{ tj. } f(a) \text{ je definováno,} \quad b) \quad \lim_{x \rightarrow a} f(x) \text{ existuje,} \quad c) \quad \lim_{x \rightarrow a} f(x) = f(a).$$

Tuto definici můžeme zapsat ve tvaru

$$\forall \varepsilon > 0 \exists \delta > 0 \forall x : |x - a| < \delta \Rightarrow |f(x) - f(a)| < \varepsilon.$$

Analogicky můžeme definovat spojitost zleva a zprava:

Definice 3.33. Funkce f se nazývá **spojitá zprava** (resp. **zleva**) **v bodě a** , jestliže

$$\lim_{x \rightarrow a^+} f(x) = f(a), \quad \left(\text{resp. } \lim_{x \rightarrow a^-} f(x) = f(a) \right).$$

Pro snazší zápis budeme používat označení: $f(a^+) = \lim_{x \rightarrow a^+} f(x)$, $f(a^-) = \lim_{x \rightarrow a^-} f(x)$.

Intuitivní představa o spojitosti je taková, že graf spojitě funkce „se dá nakreslit nepřerušovanou čarou“; naše definice ale hovoří o spojitosti v bodě. V následujícím příkladu si ukážeme, že může existovat funkce spojitá pouze v jednom bodě, i když její graf přesně nakreslit nelze:

Příklad 3.34. Nechť funkce f je definovaná předpisem $f(x) = x \cdot \chi(x) = \begin{cases} x & x \in (\mathbb{Q}) \\ 0 & x \notin (\mathbb{Q}) \end{cases}$

V kapitole o limitě jsme v příkladu 3.23 ukázali, že platí $\lim_{x \rightarrow 0} x \cdot \chi(x) = 0$, a protože $f(x) = 0$, je funkce f pro $x = 0$ spojitá.

Příklad 3.35. Vyšetříme, kde je spojitá funkce $g \circ f$, jsou-li funkce f a g zadány předpisy z příkladu 1.34

$$f(x) = \begin{cases} x & 0 < x \leq 1 \\ 2 - x & 1 < x < 2 \end{cases}, \quad g(x) = \begin{cases} x & x \in \mathbb{Q} \\ 2 - x & x \notin \mathbb{Q} \end{cases}.$$

$$f(g(x)) = \begin{cases} f(x) & f(x) \in \mathbb{Q} \Leftrightarrow x \in \mathbb{Q} = \begin{cases} x & 0 < x \leq 1 \\ 2 - x & 1 < x < 2 \end{cases} \wedge x \in \mathbb{Q} \\ 2 - f(x) & f(x) \notin \mathbb{Q} \Leftrightarrow x \notin \mathbb{Q} = \begin{cases} 2 - x & 0 < x \leq 1 \\ x & 1 < x < 2 \end{cases} \wedge x \notin \mathbb{Q} \end{cases}$$

Pro $x \neq 1$ je funkce zřejmě nespojitá; vyšetříme její chování v bodě $x = 1$:

$$\left. \begin{array}{l} \lim_{x \rightarrow 1^-} g(f(x))|_{x \in \mathbb{Q}} = \lim_{x \rightarrow 1^-} x = 1 \\ \lim_{x \rightarrow 1^+} g(f(x))|_{x \in \mathbb{Q}} = \lim_{x \rightarrow 1^+} (2 - x) = 1 \\ \lim_{x \rightarrow 1^-} g(f(x))|_{x \notin \mathbb{Q}} = \lim_{x \rightarrow 1^-} (2 - x) = 1 \\ \lim_{x \rightarrow 1^+} g(f(x))|_{x \notin \mathbb{Q}} = \lim_{x \rightarrow 1^+} x = 1 \end{array} \right\} \lim_{x \rightarrow 1} g(f(x)) = 1 \quad \wedge \quad g(f(1)) = 1$$

$$\Rightarrow \underline{\underline{f \circ g \text{ je spojitá pro } x = 1.}}$$

Klasifikace nespojitostí

Definice 3.36.

- Existují-li pro funkci f v (konečném) bodě a (konečná) čísla $f(a^-)$, $f(a^+)$ a má-li funkce v a přesto bod nespojitosti, říkáme, že tato funkce má v bodě a bod nespojitosti **prvního druhu**.

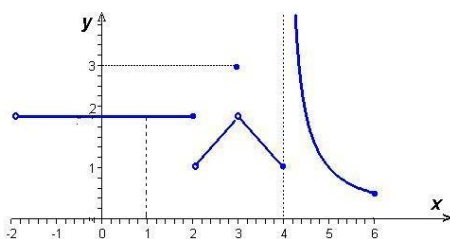
Číslo $\delta = \delta(a) = f(a^+) - f(a^-)$ se nazývá **skok nespojitosti**.

Je-li $\delta(a) = 0$, říkáme, že funkce f má v tomto bodě **odstranitelnou nespojitost**.

Je-li $\delta(a) \neq 0$, nazývá se bod $x = a$ **bodem skokové nespojitosti**.

- Je-li funkce f definována v okolí bodu a (popřípadě s výjimkou bodu a samotného) a má-li v bodě a bod nespojitosti, který není bodem nespojitosti prvního druhu, říkáme, že funkce má v a **bod nespojitosti druhého druhu**.
Jinak řečeno: Funkce f má v bodě a nespojitost druhého druhu, jestliže v bodě a některá jednostranná limita neexistuje nebo je nevlastní.

Příklad 3.37. V obr.3.11 je graf jisté funkce f definované na intervalu $(-2, 6)$. Vyšetřeme její spojitost v bodech $-2, 1, 2, 3, 4, 6$.



$$f(x) = \begin{cases} 2 & \text{pro } x \in (-2, 2) \\ x - 1 & x \in (2, 3) \\ 3 & x = 3 \\ 5 - x & x \in (3, 4) \\ \frac{1}{x-4} & x \in (4, 6) \end{cases}$$

Obr. 3.11: Funkce f z příkladu 3.37

Řešení.

- $x = -2$: Bod -2 nepatří do definičního oboru funkce f ; nemůžeme mluvit ani o spojitosti ani o nespojitosti funkce v tomto bodě.
- $x = 1$: V bodě 1 je zřejmě funkce f spojitá.
- $x = 2$: $\lim_{x \rightarrow 2^-} f(x) = 2 \neq \lim_{x \rightarrow 2^+} f(x) = 1$, funkce zde má skokovou nespojitost se skokem $\delta = 1 - 2 = -1$.
- $x = 3$: $\lim_{x \rightarrow 3} f(x) = 2 \neq f(3) = 3$, funkce zde má odstranitelnou nespojitost.
- $x = 4$: $\lim_{x \rightarrow 4^-} f(x) = 1 = f(4)$, $\lim_{x \rightarrow 4^+} = \infty$, funkce zde má nespojitost druhého druhu, přičemž je zde spojitá zleva.
- $x = 6$: $\lim_{x \rightarrow 6^-} f(x) = \frac{1}{2} = f(6)$, $x = 6$ je pravý koncový bod definičního intervalu – funkce je zde spojitá (zleva).

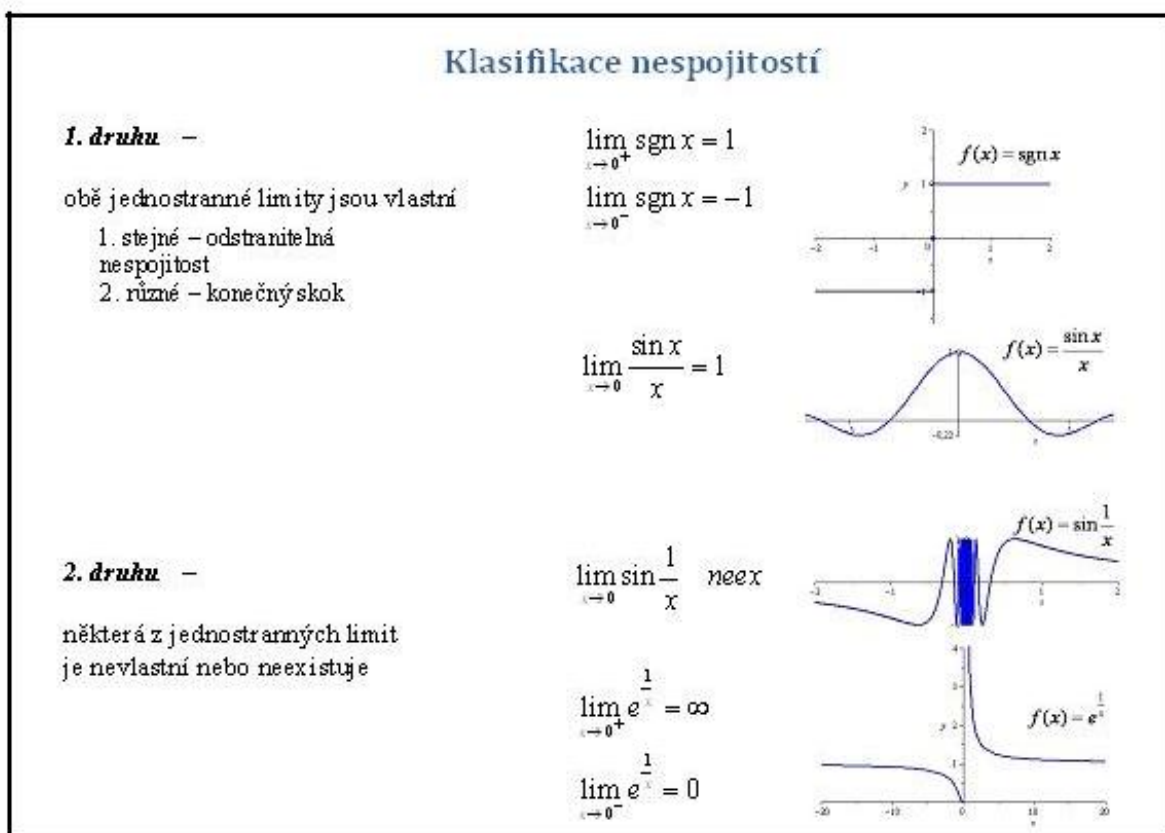
□

Příklad 3.38.

- Funkce $y = \sin \frac{1}{x}$ má v bodě $x = 0$ nespojitost druhého druhu, protože $\lim_{x \rightarrow 0} \sin \frac{1}{x}$ neexistuje (ani jednostranné limity), tedy nejsou rovny žádnému konečnému číslu.
- Funkce $f(x) = \frac{\sin x}{x}$ má v bodě $x = 0$ odstranitelnou nespojitost.

Je důležité umět rozlišit, o jaký druh nespojitosti se jedná – v aplikacích v odborných předmětech se bude studovat tzv. harmonická analýza – vyjádření periodických funkcí pomocí Fourierových řad a studium spektra signálu pomocí integrálních transformací. Tento aparát se dá použít pouze na funkce s konečným počtem nespojitostí prvního druhu; funkce s nespojitostmi druhého druhu se těmito prostředky vyšetřovat nedají.

Pro spojitě funkce platí následující věty:



Obr. 3.12:

Věta 3.39.

- Funkce f je spojitá v bodě a , právě když je zde spojitá zprava i zleva.
- Je-li funkce f spojitá v bodě a , pak existuje okolí $\mathcal{U}(a)$, v němž je f ohraničená.
- Jsou-li funkce f a g spojitě v bodě a , pak jejich součet (nebo rozdíl) $f \pm g$, součin $f \cdot g$ a podíl $\frac{f}{g}$ (v případě, že $g(a) \neq 0$) jsou také spojitě v bodě a .
- Je-li funkce g spojitá v bodě a a funkce f v bodě $b = g(a)$, pak složená funkce $F = f \circ g$, $F(x) = f[g(x)]$, je spojitá v bodě a .

První tři tvrzení vyplývají přímo z analogických tvrzení pro limity; poslední plyne z věty o limitě složené funkce pouze v případě, že vnitřní složka není na nějakém okolí bodu a konstantní; pro tento výjimečný případ se důkaz musí provést jinak - provádět ho nebudeme.

V předchozí kapitole (o limitě) jsme ukázali, že limity známých funkcí, jako je polynom, racionální lomená funkce, obecné mocniny, exponenciální a goniometrické funkce se počítají dosazením - odtud vyplývá:

a) Polynom

$$P(x) = a_n x^n + a_{n-1} x^{n-1} + \cdots + a_1 x + a_0$$

(kde $a_i \in \mathbb{R}, i = 0, \dots, n$) je spojitá funkce pro libovolné $x \in \mathbb{R}$, jak jsme ukázali v příkladu 3.18.

b) Racionální lomená funkce

$$f(x) = \frac{P(x)}{Q(x)} = \frac{a_n x^n + a_{n-1} x^{n-1} + \cdots + a_1 x + a_0}{b_m x^m + b_{m-1} x^{m-1} + \cdots + b_1 x + b_0}$$

(kde $a_i \in \mathbb{R}, i = 0, \dots, n, b_j \in \mathbb{R}, j = 0, \dots, m$) je spojitá pro všechny hodnoty $x \in \mathbb{R}$, pro něž $Q(x) \neq 0$.

c) Tzv. základní elementární funkce, k nimž patří $\sin x, \cos x, a^x$, kde $a > 0$, jsou spojité na \mathbb{R} .

d) Ostatní elementární funkce, které nemusí být všude definovány a tedy ani spojité na \mathbb{R} , mají tu vlastnost, že jsou spojité v každém bodě svého přirozeného definičního oboru.

Funkce spojité na intervalu

Definice 3.40.

- Řekneme, že funkce f je **spojitá na intervalu** (a, b) , jestliže je spojitá v každém jeho bodě $c \in (a, b)$.
- Řekneme, že funkce f je **spojitá na uzavřeném intervalu** $\langle a, b \rangle$, jestliže je spojitá na otevřeném intervalu (a, b) a navíc je v bodě a spojitá zprava a v bodě b zleva. Zkráceně zapisujeme skutečnost, že funkce f je spojitá na $\langle a, b \rangle$ takto: $f \in C_{\langle a, b \rangle}$.

Jako cvičení napište analogické definice spojitosti funkce na intervalech (a, b) a $\langle a, b \rangle$.

Názorně – funkce je na intervalu spojitá, jestliže na tomto intervalu můžeme její graf nakreslit nepřerušovanou čarou.

Věta 3.41. Vlastnosti funkcí spojitých na uzavřeném intervalu

- Je-li funkce f spojitá na uzavřeném intervalu $\langle a, b \rangle$, je na něm ohraničená.
- **Věta Weierstrassova**
Funkce $f \in C_{\langle a, b \rangle}$ nabývá v nějakých bodech intervalu $\langle a, b \rangle$ svého maxima a minima, tj. existují body α a β patřící do $\langle a, b \rangle$ takové, že

$$\min_{x \in \langle a, b \rangle} f(x) = f(\alpha), \quad \max_{x \in \langle a, b \rangle} f(x) = f(\beta).$$

Tedy $f(\alpha) \leq f(x) \leq f(\beta)$ pro všechna $x \in \langle a, b \rangle$.

• **Věta mezihodnotová**

Funkce $f \in C_{\langle a,b \rangle}$ nabývá na tomto intervalu všech hodnot mezi svým maximem a minimem na tomto intervalu; tedy spojitým obrazem intervalu je interval.

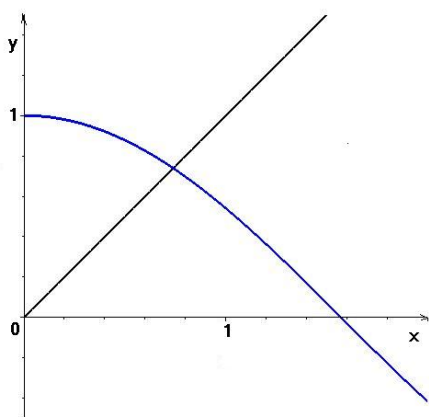
Poznámka: Např. funkce $y = x$ je spojitá na otevřeném intervalu $(0, 1)$ a je na něm omezená; avšak na tomto intervalu nedosahuje svého suprema $\sup_{x \in (0,1)} x = 1$, tj. neexistuje $x_0 \in (0, 1)$ takové, že by funkční hodnota v tomto bodě byla rovna 1; funkce je rovna 1 pro $x = 1$. Vidíme, že požadavek spojitosti funkce na *uzavřeném* intervalu $\langle a, b \rangle$ (zahrnujícím oba krajní body a a b) je zásadní.

Zřejmě $\sup \arctg x = \frac{\pi}{2}$. Neexistuje však bod x , v němž by funkce $\arctg x$ nabývala hodnoty $\frac{\pi}{2}$; tedy pro $x \geq 0$ nedosahuje svého maxima. Podmínky výše uvedené věty jsou i v tomto případě porušeny, protože definiční obor spojitě funkce $\arctg x$ není omezený.

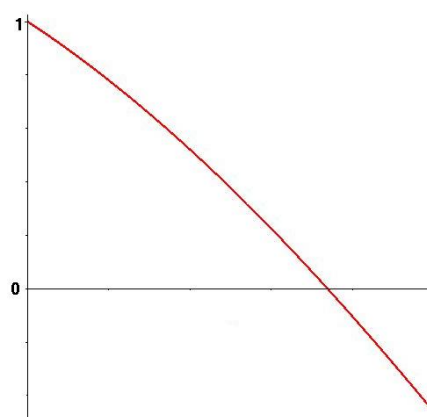
Důsledky:

- Je-li $f \in C_{\langle a,b \rangle}$ a $f(a) \cdot f(b) < 0$, pak v otevřeném intervalu (a, b) existuje alespoň jeden bod c , pro nějž $f(c) = 0$.
- Každá polynomiální rovnice $P_n(x) = 0$ lichého stupně má nejméně jedno řešení.

Příklad 3.42. Rovnice $\cos x = x$ má kořen ležící na intervalu $(0, \pi)$, protože $f(0) > 0$, $f(\pi) < 0$ kde $f(x) = \cos x - x$ a $f(x)$ je spojitá funkce. (Viz obr. 3.13 a 3.14)



Obr. 3.13: $f(x) = \cos x$, $f(x) = x$



Obr. 3.14: $f(x) = \cos x - x$

Shrnutí

V této kapitole jsme vyšetřovali pojem spojitosti. Řekneme, že funkce f je

- spojitá v bodě a : je-li $\lim_{x \rightarrow a} f(x) = f(a)$,
- spojitá zleva (zprava) v bodě a : jsou-li příslušné jednostranné limity rovny funkční hodnotě v bodě a ,
- spojitá na intervalu: je-li spojitá v každém bodě intervalu; jedná-li se o uzavřený nebo polouzavřený interval, v koncovém bodě je spojitá zleva nebo zprava („zevnitř“ intervalu).

Není-li funkce f v bodě a spojitá, má zde

- nespojitost 1. druhu: existuje-li $\lim_{x \rightarrow a^+} f(x) = f(a^+)$ i $\lim_{x \rightarrow a^-} f(x) = f(a^-)$ a jsou vlastní; přitom v případě, že se tyto jednostranné limity sobě rovnají, hovoříme o odstranitelné nespojitosti; rozdíl $f(a^+) - f(a^-)$ se nazývá skok funkce f v bodě a ,
- nespojitost 2. druhu: jestliže alespoň jedna jednostranná limita funkce f v bodě a neexistuje nebo je nevlastní.

Vlastnosti spojitých funkcí:

- Funkce vzniklé pomocí aritmetických operací ze spojitých funkcí a
- složené funkce vzniklé kompozicí spojitých funkcí

jsou spojité ve všech bodech, ve kterých jsou definované. Odtud plyne, že elementární funkce jsou spojité všude, kde jsou definované.

Je-li funkce f spojitá na uzavřeném intervalu $\langle a, b \rangle$, potom

- je zde ohraničená,
- nabývá zde svého maxima a minima,
- nabývá všech hodnot mezi svým maximem a minimem.

Otázky a úkoly

1. Kdy řekneme, že je funkce f spojitá v bodě a ? Kdy je spojitá na intervalu $\langle a, b \rangle$?
2. Uvedli jsme celou řadu funkcí definovaných na \mathbb{R} , které byly nespojité pouze v jed-

nom bodě (např. $f(x) = \operatorname{sgn} x$ v 0). Může se stát, aby funkce definovaná na \mathbb{R} byla spojitá pouze v jednom bodě? Uveďte příklad takové funkce.

3. Vyšetřete spojitost funkce z obr. 3.10, klasifikujte nespojitosti.
4. Nechť funkce f je v bodě a spojitá a funkce g nespojitá. Zjistěte, zda jsou v bodě a spojitě funkce
 - a) $f + g$
 - b) fg
 - c) $f \circ g$
 - d) $g \circ f$.
 Uveďte příklady.
5. Nechť funkce f i g jsou v bodě a nespojitě. Zjistěte, zda mohou být v bodě a spojitě funkce
 - a) $f + g$
 - b) fg
 - c) $f \circ g$
 - d) $g \circ f$.
 Uveďte příklady.
6. Jsou dány funkce f a g předpisy

$$f(x) = \begin{cases} x & 0 < x \leq 1 \\ 2 - x & 1 < x < 2 \end{cases} \quad g(x) = \begin{cases} x & x \in \mathbb{Q} \\ 2 - x & x \notin \mathbb{Q} \end{cases}$$

Zjistěte, kde jsou spojitě složené funkce $f \circ g$ a $g \circ f$.

7. Nechť f je funkce spojitá na $D_f = \mathbb{R}$. Existuje nutně číslo x tak, že $f(x) = x$?
8. Nechť f je spojitá funkce s $D_f = \langle 0, 1 \rangle$, pro kterou platí $f(0) = 1$ a $f(1) = 0$. Existuje nutně číslo x tak, že $f(x) = x$?

Cvičení

1. Zjistěte, kde jsou spojitě následující funkce; body nespojitosti klasifikujte:

$$\text{a) } f(x) = \begin{cases} \frac{x}{x - |x|} & x < 0 \\ x & x \geq 0 \end{cases} \quad \text{b) } f(x) = \begin{cases} x \sin \frac{1}{x} & x \neq 0 \\ 0 & x = 0 \end{cases}$$

$$\text{c) } f(x) = \operatorname{sgn}(\sin x) \quad \text{d) } f(x) = \frac{x}{\ln x}$$

$$\text{e) } f(x) = \begin{cases} 3 & x < 0 \\ 2 - x^2 & x \geq 0 \end{cases} \quad \text{f) } f(x) = \frac{1 - 2e^{x^2}}{1 - e^{x^2}}$$

2. Najděte číslo a tak, aby funkce f byla spojitá:

$$\text{a) } f(x) = \begin{cases} ax & x < 1 \\ 2 - x/a & x \geq 1 \end{cases} \quad \text{b) } f(x) = \begin{cases} e^{ax} & x < 0 \\ a - x & x \geq 0 \end{cases}$$

$$\text{c) } f(x) = \begin{cases} \frac{\sin x}{x} & x \neq 0 \\ a & x = 0 \end{cases}$$

3. Ukažte, že daná rovnice má na intervalu J řešení:

$$\text{a) } x^3 - x - 1 = 0, \quad J = \langle 1, 2 \rangle$$

$$\text{b) } x^4 - 4x^3 + 2x^2 + 5x - 3 = 0, \quad J = \langle -1, 1; -1 \rangle$$

$$\text{c) } \ln x - 3 + x = 0, \quad J = \langle 1, e \rangle$$

Výsledky

1. a) $\mathbb{R} \setminus \{0\}$, v 0 skok $\frac{1}{2}$, b) \mathbb{R} , c) $\mathbb{R} \setminus \{k\pi\}$, skok ± 2 , d) $(0, 1) \cup (1, \infty)$, v 1 nespojitost 2. druhu, e) $\mathbb{R} \setminus \{0\}$, v 0 skok -1 , f) $\mathbb{R} \setminus \{0\}$, v 0 nespojitost 2. druhu;
2. a), b), c) $a = 1$.

3.4 Derivace

Motivace

a) Směrnice tečny:

Nechť $\Gamma = \{(x, y) \mid y = f(x)\}$ je graf spojitě funkce $y = f(x)$. Zvolme na Γ bod $A = [x_0, f(x_0)]$ a jiný bod $X = [x, f(x)]$. Sečna S procházející body A a X svírá s kladnou poloosou x úhel β . Pro tangens úhlu β platí

$$\operatorname{tg} \beta = \frac{\Delta y}{\Delta x} = \frac{f(x) - f(x_0)}{x - x_0}.$$

Nechť $x \rightarrow x_0$; pak pro spojitou funkci f se hodnota Δy také bude blížit nule a bod X se bude pohybovat podél Γ a bude se přibližovat k bodu A . Jestliže v tomto limitním procesu pro poměr $\frac{\Delta y}{\Delta x}$ platí

$$\frac{\Delta y}{\Delta x} \rightarrow k \quad (x \rightarrow x_0),$$

pak úhel β se bude také blížit k jistému úhlu α , $\operatorname{tg} \alpha = k$. Spolu se změnou β bude sečna S rotovat kolem A a bude se v limitě přibližovat k přímce t procházející bodem A a svírající úhel α s kladnou poloosou x . To znamená, že t je tečnou ke grafu Γ v bodě A a

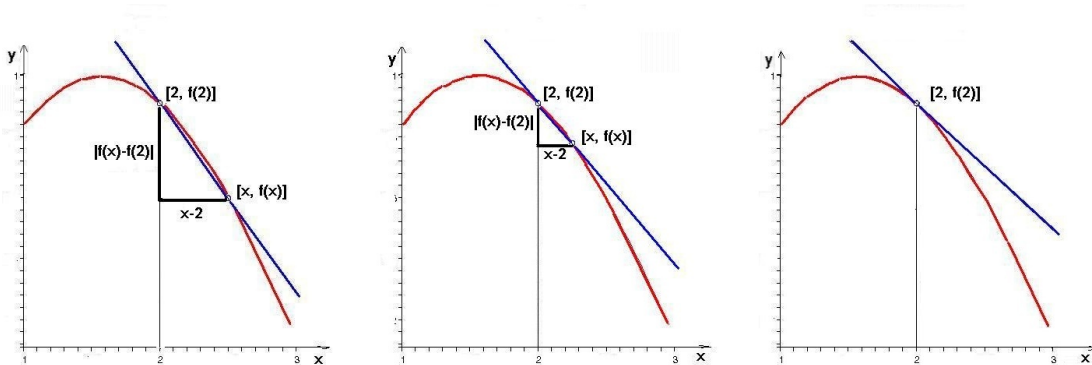
$$\lim_{x \rightarrow x_0} \frac{\Delta y}{\Delta x} = \lim_{x \rightarrow x_0} \operatorname{tg} \beta = \operatorname{tg} \alpha = k.$$

Jestliže se tedy poměr $\frac{\Delta y}{\Delta x}$ blíží konečné limitě pro $x \rightarrow x_0$, křivka Γ má v bodě A tečnu, jejíž směrnice je rovna této limitě, a má tedy rovnici:

$$y - y_0 = k(x - x_0), \quad \text{kde } k = \lim_{x \rightarrow x_0} \frac{f(x) - f(x_0)}{x - x_0}.$$

b) Okamžitá rychlost:

Nechť se bod pohybuje po přímce a nechť funkce $s = f(t)$ vyjadřuje závislost jeho vzdálenosti s od počátečního bodu O (bráno s odpovídajícím znaménkem) v čase



Obr. 3.15: Geometrický význam derivace

t . V okamžiku t je bod ve vzdálenosti $s = f(t)$ od O . V jiném časovém okamžiku $t + \Delta t$ je ve vzdálenosti $s + \Delta s = f(t + \Delta t)$ od O . Jeho průměrná rychlost během časového intervalu $(t, t + \Delta t)$ je vyjádřena jako

$$v_{pr} = \frac{\Delta s}{\Delta t} = \frac{f(t + \Delta t) - f(t)}{\Delta t}.$$

Okamžitá („skutečná“) rychlost v bodu v okamžiku t může přirozeně být definována jako limita, k níž se v_{pr} blíží, když $\Delta t \rightarrow 0$, tj.

$$v(t) = v_{ok}(t) = \lim_{\Delta t \rightarrow 0} \frac{\Delta s}{\Delta t}.$$

Derivace v bodě

Definice 3.43. Nechť pro funkci f definovanou na nějakém okolí $\mathcal{U}(x_0)$ existuje vlastní limita

$$f'(x_0) = \lim_{x \rightarrow x_0} \frac{f(x) - f(x_0)}{x - x_0}.$$

Potom tuto limitu nazýváme **derivací** funkce f v bodě x_0 .

Označíme-li $h = x - x_0$, můžeme psát také

$$f'(x_0) = \lim_{h \rightarrow 0} \frac{f(x_0 + h) - f(x_0)}{h}.$$

Je-li funkce f definovaná na $\mathcal{U}(x_0) \cap \langle x_0, \infty \rangle$ resp. na $\mathcal{U}(x_0) \cap (-\infty, x_0)$ a existují-li jednostranné limity

$$f'_+(x_0) = \lim_{x \rightarrow x_0^+} \frac{f(x) - f(x_0)}{x - x_0} \quad \text{resp.} \quad f'_-(x_0) = \lim_{x \rightarrow x_0^-} \frac{f(x) - f(x_0)}{x - x_0},$$

potom $f'_+(x_0)$ nazýváme **derivací zprava** a $f'_-(x_0)$ **derivací zleva** funkce f v bodě x_0 .

Má-li funkce f v bodě x_0 derivaci, řekneme, že je zde **diferencovatelná**.

Věta 3.44. Je-li funkce f v bodě x_0 diferencovatelná, je v tomto bodě spojitá.

Důkaz naleznete v části Pro zájemce na konci kapitoly.

Z věty o jednostranných limitách 3.12 plyne

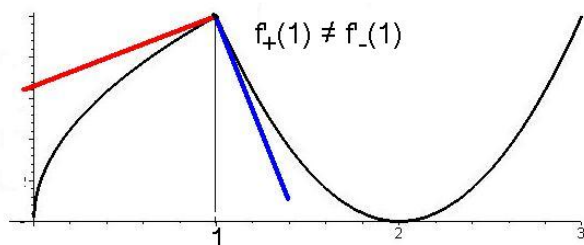
Věta 3.45. Funkce f je v bodě x_0 diferencovatelná, právě když existují jednostranné derivace $f'_+(x_0)$, $f'_-(x_0)$ a jsou si rovny. Potom platí

$$f'_+(x_0) = f'_-(x_0) = f'(x_0).$$

Definice 3.46. 1. Přímka o rovnici $y - f(x_0) = f'(x_0)(x - x_0)$ je **tečna** ke grafu funkce f v bodě $[x_0, f(x_0)]$.

2. Je-li $f'(x_0) \neq 0$, je přímka o rovnici $y - f(x_0) = -\frac{1}{f'(x_0)}(x - x_0)$ **normála** ke grafu funkce f v bodě $[x_0, f(x_0)]$.

3. Polopřímky $y - f(x_0) = f'_+(x_0)(x - x_0)$, pro $x > x_0$
resp. $y - f(x_0) = f'_-(x_0)(x - x_0)$, pro $x < x_0$
se nazývají **pravá** resp. **levá polotečna** ke grafu funkce f v bodě $[x_0, f(x_0)]$.



Obr. 3.16: Polotečny ke grafu funkce

Jestliže v nějakém bodě grafu funkce neexistuje derivace, ale existuje některá jednostranná derivace, potom polopřímku procházející příslušným bodem na grafu funkce a mající směrnici rovnou této jednostranné derivaci je polotečnou (viz sousední obrázek).

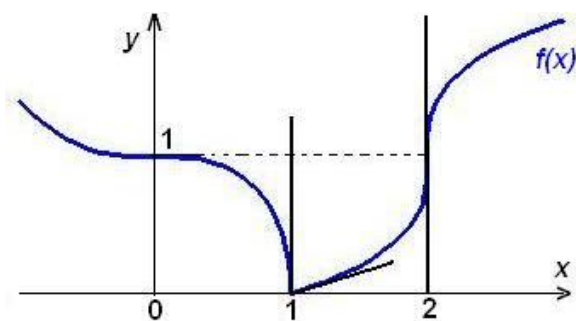
Může se stát, že v nějakém bodě x_0 pro funkci f platí $\lim_{x \rightarrow x_0} \frac{f(x) - f(x_0)}{x - x_0} = \infty$ nebo $-\infty$, nebo je nevlastní pouze jedna z jednostranných limit tohoto podílu. I v těchto případech dostáváme jistou informaci o chování grafu funkce f v okolí bodu $[x_0, f(x_0)]$:

Definice 3.47. a) Je-li $\lim_{x \rightarrow x_0} \frac{f(x) - f(x_0)}{x - x_0} = \infty$ ($-\infty$),

je přímka o rovnici $x = x_0$ **svislá tečna** ke grafu funkce f v bodě $[x_0, f(x_0)]$.

b) Je-li $\lim_{x \rightarrow x_0^+} \frac{f(x) - f(x_0)}{x - x_0} = \infty$ ($-\infty$) resp. $\lim_{x \rightarrow x_0^-} \frac{f(x) - f(x_0)}{x - x_0} = \infty$ ($-\infty$),

je přímka o rovnici $x = x_0$ **pravá** resp. **levá svislá polotečna** ke grafu funkce f v bodě $[x_0, f(x_0)]$.



Obr. 3.17: Svislá tečna a polotečna

Graf funkce f v sousedním obrázku má svislou tečnu $x = 2$ v bodě $[2, 1]$ a levou svislou polotečnu $x = 1$ v bodě $[1, 1]$.

| Rovnice tečny a normály ke grafu funkce f v bodě $[x_0, f(x_0)]$ | |
|--|--|
| 1. existuje-li vlastní nenulová derivace $f'(x_0)$: | |
| tečna: | $y - f(x_0) = f'(x_0)(x - x_0)$ |
| normála: | $y - f(x_0) = -\frac{1}{f'(x_0)}(x - x_0)$ |
| 2. je-li $f'(x_0) = 0$ | 3. je-li $f'(x_0)$ nevlastní: |
| vodorovná tečna: $y = f(x_0)$ | svislá tečna: $x = x_0$ |
| svislá normála: $x = x_0$ | vodorovná normála: $y = f(x_0)$ |

Obr. 3.18:

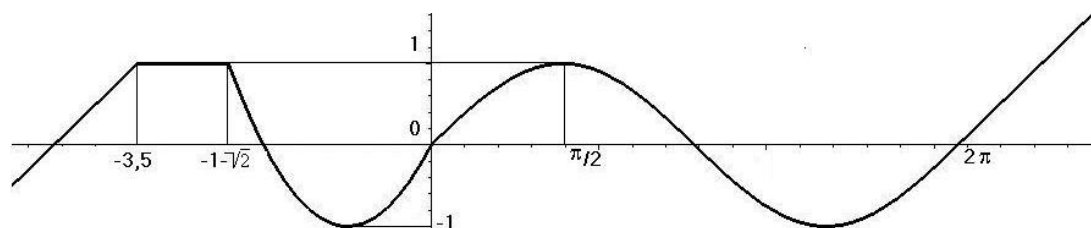
Derivace na intervalu

Definice 3.48. Předpokládejme, že funkce f je definovaná na otevřeném intervalu (a, b) a má v každém bodě $x \in (a, b)$ derivaci $f'(x)$. Potom je na (a, b) definovaná funkce $f' : x \mapsto f'(x)$, kterou nazýváme **derivací** funkce f .

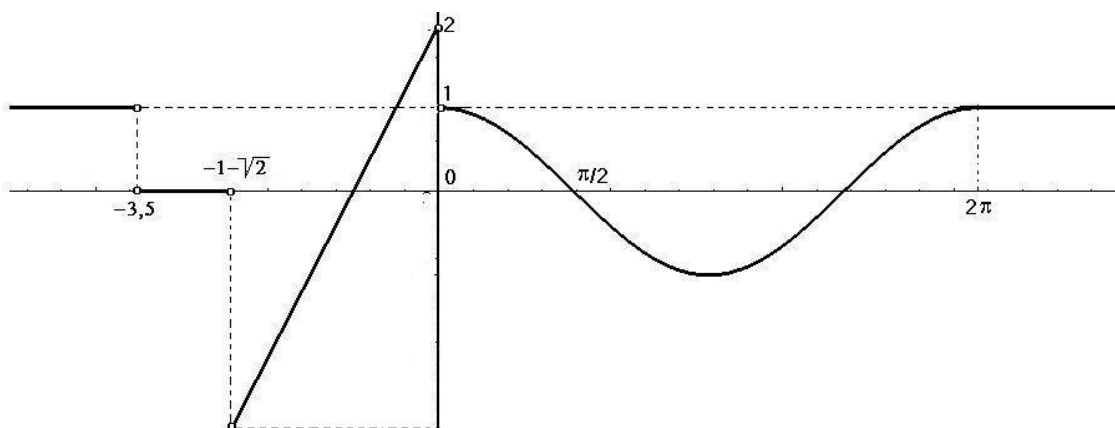
Poznámky k definici

1. Derivace funkce f se též někdy místo $f'(x)$ označuje symbolem $\frac{df(x)}{dx}$ nebo $\frac{dy}{dx}$ (tzv. Leibnizův zápis derivace).
2. Funkci f , která má derivaci na intervalu (a, b) nazýváme diferencovatelnou na (a, b) .
3. Definici je možno použít i pro uzavřený interval $\langle a, b \rangle$, potom však kromě existence derivace v každém bodě intervalu (a, b) požadujeme existenci derivace zprava v bodě a a existenci derivace zleva v bodě b .

Víme, že geometricky znamená derivace směrnici tečny ke grafu funkce; na obrázku 3.19 je nakreslen graf spojité funkce f zadané po částech a na obrázku 3.20 je graf její derivace f' .



Obr. 3.19: Graf funkce f



Obr. 3.20: Graf derivace f'

V animaci 3.21 je graf funkce spolu s pohybuující se tečnou, jejíž směrnice je hodnota derivace v daném bodě.

Obr. 3.21: Graf funkce a její derivace jakožto směrnice tečny (animace)

Máme-li v některé konkrétní situaci (např. ve fyzice) počítat derivaci nějaké zadané funkce, potřebujeme znát derivace základních elementárních funkcí (tedy jakýsi **slovník**) a početní pravidla pro derivaci (tedy **gramatiku**).

Toto vše odvodíme v příkladech a větách tohoto odstavce; získané poučky pak v závěru shrneme v tabulce.

Příklad 3.49. Derivace některých elementárních funkcí

$$\begin{array}{ll} a) & (c)' = 0 \quad (c = \textit{konst.}) \\ b) & (x^n)' = nx^{n-1} \quad n \in \mathbb{N} \\ c) & (\sin x)' = \cos x \\ d) & (\cos x)' = -\sin x \\ e) & (e^x)' = e^x \end{array}$$

Řešení. a) $(c)' = \lim_{h \rightarrow 0} \frac{f(x+h) - f(x)}{h} = \lim_{h \rightarrow 0} \frac{c-c}{h} = 0$

$$\begin{aligned} b) \quad (x^n)' &= \lim_{h \rightarrow 0} \frac{(x+h)^n - x^n}{h} = \\ &= \lim_{h \rightarrow 0} \frac{1}{h} \left[x^n + \binom{n}{1} x^{n-1} h + \binom{n}{2} x^{n-2} h^2 + \dots + \binom{n}{n-1} x \cdot h^{n-1} + h^n - x^n \right] = \\ &= \lim_{h \rightarrow 0} \frac{1}{h} \left[nx^{n-1} h + \binom{n}{2} x^{n-2} h^2 + \dots + nxh^{n-1} + h^n \right] = \\ &= \lim_{h \rightarrow 0} \left[nx^{n-1} + \binom{n}{2} x^{n-2} h + \dots + nxh^{n-1} + h^{n-1} \right] = nx^{n-1} \end{aligned}$$

$$\begin{aligned} c) \quad (\sin x)' &= \lim_{h \rightarrow 0} \frac{1}{h} [\sin(x+h) - \sin x] = \lim_{h \rightarrow 0} \frac{1}{h} [2 \cos(x + \frac{h}{2}) \sin \frac{h}{2}] = \lim_{h \rightarrow 0} \cos(x + \\ &+ \frac{h}{2}) \cdot \lim_{h \rightarrow 0} \frac{\sin \frac{h}{2}}{\frac{h}{2}} = \\ &= \cos x \end{aligned}$$

d) podobně jako předchozí případ

$$e) (e^x)' = \lim_{h \rightarrow 0} \frac{1}{h} [e^{x+h} - e^x] = e^x \cdot \lim_{h \rightarrow 0} \frac{1}{h} [e^h - 1];$$

poslední limitu určíme pomocí věty o limitě složené funkce; volíme-li vnitřní složku (substituci) $u = e^h - 1$, platí $h \rightarrow 0 \Rightarrow u \rightarrow 0$, a tedy

$$\lim_{h \rightarrow 0} \frac{1}{h} [e^h - 1] = \lim_{u \rightarrow 0} \frac{u}{\ln(1+u)} = \lim_{u \rightarrow 0} \frac{1}{\ln(1+u)^{\frac{1}{u}}} = \frac{1}{\ln e} = 1$$

□

Základní pravidla pro derivování

Věta 3.50. Necht funkce f, g mají derivace $f'(x), g'(x)$ v bodě x . Potom mají v tomto bodě derivaci také funkce $f \pm g$, $f \cdot g$, $c \cdot f$, kde $c = \text{konst.}$, a je-li $g(x) \neq 0$ také $\frac{f}{g}$, přičemž platí:

- $(f(x) \pm g(x))' = f'(x) \pm g'(x)$,
- $(c \cdot f(x))' = c \cdot f'(x)$,
- $(f(x) \cdot g(x))' = f'(x) \cdot g(x) + f(x) \cdot g'(x)$,
- $\left(\frac{f(x)}{g(x)}\right)' = \frac{1}{g^2(x)} (f'(x) \cdot g(x) - f(x) \cdot g'(x))$.

Důkaz najdete v části Pro zájemce na konci kapitoly.

Příklad 3.51.

$$a) (\sinh x)' = \cosh x \quad b) (\operatorname{tg} x)' = \frac{1}{\cos^2 x} \quad c) (x^n)' = n x^{n-1}, \quad n \in \mathbb{Z}$$

Řešení.

$$(\sinh x)' = \left(\frac{e^x - e^{-x}}{2}\right)' = \frac{1}{2} \left[(e^x)' - \left(\frac{1}{e^x}\right)'\right] = \frac{1}{2} \left[e^x - \frac{-e^x}{e^{2x}}\right] = \frac{1}{2} (e^x + e^{-x}) = \cosh x$$

$$b) (\operatorname{tg} x)' = \left(\frac{\sin x}{\cos x}\right)' = \frac{\cos^2 x + \sin^2 x}{\cos^2 x} = \frac{1}{\cos^2 x}$$

c) Pro $n \in \mathbb{N}$ je formule odvozena v 3.49, stejně jako pro $n = 0$ (derivace konstanty).

Vyšetřujeme tedy n celé záporné a označme $-n = m \in \mathbb{N}$. Potom

$$(x^n)' = \left(\frac{1}{x^m}\right)' = \frac{-m x^{m-1}}{x^{2m}} = -m x^{-m-1} = n x^{n-1}$$

□

Derivace inverzní funkce

Věta 3.52. Necht

$$f: y = f(x), \quad x \in (a, b) \quad g: x = g(y), \quad y \in (\alpha, \beta)$$

jsou navzájem inverzní funkce, přičemž v bodě $y_0 \in (\alpha, \beta)$, $y_0 = f(x_0)$ existuje derivace $g'(y_0) \neq 0$.

Potom v bodě $x_0 = g(y_0)$ existuje také $f'(x_0)$ a platí

$$f'(x_0) = \frac{1}{g'(y_0)} = \frac{1}{g'[f(x_0)]}.$$

(V Leibnizově zápisu derivací má poslední formule tvar $\frac{dy}{dx} = \frac{1}{\frac{dx}{dy}}$.)

Důkaz věty naleznete v části Pro zájemce na konci kapitoly.

Tato věta se při výpočtu derivací běžně neuvádí; pomocí ní odvodíme další vztahy pro derivace elementárních funkcí:

Příklad 3.53.

$$a) (\arcsin x)' = \frac{1}{\sqrt{1-x^2}} \quad b) (\arctg x)' = \frac{1}{1+x^2} \quad c) (\ln x)' = \frac{1}{x}$$

Řešení. a) $y = \arcsin x, \quad x = \sin y$
 $\frac{dy}{dx} = \frac{1}{\frac{dx}{dy}} = \frac{1}{\cos y} = \frac{1}{\sqrt{1-\sin^2 y}} = \frac{1}{\sqrt{1-x^2}}$

b) $y = \arctg x, \quad x = \operatorname{tgy}$
 $\frac{dy}{dx} = \frac{1}{\frac{dx}{dy}} = \cos^2 y = \frac{\cos^2 y}{\cos^2 y + \sin^2 y} = \frac{1}{1+\operatorname{tg}^2 y} = \frac{1}{1+x^2}$

c) $y = \ln x, \quad x = e^y$
 $\frac{dy}{dx} = \frac{1}{\frac{dx}{dy}} = \frac{1}{e^y} = \frac{1}{x}, \quad x > 0$

□

Derivace složené funkce

Umět správně použít následující větu je při výpočtu derivací naprosto nezbytné - vyžaduje to pochopitelně aktivní znalost pojmu složené funkce, tj. každou složenou funkci umět rozložit na jednotlivé složky.

Věta 3.54. *Nechť funkce $g : u = g(x)$ má derivaci v bodě x_0 a funkce $f : y = f(u)$ má derivaci v bodě $u_0 = g(x_0)$. Potom složená funkce $f \circ g : y = f[g(x)]$ má derivaci v bodě x_0 a platí*

$$(f \circ g)'(x_0) = f'(u_0) \cdot g'(x_0) = f'[g(x_0)] \cdot g'(x_0).$$

(V Leibnizově zápisu derivace má formule tvar $\frac{dy}{dx} = \frac{dy}{du} \cdot \frac{du}{dx}$.)

Příklad 3.55.

$$a) (a^x)' = a^x \ln a \quad (a > 0) \quad b) (\ln |x|)' = \frac{1}{x} \quad c) (x^a)' = a x^{a-1} \quad (a \in \mathbb{R})$$

Řešení. a) $y = a^x = e^{x \ln a}$ je složená funkce s vnitřní složkou $u = x \ln a$ a vnější složkou $y = e^u$:

$$\frac{dy}{dx} = \frac{dy}{du} \cdot \frac{du}{dx} = e^u \cdot \ln a = e^{x \ln a} \cdot \ln a = a^x \ln a$$

b) Pro $x > 0$ je nám vztah již znám.

Je-li $x < 0$, potom $y = \ln |x| = \ln(-x)$; $y = \ln u, \quad u = -x$:

$$\frac{dy}{dx} = \frac{dy}{du} \cdot \frac{du}{dx} = \frac{1}{u} \cdot (-1) = \frac{1}{-x} \cdot (-1) = \frac{1}{x}$$

c) $y = x^a = e^{a \ln x}$, $y = e^u$, $u = a \ln x$, $x > 0$:

$$\frac{dy}{dx} = \frac{dy}{du} \cdot \frac{du}{dx} = e^u \cdot \frac{a}{x} = e^{a \ln x} \cdot \frac{a}{x} = x^a \cdot \frac{a}{x} = a \cdot x^{a-1}$$

□

V následujícím příkladu použijeme odvozené vztahy při výpočtu derivace komplikovanějších funkcí:

Příklad 3.56. Máme vypočítat f' , je-li f zadaná předpisem

$$\text{a) } f(x) = \sqrt[4]{\frac{x - \sqrt{1+x^2}}{x + \sqrt{1+x^2}}}, \quad \text{b) } f(x) = \operatorname{arctg} \frac{\cos x}{1 + \sin x} \quad \text{c) } f(x) = (\sin x)^{\cos x}$$

Řešení. a)

$$\begin{aligned} f(x) &= \left[\frac{x - \sqrt{1+x^2}}{x + \sqrt{1+x^2}} \right]^{\frac{1}{4}}; & f'(x) &= \frac{1}{4} \left[\frac{x - \sqrt{1+x^2}}{x + \sqrt{1+x^2}} \right]^{-\frac{3}{4}} \left[\frac{x - \sqrt{1+x^2}}{x + \sqrt{1+x^2}} \right]' = \\ & & &= \frac{1}{4} \left[\frac{x + \sqrt{1+x^2}}{x - \sqrt{1+x^2}} \right]^{\frac{3}{4}} \cdot \\ & & &= \frac{(x - (1+x^2)^{\frac{1}{2}})'(x + (1+x^2)^{\frac{1}{2}}) - (x - (1+x^2)^{\frac{1}{2}})(x + (1+x^2)^{\frac{1}{2}})'}{(x + \sqrt{1+x^2})^2} = \\ & & &= \frac{1}{4} \left[\frac{x + \sqrt{1+x^2}}{x - \sqrt{1+x^2}} \right]^{\frac{3}{4}} \cdot \\ & & &= \frac{(1 - \frac{1}{2}(1+x^2)^{-\frac{1}{2}} 2x)(x + (1+x^2)^{\frac{1}{2}}) - (x - (1+x^2)^{\frac{1}{2}})(1 + \frac{1}{2}(1+x^2)^{-\frac{1}{2}} 2x)}{(x + \sqrt{1+x^2})^2} = \\ & & &= \left| \begin{array}{l} \text{po úpravě (1. a 3. závorku v čitateli převedeme na společného jmenovatele,} \\ \text{který je roven } \sqrt{1+x^2}, \text{ a roznásobíme) dostaneme} \end{array} \right| = \\ & & &= -\frac{1}{2\sqrt{1+x^2}} \left[\frac{x + \sqrt{1+x^2}}{x - \sqrt{1+x^2}} \right]^{\frac{3}{4}} \frac{x - \sqrt{1+x^2}}{x + \sqrt{1+x^2}} = -\frac{1}{2\sqrt{1+x^2}} \left[\frac{x - \sqrt{1+x^2}}{x + \sqrt{1+x^2}} \right]^{\frac{1}{4}}. \end{aligned}$$

b)

$$\begin{aligned} f'(x) &= \frac{1}{1 + \left[\frac{\cos x}{1 + \sin x} \right]^2} \left[\frac{\cos x}{1 + \sin x} \right]' = \\ &= \frac{(1 + \sin x)^2}{(1 + \sin x)^2 + \cos^2 x} \frac{(\cos x)'(1 + \sin x) - \cos x(\sin x)'}{(1 + \sin x)^2} = \\ &= \frac{1}{2 + 2 \sin x} [-\sin x(1 + \sin x) - \cos^2 x] = -\frac{1}{2}. \end{aligned}$$

c)

$$\begin{aligned}
 f(x) &= (\sin x)^{\cos x} = e^{\cos x \ln \sin x}, & f'(x) &= e^{\cos x \ln \sin x} (\cos x \ln \sin x)' = \\
 &= (\sin x)^{\cos x} \left(-\sin x \ln \sin x + \cos x \frac{1}{\sin x} \cos x \right) = \\
 &= (\sin x)^{\cos x - 1} (\cos^2 x - \sin^2 x \ln \sin x).
 \end{aligned}$$

□

Pro kontrolu výsledků při výpočtech derivací funkce může posloužit [tento maplet](#).

Příklad 3.57. Kondenzátor s kapacitou C se vybíjí přes rezistor s odporem R . Máme najít intenzitu proudu v čase t , jestliže pro náboj na deskách kondenzátoru platí

$$Q = 0,001 e^{-t/5}$$

kde náboj Q je vyjádřen v coulombech a čas t v sekundách. Máme zjistit, za jak dlouho klesne intenzita proudu na polovinu své počáteční hodnoty.

Řešení. Intenzita elektrického proudu v ampérech je

$$i = \frac{dQ}{dt} = (0,001 e^{-t/5})' = -0,0002 e^{-t/5}$$

Pro $t = 0$ je

$$i_0 = -0,0002 A = -0,2 mA$$

Čas v sekundách, za který klesne intenzita proudu na polovinu, najdeme z podmínky

$$\frac{i_0}{2} = -0,0002 e^{-t/5} \quad \text{neboli} \quad \frac{1}{2} = e^{-t/5}.$$

Tedy $t = 5 \ln 2 \doteq 3,47 s$.

□

Příklad 3.58. Máme najít rovnici tečny a normály ke grafu funkce $y = \ln x$, jestliže tečna je rovnoběžná s přímkou $x - y + 5 = 0$.

Řešení. Nechť $A = [x_0, y_0]$ je bod, ve kterém je hledaná tečna rovnoběžná se zadanou přímkou. Z podmínky rovnoběžnosti plyne pro směrnici k_1 tečny a směrnici k_2 dané přímky vztah $k_1 = k_2 (= 1)$, neboli

$$(\ln x)'_{x=x_0} = 1, \quad \text{tedy} \quad \frac{1}{x_0} = 1.$$

Odtud je $x_0 = 1$ a $y_0 = \ln x_0 = 0$.

Rovnice tečny v bodě $A = [1, 0]$ je

$$y - 0 = 1(x - 1) \quad \text{neboli} \quad x - y - 1 = 0$$

a rovnice normály

$$y - 0 = -\frac{1}{1}(x - 1) \quad \text{neboli} \quad x + y - 1 = 0.$$

□

Diferenciál funkce

Definice 3.59. Nechť funkce f je diferencovatelná v bodě x_0 . Potom funkci $f'(x_0) \cdot h$ proměnné $h \in \mathbb{R}$ nazýváme **diferenciálem** funkce f v bodě x_0 a značíme

$$df(x_0) = f'(x_0) \cdot h.$$

Je-li funkce f diferencovatelná na intervalu (a, b) , potom $f'(x) \cdot h$ závisí na dvou proměnných $x \in (a, b)$, $h \in (-\infty, \infty)$. Tento výraz nazýváme **diferenciálem funkce** a označujeme $df(x)$, nebo df .

Zvolíme-li speciálně $f : f(x) = x$, potom $df(x) = dx = 1 \cdot h$. Výsledku $dx = h$ budeme nadále používat všude. Bude tedy

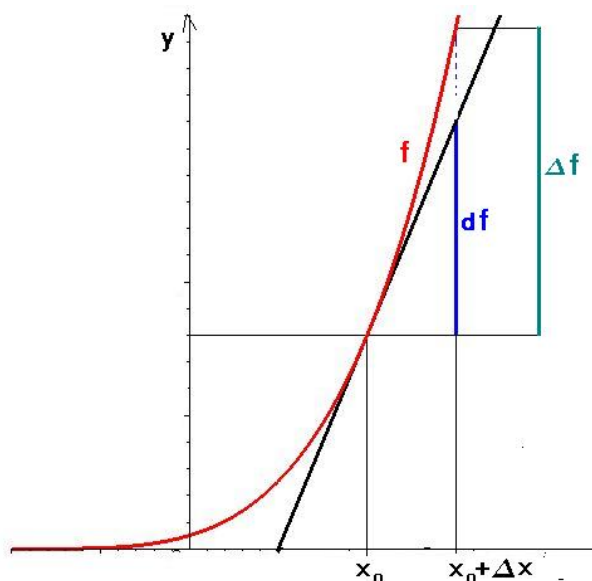
$$df(x) = f'(x) \cdot dx, \quad df(x_0) = f'(x_0) \cdot dx.$$

Odtud lze dělením diferenciálem dx získat již dříve uvedené Leibnizovo vyjádření derivace funkce

$$f'(x) = \frac{df(x)}{dx}, \quad f'(x_0) = \frac{df(x_0)}{dx}.$$

Přírůstek dx nazýváme přírůstkem argumentu.

Geometrický význam diferenciálu



Obr. 3.22: Geometrický význam diferenciálu

Rovnice tečny ke grafu funkce f v bodě $[x_0, f(x_0)]$ má tvar:

$$\begin{aligned} y - f(x_0) &= \operatorname{tg} \alpha (x - x_0) = \\ &= f'(x_0)(x - x_0). \end{aligned}$$

Označíme-li tedy

$$x - x_0 = \Delta x,$$

$$f(x) - f(x_0) = \Delta f(x),$$

je geometrický význam diferenciálu

$$df(x_0) = f'(x_0)(x - x_0)$$

„přírůstek po tečně“, tak jak je znázorněno na obr. 3.22.

Aproximace přírůstku funkce diferenciálem

Přírůstek funkce f v bodě x definujeme vztahem $\Delta f(x) = f(x+h) - f(x)$.

Je-li $f'(x) \neq 0$, potom

$$\lim_{h \rightarrow 0} \frac{\Delta f(x)}{d f(x)} = \lim_{h \rightarrow 0} \frac{f(x+h) - f(x)}{f'(x) \cdot h} = \frac{\lim_{h \rightarrow 0} \frac{f(x+h) - f(x)}{h}}{f'(x)} = 1.$$

Proto pro dostatečně malá h je

$$\frac{\Delta f(x)}{d f(x)} \approx 1, \text{ tj. } \Delta f(x) \approx d f(x)$$

a můžeme pro malá h přibližně nahradit přírůstek funkce jejím diferenciálem.

Příklad 3.60. S jakou chybou (v procentech) vypočteme objem krychle, jestliže se při měření strany krychle dopustíme nejvýše 1% chyby?

Řešení. Nechť x značí délku strany krychle a V její objem. Nechť dx značí možnou chybu v měření x . Relativní chyba $\frac{dx}{x}$ je v absolutní hodnotě nejvýše 0,01, tedy

$$\frac{|dx|}{x} \leq 0,01.$$

Diferenciál dV je odhad chyby při výpočtu objemu, tj. $\frac{dV}{V}$ je odhad relativní chyby objemu. Protože

$$dV = d(x^3) = 3x^2 dx,$$

dostaneme

$$\frac{dV}{V} = \frac{3x^2 dx}{x^3} = 3 \frac{dx}{x}.$$

Tedy relativní chyba objemu je trojnásobek relativní chyby v měření strany, tj. asi 3%. \square

Neurčité výrazy, L'Hospitalovo pravidlo

V tomto odstavci uvedeme pravidlo, které výrazně zjednoduší počítání limit funkcí v bodech, kde není možné přímo dosadit – tak zvaných neurčitých výrazů:

Vyšetřujeme-li limitu $\lim_{x \rightarrow a} \frac{f(x)}{g(x)}$, kde $\lim_{x \rightarrow a} g(x) = 0$, nemůžeme použít větu o limitě podílu; je-li navíc $\lim_{x \rightarrow a} f(x) = 0$, nejedná se ani o žádnou nevlastní limitu. Přesto uvedený podíl limitu může mít a to dokonce vlastní. Podobná situace vzniká, jsou-li limity funkcí f, g nevlastní, nebo vyšetřujeme-li limitu rozdílu dvou funkcí, z nichž má každá nevlastní limitu ∞ a podobně. Tyto a jim analogické případy limit nazýváme **neurčité výrazy** a dělíme je do několika typů (lim označuje $\lim_{x \rightarrow a}$):

1. Je-li $\lim f(x) = \lim g(x) = 0$, potom $\lim \frac{f(x)}{g(x)}$ nazýváme neurčitým výrazem typu $\frac{0}{0}$.

2. Je-li $\lim f(x) = \lim g(x) = \pm\infty$, potom $\lim \frac{f(x)}{g(x)}$ nazýváme neurčitým výrazem typu $\frac{\infty}{\infty}$.
3. Je-li $\lim f(x) = 0$, $\lim g(x) = \pm\infty$, potom $\lim f(x) \cdot g(x)$ nazýváme neurčitým výrazem typu $0 \cdot \infty$.
4. Je-li $\lim f(x) = \lim g(x) = \infty$, potom $\lim f(x) - g(x)$ nazýváme neurčitým výrazem typu $\infty - \infty$.
5. Je-li $\lim f(x) = 1$, $\lim g(x) = \infty$, potom $\lim (f(x))^{g(x)}$ nazýváme neurčitým výrazem typu 1^∞ .
6. Je-li $\lim f(x) = \infty$, $\lim g(x) = 0$, potom $\lim (f(x))^{g(x)}$ nazýváme neurčitým výrazem typu ∞^0 .
7. Je-li $\lim f(x) = \lim g(x) = 0$, potom $\lim (f(x))^{g(x)}$ nazýváme neurčitým výrazem typu 0^0 .

Uvedeme metodu na výpočet neurčitých výrazů prvních dvou typů; neurčité výrazy zbývajících typů se vždy snažíme na některý z prvních dvou převést.

Věta 3.61. (První L'Hospitalovo pravidlo)

Nechť funkce f, g jsou diferencovatelné na některém $\mathcal{U}^*(a)$ a platí

$$1) \lim_{x \rightarrow a} f(x) = \lim_{x \rightarrow a} g(x) = 0, \quad 2) \lim_{x \rightarrow a} \frac{f'(x)}{g'(x)} = b. \quad \text{Potom také} \quad \lim_{x \rightarrow a} \frac{f(x)}{g(x)} = b.$$

Důkaz naleznete v části Pro zájemce na konci kapitoly.

Věta 3.62. (Druhé L'Hospitalovo pravidlo)

Nechť funkce f, g jsou diferencovatelné na některém $\mathcal{U}^*(a)$ a platí

$$1) \lim_{x \rightarrow a} |f(x)| = \lim_{x \rightarrow a} |g(x)| = \infty \quad 2) \lim_{x \rightarrow a} \frac{f'(x)}{g'(x)} = b. \quad \text{Potom také} \quad \lim_{x \rightarrow a} \frac{f(x)}{g(x)} = b.$$

Příklad 3.63. Vypočteme následující limity:

$$a) \lim_{x \rightarrow 1} \frac{\ln(2x-1)}{\operatorname{tg} 4\pi x} \quad b) \lim_{x \rightarrow \infty} \frac{\ln x}{x} \quad c) \lim_{x \rightarrow \infty} x^{\frac{1}{x}} \quad d) \lim_{x \rightarrow 0} (\operatorname{cotg} x - \frac{1}{x})$$

Řešení. a)

$$\lim_{x \rightarrow 1} \frac{\ln(2x-1)}{\operatorname{tg} 4\pi x} = \left(\frac{0}{0} \right) = \lim_{x \rightarrow 1} \frac{\frac{2}{2x-1}}{\frac{4\pi}{\cos^2 4\pi x}} = \lim_{x \rightarrow 1} \frac{\cos^2 4\pi x}{2\pi(2x-1)} = \frac{1}{2\pi}.$$

b)

$$\lim_{x \rightarrow \infty} \frac{\ln x}{x} = \left(\frac{\infty}{\infty} \right) = \lim_{x \rightarrow \infty} \frac{\frac{1}{x}}{1} = 0.$$

c)

$$\lim_{x \rightarrow \infty} x^{\frac{1}{x}} = (\infty^0) = \lim_{x \rightarrow \infty} e^{\frac{1}{x} \ln x} = e^b,$$

kde $b = \lim_{x \rightarrow \infty} \frac{\ln x}{x} = 0$, jak jsme vypočítali v předchozím příkladu. Tedy

$$\lim_{x \rightarrow \infty} x^{\frac{1}{x}} = e^0 = 1.$$

d)

$$\begin{aligned} \lim_{x \rightarrow 0} \left(\cotg x - \frac{1}{x} \right) &= (\pm\infty - (\pm\infty)) = \lim_{x \rightarrow 0} \left(\frac{\cos x}{\sin x} - \frac{1}{x} \right) = \\ &= \lim_{x \rightarrow 0} \frac{x \cos x - \sin x}{x \sin x} = \left(\frac{0}{0} \right) = \lim_{x \rightarrow 0} \frac{\cos x - x \sin x - \cos x}{\sin x + x \cos x} = \\ &= \lim_{x \rightarrow 0} \frac{-x \sin x}{\sin x + x \cos x} = \left(\frac{0}{0} \right) = \lim_{x \rightarrow 0} \frac{-\sin x}{\frac{\sin x}{x} + \cos x} = 0. \end{aligned}$$

□

Na poslední neurčitý výraz jsme L'Hospitalovo pravidlo již nepoužili – výhodnější bylo dělit čitatele i jmenovatele x .

Závěrem kapitoly o derivaci uvedeme tři důležité věty o funkcích diferencovatelných na intervalu, které mají značný teoretický, ale i praktický význam:

Věty o přírůstku funkce

Věta 3.64. (Fermatova) *Jestliže*

- f je spojitá na $\langle a, b \rangle$,
- v bodě $\xi \in (a, b)$ nabývá své největší (nebo nejmenší) hodnoty,
- existuje $f'(\xi)$,

pak $f'(\xi) = 0$.

Důkaz věty naleznete v části Pro zájemce na konci kapitoly.

Věta 3.65. (Rolleova) *Jestliže*

- f je spojitá na $\langle a, b \rangle$,
- f je diferencovatelná na (a, b) ,
- platí $f(a) = f(b)$,

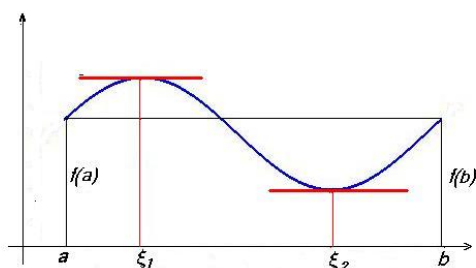
pak existuje bod $\xi \in (a, b)$ tak, že $f'(\xi) = 0$.

Věta 3.66. (Lagrangeova o přírůstku funkce) *Jestliže*

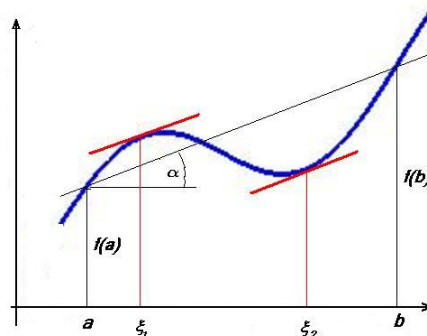
- f je spojitá na $\langle a, b \rangle$,
- f je diferencovatelná na (a, b) ,

pak existuje $\xi \in (a, b)$ takové, že

$$f'(\xi) = \frac{f(b) - f(a)}{b - a}.$$



Obr. 3.23: Rolleova věta



Obr. 3.24: Lagrangeova věta

Uvedené věty, které se souhrnně nazývají větami o přírůstku funkce, jsou velmi důležité z teoretického hlediska – pomocí nich se dokazují prakticky všechna důležitá tvrzení o diferencovatelných funkcích - viz např. Důsledky za následujícími obrázky. Důkazy neuvádíme; platnost tvrzení v nich obsažených názorně ukazují obrázky 3.23 a 3.24.

Důsledky: Nechť \mathcal{J} značí interval, ať již otevřený, uzavřený, či polouzavřený, a \mathcal{J}_0 jeho vnitřek, tj. otevřený interval, který obsahuje právě vnitřní body intervalu \mathcal{J} .

1. Funkce f je konstantní na \mathcal{J}_0 , právě když $f'(x) = 0$ na \mathcal{J}_0 .
2. Nechť funkce f je diferencovatelná na \mathcal{J} . Potom f je neklesající (resp. nerostoucí) na \mathcal{J} , právě když

$$f'(x) \geq 0 \quad (\text{resp. } f'(x) \leq 0) \quad \text{na } \mathcal{J}_0.$$

3. Nechť funkce f je diferencovatelná na \mathcal{J} .
Potom f je rostoucí (resp. klesající) na \mathcal{J} , právě když je $f'(x) \geq 0$ (resp. $f'(x) \leq 0$) na \mathcal{J}_0 , přičemž rovnost $f' = 0$ nenastane na žádném podintervalu intervalu \mathcal{J}_0 .

Příklad 3.67. Funkce $f(x) = x^5$ má derivaci $f'(x) = 5 \cdot x^4 \geq 0$, přičemž $f'(x) = 0$ pouze v bodě 0. Funkce f tedy roste na $(-\infty, \infty)$.

Pro zájemce

Důkaz věty o derivaci a aritmetických operacích: První dva vztahy plynou bezprostředně z analogických tvrzení o limitách; dokážeme c):

$$(f(x) \cdot g(x))' = \lim_{h \rightarrow 0} \frac{f(x+h)g(x+h) - f(x)g(x)}{h} =$$

$$\begin{aligned}
&= \lim_{h \rightarrow 0} \frac{1}{h} [f(x+h)g(x+h) - f(x)g(x+h) + f(x)g(x+h) - f(x)g(x)] = \\
&= \lim_{h \rightarrow 0} \frac{1}{h} [(f(x+h) - f(x))g(x+h) + f(x)(g(x+h) - g(x))] = \\
&= \lim_{h \rightarrow 0} \left[\frac{f(x+h) - f(x)}{h} g(x+h) \right] + f(x) \lim_{h \rightarrow 0} \frac{g(x+h) - g(x)}{h} = f'(x)g(x) + f(x)g'(x).
\end{aligned}$$

Důkaz věty o derivaci inverzní funkce: Z a) vyplývá, že funkce f je spojitá na (a, b) a s použitím věty o limitě složené funkce 3.26 s vnitřní složkou $y = f(x)$, tj. $x = g(y)$, dostáváme

$$\lim_{x \rightarrow x_0} \frac{f(x) - f(x_0)}{x - x_0} = \lim_{y \rightarrow y_0} \frac{y - y_0}{g(y) - g(y_0)} = \frac{1}{g'(y_0)}.$$

Důkaz prvního L'Hospitalova pravidla: Předpokládejme, že a je vlastní, tedy že platí $f(a) = g(a) = 0$. Potom

$$\lim_{x \rightarrow a} \frac{f(x)}{g(x)} = \lim_{x \rightarrow a} \frac{f(x) - f(a)}{g(x) - g(a)} = \lim_{x \rightarrow a} \frac{\frac{f(x) - f(a)}{x - a}}{\frac{g(x) - g(a)}{x - a}} = \frac{\lim_{x \rightarrow a} \frac{f(x) - f(a)}{x - a}}{\lim_{x \rightarrow a} \frac{g(x) - g(a)}{x - a}} = \frac{f'(a)}{g'(a)}.$$

V případě, kdy $f(a)$ nebo $g(a)$ neexistuje (tedy některá z funkcí f, g má v a odstranitelnou singularitu), definiční předpis změníme tak, že položíme $f(a) = g(a) = 0$. V případě $a = \pm\infty$ použijeme substituci $t = \frac{1}{x}$ a větu o limitě složené funkce.

Důkaz Fermatovy věty: Předpokládejme, že f má v ξ maximum, tedy platí

$$f(x) \leq f(\xi) \quad \forall x \in \langle a, b \rangle, \quad \text{neboli} \quad f(x) - f(\xi) \leq 0.$$

Potom pro podíl $\frac{f(x) - f(\xi)}{x - \xi}$ platí:

$$x < \xi \Rightarrow \frac{f(x) - f(\xi)}{x - \xi} \geq 0, \quad x > \xi \Rightarrow \frac{f(x) - f(\xi)}{x - \xi} \leq 0.$$

Tedy

$$\lim_{x \rightarrow \xi^-} \frac{f(x) - f(\xi)}{x - \xi} = f'_-(\xi) \geq 0, \quad \lim_{x \rightarrow \xi^+} \frac{f(x) - f(\xi)}{x - \xi} = f'_+(\xi) \leq 0.$$

Protože podle předpokladu existuje $f'(\xi)$, musí platit

$$f'_-(\xi) = f'_+(\xi) = f'(\xi) = 0.$$

Důkaz důsledků Lagrangeovy věty:

1. Směr f je konstantní na $\mathcal{J}_0 \Rightarrow f'(x) = 0$ na \mathcal{J}_0 jsme ukázali přímým výpočtem z definice. Prověříme opačný směr:

Nechť $f'(x) = 0$ na \mathcal{J}_0 . Potom pro libovolná $x_1, x_2 \in \mathcal{J}_0$ existuje $\xi \in (x_1, x_2)$ tak, že platí $f'(\xi) = \frac{f(x_2) - f(x_1)}{x_2 - x_1}$. Podle předpokladu je $f'(\xi) = 0$, tedy $f(x_2) = f(x_1)$ a funkce f je na \mathcal{J}_0 konstantní.

2. a) Předpokládejme, že f je neklesající na \mathcal{J} . Potom pro každé dva navzájem různé body $x, x^* \in \mathcal{J}_0$ platí

$$\frac{f(x^*) - f(x)}{x^* - x} \geq 0 \Rightarrow f'(x) = \lim_{x^* \rightarrow x} \frac{f(x^*) - f(x)}{x^* - x} \geq 0.$$

- b) Předpokládejme nyní $f'(x) \geq 0$ na \mathcal{J}_0 . Potom pro $x_1, x_2 \in \mathcal{J}$, $x_1 < x_2$ platí podle Lagrangeovy věty

$$f(x_2) - f(x_1) = f'(\xi)(x_2 - x_1) \geq 0, \quad \text{neboli} \quad f(x_1) \leq f(x_2).$$

Pro nerostoucí funkci by důkaz probíhal obdobně.

3. Je-li f rostoucí, potom podle předchozí věty je $f(x) \geq 0$ na \mathcal{J}_0 , přičemž na žádném podintervalu není $f'(x) = 0$, protože f by byla na tomto podintervalu konstantní. Je-li $f(x) \geq 0$, přičemž není $f'(x) = 0$ na žádném podintervalu intervalu \mathcal{J}_0 , potom f je neklesající, a protože není konstantní na žádném podintervalu, musí být rostoucí.

Shrnutí

V této kapitole jsme definovali základní prostředek diferenciálního počtu – derivaci funkce:

- derivace funkce f v bodě x_0 : $f'(x_0) = \lim_{x \rightarrow x_0} \frac{f(x) - f(x_0)}{x - x_0}$,
- derivace zleva (zprava): je definovaná pomocí příslušných jednostranných limit,
- derivace funkce f na intervalu: funkce $f' : x \rightarrow f'(x)$.

Derivace popisuje „rychlost, s jakou se mění daná veličina“, nejen ve fyzice, ale i v chemii, biologii, ekonomii, managementu,...

Dále jsme zavedli pojem diferenciál funkce – lineární část přírůstku funkce:

- diferenciál funkce f v bodě x_0 vzhledem k přírůstku h : $df(x_0) = f'(x_0)h$.

Ukázali jsme, jak můžeme využít derivací při výpočtu limit tzv. neurčitých výrazů (limit, které nelze vypočítat jako funkční hodnoty) – uvedli jsme

- L'Hospitalovo pravidlo: je-li $\lim_{x \rightarrow a} f(x) = \lim_{x \rightarrow a} g(x) = 0$, resp. je-li $\lim_{x \rightarrow a} f(x) = \infty$ a současně je $\lim_{x \rightarrow a} \frac{f'(x)}{g'(x)} = b$, je také $\lim_{x \rightarrow a} \frac{f(x)}{g(x)} = b$.

Na závěr kapitoly jsme uvedli tzv. věty o přírůstku funkce a jejich důsledky:

- Fermatova věta: má-li funkce diferencovatelná na intervalu v nějakém bodě tohoto intervalu největší resp. nejmenší hodnotu, musí mít v tomto bodě nulovou derivaci,
- Rolleova věta: má-li funkce diferencovatelná na nějakém intervalu v krajních bodech tohoto intervalu nulové hodnoty, musí mít v některém vnitřním bodě tohoto intervalu nulovou derivaci,
- Lagrangeova věta: pro funkci diferencovatelnou na intervalu (a, b) a spojitou na $\langle a, b \rangle$ existuje bod $\xi \in (a, b)$ tak, že platí $f(b) - f(a) = f'(\xi)(b - a)$,
- platí-li pro funkci f na nějakém intervalu $f'(x) = 0$, je funkce na tomto intervalu konstantní,
- platí-li pro funkci f na nějakém intervalu $f'(x) > 0$ resp. $f'(x) < 0$, je funkce na tomto intervalu rostoucí resp. klesající,

Pomocí pravidel pro počítání s limitami jsme odvodili pravidla pro výpočet derivací a vztahy pro derivace základních elementárních funkcí; pravidla jsou shrnuta v následujících tabulkách:

Slovník pro derivace

Vzorce platí všude, kde je definovaná funkce i derivace.

| Funkce | Derivace | Funkce | Derivace |
|--------------------------|--------------------------|----------------------------|---------------------------|
| c (konst.) | 0 | x | 1 |
| x^n | $n x^{n-1}$ | x^α | $\alpha x^{\alpha-1}$ |
| e^x | e^x | a^x | $a^x \ln a$ |
| $\ln x$ | $\frac{1}{x}$ | $\log_a x$ | $\frac{1}{x \ln a}$ |
| $\sin x$ | $\cos x$ | $\cos x$ | $-\sin x$ |
| $\operatorname{tg} x$ | $\frac{1}{\cos^2 x}$ | $\operatorname{cotg} x$ | $-\frac{1}{\sin^2 x}$ |
| $\arcsin x$ | $\frac{1}{\sqrt{1-x^2}}$ | $\arccos x$ | $-\frac{1}{\sqrt{1-x^2}}$ |
| $\operatorname{arctg} x$ | $\frac{1}{1+x^2}$ | $\operatorname{arccotg} x$ | $-\frac{1}{1+x^2}$ |
| $\sinh x$ | $\cosh x$ | $\cosh x$ | $\sinh x$ |
| $\operatorname{tgh} x$ | $\frac{1}{\cosh^2 x}$ | $\operatorname{cotgh} x$ | $-\frac{1}{\sinh^2 x}$ |

Gramatika pro derivace

| | |
|-----------------------------------|--|
| $(a f(x) + b g(x))'$ | $= a f'(x) + b g'(x)$ |
| $(f(x) g(x))'$ | $= f'(x) g(x) + f(x) g'(x)$ |
| $\left(\frac{f(x)}{g(x)}\right)'$ | $= \frac{f'(x) g(x) - f(x) g'(x)}{g^2(x)}$ |
| $(f[\varphi(x)])'$ | $= f'[\varphi(x)] \varphi'(x)$ |

Užitečné vzorce

Je-li $f(x) > 0$, $g(x) > 0$ platí:

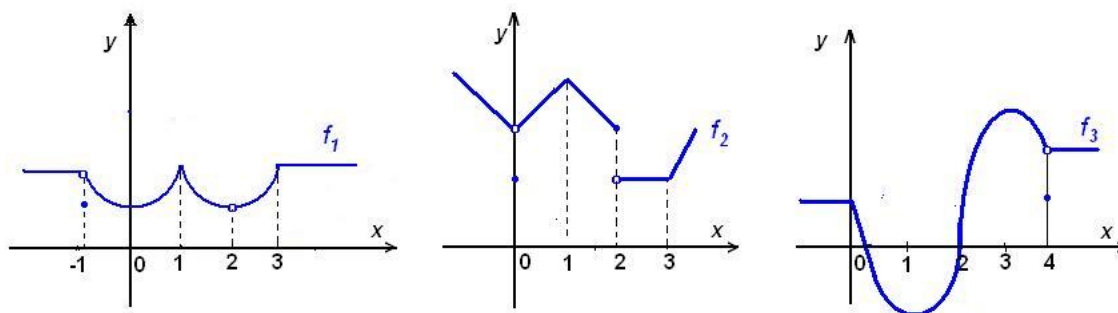
$$[f(x)]^{g(x)} = e^{g(x) \cdot \ln f(x)}$$

$$\log_{g(x)} f(x) = \frac{\ln f(x)}{\ln g(x)}$$

Obr. 3.25:

Otázky a úkoly

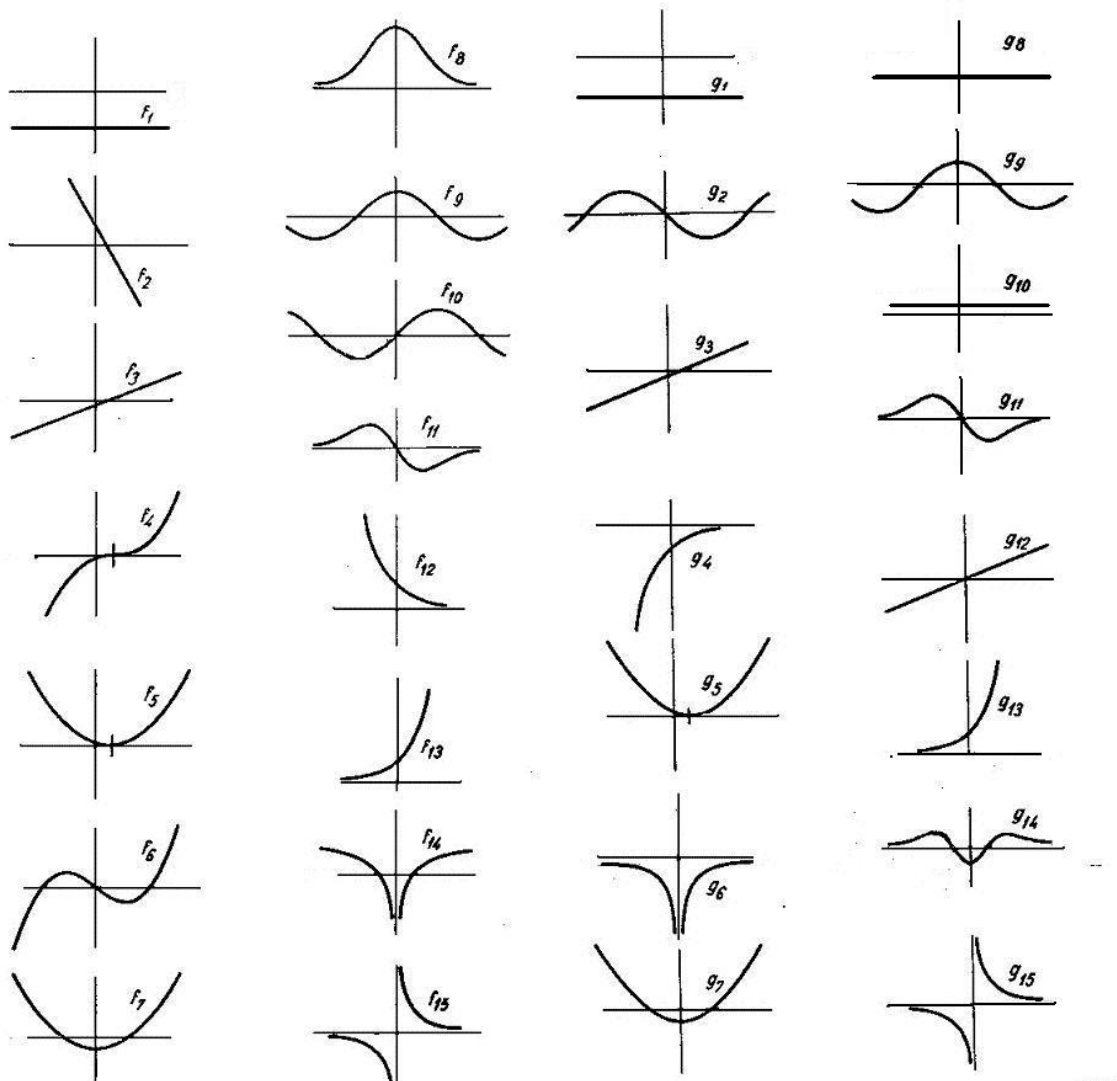
- Co je to derivace funkce a) v bodě, b) na intervalu?
- Na příkladu funkce f dané předpisem $f(x) = x^2\chi(x) = \begin{cases} x^2 & x \in \mathbb{Q} \\ 0 & x \notin \mathbb{Q} \end{cases}$ pomocí definice derivace ukažte, že funkce definovaná na \mathbb{R} může mít derivaci pouze v jednom bodě.
- Body $A = [2, 4]$ a $B = [2 + \Delta x, 4 + \Delta y]$ paraboly $y = x^2$ prochází sečna. Najděte směrnici této sečny, jestliže $\Delta x = 1$, $\Delta x = 0,1$, $\Delta x = 0,01$. Najděte též směrnici tečny paraboly v bodě A .
- Nechť f je funkce, jejíž hodnota v x je $4x^2$.
 - Vypočítejte $[f(2,1) - f(2)]/0,1$.
 - Jak můžeme interpretovat zlomek v a), jestliže f znamená celkový zisk jisté firmy (v milionech dolarů) v prvních x letech činnosti?
 - Jak můžeme interpretovat zlomek v a), jestliže f znamená druhou souřadnici na grafu paraboly $y = 4x^2$?
 - Jak můžeme interpretovat zlomek v a), jestliže f udává vzdálenost, kterou urazí pohybující se částice v prvních x sekundách?
 - Jaký je význam hodnoty $f'(2)$ v případech c), d)? Jak byste tyto pojmy rozšířili na případ b)?
- Na obr. 3.26 jsou grafy tří funkcí f_1, f_2, f_3 . Pro která čísla a
 - existuje $\lim_{x \rightarrow a} f(x)$, ale f je nespojitá v a ?
 - f je v a spojitá, ale není v a diferencovatelná?



Obr. 3.26: Funkce z příkladu 5

- O funkcích f a g víme, že $f(3) = 2$, $f'(3) = 4$, $g(3) = 5$, $g(5) = 3$, $g'(3) = 1$ a $g'(5) = 7$. Pro které x můžeme vypočítat $(f \circ g)'$ a čemu je rovna?
- Nechť g je diferencovatelná funkce taková, že její derivace je rovna $\frac{1}{x^3+1}$. Nechť $h(x) = g(x^2)$. Najděte $h'(x)$.

8. V obr. 3.27 jsou v levé části grafy jistých funkcí $f_1 - f_{15}$ a v pravé části grafy jistých funkcí $g_1 - g_{15}$. Ke každé funkci f_i najděte funkci g_j tak, aby platilo $f'_i = g_j$.



Obr. 3.27: Funkce a jejich derivace

9. Ukažte, že

- derivace liché funkce je sudá funkce,
- derivace sudé funkce je lichá funkce,
- derivace funkce periodické s periodou p je periodická funkce s periodou p .

10. Dokažte, že bod dotyku tečny k hyperbole o rovnici $y = \frac{c}{x}$ půlí úsečku určenou průsečíky této tečny se souřadnými osami.

11. Odůvodněte, proč nelze použít L'Hospitalovo pravidlo při výpočtu těchto limit:

a) $\lim_{x \rightarrow 0^+} \frac{x^2 \sin \frac{1}{x}}{\sin x}$

b) $\lim_{x \rightarrow \infty} \frac{x - \sin x}{x + \sin x}$

Cvičení

1. Vypočítejte derivace následujících funkcí (pro zjednodušení uvádíme pouze pravou stranu definičního předpisu):

- | | |
|--|---|
| a) $x^3 + 4x^3\sqrt{x} + 4\sqrt[3]{x^2} - \frac{3}{x^5} + \frac{5}{\sqrt[3]{x^2}}$ | b) $\sqrt[3]{x^2\sqrt{x^4\sqrt{x^3}}}$ |
| c) $(x^3 - 2x + 1)(x^4 - 5x^2 + 10)$ | d) $(x - 1)(x - 2)^2(x - 3)^3$ |
| e) $\frac{\sqrt[3]{x}}{1 - \sqrt[3]{x}} + \frac{1 + \sqrt{x}}{1 + \sqrt{2x}}$ | f) $\frac{(x + 1)(x^3 - 2x)}{(x^2 + 1)(x^3 - 1)}$ |
| g) $\left(\sqrt{x} + \frac{1}{\sqrt{x}}\right)^{100}$ | h) $\sqrt{\frac{1 - \sqrt{x}}{1 + \sqrt{x}}}$ |
| i) $\sqrt[4]{(3 + 4\sqrt[3]{2x})^3}$ | j) $\frac{\sin x + \cos x}{2 \sin 2x}$ |
| k) $\frac{\cos x^2}{\cos^2 x}$ | l) $3\cotg x + \cotg^3 x$ |
| m) $\operatorname{tg} \frac{1+x}{x}$ | n) $\cotg \sqrt[5]{1+x^5}$ |
| o) $\sin(\sin(\sin x))$ | p) $\sin^3(\cos^2(\operatorname{tg} x))$ |
| q) $4^{3x} + 36x^4$ | r) $e^{\sqrt{x^2+x+1}}$ |
| s) $e^{\frac{x}{\ln x}}$ | t) $\ln(x + \sqrt{1+x^2})$ |
| u) $\ln \sqrt{\frac{1 - \sin x}{1 + \sin x}}$ | v) $\operatorname{arctg} \frac{x+1}{x-1}$ |
| w) x^{e^x} | x) $(\operatorname{tg} x)^{1/\cos x}$ |
| y) $(\cosh x)^{\ln x}$ | z) $(\ln x)^x + x^{\ln x}$ |

2. Vypočítejte derivace následujících funkcí a výsledky co nejvíce zjednodušte:

- a) $x \ln(x - \sqrt{x^2 - 1}) + \sqrt{x^2 - 1}$
- b) $\frac{1}{3(1+x^3)} + \frac{1}{3} \ln \frac{x^3}{1+x^3}$
- c) $\operatorname{arctg} \frac{x}{2} + \ln \sqrt{\frac{x-2}{x+2}}$
- d) $\frac{1}{2\sqrt{2}} \ln \frac{\sqrt{2+2x^2}-x}{\sqrt{2+2x^2}+x} + \ln(x + \sqrt{1+x^2})$
- e) $\frac{1}{4} \ln \frac{1+x+x^2}{1-x+x^2} + \frac{\sqrt{3}}{6} \operatorname{arctg} \frac{x\sqrt{3}}{1-x^2}$

3. Vypočtěte derivace následujících funkcí; v bodech, kde derivace neexistuje, vypočtěte derivaci zleva a zprava:

- a) $|x^3|$ b) $\sqrt{|x-1|}$ c) $\ln|3-x|$
 d) $x|x|$ e) $|\cos x|$ f) $(-1)^{[x]}$

4. Najděte rovnici tečny a normály ke grafu funkce f v bodě A , je-li

- a) $f(x) = \frac{3x-2}{2x-3}$, $A = [1, ?]$ b) $f(x) = 2\sqrt{2} \sin x$, $A = [\frac{\pi}{4}, ?]$
 c) $f(x) = \ln(x+1)$, $A = [0, ?]$ d) $f(x) = e^{-x} \cos 2x$, $A = [0, ?]$

5. Najděte rovnici tečny a normály k parabole $y = x^2 - 2x + 3$, jestliže tečna

- a) je rovnoběžná s přímkou $3x - y + 5 = 0$,
 b) je kolmá na přímkou $x + y - 1 = 0$,
 c) svírá s přímkou $2x + y - 2 = 0$ úhel $\frac{\pi}{4}$.

6. Vedení vysokého napětí má rozpětí mezi stožáry 80 m. Tvar zavěšeného vodiče udává parabola $y = 0,001 x^2$, přičemž její vrchol je stejně vzdálen od obou stožárů. Najděte úhel mezi vodičem a stožárem.

7. Balon kulového tvaru zmenšuje v důsledku porušení svého obalu svůj průměr o 2 cm za sekundu. Vypočítejte, jakou rychlostí se zmenšuje jeho objem, je-li počáteční poloměr balonu $r = 16$ m.

8. Jestliže těleso vyhodíme svisle vzhůru s počáteční rychlostí $v_0 \text{ ms}^{-1}$ je jeho výška nad povrchem počítaná v metrech daná vztahem $s = v_0 t - 4,9t^2$, kde t je čas v sekundách. Pro $v_0 = 100 \text{ ms}^{-1}$ určete

- a) rychlost v čase $t = 2$ s,
 b) rychlost v čase $t = 15$ s,
 c) v jakém čase dosáhne těleso největší výšku,
 d) jaké největší výšky těleso dosáhne.

9. Vlak vyjíždí z nádraží, přičemž jeho pohyb popisuje rovnice $s = at^2 + bt + c$, kde s je dráha v km, t čas v hodinách. Po uplynutí jedné minuty vlak dosáhne rychlosti 60 km/h. Jakou dráhu urazí, než dosáhne této rychlosti?

10. Na moři křižují dvě lodě svou dráhu pod pravým úhlem. Když je první v průsečíku drah, druhá je od něj ještě vzdálená 20 km. První loď se pohybuje rychlostí $v_1 = 30$ km/h, druhá rychlostí $v_2 = 50$ km/h. Vypočtěte

- a) rychlost, s jakou se vzdalují,
 b) nejmenší vzdálenost.

11. Pouliční lampa visí 6 m nad zemí. Člověk vysoký 1,8 m kráčí rychlostí 1,6 m/s. Zjistěte

- a) jakou rychlostí se pohybuje stín jeho hlavy,
 b) jakou rychlostí se mění délka jeho stínu.

12. Množství elektrického náboje protékající vodičem se mění podle vztahu $Q = Q(t)$, kde Q je zadané v Coulombech a t v sekundách. Vypočítejte intenzitu elektrického proudu v čase t_0 a zjistěte, kdy se bude rovnat intenzitě i_1 , je-li
- $Q(t) = 3t^2 + 2t + 2$, $t_0 = 0; 1; 5s$, $i_1 = 20 A$;
 - $Q(t) = 2te^{-t}$, $t_0 = 0s$, $i_1 = 0 A$;
 - $Q(t) = 0,05t + 0,04 \sin(100\pi t + 20)$, $t_0 = 7,5s$, $i_1 = 0,9 A$.
13. Indukční cívkou protéká proud i , pro který platí $i = 15 \sin^5 3t$, kde proud i je v ampérech a čas t v sekundách. Vypočítejte indukovanou elektromotorickou sílu $e_i = -L \frac{di}{dt}$ v čase $t = 2\pi/9s$, je-li $L = 0,03 H$.
14. K zadaným funkcím f najděte přírůstek funkce Δf a diferenciál df v čísle x_0 pro daný přírůstek Δx :
- $f(x) = 3x^2$, $x_0 = 1$, $\Delta x = 10^{-1}$,
 - $f(x) = x^3 - 4x^2 - 10x - 12$, $x_0 = 0$, $\Delta x = 0,2$,
 - $f(x) = \operatorname{arc} \cot g x$, $x_0 = 1$, $\Delta x = 0,3$,
 - $f(x) = \ln \sqrt{x^2 - 2x}$, $x_0 = 3$, $\Delta x = -0,02$.
15. Vypočítejte přibližně pomocí diferenciálu následující hodnoty; výsledky porovnejte s hodnotami nalezenými pomocí kalkulačky:
- $\ln 25,02$, $\ln 24,6$, je-li $\ln 25 \doteq 3,2189$,
 - $\log 1001$, je-li $\ln 10 \doteq 2,3026$,
 - $\operatorname{tg} 46^\circ$,
 - $\operatorname{arctg} 1,1$,
 - $2^{1,002}$.
16. Vypočítejte, o kolik se změní objem krychle, jestliže se délka její hrany zvětší z 6 cm na 6,1 cm, a to a) přesně, b) pomocí diferenciálu. Získané výsledky porovnejte.
17. Koule má poloměr r . Najděte přírůstek a diferenciál a) objemu, b) povrchu koule jako funkci poloměru r pro poloměr $r = R$ a diferenci Δr .
18. V elektrickém obvodu s konstantním napětím U se změní odpor R o ΔR . Vypočítejte, o kolik se změní proud a) přesně, b) přibližně.
19. Pomocí L'Hospitalova pravidla vypočítejte následující limity:
- $\lim_{x \rightarrow \infty} \frac{x^3 + 2x^2 - 1}{5x^3 - x^2 + 2}$
 - $\lim_{x \rightarrow -\infty} \frac{x^4 + x^2 + x}{2x^3 - 5x}$
 - $\lim_{x \rightarrow \infty} \frac{x^3 + x^2 - x + 4}{2x^4 + x - 9}$
 - $\lim_{x \rightarrow 1} \frac{x - 1}{(\ln x)^2}$
 - $\lim_{x \rightarrow 0} \frac{\ln(1 - x)}{x^3}$
 - $\lim_{x \rightarrow \infty} \left((x + 1)e^{\frac{1}{x-1}} - x \right)$
 - $\lim_{x \rightarrow 0^+} (\sin x)^{\ln x}$
 - $\lim_{x \rightarrow \infty} \left(1 - \frac{1}{x} \right)^x$
 - $\lim_{x \rightarrow 1^-} (1 - x) \ln(1 - x)$
 - $\lim_{x \rightarrow 0} \frac{2 \cos x - 2 + x^2}{x^2 \sin^2 x}$
 - $\lim_{x \rightarrow 0} \frac{1 + x + 2x^3 - e^x}{\sin^2 x}$
 - $\lim_{x \rightarrow 0} \frac{1 - \cos^2 x}{x(1 + \cos x)}$
20. Rezistorem s odporem $R = 5 \Omega$ teče proud $i = 2t \sin \frac{3}{t} (A)$. Vypočítejte okamžitý výkon proudu na rezistoru R . Najděte hodnotu výkonu pro $t \rightarrow \infty$.

Výsledky

1. a) $3x^2 + 14x^2\sqrt{x} + \frac{8}{3}\sqrt[3]{x} + \frac{15}{x^6} - \frac{10}{3\sqrt[3]{x^5}}$, b) $\frac{19}{12}\sqrt[12]{x^7}$, c) $7x^6 - 35x^4 + 4x^3 + 60x^2 - 10x - 20$, d) $2(x-2)(x-3)^2(3x^2-11x+9)$, e) $\frac{1}{3\sqrt[3]{x^2(1-\sqrt[3]{x})^2}} - \frac{1-\sqrt{2}}{2\sqrt{x}(1+2\sqrt{x})^2}$, f) $-\frac{x^8+2x^7-7x^6-6x^5-x^4+5x^2-4x-2}{(x^2+1)^2(x^3-1)^2}$, g) $50\left(\sqrt{x} + \frac{1}{\sqrt{x}}\right)^{99} \frac{x-1}{x\sqrt{x}}$, h) $-\frac{1}{2} \frac{1}{(1+\sqrt{x})\sqrt{x(1-x)}}$, i) $\frac{\sqrt[3]{2}}{\sqrt[3]{x^2}} \frac{1}{\sqrt[4]{3+4\sqrt[3]{2x}}}$, j) $\frac{\sin^3 x - \cos^3 x}{\sin^2 2x}$, k) $\frac{2}{\cos^3 x} (\sin x \cos x^2 - x \sin x^2 \cos x)$, l) $\frac{-3}{\sin^4 x}$, m) $-\frac{1}{x^2} \frac{1}{\cos^2(1+\frac{1}{x})}$, n) $\frac{-1}{\sin^2 \sqrt[5]{1+x^5}} \frac{x^4}{\sqrt[5]{(1+x^5)^4}}$, o) $\cos(\sin(\sin x)) \cos(\sin x) \cos x$, p) $-3 \sin^2(\cos^2(\operatorname{tg} x)) \cos(\cos^2(\operatorname{tg} x)) \sin(2\operatorname{tg} x) \frac{1}{\cos^2 x}$, q) $3 \cdot 4^{3x} \ln 4 + 144x^3$, r) $e^{\sqrt{x^2+x+1}} \frac{2x+1}{2\sqrt{x^2+x+1}}$, s) $\frac{\ln x - 1}{\ln^2 x} e^{\frac{x}{\ln x}}$, t) $\frac{1}{\sqrt{1+x^2}}$, u) $\frac{-1}{\cos x}$, v) $\frac{-1}{1+x^2}$, w) $e^x x e^x (\ln x + \frac{1}{x})$, x) $(\operatorname{tg} x)^{\frac{1}{\cos x}} (\sin x \ln \operatorname{tg} x + \frac{1}{\sin x}) \frac{1}{\cos^2 x}$, y) $(\cosh x)^{\ln x} (\operatorname{tgh} x \ln x + \frac{\ln \cosh x}{x})$, z) $(\ln x)^{x-1} (1 + \ln x \ln \ln x) + 2x^{\ln x-1} \ln x$;
2. a) $\ln(x - \sqrt{x^2 - 1})$, b) $\frac{1}{x(1+x^3)^2}$, c) $\frac{4x^2}{x^4-16}$, d) $\frac{\sqrt{1+x^2}}{x^2+2}$, e) $\frac{1}{1+x^2+x^4}$;
3. a) $3x|x|$, b) $\frac{1}{2\sqrt{x-1}}$ pro $x > 1$, $\frac{-1}{2\sqrt{1-x}}$ pro $x < 1$, $f'(1)$ neexist., $f'_+(1) = \infty$, $f'_-(1) = -\infty$, c) $\frac{1}{x-3}$ pro $x \neq 3$, d) $2|x|$, e) $(-1)^{k+1} \sin x$ pro $x \neq \frac{\pi}{2} + k$, $k \in \mathbb{Z}$, f) 0 pro $x \neq k$, $k \in \mathbb{Z}$;
4. a) $5x + y - 4 = 0$, $x - 5y - 6 = 0$, b) $2x - y + 2 - \pi/2 = 0$, $x + 2y - 4 - \pi/4 = 0$, c) $y = x$, $y = -x$, d) $x + y - 1 = 0$, $x - y + 1 = 0$;
5. a) $12x - 4y - 13 = 0$, $4x + 12y - 61 = 0$, b) $4x - 4y + 3 = 0$, $4x + 4y - 15 = 0$, c) $12x - 4y - 13 = 0$, $4x + 12y - 61 = 0$; $12x + 36y - 83 = 0$, $108x - 36y - 17 = 0$;
6. $\arctg 12,5 \doteq 85^\circ 25' 34''$; 7. $1,508 \text{ m/s}^2$; 8. a) $80, 4 \text{ ms}^{-1}$, b) -47 ms^{-1} , c) $10, 2 \text{ s}$, d) $510, 20 \text{ m}$; 9. 500 m , 10. a) $58,31 \text{ km/h}$, b) $10,29 \text{ km}$;
11. a) $2,285 \text{ m/s}$, b) $\frac{24}{35} \text{ m/s}$;
12. a) 2 A , 8 A , 32 A , 3 s , b) 2 A , 1 s , c) $5,06 \text{ A}$, $0,00112 \cdot + \text{k}/50$; 13. $1,90 \text{ V}$;
14. a) $0,63$, $0,6$, b) $-2,152$, -2 , c) $-0,09$, $-0,1$, d) $(\ln 0,973)/2$, $-0,013$;
15. a) $3,2197, 3,2029$, b) $3,0004$, c) $1,035906$, d) $0,835398$, e) $2,003$;
16. a) $10,981$, b) $10,8$; 17. a) $4\pi r^2 \Delta r + 4\pi R(\Delta r)^2 + 4\pi R(\Delta r)^3$, $4\pi R^2 \Delta r$, b) $8\pi R \Delta r + 4\pi(\Delta r)^2$, $8\pi R \Delta r$;
18. $(-U_0 \Delta R)/(R(R - \Delta R))$, $(-U_0 \Delta R)/R^2$;
19. a) $\frac{1}{5}$, b) $-\infty$, c) 0 , d) ∞ , e) $-\infty$, f) 2 , g) ∞ , h) $\frac{1}{e}$, i) 0 , j) $\frac{1}{12}$, k) $-\frac{1}{2}$, l) 0 ;
20. $180[\text{W}]$.

3.5 Derivace vyšších řádů, Taylorův polynom

V předchozí kapitole jsme viděli, že rychlost pohybujícího se tělesa získáme derivací funkce, která popisuje závislost dráhy na čase. Naskytá se otázka, zda podobně nemůžeme získat zrychlení, s jakým se těleso pohybuje. Vzhledem k tomu, že rychlost popisuje změnu dráhy, a zrychlení analogicky změnu rychlosti, je přirozené položit poslední výraz chápeme jako „druhou derivaci“.

Podobně jistě můžeme zavést i derivaci třetí, čtvrtou, ... obecně libovolného řádu.

Různé fyzikální i jiné přírodní jevy bývají popsány dosti komplikovanými funkčními závislostmi; mají-li se takové jevy vyšetřovat, bývá výhodné nahradit zkoumanou funkcí v okolí „pracovního bodu“ některou jednodušší – nejráději polynomem. V této kapitole ukážeme, jak se takový polynom, který dostatečně aproximuje zkoumanou funkci – Taylorův polynom – najde.

Derivace a diferenciály vyšších řádů

Definice 3.68. Je-li f' derivace funkce f na otevřeném intervalu \mathcal{J} , může se stát, že funkce f' má na \mathcal{J} (nebo na některém otevřeném intervalu, který je částí \mathcal{J}) sama derivaci. Potom tuto derivaci nazýváme **derivací druhého řádu**, nebo též **druhou derivací** funkce f a značíme ji f'' , nebo $\frac{d^2 f}{dx^2}$.

Rekurzí definujeme **derivaci n -tého řádu**, nebo též **n -tou derivaci** jako derivaci $(n - 1)$ -ní derivace:

$$f^{(n)} = (f^{(n-1)})'$$

Řád derivace se udává jako horní index v závorce. Pro derivace do třetího řádu budeme používat označení $f^{(1)} = f'$, $f^{(2)} = f''$, $f^{(3)} = f'''$. Je výhodné definovat také nultou derivaci vztahem $f^{(0)} = f$.

Pro n -tou derivaci se používá též označení $\frac{d^n f(x)}{dx^n}$ (tzv. Leibnizův zápis n -té derivace).

Má-li funkce f na otevřeném intervalu \mathcal{J} derivaci n -tého řádu $f^{(n)}$, řekneme, že f je na \mathcal{J} **n -krát diferencovatelná**.

Příklad 3.69. Máme najít $f^{(n)}$ pro funkci definovanou předpisem $f(x) = 2x^3 + x^2 - x + 5$.

Řešení.

$$\begin{aligned} f'(x) &= 6x^2 + 2x - 1 \\ f''(x) &= 12x + 2 \\ f'''(x) &= 12 \\ f^{(4)}(x) &= 0 \\ f^{(n)}(x) &= 0 \text{ pro } n \geq 4. \end{aligned}$$

Zadaná funkce byl polynom 3. stupně; derivace řádu většího než tři je rovna nule.

Tento výsledek můžeme jistě zobecnit na libovolný polynom – derivace řádu většího než je stupeň polynomu je rovna nule. \square

Příklad 3.70. Vypočítáme a) $(\sin x)^{(n)}$ b) $(e^{px+q})^{(n)}$ c) $(a^x)^{(n)}$

Řešení.

$$\begin{aligned} \text{a) } (\sin x)' &= \cos x = \sin(x + \frac{\pi}{2}); \quad (\sin x)'' = (\sin(x + \frac{\pi}{2}))' = \cos(x + \frac{\pi}{2}) = \\ &= \sin(x + 2 \cdot \frac{\pi}{2}); \\ \Rightarrow (\sin x)^{(n)} &= \sin(x + n \cdot \frac{\pi}{2}) \\ \text{b) } (e^{px+q})' &= p e^{px+q}; \quad (e^{px+q})^{(n)} = p^n e^{px+q} \\ \text{c) } (a^x)' &= a^x \ln a; \quad (a^x)^{(n)} = a^x (\ln a)^n \end{aligned}$$

\square

Definice 3.71. Je-li funkce f n -krát diferencovatelná v bodě x_0 , potom funkci

$$d^n f(x_0) = f^{(n)}(x_0) \cdot h^n$$

proměnné $h \in \mathbb{R}$ nazýváme **diferenciálem n -tého řádu** funkce f v bodě x_0 , nebo **n -tým diferenciálem** funkce f v bodě x_0 .

Použijeme-li pro přírůstek h označení dx , píšeme

$$d^n f(x_0) = f^{(n)}(x_0) \cdot dx^n$$

a odtud dostáváme zmíněné Leibnizovo označení n -té derivace $\frac{d^n f(x_0)}{dx^n} = f^{(n)}(x_0)$.

Příklad 3.72. Vypočítáme $d^2 f(3)$, je-li $f(x) = 5^{x-3}$.

Řešení. $f'(x) = 5^{x-3} \ln 5$; $f''(x) = 5^{x-3} (\ln 5)^2$; $f''(3) = (\ln 5)^2 \Rightarrow d^2 f(3) = (\ln 5)^2 dx^2$ □

Linearizace

Víme, že rovnice tečny ke grafu funkce f v bodě $[x_0, f(x_0)]$ má tvar

$$y - f(x_0) = f'(x_0)(x - x_0) \quad \text{neboli} \quad y = f(x_0) + f'(x_0)(x - x_0).$$

Výraz na pravé straně je polynom 1. stupně; označme jako p funkci definovanou vztahem $p(x) = f(x_0) + f'(x_0)(x - x_0)$.

Pro funkci p zřejmě platí $p(x_0) = f(x_0)$, $p'(x_0) = f'(x_0)$,

navíc se dá ukázat, že p je jediný polynom 1. stupně s těmito dvěma vlastnostmi.

Protože polynom stupně nejvýše 1. se nazývá lineární funkce (grafem je přímka), řekneme, že p je **linearizace** funkce f v x_0 .

Příklad 3.73.

Máme najít linearizaci funkce

$$f: f(x) = \operatorname{tg} x \quad \text{v} \quad \frac{\pi}{4}.$$

Řešení.

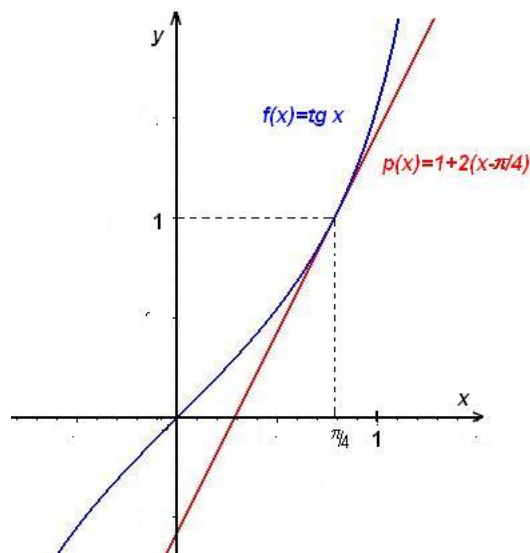
$$f(x) = \operatorname{tg} x, \quad f\left(\frac{\pi}{4}\right) = 1,$$

$$f'(x) = \frac{1}{\cos^2 x}, \quad f'\left(\frac{\pi}{4}\right) = \frac{1}{\left(\frac{\sqrt{2}}{2}\right)^2} = 2.$$

Odtud

$$p(x) = 1 + 2\left(x - \frac{\pi}{4}\right) = 2x + 1 - \frac{\pi}{2}.$$

□



Obr. 3.28: Linearizace

Poznamenejme, že linearizace se užívá velmi často v praxi, například při náhradě experimentálně zjištěných charakteristik elektrických součástek (tranzistorů) v okolí pracovního bodu.

Aproximace funkce Taylorovým polynomem

Nyní přikročíme k řešení jednoho z nejdůležitějších problémů matematické analýzy – aproximaci funkce pomocí polynomu.

Máme-li aproximovat funkci f diferencovatelnou v x_0 v dosti malém okolí $\mathcal{U}(x_0)$ lineární funkcí (polynomem prvního stupně) $T_1(x)$, použijeme tu funkci, jejímž grafem je tečna ke grafu funkce f v bodě $[x_0, f(x_0)]$, jinými slovy požadujeme, aby se v bodě x_0 shodovaly funkční hodnoty a hodnoty prvních derivací funkce f a polynomu T_1 – viz 3.28. Hodnota funkce f a polynomu T_1 se však může značně lišit v bodech $x \neq x_0$. Je-li funkce f n -krát diferencovatelná, můžeme přesnost aproximace v dosti malém okolí bodu x_0 zlepšit, použijeme-li polynom n -tého stupně T_n , po kterém budeme požadovat, aby se v bodě x_0 shodoval s funkcí f až do n -té derivace včetně, to znamená, aby platilo

$$T_n^{(k)}(x_0) = f^{(k)}(x_0), \quad k = 0, 1, \dots, n.$$

Snadno se prověří, že tuto vlastnost má polynom z následující definice:

Definice 3.74. *Taylorovým polynomem* funkce f v bodě x_0 nazýváme polynom

$$T_n(x) = f(x_0) + \frac{f'(x_0)}{1!}(x - x_0) + \dots + \frac{f^{(n)}(x_0)}{n!}(x - x_0)^n = \sum_{k=0}^n \frac{f^{(k)}(x_0)}{k!}(x - x_0)^k$$

Pro $x_0 = 0$ se polynom $T_n(x)$ nazývá též **Maclaurinův polynom**.

Označíme-li $dx = x - x_0$, je $f^{(k)}(x_0)(x - x_0)^k = d^k f(x_0)$ a Taylorův polynom můžeme psát ve tvaru

$$T_n(x) = f(x_0) + \frac{1}{1!}df(x_0) + \frac{1}{2!}d^2f(x_0) + \dots + \frac{1}{n!}d^n f(x_0).$$

Rozdíl mezi hodnotou $f(x)$ a $T_n(x)$ označíme

$$R_{n+1}(x) = f(x) - T_n(x)$$

a nazveme **zbytek** po n -té mocnině, nebo $(n + 1)$ -ní zbytek. Zbytek určuje nepřesnost aproximace funkce f příslušným Taylorovým polynomem T_n .

Věta 3.75. (Taylorova) *Nechť funkce f je $(n+1)$ -krát diferencovatelná na jistém okolí $\mathcal{U}(x_0)$ bodu x_0 . Potom pro $x \in \mathcal{U}(x_0)$ platí*

$$f(x) = T_n(x) + R_{n+1}(x) \quad \text{kde} \quad R_{n+1}(x) = \frac{f^{(n+1)}(\xi)}{(n+1)!}(x - x_0)^{n+1},$$

přičemž ξ leží mezi body x , x_0 , neboli $\xi = x_0 + \vartheta(x - x_0)$ $0 < \vartheta < 1$.

Příklad 3.76. Najděme Taylorův vzorec pro funkci

$$f : f(x) = \sqrt{1+x}, \quad x \in \langle -1, +\infty \rangle, x_0 = 0, n = 3.$$

Nakresleme graf dané funkce v okolí bodu $x_0 = 0$ a grafy příslušných Taylorových polynomů stupně 1, 2 a 3.

Řešení. Máme za úkol vyjádřit danou funkci f ve tvaru

$$f(x) = T_3(x) + R_4(x),$$

kde T_3 je Maclaurinův polynom stupně nejvýše 3 dané funkce f , tj.

$$T_3(x) = f(0) + \frac{f'(0)}{1!}x + \frac{f''(0)}{2!}x^2 + \frac{f'''(0)}{3!}x^3,$$

a R_4 je příslušný zbytek v Taylorově vzorci:

$$R_4(x) = \frac{1}{4!}f^{(4)}(\xi)x^4, \quad \xi = \vartheta x, \quad 0 < \vartheta < 1.$$

Vypočítáme potřebné derivace:

$$\begin{aligned} f(x) &= (1+x)^{1/2}, & f(0) &= 1 \\ f'(x) &= \frac{1}{2}(1+x)^{-1/2}, & f'(0) &= \frac{1}{2} \\ f''(x) &= \frac{1}{2}\left(-\frac{1}{2}\right)(1+x)^{-3/2}, & f''(0) &= \frac{1}{2}\left(-\frac{1}{2}\right) \\ f'''(x) &= \frac{1}{2}\left(-\frac{1}{2}\right)\left(-\frac{3}{2}\right)(1+x)^{-5/2}, & f'''(0) &= \frac{1}{2}\left(-\frac{1}{2}\right)\left(-\frac{3}{2}\right) \\ f^{(4)}(x) &= \frac{1}{2}\left(-\frac{1}{2}\right)\left(-\frac{3}{2}\right)\left(-\frac{5}{2}\right)(1+x)^{-7/2}, & f^{(4)}(\xi) &= \frac{1}{2}\left(-\frac{1}{2}\right)\left(-\frac{3}{2}\right)\left(-\frac{5}{2}\right)(1+\xi)^{-7/2}. \end{aligned} \quad \square$$

Po dosazení do Taylorova vzorce dostaneme pro $x \in (-1, +\infty)$:

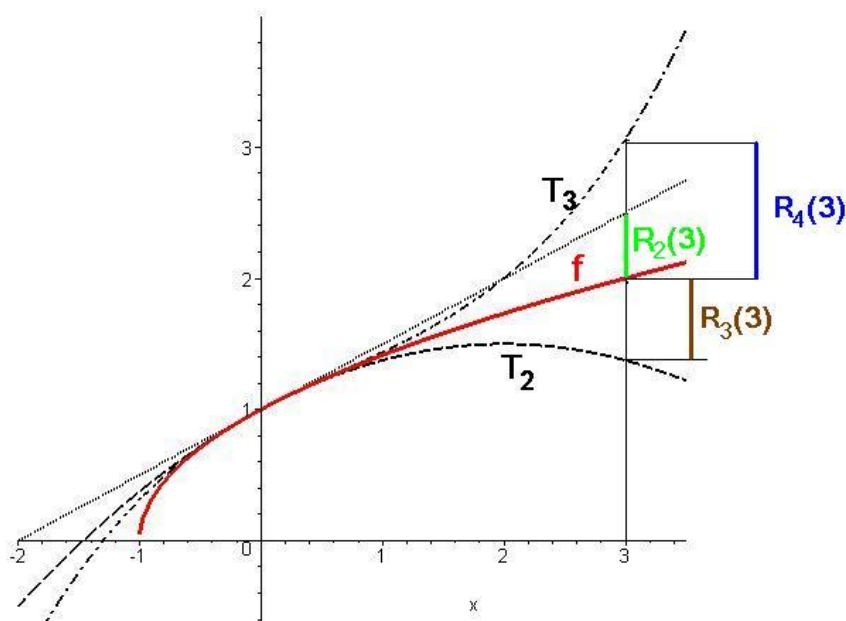
$$\sqrt{1+x} = 1 + \frac{1}{2}x - \frac{1}{2} \frac{1}{2} \frac{x^2}{2!} + \frac{1}{2} \frac{1}{2} \frac{3}{2} \frac{x^3}{3!} + R_4(x) = 1 + \frac{1}{2}x - \frac{1}{8}x^2 + \frac{1}{16}x^3 + R_4(x),$$

$$\text{kde} \quad R_4(x) = \frac{-1 \cdot 3 \cdot 5}{2^4} \frac{x^4}{4!} (1 + \vartheta x)^{-7/2}, \quad 0 < \vartheta < 1.$$

Na obr. 3.29, kde je nakreslen graf dané funkce f a grafy jejích Taylorových polynomů T_1, T_2, T_3 v bodě $x_0 = 0$ stupně 1, 2 a 3, jsou dále v bodě $x = 3$ vyznačeny absolutní hodnoty zbytků $R_2(3), R_3(3)$ a $R_4(3)$ příslušného Taylorova vzorce.

Taylorův polynom T_n funkce f v bodě x_0 tedy aproximuje funkci f v bodech x jistého okolí $\mathcal{U}(x_0)$ bodu x_0 , a to s chybou danou absolutní hodnotou zbytku R_{n+1} pro příslušný bod x . Lze tedy pro body $x \in \mathcal{U}_{x_0}$ napsat přibližný vztah

$$f(x) \approx T_n(x), \quad x \in \mathcal{U}(x_0),$$

Obr. 3.29: Taylorovy polynomy funkce $\sqrt{1+x}$

jehož chyba je dána absolutní hodnotou $|R_{n+1}(x)|$.

Uvedená aproximace má lokální charakter. Při výpočtu přibližné hodnoty funkce f podle Taylorova vzorce můžeme všeobecně očekávat uspokojující výsledky jen pro body x blízké bodu x_0 .

Tuto situaci můžeme ilustrovat na funkci $\sqrt{1+x}$ z předchozího příkladu, jestliže pro její aproximaci použijeme odvozený polynom T_3 , tj. položíme-li

$$\sqrt{1+x} \approx 1 + \frac{1}{2}x - \frac{1}{8}x^2 + \frac{1}{16}x^3. \quad (*)$$

Odhadněme chybu této aproximace:

$$|R_4(x)| = \left| \frac{-1 \cdot 3 \cdot 5}{2^4} \frac{1}{4!} \frac{x^4}{\sqrt{(1+\vartheta x)^7}} \right| < \frac{1 \cdot 3 \cdot 5}{2^4} \frac{x^4}{4!}, \quad (**)$$

přičemž poslední výraz jsme dostali tak, že jsme položili $\vartheta = 0$ (tím jsme výraz zaručeně zvětšili).

Dosadíme-li do vzorce (*) za x hodnotu poměrně malou, např. $x = 0,2$, dostaneme pro přibližnou hodnotu čísla $\sqrt{1,2}$:

$$\sqrt{1,2} \approx 1 + \frac{1}{2} \cdot 0,2 - \frac{1}{8} \cdot (0,2)^2 + \frac{1}{16} \cdot (0,2)^3 = 1,0955.$$

Chyba této aproximace je podle vzorce (**) menší než $\frac{5}{128} \cdot (0,2)^4 \doteq 0,00006$.

Pro srovnání - na kalkulačce vypočteme $\sqrt{1,2} \doteq 1,095445115$.

Dosadíme-li však do (*) za x číslo podstatně větší, např. $x = 2,4$, dostaneme pro přibližnou hodnotu čísla $\sqrt{2,4}$:

$$\sqrt{2,4} \approx 1 + \frac{1}{2} \cdot 2,4 - \frac{1}{8} \cdot (2,4)^2 + \frac{1}{16} \cdot (2,4)^3 = 2,344;$$

přítom na kalkulačce vypočítáme $\sqrt{2,4} \approx 1,843\,908\,891$. Použití vzorce (*) dává v tomto případě výsledek zcela nevyhovující. Ukazuje se dokonce, že i kdybychom pro $x = 2,4$ zvyšovali stupeň aproximujícího polynomu T_n , nedostali bychom pro $x = 2,4$ lepší výsledky, právě naopak. Na obr. 3.29 můžeme vidět, že v bodě $x = 3$ se aproximace zhoršuje, jestliže zvyšujeme stupeň Taylorova polynomu. Na obr. 3.30 je zvyšování stupně Taylorova polynomu a zhoršování aproximace v animaci.

Obr. 3.30: Taylorovy polynomy funkce $\sqrt{1+x}$ (animace)

V předchozím příkladu jsme si stanovili předem stupeň Taylorova polynomu a poté určovali chybu, které se při aproximaci dopustíme. V následujícím příkladu postup obrátíme – nejdříve stanovíme přesnost aproximace a k ní budeme hledat stupeň aproximujícího polynomu, pro který bude požadované přesnosti dosaženo.

Příklad 3.77. Aproximujme funkci e^x Maclaurinovým polynomem a určíme, jaký musí být jeho stupeň, aby pro $x \in (0, 1)$ byla chyba v absolutní hodnotě menší než 10^{-3} .

Řešení.

$$f^{(k)}(x) = e^x,$$

$$f^{(k)}(0) = e^0 = 1, \quad k = 0, 1, 2, \dots$$

Proto

$$e^x = 1 + \frac{x}{1!} + \cdots + \frac{x^n}{n!} + R_{n+1}, \quad \text{kde } R_{n+1} = \frac{e^{\vartheta x}}{(n+1)!} x^{n+1}, 0 < \vartheta < 1.$$

Nyní požadujeme

$$|R_{n+1}| = \frac{e^{\vartheta x}}{(n+1)!} |x|^{n+1} < 10^{-3} \quad \text{pro } x \in (0, 1).$$

K tomu stačí, aby

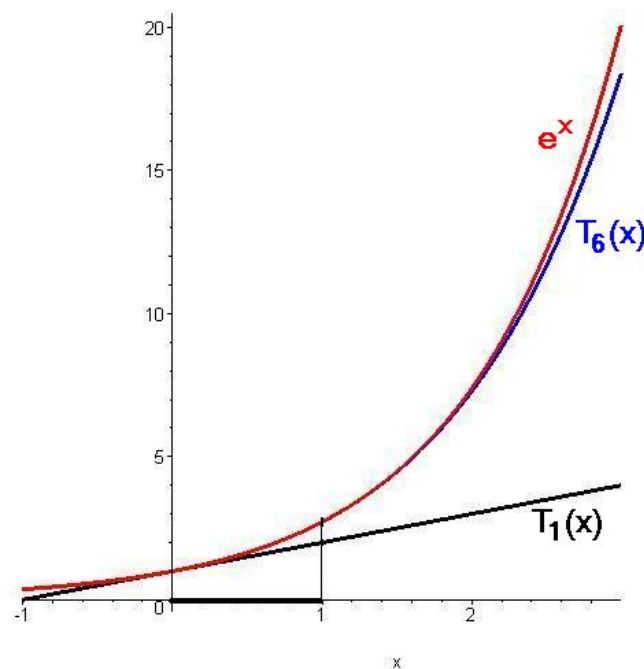
$$|R_{n+1}| = \frac{e^{\vartheta x}}{(n+1)!} |x|^{n+1} < \frac{e}{(n+1)!} < 10^{-3},$$

neboli

$$(n+1)! > e \cdot 10^3 > 2718.$$

Protože $6! = 720$, $7! = 5040$ vyhovuje $n = 6$.

Proto pro předepsanou přesnost je třeba vzít polynom alespoň šestého stupně. \square



Obr. 3.31: Taylorovy polynomy funkce e^x

Maplet pro výpočet Taylorových polynomů najdete [zde](#). V tomto mapletu se pro zvolené funkce počítají i Taylorovy řady, o kterých se více dozvíme v poslední kapitole tohoto textu.

Shrnutí

V této kapitole jsme zavedli pojem

- derivace druhého řádu funkce f : existuje-li f' na nějakém intervalu \mathcal{J} , klademe $f''(x) = (f'(x))'$,
- derivace n -tého řádu funkce f : existuje-li $f^{(n-1)}$ na nějakém intervalu \mathcal{J} , klademe $f^{(n)}(x) = (f^{(n-1)}(x))'$,
- diferenciál n -tého řádu funkce f v bodě x_0 : funkce proměnné h :
 $d^n f(x_0) = f^{(n)}(x_0) \cdot h^n$, je-li f funkce n -krát diferencovatelná v bodě x_0 .

Dále jsme uvedli vztah pro aproximaci funkce (dostatečně mnohokrát diferencovatelné) v okolí nějakého bodu:

- Taylorův vzorec: $f(x) = T_n(x) + R_{n+1}(x)$, kde $T_n(x)$ a $R_{n+1}(x)$ je
- Taylorův polynom: $T_n(x) = f(x_0) + \frac{f'(x_0)}{1!}(x - x_0) + \dots + \frac{f^{(n)}(x_0)}{n!}(x - x_0)^n$,
- zbytek po n -tém členu: $R_{n+1}(x) = \frac{f^{(n+1)}(\xi)}{(n+1)!}(x - x_0)^{n+1}$, ξ mezi x_0 a x .

Taylorovy formule pro některé funkce

| | | |
|------------|---|---|
| e^x | $\approx 1 + \frac{x}{1!} + \frac{x^2}{2!} + \dots + \frac{x^n}{n!}$ | $R(x) = \frac{x^{n+1}}{(n+1)!} e^{\vartheta x}$ |
| $\sin x$ | $\approx \frac{x}{1!} - \frac{x^3}{3!} + \dots + (-1)^{k-1} \frac{x^{2k-1}}{(2k-1)!}$ | $R(x) = (-1)^k \frac{\cos \vartheta x}{(2k+1)!} x^{2k+1}$ |
| $\cos x$ | $\approx 1 - \frac{x^2}{2!} + \frac{x^4}{4!} + \dots + (-1)^k \frac{x^{2k}}{(2k)!}$ | $R(x) = (-1)^{k+1} \frac{\cos \vartheta x}{(2k+2)!} x^{2k+2}$ |
| $\ln(1+x)$ | $\approx x - \frac{x^2}{2} + \frac{x^3}{3} - \dots + (-1)^{n-1} \frac{x^n}{n}$ | $R(x) = (-1)^n \frac{x^{n+1}}{(1+\vartheta x)^{n+1} (n+1)}$ |

Otázky a úkoly

1. Jak definujeme derivaci druhého řádu? Obecně k -tého řádu?
2. Může existovat funkce f a bod x_0 tak, aby platilo: $f'_-(x_0) = 1$, $f'_+(x_0) = -1$ a $f''(x_0) = 0$? Jestliže ano, uveďte příklad; jestliže ne, uveďte proč.

3. Pro n -tou derivaci součinu n -krát diferencovatelných funkcí se uvádí tzv. Leibnizova formule

$$(fg)^{(n)} = f^{(n)}g + \binom{n}{1} f^{(n-1)}g' + \binom{n}{2} f^{(n-2)}g'' + \dots + \binom{n}{n-1} f'g^{(n-1)} + fg^{(n)}.$$

Ověřte tuto formuli pro $n = 2$ a pokuste se naznačit indukční krok při důkazu formule matematickou indukcí.

4. Najděte druhou a třetí derivaci funkce $f \circ g$, $(f \circ g)(x) = f[g(x)]$, jestliže funkce f a g mají na příslušných množinách třetí derivaci.
5. Funkce f má na množině M derivace f' , f'' , f''' . Inverzní funkce f_{-1} k funkci f existuje a má na jisté množině N derivace f'_{-1} , f''_{-1} , f'''_{-1} . Vyjádřete tyto derivace pomocí f' , f'' , f''' .
6. Najděte diferenciál druhého řádu součtu, rozdílu, součinu a podílu funkcí f a g , jestliže tyto funkce mají druhé derivace a $g(x) \neq 0$.
7. Pomocí Taylorovy věty ukažte, že polynom n -tého stupně $P_n(x)$ je dělitelný výrazem
- $(x - x_0)$ právě když $f(x_0) = 0$,
 - $(x - x_0)^k$ právě když $f(x_0) = 0$, $f'(x_0) = 0$, $f''(x_0) = 0$, \dots , $f^{(k-1)}(x_0) = 0$.
8. Ukažte, že pro polynom P_n n -tého stupně platí

$$P(x+h) = P(x) + \frac{h}{1!} P'(x) + \dots + \frac{h^n}{n!} P^{(n)}(x).$$

9. Ukažte, že pro funkci f danou předpisem $f(x) = \begin{cases} e^{-1/x^2} & \text{pro } x \neq 0 \\ 0 & \text{pro } x = 0 \end{cases}$

platí $f^{(n)}(0) = 0$.

Cvičení

1. Vypočítejte $f''(0)$, $f''(1)$, je-li

a) $f(x) = x^5 - 7x^2 + 12$, b) $f(x) = x\sqrt{x^2 + 3}$,

c) $f(x) = \operatorname{tg} 2x$, d) $f(x) = xe^{-x^2}$.

2. Ukažte, že pro funkci $y = f(x)$ platí

a) $y^{(4)} + 4y = 0$, je-li $y = e^{-x} \cos x$,

b) $y'' = 1 - (y')^2$, je-li $y = \ln|c_1 e^x + c_2 e^{-x}|$,

c) $y'' + y = \frac{1}{\cos x}$, je-li $y = x \sin x + \cos x \operatorname{lncos} x$.

3. Vypočítejte

a) $f^{(4)}$, je-li $f(x) = x^6 + 5x^4 + 2x^3 - x^2$,

b) $f^{(4)}$, je-li $f(x) = \frac{3}{x^{11}}$,

c) f'' , je-li $f(x) = \frac{x^2+1}{x-1}$,

d) $f^{(7)}$, je-li $f(x) = x^2(1-3x)^4(x+1)$,

e) f''' , je-li $f(x) = (1+x)^6$.

4. Vypočtěte derivaci n -tého řádu funkce f , je-li

a) $f(x) = (a+bx)^m$, b) $f(x) = \frac{1}{a+bx}$,

c) $f(x) = \frac{1}{\sqrt{a+bx}}$, d) $f(x) = \sin px$,

kde a, b, p jsou konstanty.

5. Vypočítejte rychlost a zrychlení tělesa, které se pohybuje po přímce, je-li jeho poloha dána vztahem $x = Ae^{-\alpha t}(1 + \alpha t)$. Ukažte, že pro rychlost a zrychlení platí

$$\frac{d^2x}{dt^2} + 2\alpha \frac{dx}{dt} + \alpha^2 x = 0.$$

6. Najděte zrychlení lodě a sílu působící na loď, která pluje přímočaře ke břehu po vypnutí motorů pouze setrvačností. Její vzdálenost od břehu se mění podle vztahu

$$x = h - \frac{m}{r} \ln \left(1 + \frac{rv_0}{m} t \right),$$

kde h je vzdálenost lodě od břehu a v_0 rychlost lodě při vypnutí motorů, m je hmotnost lodě a r součinitel odporu vody.

7. Vypočítejte diferenciály vyšších řádů dané funkce f v bodě x_0 pro přírůstek Δx , je-li

a) $f(x) = x^3$, $d^3 f(1)$, $\Delta x = -0,2$;

b) $f(x) = \sqrt{1-x^2}$, $d^2 f(1)$, $\Delta x = 0,1$;

c) $f(x) = x^x$, $d^2 f(1)$, $\Delta x = 0,1$;

d) $f(x) = \log x$, $d^4 f(2)$, $\Delta x = 0,25$.

8. Linearizujte následující funkce v okolí daných pracovních bodů:

a) $f(x) = 4x^2 + \sqrt[3]{x}$, $x_0 = 1$;

b) $f(x) = x \sin 2x$, $x_0 = \frac{\pi}{4}$;

c) $f(x) = \sqrt{\frac{1+x}{1-x}}$, $x_0 = 0$;

d) $f(x) = \frac{2x^3}{\sin x}$, $x_0 = \frac{\pi}{2}$.

9. Následující polynomy vyjádřete v mocninách $(x - a)$:

a) $y = x^4 - 3x^2 - 10x + 11$, je-li $a = 2$,

b) $y = x^3 - 2x + 5$, je-li $a = 100$.

10. Najděte Maclaurinovy polynomy stupně n daných funkcí f :

a) $f(x) = \frac{1+x+x^2}{1-x+x^2}$, $n = 3$,

b) $f(x) = \operatorname{tg} x$, $n = 5$,

c) $f(x) = \sin^3 x$, $n = 5$,

d) $f(x) = xe^{-x}$, $n = 4$,

e) $f(x) = \ln \cos x$, $n = 6$.

11. Ověřte, že funkce $y = x$ aproximuje funkci $y = \sin x$ s chybou menší než 0,001, je-li $|x| < 0,18$.

12. Zjistěte, kolik nenulových členů Maclaurinova polynomu musíme vzít pro funkci $f(x) = \frac{1}{1+x^2}$, abychom ji aproximovali v intervalu $\langle 0, \frac{1}{2} \rangle$ s chybou menší než 0,005.

13. Pro jaké kladné x můžeme aproximovat funkci

a) $f(x) = \frac{1}{1+x}$, b) $f(x) = \ln(1+x)$

prvními dvěma nenulovými členy Maclaurinova polynomu s chybou menší než 0,001 ?

Výsledky

1. a) -14, 6; b) 0, 11/8; c) 0, $8 \frac{\sin 2}{\cos^3 2}$; d) 0, $\frac{-2}{e}$;

3. a) $360x^2 + 120$, b) $72072x^{-15}$, c) $\frac{4}{(x-1)^3}$, d) 408 240, e) $120(1+x)^3$;

4. a) $\frac{m!}{(m-n)!} b^n (a+bx)^{m-n}$, b) $\frac{(-1)^n n! b^n}{(a+bx)^{n+1}}$, c) $(-1)^n \frac{(2n-1)!! b^n}{2^n (a+bx)^n \sqrt{a+bx}}$, d) $p^n \sin(px + n\pi/2)$;

5. $v = A\alpha^2 t e^{-\alpha t}$, $a = A\alpha^2 e^{-\alpha t} (\alpha t - 1)$;

6. $a = \frac{mrv_0^2}{(m+rv_0 t)^2}$, $f = ma = r \left(\frac{mv_0}{m+rv_0 t} \right)^2$;

7. a) -0,048; b) -0,01; c) 0,02; d) $-\frac{1}{2048} \ln 2$;

8. a) $p(x) = \frac{1}{3}(25x - 10)$, b) $p(x) = x$, c) $p(x) = 1 - \frac{\sqrt{2}}{2}x$, d) $p(x) = \frac{\pi^2}{2}(x - \pi)$;

9. a) $-5 + 10(x-2) + 21(x-2)^2 + 8(x-2)^3 + (x-2)^4$, b) $999805 + 29998(x-100) + 300(x-100)^2 + (x-100)^3$;

10. a) $1 + 2x + 2x^2$, b) $x + \frac{1}{3}x^3 + \frac{2}{15}x^5$, c) $x^3 - \frac{1}{2}x^5$, d) $x - x^2 + \frac{1}{2}x^3 - \frac{1}{6}x^4$, e) $-\frac{1}{2}x^2 - \frac{1}{12}x^4 - \frac{1}{45}x^6$;

12. 5; 12. a) $x < 0,03162$ b) $x < 0,14424$.

3.6 Optimalizace

V praktických situacích se obvykle snažíme najít optimální řešení konkrétního problému – nejkratší, resp. nejrychlejší cestu, kterou se dostaneme na nějaké místo, tvar výrobku s ohledem na minimální spotřebu materiálu a podobně. I v řešení těchto problémů nám

pomůže diferenciální počet; jak, to uvidíme v této kapitole.

Lokální extrémy

Definice 3.78. Řekneme, že funkce f má v bodě x_0 **lokální maximum** (resp. **lokální minimum**), jestliže existuje okolí $\mathcal{U}(x_0) \subset D_f$ tak, že

$$x \in \mathcal{U}(x_0) \Rightarrow f(x) \leq f(x_0) \text{ (resp. } f(x) \geq f(x_0)\text{)}.$$

Platí-li v uvedených nerovnostech pro $x \neq x_0$ jen znak ostré nerovnosti, má funkce v bodě x_0 **ostré lokální maximum (minimum)**. Lokální maxima a minima nazýváme společným pojmem **lokální extrémy**.

V praxi mají největší význam zpravidla ostré lokální extrémy, proto pod pojmem „lokální extrémy“ budeme v dalším výkladu rozumět ostré lokální extrémy; v případě neostrých extrémů na to přímo upozorníme.

Z definice lokálního extrému vyplývá: Má-li funkce f v bodě x_0 lokální maximum (minimum), potom zúžení funkce na jisté okolí $\mathcal{U}(x_0)$ má v x_0 největší (nejmenší) hodnotu. Je-li navíc funkce na $\mathcal{U}(x_0)$ diferencovatelná, musí podle Fermatovy věty platit $f'(x_0) = 0$. Může se ovšem stát, že funkce v bodě, ve kterém má lokální extrém, není diferencovatelná – například $|x|$ má jistě v bodě $x_0 = 0$ minimum (pouze zde nabývá hodnoty 0, ve všech bodech $x \neq 0$ je $|x| > 0 = |0|$), a přitom $|x|'$ v nule neexistuje. Proto platí následující věta:

Věta 3.79. (Nutná podmínka pro lokální extrém) *Jestliže funkce f má v bodě x_0 lokální extrém, potom $f'(x_0) = 0$ nebo $f'(x_0)$ neexistuje.*

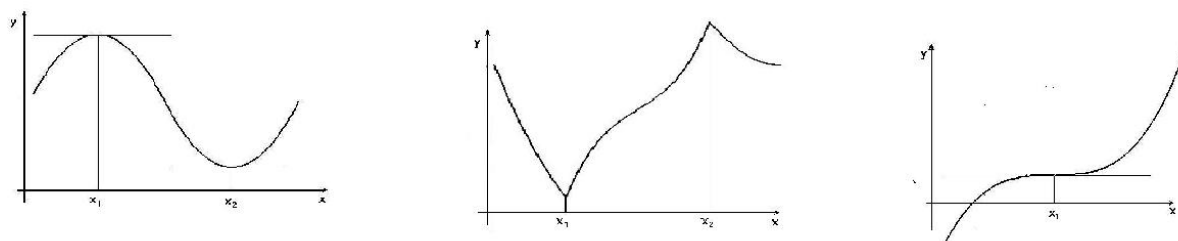
Definice 3.80. Bod x_0 , ve kterém je $f'(x_0) = 0$, se nazývá **stacionární bod** funkce f .

Z věty 3.79 vyplývá, že diferencovatelná funkce může mít extrém pouze ve stacionárním bodě, ale extrém zde mít nemusí; navíc extrém může nastat i v bodě, kde funkce není diferencovatelná. V obrázku 3.32 vidíme nalevo funkci, která má extrémy ve stacionárních bodech, uprostřed funkci, která má extrémy v bodech, kde derivace neexistuje, a napravo funkci, která ve stacionárním bodě extrém nemá.

Věta 3.81. (Postačující podmínka pro lokální extrém ve stacionárním bodě) *Nechť funkce f má druhou derivaci ve svém stacionárním bodě x_0 . Je-li $f''(x_0) > 0$, nastává v bodě x_0 lokální minimum, je-li $f''(x_0) < 0$, nastává v bodě x_0 lokální maximum.*

Naznačení důkazu, který plyne z Taylorovy věty, ukážeme v části Pro zájemce na konci kapitoly.

Příklad 3.82. Vyšetřeme lokální extrémy funkce $f : f(x) = x^3 + 3x^2 - 9x + 1$.



Obr. 3.32: Stacionární body a extrémy

Řešení.

$$f'(x) = 3x^2 + 6x - 9, \quad f''(x) = 6x + 6.$$

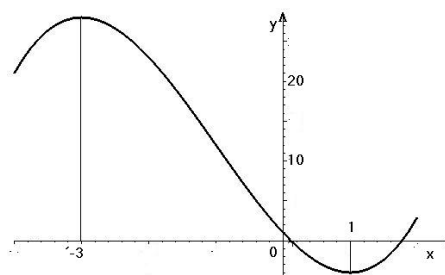
Stacionární body dostaneme z podmínky $f'(x) = 0$, tedy

$$3(x^2 + 2x - 3) = 0 \Rightarrow x_1 = 1, \quad x_2 = -3.$$

Protože $f''(1) = 12 > 0$, $f''(-3) = -12 < 0$, nastává v bodě $x_1 = 1$ lokální minimum a v bodě $x_2 = -3$ lokální maximum s hodnotami

$$f_{\min} = f(1) = -4, \quad f_{\max} = f(-3) = 28.$$

□

Obr. 3.33: $f(x) = x^3 + 3x^2 - 9x + 1$.

V případě, že ve stacionárním bodě x_0 je $f''(x_0) = 0$, věta 3.81 o lokálním extrému nerozhodne. Je-li však f dostatečně mnohokrát diferencovatelná v bodě x_0 , můžeme použít následující větu:

Věta 3.83. *Nechť ve stacionárním bodě x_0 funkce f je*

$$\begin{aligned} f^{(k)}(x_0) &= 0 \quad \text{pro } k = 1, 2, \dots, n-1, \\ f^{(n)}(x_0) &\neq 0. \end{aligned}$$

Je-li n sudé, nastává v x_0 lokální extrém, a to lokální maximum (resp. minimum) pro $f^{(n)}(x_0) < 0$ (resp. $f^{(n)}(x_0) > 0$). Je-li n liché, extrém v x_0 nenastane.

Naznačení důkazu, který opět plyne z Taylorovy věty, ukážeme v části Pro zájemce na konci kapitoly.

Příklad 3.84. Máme vyšetřit lokální extrémy funkce $f : f(x) = \frac{1}{6}x^6 + \frac{1}{12}x^4 + 2$.

Žádnou z postačujících podmínek pro extrém, které využívají derivací vyšších řádů, pochopitelně nemůžeme použít, když první derivace neexistuje. V tomto případě použijeme druhý důsledek Lagrangeovy věty - pro bod „podezřelý z extrému“ vyšetříme znaménko první derivace nalevo a napravo od tohoto bodu, čímž zjistíme, kde funkce roste a kde klesá a odtud je již jakost extrému i jeho existence zřejmá:

Řešení.

$$f'(x) = x^5 + \frac{1}{3}x^3, \quad f''(x) = 5x^4 + x^2,$$

$$f'''(x) = 20x^3 + 2x, \quad f^{(4)}(x) = 60x^2 + 2.$$

Stacionární body dostaneme z podmínky $x^3 \cdot (x^2 + \frac{1}{3}) = 0$, tedy f má jediný stacionární bod $x = 0$.

$$f''(0) = f'''(0) = 0, \quad f^{(4)}(0) = 2 > 0.$$

Protože nejnižší derivace, která je v bodě 0 různá od nuly je sudého řádu, nastává zde lokální extrém a to lokální minimum. \square

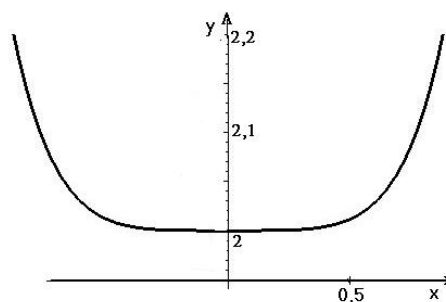
Pro $x \in (-\infty, -1) \cup (0, 1)$ je $f'(x) < 0$,
pro $x \in (-1, 0) \cup (1, \infty)$ je $f'(x) > 0$,
tedy na $(-\infty, -1)$ a $(0, 1)$ funkce klesá,
na $(-1, 0)$ a $(1, \infty)$ funkce roste.

Odtud plyne, že pro $x = 0$ má funkce lokální maximum s hodnotou

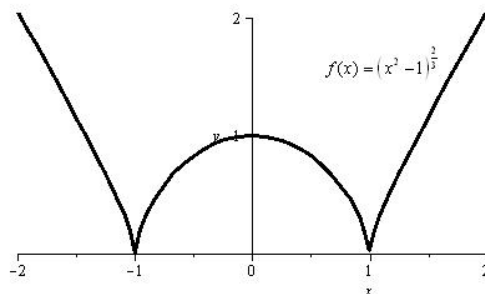
$$f_{max} = f(0) = 1,$$

pro $x = \pm 1$ má lokální minima s hodnotou

$$f_{min} = f(-1) = f(1) = 0.$$



Obr. 3.34: $f(x) = \frac{1}{6}x^6 + \frac{1}{12}x^4 + 2$



Obr. 3.35: $f(x) = (x^2 - 1)^{\frac{2}{3}}$

Příklad 3.85. Najděte lokální extrémy funkce $f(x) = (x^2 - 1)^{\frac{2}{3}}$.

Řešení.

$$f'(x) = \frac{2}{3}(x^2 - 1)^{-\frac{1}{3}} \cdot 2x = \frac{4}{3} \frac{x}{\sqrt[3]{x^2 - 1}} = \frac{4}{3} \frac{x}{\sqrt[3]{x - 1} \sqrt[3]{x + 1}}.$$

$$f'(x) = 0 \quad \text{pro } x = 0, \quad f'(x) \text{ neex. pro } x = \pm 1.$$

\square

Maplet pro výpočet lokálních extrémů funkcí najdete [zde](#); intervaly, na kterých daná funkce roste a kde klesá se dají najít pomocí [tohoto Mapletu](#).

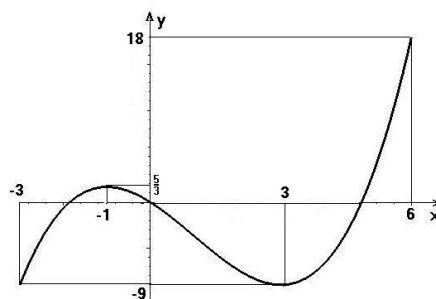
Absolutní (globální) extrémy

Weierstrassova věta zajišťuje existenci maxima a minima spojitě funkce f na uzavřeném intervalu \mathcal{J} . Tyto hodnoty nazýváme **největší** a **nejmenší hodnotou** funkce f na dané množině neboli **absolutními extrémy**. Svých absolutních extrémů může funkce nabýt jak v krajních bodech intervalu \mathcal{J} , tak v jeho vnitřních bodech. Proto pro nalezení absolutních extrémů je třeba porovnat hodnoty funkce v bodech jejích lokálních extrémů a v krajních bodech intervalu \mathcal{J} .

Příklad 3.86. Máme najít absolutní extrémy funkce $f : f(x) = \frac{1}{3}x^3 - x^2 - 3x$ na intervalu $\langle -3, 6 \rangle$.

Řešení.

Daná funkce je na intervalu $\langle -3, 6 \rangle$ spojitá a má na něm derivace f' a f'' . Přitom je $f'(x) = x^2 - 2x - 3$, $f''(x) = 2x - 2$. Stacionární body funkce jsou $x_1 = -1$, $x_2 = 3$. Oba leží uvnitř intervalu $\langle -3, 6 \rangle$. Protože $f''(-1) = -4 < 0$, má funkce f v bodě $x_1 = -1$ ostré lokální maximum s hodnotou $f(-1) = \frac{5}{3}$. Dále je $f''(3) = 4 > 0$, a proto má funkce f v bodě $x_2 = 3$ ostré lokální minimum s hodnotou $f(3) = -9$.



Obr. 3.36: $f(x) = \frac{1}{3}x^3 - x^2 - 3x$ na $\langle -3, 6 \rangle$.

Stanovíme hodnoty v krajních bodech intervalu: $f(-3) = -9$, $f(6) = 18$. Vidíme, že daná funkce f má na intervalu $\langle -3, 6 \rangle$ absolutní maximum o hodnotě 18 v bodě 6 a absolutní minimum o hodnotě -9 v bodě -3 a v bodě 3. \square

Na vyšetřování absolutních extrémů funkcí na intervalu vedou často i praktické úlohy – hledání optimální situace nějakého problému: nejmenší spotřeba materiálu, nejlevnější cena atd. V těchto situacích spočívá podstatná část úlohy v nalezení funkce, jejíž extrém se má najít, a intervalu, na kterém se má extrém hledat – tedy ve formalizaci úlohy:

Formalizaci slovní úlohy na extrém tvoří funkce, jejíž maximum (resp. minimum) hledáme, tzv. **účelová funkce**, a podmnožina definičního oboru této funkce, na které se má extrém realizovat.

Příklad 3.87. Letenka na vyhlídkový let stojí 100 Kč, jestliže se letu účastní od padesáti do sta pasažérů; za každou prodanou letenku nad sto se cena letenky (pro všechny pasažéry) snižuje o 50 hal. Letadlo má kapacitu 200 míst. Při jakém počtu pasažérů má letecká společnost největší zisk?

Řešení. Počet pasažérů označíme jako x , zřejmě je $x \in \langle 50, 200 \rangle$. Najdeme nejdříve funkci, která vyjadřuje cenu letenky v případě, kdy pasažérů je více než sto:

Je-li x počet pasažérů, je $x - 100$ počet pasažérů nad 100 a cena letenky se snižuje o $(x - 100) \cdot 0,5$ Kč. Cena letenky je tedy v tomto případě rovna $100 - (x - 100)/2$ Kč.

Nyní můžeme sestavit funkci, která vyjadřuje celkový zisk společnosti v závislosti na počtu účastníků letu, tedy formalizovat úlohu:

$$f(x) = \begin{cases} 100x & \text{pro } x \in \langle 50, 100 \rangle \\ (150 - \frac{x}{2})x & \text{pro } x \in \langle 100, 200 \rangle \end{cases} \longrightarrow \text{max.}$$

Poznamenejme, že funkce f je pro $x = 100$ (tedy na celém definičním oboru) spojitá. Určíme první derivaci:

$$f'(x) = \begin{cases} 100 & \text{pro } x \in (50, 100) \\ \text{neex.} & \text{pro } x = 100 \\ 150 - x & \text{pro } x \in (100, 200) \end{cases}$$

Funkce může mít absolutní maximum v bodech, ve kterých je první derivace nulová, nebo kde neexistuje; k ověření existence maxima použijeme znaménko 1. derivace:

$$\begin{aligned} f'(x) &= 0 && \text{pro } x = 150, \\ f'(x) &> 0 && \text{pro } x \in (50, 100) \text{ a } x \in (100, 150), \\ f'(x) &< 0 && \text{pro } x \in (150, 200). \end{aligned}$$

Účelová funkce tedy roste pro $x \in (50, 150)$ a klesá pro $x \in (150, 200)$, tj. má absolutní maximum pro $x = 150$ a toto maximum má hodnotu

$$\text{největší zisk} = f(150) = 150^2 - \frac{1}{2}150^2 = 11250.$$

Poznamenejme, že absolutního minima nabude v některém krajním bodě intervalu:

$$f(50) = 5000, \quad f(200) = 150 \cdot 200 - \frac{1}{2}200^2 = 10000;$$

nejmenší zisk dosáhne letecká společnost při padesáti pasažérech. □

Příklad 3.88. Máme najít rozměry uzavřené plechové konzervy tvaru rotačního válce, která má daný objem V tak, aby hmotnost obalu (při konstantní dané tloušťce plechu, ze kterého je vyrobena) byla co nejmenší.

Řešení. Označíme r poloměr a h výšku konzervy. Její objem je $V = \pi r^2 h$. Rozměry budou z hlediska hmotnosti obalu nejvýhodnější, jestliže povrch konzervy $S = 2\pi r^2 + 2\pi r h$ bude při daném objemu co nejmenší. Vidíme, že povrch S je funkcí dvou proměnných r a h . Ze vzorce pro objem plyne pro výšku $h = V/(\pi r^2)$. Po dosazení do vzorce pro povrch dostaneme

$$S = 2\pi r^2 + \frac{2V}{r}.$$

Tím je vyjádřen povrch S jako funkce jedné proměnné r .

Formalizace úlohy:

$$S(r) = 2\pi r^2 + \frac{2V}{r} \quad \longrightarrow \quad \min, \\ r \in (0, \infty).$$

(Interval, na kterém extrém hledáme, je otevřený. Obecně se tedy může stát, že maximum nebo minimum neexistuje.)

Najdeme stacionární body účelové funkce:

$$\frac{dS}{dr} = 4\pi r - \frac{2V}{r^2} = \frac{4\pi r^3 - 2V}{r^2}.$$

Řešením rovnice $4\pi r^3 - 2V = 0$ zjistíme, že jediným stacionárním bodem je bod

$$r_o = \sqrt[3]{\frac{V}{2\pi}}.$$

Dále je

$$\frac{d^2S}{dr^2} = 4\pi + \frac{4V}{r^3}, \quad \frac{d^2S}{dr^2}\Big|_{r=r_o} = 12\pi > 0$$

– funkce S tedy má na intervalu $(0, \infty)$ nejmenší hodnotu právě v bodě r_o . Příslušná výška pro tento poloměr je

$$h_o = 2\sqrt[3]{\frac{V}{2\pi}} = 2r_o.$$

Vidíme, že osový řez konzervy je čtverec.

Připomeňme, že jsme účelovou funkci vyšetřovali na otevřeném intervalu $r \in (0, \infty)$; (jednostranné) limity v krajních bodech jsou nevlastní – svého maxima funkce nenabude, roste nad libovolnou mez.

□

Příklad 3.89. Z válcovitého kmenu s kruhovým průřezem o poloměru r se má vytesat trám co největší nosnosti. Nosnost trámu je určena vztahem $y = k \cdot s \cdot v^2$, kde k je materiálová konstanta daného druhu dřeva, s je šířka a v výška průřezu trámu. Jaké rozměry má mít trám, aby jeho nosnost byla maximální?

Řešení. Nechť P značí polohu parníku a J polohu jachty v čase t . Pak pro délky drah parníku \overline{AP} a jachty \overline{BJ} v tomto čase platí

$$\overline{AP} = 40 \cdot t \text{ km}, \quad \overline{BJ} = 16 \cdot t \text{ km}.$$

Pro vzdálenost \overline{PJ} v tomto čase (v kilometrech) podle Pythagorovy věty platí

$$\overline{PJ} = \sqrt{\overline{BP}^2 + \overline{BJ}^2}.$$

Odtud

$$\overline{PJ} = \sqrt{1856t^2 - 11666t + 21025}.$$

Tato odmocnina nabude nejmenší hodnoty při stejném t jako výraz pod odmocninou.

Formalizace úlohy:

$$f(t) = 1856t^2 - 11666t + 21025 \quad \longrightarrow \quad \min, \\ t \in (0, \infty).$$

Hledáme stacionární body účelové funkce:

$$f'(t) = 3712t - 11600, \quad f'(t) = 0 \quad \text{pro} \quad t_0 = \frac{11600}{3712} = 3,125(\text{hodin});$$

Řešení.

Vztah pro nosnost je závislý na dvou proměnných s a v ; jedinou známou hodnotou v zadání je r – pomocí něj a jedné proměnné vyjádříme druhou. Průřezem trámu bude zřejmě obdélník (viz obr. vlevo) a z Pythagorovy věty dostáváme $v^2 = 4r^2 - s^2$. Můžeme dosadit do vztahu pro nosnost a dostáváme

$$y = k \cdot s \cdot (4r^2 - s^2).$$

Formalizace úlohy:

$$y(s) = k \cdot (4sr^2 - s^3) \quad \longrightarrow \quad \max, \\ s \in (0, 2r).$$

Hledáme stacionární body účelové funkce:

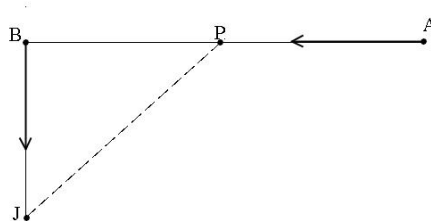
$y' = k(4r^2 - 3s^2)$, $y' = 0$ pro $s = 2r\sqrt{\frac{k}{3}}$ (záporná hodnota nevyhovuje podmínce). Pomocí druhé derivace ověříme, zda ve stacionárním bodě nastane skutečně maximum účelové funkce:

$y'' = -6k \cdot s < 0$ pro všechna, tedy i pro nalezené s – nosnost trámu je pro toto s největší.

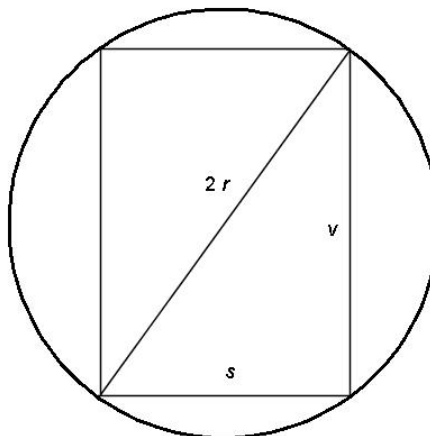
Ještě vypočítáme druhý rozměr trámu: $v = 2r\sqrt{1 - \frac{k}{3}}$.

□

Příklad 3.90. Přístavy A, B jsou od sebe vzdáleny 145 km. Z přístavu A vyjede parník a současně ve stejném okamžiku vyjede z přístavu B jachta (ve směrech určených šipkami). Jejich rychlosti jsou stálé, a to pro parník $v_p = 40 \text{ km/h}$, pro jachtu $v_j = 16 \text{ km/h}$. Na jakou nejmenší vzdálenost se k sobě během plavby přiblíží?



Obr. 3.38: Parník a jachta



Obr. 3.37: Průřez trámem

pomocí druhé derivace se přesvědčíme, že zde má účelová funkce minimum:

$$f''(t) = 3712 > 0.$$

Určíme vzdálenost plavidel v tomto čase:

$$\sqrt{f(t_0)} = 10\sqrt{29} \doteq 53,85(km).$$

Parník a jachta budou mít nejmenší vzdálenost $53,85km$ za 3 hodiny 7 minut a 30 sekund od vyplutí. \square

Shrnutí

V kapitole o optimalizaci jsme se věnovali důležitému praktickému problému – nalezení optimální hodnoty funkce. Definovali jsme:

- lokální maximum (resp. minimum) funkce: největší (resp. nejmenší) hodnota, které funkce nabývá na jistém intervalu,
- lokální extrém: lokální maximum nebo minimum,
- absolutní nebo globální maximum (resp. minimum) funkce na množině M : největší (resp. nejmenší) hodnota, které funkce nabývá na množině M ;

ukázali jsme, jak nalezneme body, ve kterých může nastat lokální extrém, a jak rozhodnout, zda extrém skutečně nastane:

- nutná podmínka pro lokální extrém: má-li f v bodě x_0 lokální extrém, je buď $f'(x_0) = 0$ (tedy x_0 je stacionární bod funkce f), nebo $f'(x_0)$ neexistuje,
- postačující podmínka pro lokální maximum (resp. minimum): $f''(x_0) < 0$ (resp. $f''(x_0) > 0$) ve stacionárním bodě funkce f ,
- jiná postačující podmínka pro lokální maximum (resp. minimum): pro $x < x_0$ funkce f roste a zároveň pro $x > x_0$ klesá (resp. pro $x < x_0$ funkce f klesá a zároveň pro $x > x_0$ funkce f roste),

při hledání globálních extrémů funkce na intervalu je třeba nalézt všechny body lokálních extrémů funkce a funkční hodnoty v nich porovnat s hodnotami v krajních bodech intervalu; největší z těchto hodnot je globální maximum, nejmenší je globální minimum;

ukázali jsme postup řešení praktických optimalizačních úloh, který spočívá

- v formalizaci úlohy, tj. v sestavení účelové funkce a nalezení oboru, na kterém se optimum hledá,
- v nalezení (absolutních) extrémů účelové funkce na nalezeném oboru.

Otázky a úkoly

1. Kdy řekneme, že funkce f má v bodě x_0 lokální maximum (minimum)?
2. Co je to stacionární bod funkce?
3. Jaká je nutná podmínka pro lokální extrém?

4. Jak zjistíme, zda ve stacionárním bodě funkce nastane extrém?
5. Jak zjistíme, zda v bodě, ve kterém funkce nemá derivaci, nastane extrém?
6. Co jsou to absolutní (globální) extrémy funkce na intervalu?
7. Načrtněte grafy funkcí, pro které platí:
 - a) absolutní maximum funkce f na intervalu $\langle -2, 2 \rangle$ je rovno 3 a absolutní minimum neexistuje,
 - b) absolutní maximum funkce f na intervalu $(-2, 2)$ neexistuje a absolutní minimum je rovno 2,
 - c) absolutní maximum funkce f na intervalu $(-2, 2)$ je rovno 4 a absolutní minimum je rovno 2,
 - d) absolutní maximum funkce f na intervalu $\langle -2, 2 \rangle$ neexistuje a absolutní minimum neexistuje;
8. Musí platit, že mezi libovolnými dvěma lokálními maximy funkce (body, ve kterých nastane lokální maximum funkce) leží vždy bod, ve kterém má tato funkce lokální minimum? Jestliže ne, uveďte protipříklad a podmínky, za kterých tvrzení platí.
9. Uvažujme funkce f_c tvaru $f_c(x) = x^3 + cx + 1$, kde c je konstanta. Kolik lokálních extrémů a jakých (v závislosti na c) může funkce tohoto typu mít?
10. Zjistěte, zda derivace každé monotonní funkce musí být monotonní. Jako příklad zvolte funkci $f(x) = x + \sin x$.
11. Načrtněte grafy funkcí s následujícími vlastnostmi:
 - a) $f(0) = 1$, $f(2) = 5$, $f'(x) < 0$ pro $x < 0 \vee x > 2$, $f'(x) > 0$ pro $0 < x < 2$,
 - b) $f(-1) = 1$, $f(2) = 5$, $f'(x) < 0$ pro $x < -1 \vee x > 2$, $f'(x) > 0$ pro $-1 < x < 2$, $f'(-1) = 0$, $f'(0)$ neexistuje,
 - c) $f(3) = 0$, $f'(x) < 0$ pro $x < 0 \vee x > 3$, $f'(x) > 0$ pro $0 < x < 3$, $f'(3) = 0$, $f(0)$ a $f'(0)$ neexistuje,
 - d) $f(1) = 0$, $\lim_{x \rightarrow \infty} f(x) = 2$, $f'(x) < 0$ pro $x < 1$, $f'(x) > 0$ pro $x > 1$, $f'(1) = 0$.

Cvičení

1. Najděte všechny intervaly největší délky, na kterých jsou následující funkce ryze monotónní:

$$\begin{array}{ll}
 a) & f(x) = x^3 - x, & b) & f(x) = x^5 - 15x^3 + 3, \\
 c) & f(x) = \frac{x}{1+x^2}, & d) & f(x) = |x+1| + |x-1|, \\
 e) & f(x) = \frac{4}{x} + \frac{1}{1-x}, & f) & f(x) = x + \frac{x}{x^2-1}, \\
 g) & f(x) = \frac{(x-1)^3}{(x+1)^2}, & h) & f(x) = x^2 - 1 + |x^2 - 1|, \\
 i) & f(x) = x^{2/3} - (x^2 - 1)^{1/3}, & j) & f(x) = \frac{x-3}{\sqrt{1+x^2}}, \\
 k) & f(x) = \sin x + \operatorname{tg} x + 2x, & l) & f(x) = \cos x + \frac{1}{2} \cos 2x, \\
 m) & f(x) = \ln \sqrt{1+x^2}, & n) & f(x) = \left(1 + \frac{1}{x}\right)^x.
 \end{array}$$

2. Stavovou rovnicí reálného plynu je možno popsat van der Waalsovou rovnicí

$$p = \frac{RT}{V-b} - \frac{a}{v^2}$$

kde p je tlak, V objem plynu, R plynová konstanta, T teplota v K a a, b jsou konstanty charakterizující příslušný plyn. Dokažte, že pro teplotu $T > T_k$, kde T_k je kritická teplota $T_k = 8a/27bR$, je tlak klesající funkcí objemu V .

3. Najděte lokální extrémů následujících funkcí:

$$\begin{array}{ll}
 a) & f(x) = x^2(x-6), & b) & f(x) = 4x^3 - 18x^2 + 27x - 7, \\
 c) & f(x) = -x^4 - 2x^2 + 3, & d) & f(x) = x(x-1)^2(x-2)^3, \\
 e) & f(x) = x - \frac{1}{x}, & f) & f(x) = \frac{x^2}{2} + \frac{8}{x^3}, \\
 g) & f(x) = x + \frac{2x}{1+x^2}, & h) & f(x) = \frac{10}{4x^3 - 9x^2 + 6x}, \\
 i) & f(x) = x^3 + 2|x|, & j) & f(x) = 1 + \sqrt{|x|}, \\
 k) & f(x) = \sqrt{6x - x^2}, & l) & f(x) = (x^2 - 1)^{2/3}, \\
 m) & f(x) = \sin x + \cos x, & n) & f(x) = 4x - \operatorname{tg} x, \\
 o) & f(x) = x^2 e^{-x}, & p) & f(x) = e^{-x} \sin x, \\
 q) & f(x) = \frac{x}{\ln x}, & r) & f(x) = x - \ln(1+x).
 \end{array}$$

4. Najděte absolutní extrémy daných funkcí na daných intervalech:

$$a) \quad f(x) = x^2 - 6x + 10, \quad \langle -1, 5 \rangle,$$

$$b) \quad f(x) = x^3 - 3x + 20, \quad \langle -3, 3 \rangle,$$

$$c) \quad f(x) = x^5 - 5x^4 + 5x^2 + 1, \quad \langle -2, 1 \rangle,$$

$$d) \quad f(x) = |x^2 - 6x + 5|, \quad \langle -5, 5 \rangle,$$

$$e) \quad f(x) = x + \frac{1}{x-1}, \quad \langle -4, 0 \rangle,$$

$$f) \quad f(x) = x + \frac{2x}{x^2-1}, \quad \langle 1, 01, 2 \rangle.$$

5. Číslo 28 rozložte na dva sčítance tak, aby jejich součin byl největší.
6. Najděte takové kladné číslo, aby součet tohoto čísla a jeho převrácené hodnoty byl nejmenší.
7. Jsou dána čísla a, s ($0 < a < s$). Mezi všemi trojúhelníky, které mají obvod $2s$ a stranu a , najděte trojúhelník s největším obsahem.
8. Jaké rozměry musí mít pravoúhlý rovnoběžník daného obvodu s , aby jeho úhlopříčka byla nejmenší?
9. Dokažte, že ze všech obdélníků daného obsahu má čtverec nejmenší obvod.
10. Dokažte, že ze všech obdélníků daného obvodu má čtverec největší obsah.
11. Na parabole $y = 4x - x^2$ najděte bod, který je nejbližší k bodu $A = [-1, 4]$.
12. Drát délky a máme rozdělit na dvě části, ze kterých první ohneme do tvaru čtverce a druhou do tvaru kruhu. Kde je třeba udělat řez, aby součet obsahů kruhu a čtverce byl největší?
13. Karton tvaru obdélníka má rozměry 60 cm \times 28 cm. V rozích nastříhneme čtverce a zbytek ohneme do otevřené krabice. Jak velká má být strana nastříhnutých čtverců, aby objem krabice byl největší?
14. Muž v loďce je vzdálený 9,5 km od pobřeží v bodě C . Chce se dostat do místa A na pobřeží, které je od něj vzdálené 16 km. Umí veslovat rychlostí 3,2 km/h a jít rychlostí 6,4 km/h. Zjistěte, kde se musí vyložit, aby dosáhl bodu A v nejkratším čase a jak dlouho mu to potrvá.
15. Parník pohybující se rovnoměrně rychlostí v (v km/h) spotřebuje za hodinu $0,3 + 0,00002v^3$ nafty (v m^3). Jakou rychlostí se má pohybovat, aby na dané dráze spotřeboval co nejméně nafty?

Výsledky

1. a) $(-\infty, -1/\sqrt{3}), (1/\sqrt{3}, \infty)$ roste, $(-1/\sqrt{3}, 1/\sqrt{3})$ klesá, b) $(-\infty, -3), (3, \infty)$ roste, $(-3, 3)$ klesá, c) $(-\infty, -1), (1, \infty)$ klesá, $(-1, 1)$ roste, d) $(-\infty, -1)$ klesá, $(1, \infty)$ roste, e) $(-\infty, 0), (0, 2/3), (2, \infty)$ klesá, $(2/3, 1), (1, 2)$ roste, f) $(-\infty, -\sqrt{3}), (\sqrt{3}, \infty)$ roste, $(-\sqrt{3}, -1), (-1, 1), (1, \sqrt{3})$ klesá, g) $(-\infty, -5), (-1, \infty)$ roste, $(-5, -1)$ klesá, h) $(-\infty, -1)$ klesá, $(1, \infty)$ roste, i) $(-\infty, -1/\sqrt{2}), (0, 1/\sqrt{2})$ roste, $(-1/\sqrt{2}, 0), (1/\sqrt{2}, \infty)$ klesá, j) $(-1/3, \infty)$ roste, $(-\infty, -1/3)$ klesá, k) $(-\frac{\pi}{2} + 2k\pi, \frac{\pi}{2} + 2k\pi), (\frac{\pi}{2} + 2k\pi, \arccos \frac{1-\sqrt{5}}{2} + 2k\pi), (\pi \arccos \frac{\sqrt{5}-1}{2} + 2k\pi)k$ je celé číslo, roste, $(\arccos \frac{1-\sqrt{5}}{2} + 2k\pi, \pi + \arccos \frac{\sqrt{5}-1}{2} + 2k\pi)$, k je celé číslo, klesá, l) $(2k\pi, \frac{2\pi}{3} + 2k\pi), (\pi + 2k\pi, \frac{4\pi}{3} + 2k\pi)$, k celé číslo, klesá, $(\frac{2\pi}{3} + 2k\pi, \pi + 2k\pi), (\frac{4\pi}{3} + 2k\pi, 2\pi + 2k\pi)$, k celé číslo, roste, m) $(-\infty, -1), (0, \infty)$ roste, n) $(-\infty, 0)$ a $(0, \infty)$ roste;

3. a) max. 0 v $x = 0$, min. -32 v $x = 4$, b) neex., c) max. 3 v $x = 0$, d) max. 0 v $x = 1$, min. $\doteq -0,05$ v $x = (5 + \sqrt{13})/6$, min. $\doteq -0,76$ v $x = (5 - \sqrt{13})/6$, e) neex., f) min. $\sqrt[5]{24^2} - 8/\sqrt[5]{24^3}$ v $x = \sqrt[5]{24}$, g) neex., h) max. 10 v $x = 1$, min. 8 v $x = 1/2$, i) max. 0 v $x = 0$, min. $-4\sqrt{2}/3\sqrt{3}$ v $x = \sqrt{2/3}$, j) min. 1 v $x = 0$, k) max. 3 v $x = 3$, l) max. 1 v $x = 0$, min. 0 v $x = -1$ a v $x = 1$, m) max. $\sqrt{2}$ v $x = \frac{\pi}{4} + 2k\pi$, k celé, min. $-\sqrt{2}$ v $x = \frac{5\pi}{4} + 2k\pi$, k celé, n) min. $4(\frac{\pi}{3} + k\pi) - \sqrt{3}$ v $x = \frac{\pi}{3} + k\pi$, k celé, max. $4(\frac{2\pi}{3} + k\pi) + \sqrt{3}$ v $x = \frac{2\pi}{3} + k\pi$, k celé, o) min. 0 v $x = 0$, max. $4e^{-2}$ v $x = 2$, p) max. $\frac{\sqrt{2}}{2}e^{-\pi/4+2k\pi}$ v $x = \frac{\pi}{4} + 2k\pi$, min. $-\frac{\sqrt{2}}{2}e^{-5\pi/4+2k\pi}$ v $x = \frac{5\pi}{4} + 2k\pi$, q) min. e v $x = e$, r) min. 0 v $x = 0$;

4. a) max. 17 v $x = -1$, min. 1 v $x = 3$, b) min. 2 v $x = -3$, max. 38 v $x = 3$, c) min. -151 v $x = -2$, max. 2 v $x = 1$, d) max. 60 v $x = -5$, min. 0 v $x = 1$, e) max. -1 v $x = 0$, min. $-19/5$ v $x = -4$, f) max. $\doteq 101,5$ v $x = 1,01$, min. $10/3$ v $x = 2$;

5. 14, 14;

6. 1;

7. rovnoramenný trojúhelník se stranami $a, s - a/2, s - a/2$;

8. $a = s/4, b = s/4$;

11. [1, 3];

12. $x = 4a/(\pi + 4)$;

13. 6;

14. 6,464 km od A, 4,39 h;

15. 19,57 km/h.

3.7 Průběh funkce

Závěrem kapitoly o diferenciálním počtu ukážeme, jak výpočtem (pomocí limit a derivací) získáme dostatek informací pro představu, jak vypadá graf zadané funkce – budeme zkoumat její průběh.

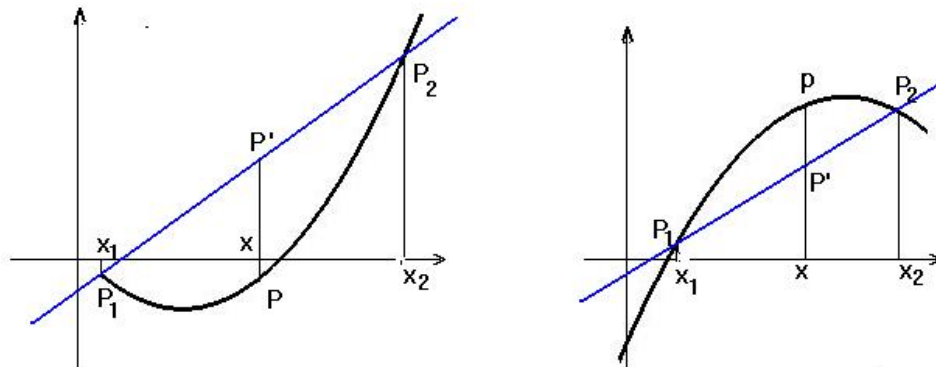
V předchozím textu jsme pro naše výpočty používali limit a prvních derivací; nyní si všimneme, co nám o chování funkce řekne druhá derivace:

Konvexnost a konkávnost funkce, inflexní body

Definice 3.91. Funkce f , definovaná na $\mathcal{J} \subset \mathbb{R}$ se nazývá *konvexní* (resp. *konkávní*) na \mathcal{J} , má-li tuto vlastnost:

Jsou-li $x_1, x, x_2 \in \mathcal{J}$ libovolné tři body takové, že $x_1 < x < x_2$, potom bod $P = [x, f(x)]$ leží buď pod (resp. nad) přímkou P_1P_2 , kde $P_1 = [x_1, f(x_1)], P_2 = [x_2, f(x_2)]$

Myšlenka definice je znázorněna v obr. 3.39, kde je nalevo konvexní a napravo konkávní funkce.



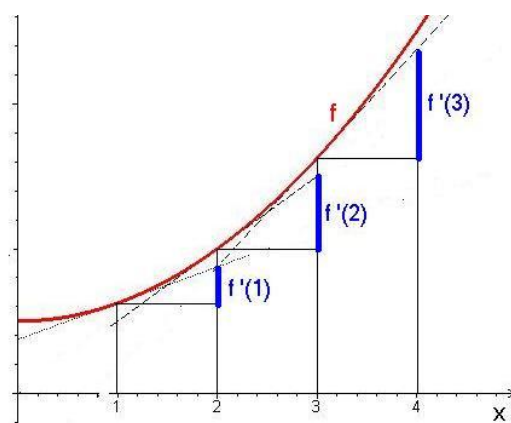
Obr. 3.39: Konvexní a konkávní funkce

Pro diferencovatelnou funkci je možno použít jednodušší definici: Funkce f je v intervalu \mathcal{J} konvexní (resp. konkávní), leží-li graf funkce pro $x \in \mathcal{J}$ nad (resp. pod) tečnou, vedenou k tomuto grafu libovolným bodem $[x, f(x)]$, $x \in \mathcal{J}$.

Pro vyšetřování konvexnosti je důležitá následující (dost názorná) věta, jejíž pravdivost demonstrujeme v sousedním obrázku:

Věta 3.92. Nechť funkce f je spojitá na \mathcal{J} a diferencovatelná na \mathcal{J}_0 . Potom

- f je konvexní na \mathcal{J} , právě když f' roste na \mathcal{J}_0 ,
- f je konkávní na \mathcal{J} , právě když f' klesá na \mathcal{J}_0 .



Obr. 3.40: f konvexní – f' roste

Z vět 3.92 a 3 bezprostředně plyne

Věta 3.93. Nechť funkce f je dvakrát diferencovatelná na \mathcal{J} . Potom f je na \mathcal{J} konvexní (resp. konkávní), právě když $f''(x) \geq 0$ (resp. $f''(x) \leq 0$) na \mathcal{J}_0 , přičemž není $f''(x) = 0$ na žádném podintervalu intervalu \mathcal{J} .

Definice 3.94. Nechť funkce f je diferencovatelná v bodě x_0 . Řekneme, že f má v bodě x_0 **inflexi** a bod x_0 nazveme **inflexním bodem** funkce f , jestliže existuje $\varepsilon > 0$ tak, že f je konvexní na intervalu $(x_0 - \varepsilon, x_0)$ a konkávní na intervalu $(x_0, x_0 + \varepsilon)$, nebo je f konkávní na intervalu $(x_0 - \varepsilon, x_0)$ a konvexní na intervalu $(x_0, x_0 + \varepsilon)$.

Z vět 3.79 a 3.92 plyne

Věta 3.96. (Nutná podmínka pro inflexi) Je-li x_0 inflexním bodem funkce f , potom buď $f''(x_0) = 0$, nebo $f''(x_0)$ neexistuje.

Příklad 3.95. Funkce

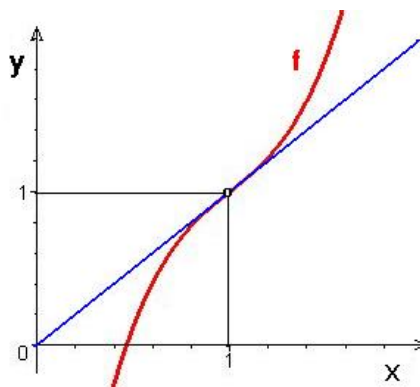
$$f : f(x) = 3(x - 1)^3 + x$$

má inflexi v bodě $x_0 = 1$ – viz obr. 3.41:

$$f'(x) = 9(x - 1)^2 + 1, \quad f''(x) = 18(x - 1).$$

Pro $x > 1$ je $f''(x) > 0$ a f je konvexní,

pro $x < 1$ je $f''(x) < 0$ a f je konkávní.



Obr. 3.41: $f(x) = 3(x - 1)^3 + x$

Analogicky jako u lokálních extrémů platí

Věta 3.97. (Postačující podmínka pro inflexi) *Nechť*

$$f^{(k)}(x_0) = 0 \quad \text{pro } k = 2, 3, \dots, n - 1, \quad f^{(n)}(x_0) \neq 0.$$

Je-li n liché, potom x_0 je inflexní bod funkce f , je-li n sudé, v x_0 inflexe nenastane.

Příklad 3.98. Máme najít inflexní body funkce $f : f(x) = e^{-x^2} + 2x$.

Řešení. $f''(x) = 2e^{-x^2}(2x^2 - 1)$;

$$f''(x) = 0 \Leftrightarrow 2x^2 - 1 = 0;$$

Této podmínce vyhovují body

$$x_1 = \frac{1}{\sqrt{2}}, \quad x_2 = -\frac{1}{\sqrt{2}}.$$

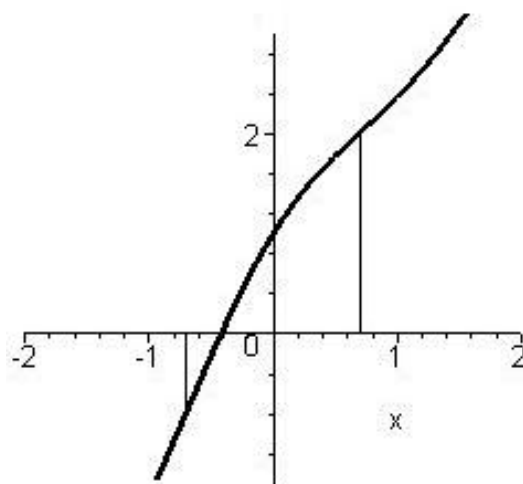
Dále je $f'''(x) = -4e^{-x^2}(2x^3 - 3x)$,

$$f'''(x_1) = 4\sqrt{2}e^{-\frac{1}{2}} \neq 0,$$

$$f'''(x_2) = -4\sqrt{2}e^{-\frac{1}{2}} \neq 0.$$

Proto $\frac{1}{\sqrt{2}}$, $-\frac{1}{\sqrt{2}}$ jsou inflexní body funkce f .

□



Obr. 3.42: $f(x) = e^{-x^2} + 2x$

Pro nalezení inflexních bodů a intervalů, kde je funkce konvexní a kde konkávní, lze použít [tento Maplet](#).

Vyšetření průběhu funkce

Vyšetřit průběh funkce znamená získat dostatek informací o nejvýznamnějších jejích vlastnostech zmíněných v předchozím textu: Kromě určení oboru definice, bodů nespojitosti, nulových bodů a určení významných limit se jedná hlavně o určení intervalů monotonie, lokálních a absolutních extrémů, intervalů konvexnosti a konkávnosti, inflexních bodů, asymptot a konečně o načrtnutí grafu funkce.

Postupujeme obvykle podle tohoto schématu:

- I. (a) Definiční obor D_f funkce f .
 - (b) Body nespojitosti; intervaly spojitosti.
 - (c) Průsečíky se souřadnými osami.
 - (d) Symetrie grafu funkce (sudá, lichá), periodičnost funkce.
 - (e) Chování funkce v okolí bodů nespojitosti a svislé asymptoty.
 - (f) Chování v nekonečnu, asymptoty se směrnicí.
- II. Interval monotónnosti; body extrému a extrémy.
- III. Interval konvexnosti a konkávnosti; inflexní body.

Příklad 3.99. Vyšetříme průběh funkcí

$$a) \quad f(x) = \frac{x^3}{4-x^2} \qquad b) \quad f(x) = \sqrt[3]{x^2} - x \qquad c) \quad f(x) = x e^{1/x}$$

Řešení.

- a) I. (a) $f(x) = \frac{x^3}{4-x^2}$: Definiční obor $D_f = (-\infty, -2) \cup (-2, 2) \cup (2, \infty)$.
- (b) Body nespojitosti; intervaly spojitosti – ve svém definičním oboru je funkce spojitá.
- (c) $f(x) = 0$ pro $x = 0$.
- (d) Funkce je lichá: $f(-x) = \frac{(-x)^3}{4-(-x)^2} = -\frac{x^3}{4-x^2} = -f(x)$.
Graf funkce f je tedy souměrný podle počátku a budeme ji vyšetřovat pouze na množině $\langle 0, 2 \rangle \cup (2, \infty)$.
- (e) Chování funkce v okolí bodů nespojitosti a vertikální asymptoty:

$$\lim_{x \rightarrow 2^-} f(x) = \lim_{x \rightarrow 2^-} \frac{x^3}{x+2} \cdot \frac{1}{2-x} = 2 \lim_{x \rightarrow 2^-} \frac{1}{2-x} = \left[2 \cdot \frac{1}{0^+} \right] = \infty,$$

analogicky

$$\lim_{x \rightarrow 2^+} f(x) = \lim_{x \rightarrow 2^+} \frac{x^3}{x+2} \cdot \frac{1}{2-x} = 2 \lim_{x \rightarrow 2^+} \frac{1}{2-x} = \left[2 \cdot \frac{1}{0^-} \right] = -\infty.$$

Funkce f tedy má v bodě $x = 2$ (a také v bodě $x = -2$) svislou asymptotu.

(f) Chování v nekonečnu, asymptoty se směrnicí:

$$a = \lim_{x \rightarrow \infty} \frac{f(x)}{x} = \lim_{x \rightarrow \infty} \frac{x^2}{4-x^2} = \lim_{x \rightarrow \infty} \frac{1}{\frac{4}{x^2}-1} = -1,$$

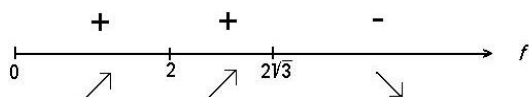
$$b = \lim_{x \rightarrow \infty} (f(x) - ax) = \lim_{x \rightarrow \infty} \left(\frac{x^3}{4-x^2} + x \right) = \lim_{x \rightarrow \infty} \frac{4x}{4-x^2} = |\text{L'H pravidlo}| = 0.$$

Šikmá asymptota pro $x \rightarrow \infty$ je tedy přímka $y = -x$.

II. Intervaly monotónnosti; body extrému a extrémy. Pro $x \geq 0$ platí:

$$f'(x) = \frac{3x^2(4-x^2) - (-2x)x^3}{(4-x^2)^2} = \frac{x^2(12-x^2)}{(4-x^2)^2}$$

$f'(x) = 0$ pro $x = 0$ a $x = 2\sqrt{3}$, derivace neexistuje v bodě $x = 2$ (pochopitelně, není tam definovaná). Vyšetříme znaménko derivace; nakreslíme na číselné ose body, ve kterých může derivace f' funkce f měnit znaménko a nad číselnou osu příslušná znaménka. Pod osou vyznačíme, kde funkce f roste a kde klesá:



Obr. 3.43: Znaménko derivace funkce $f(x) = \frac{x^3}{4-x^2}$

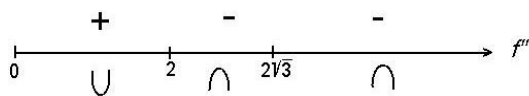
Vidíme, že funkce f má maximum v bodě $x = 2\sqrt{3}$. Jeho hodnota je $f(2\sqrt{3}) = -3\sqrt{3}$.

III. Intervaly konvexnosti a konkávnosti; inflexní body.

$$f''(x) = \frac{(24x - 4x^3)(4-x^2)^2 - 2(4-x^2)(-2x)(12x^2 - x^4)}{(4-x^2)^4} = \frac{8x(12+x^2)}{(4-x^2)^3}.$$

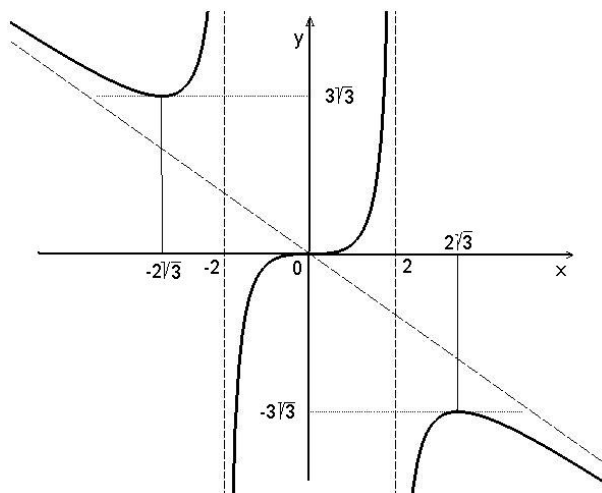
$f''(x) = 0$ pro $x = 0$; z lichosti funkce f plyne, že je to inflexní bod.

Vyšetříme znaménko druhé derivace; nakreslíme na číselné ose body, ve kterých může druhá derivace f'' měnit znaménko a nad číselnou osu příslušná znaménka. Pod osou vyznačíme, kde je funkce f konvexní a kde konkávní:



Obr. 3.44: Znaménko druhé derivace funkce $f(x) = \frac{x^3}{4-x^2}$

Závěrem, s využitím všech získaných vlastností funkce f , načrtne její graf (pro $x < 0$ využijeme symetrie podle počátku):

Obr. 3.45: Graf funkce $f(x) = \frac{x^3}{4-x^2}$

- b) I. (a) $f(x) = \sqrt[3]{x^2} - x$: Definiční obor $D_f = \mathbb{R}$,
 (b) funkce f je spojitá na celém \mathbb{R} .
 (c) Průsečíky se souřadnými osami:

$$f(x) = 0 \Leftrightarrow \sqrt[3]{x^2}(1 - \sqrt[3]{x}) = 0 : f^{-1}(\{0\}) = \{0, 1\}.$$

- (d) Funkce není ani sudá, ani lichá, ani periodická.
 (e) Funkce nemá svislé asymptoty
 (f) Chování v nekonečnu, asymptoty se směrnici:

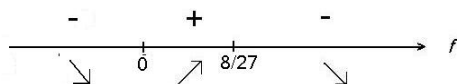
$$a = \lim_{x \rightarrow \pm\infty} \frac{f(x)}{x} = \lim_{x \rightarrow \pm\infty} \left(\frac{1}{\sqrt[3]{x}} - 1 \right) = -1,$$

$$b = \lim_{x \rightarrow \pm\infty} (f(x) - ax) = \lim_{x \rightarrow \pm\infty} \sqrt[3]{x^2} = \infty,$$

funkce nemá asymptoty.

- II. Intervaly monotónnosti; body extrému a extrémy:

$$f'(x) = \frac{2}{3}x^{-\frac{1}{3}} - 1 = \frac{2 - 3\sqrt[3]{x}}{3\sqrt[3]{x}}; f'(x) = 0 \Leftrightarrow x = \frac{8}{27}; f' \text{ neexistuje pro } x = 0.$$

Obr. 3.46: Znaménko derivace funkce $f(x) = \sqrt[3]{x^2} - x$

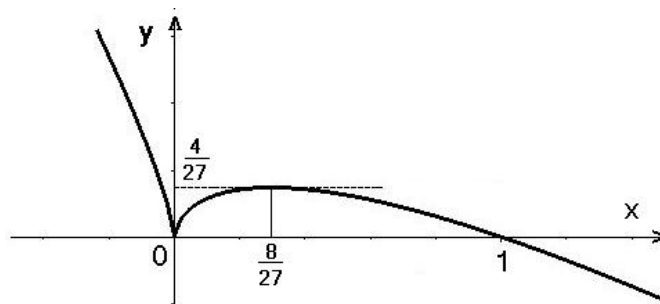
V bodě $x = 0$ má funkce lokální minimum se svislou polotečnou ($\lim_{x \rightarrow 0-} f'(x) = -\infty$, $\lim_{x \rightarrow 0+} f'(x) = \infty$), přičemž $f(0) = 0$, a v bodě $x = \frac{8}{27}$ lokální maximum s derivací nulovou, přičemž $f\left(\frac{8}{27}\right) = \frac{4}{27}$.

III. Intervaly konvexnosti a konkávnosti, inflexní body:

$$f''(x) = -\frac{2}{9}x^{-\frac{4}{3}} = -\frac{2}{9} \frac{1}{\sqrt[3]{x^4}} < 0 \quad \forall x, x \neq 0.$$

Funkce f je tedy konkávní pro $x < 0$ i pro $x > 0$.

Nakreslíme graf:



Obr. 3.47: Graf funkce $f(x) = \sqrt[3]{x^2} - x$

- c) **I.** (a) $f(x) = x e^{1/x}$: Definiční obor $D_f = (-\infty, 0) \cup (0, \infty)$.
 (b) Na svém definičním oboru je funkce f spojitá, je nespojitá pro $x = 0$.
 (c) Průsečíky se souřadnými osami funkce nemá; pro $x = 0$ má nulovou jednostrannou limitu zleva.
 (d) Funkce není ani sudá, ani lichá, ani periodická.
 (e) Chování funkce v okolí bodů nespojitosti a svislé asymptoty:

$$\lim_{x \rightarrow 0^+} f(x) = \lim_{x \rightarrow 0^+} \frac{e^{\frac{1}{x}}}{\frac{1}{x}} = |\text{L'H pravidlo}| = \lim_{x \rightarrow 0^+} \frac{e^{\frac{1}{x}}(-\frac{1}{x^2})}{-\frac{1}{x^2}} = \lim_{x \rightarrow 0^+} e^{\frac{1}{x}} = \infty,$$

$$\lim_{x \rightarrow 0^-} f(x) = 0.$$

Funkce má svislou asymptotu v bodě $x = 0$; asymptota je jednostranná – pouze zprava, funkce zde má nespojitost druhého druhu.

- (f) Chování v nekonečnu, asymptoty se směrnici:

$$a = \lim_{x \rightarrow \pm\infty} \frac{f(x)}{x} = \lim_{x \rightarrow \pm\infty} e^{\frac{1}{x}} = 1,$$

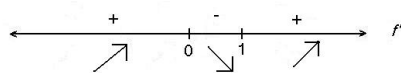
$$b = \lim_{x \rightarrow \pm\infty} (f(x) - ax) = \lim_{x \rightarrow \pm\infty} (x e^{\frac{1}{x}} - x) = \lim_{x \rightarrow \pm\infty} \frac{e^{\frac{1}{x}} - 1}{\frac{1}{x}} = |\text{L'H pravidlo}| = 1.$$

Funkce má šikmou asymptotu o rovnici $y = x + 1$.

II. Intervaly monotónnosti, body extrému a extrémy:

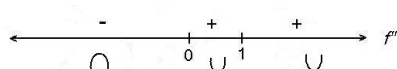
$$f'(x) = \frac{x-1}{x} e^{\frac{1}{x}}; \quad f'(x) = 0 \text{ pro } x = 1, \quad f' \text{ neex. pro } x = 0 (\notin D_f).$$

Funkce má lokální minimum v bodě $x = 1$ s hodnotou $f(1) = e$.

Obr. 3.48: Znaménko derivace funkce $f(x) = xe^{\frac{1}{x}}$

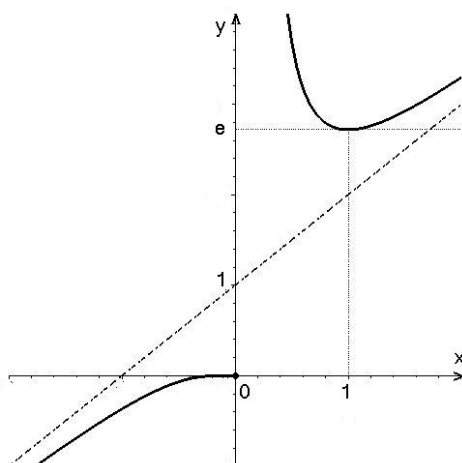
III. Intervaly konvexnosti a konkávnosti; inflexní body:

$$f''(x) = \frac{1}{x^3}e^{\frac{1}{x}} \quad f(x) \neq 0 \quad \forall x \in D_f.$$

Obr. 3.49: Znaménko druhé derivace funkce $f(x) = xe^{\frac{1}{x}}$

Funkce je pro $x > 0$ konvexní a pro $x < 0$ konkávní.

Nakreslíme graf:

Obr. 3.50: Graf funkce $f(x) = xe^{\frac{1}{x}}$

□

Obvykle největší problém dělá z vypočtených údajů o dané funkci nakreslit její graf. Závěrem uvedeme příklad, ve kterém neznáme funkční předpis pro danou funkci, a budeme kreslit její graf pomocí zadaných údajů o jejích vlastnostech.

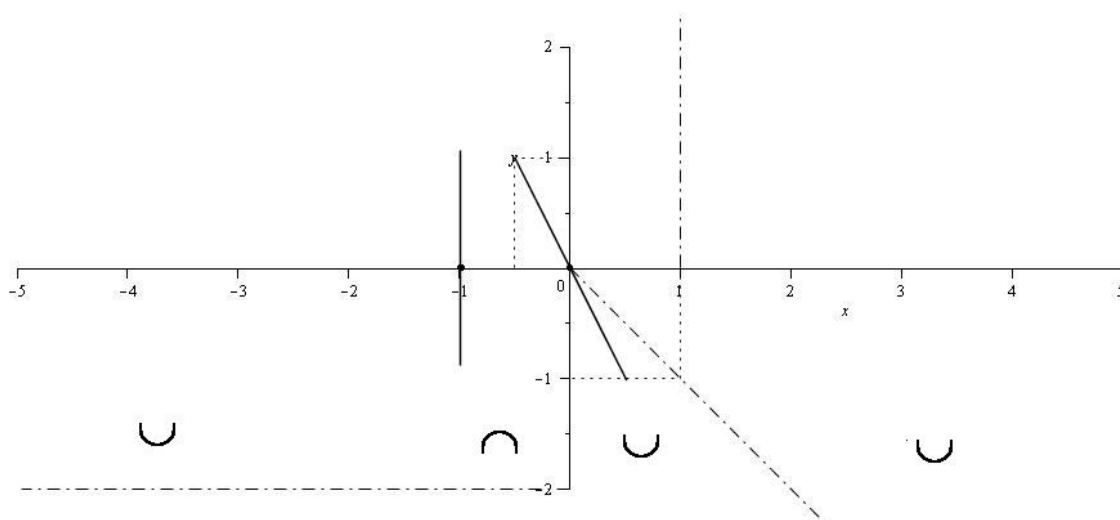
Příklad 3.100. Načrtněte graf funkce spojitě na $\mathbb{R} - \{1\}$, pro kterou platí:

$$\begin{aligned} f(0) = f(-1) = 0, \quad \lim_{x \rightarrow 1} f(x) = \infty, \quad \lim_{x \rightarrow -\infty} f(x) = -2, \\ f'(0) = -2, \quad \lim_{x \rightarrow -1} f'(x) = \infty, \\ f''(x) > 0 \quad \text{pro } x \in (-\infty, -1), \quad x \in (0, 1) \text{ a } x \in (1, \infty), \quad f'' < 0 \quad \text{pro } x \in (-1, 0), \\ \text{přímka } y = -x \text{ je asymptota } x \rightarrow \infty. \end{aligned}$$

Do obrázku nakreslete i asymptoty a tečny ke grafu funkce v bodě $x = 0$ a $x = -1$.

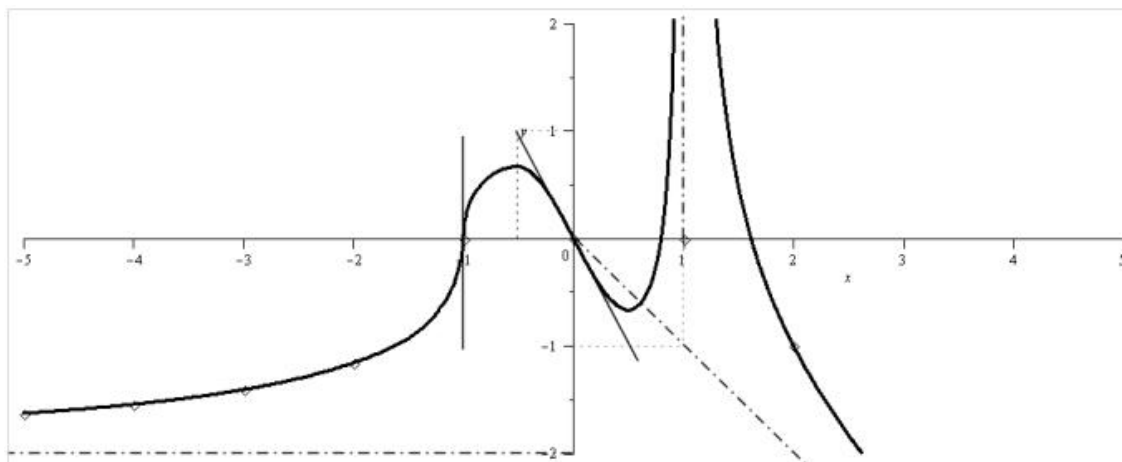
Řešení. Do obrázku nejdříve nakreslíme body, pro něž známe funkční hodnoty – tedy $[-1, 0]$ a $[0, 0]$. V těchto bodech známe hodnotu derivace funkce – nakreslíme krátké přímky procházející těmito body se směrnici, která je rovna příslušné derivaci: v bodě $[0, 0]$ se jedná o směrnici -2 , nakreslíme úsečku procházející body $[-\frac{1}{2}, 1]$ a $[0, 0]$. V bodě $[-1, 0]$ má funkce nevlastní derivaci, graf bude mít svislou tečnu. Poté do obrázku nakreslíme všechny asymptoty – obě zadané a dále svislou $x = 1$. Do spodní části obrázku naznačíme (s využitím znaménka druhé derivace) pomocí obloučku konvexnost nebo konkávnost grafu.

Nyní do obrázku dokreslíme graf tak, aby splňoval všechny předepsané podmínky –



Obr. 3.51:

procházel zadanými body v předepsaném směru (dotýkal se naznačených tečen) a blížil se k asymptotám s přihlédnutím k předepsané konvexitě nebo konkávitě:



Obr. 3.52:

□

Na závěr uvedeme soupis všech Mapletů, které mohou pomoci při vyšetření průběhu funkce:

Nalezení lokálních extrémů,

Nalezení intervalů, na kterých funkce roste resp. klesá,

Nalezení inflexních bodů a intervalů, kde je funkce konvexní resp. konkávní,

Výpočet asymptot a

Nakreslení grafu funkce.

Shrnutí

V poslední kapitole o diferenciálním počtu funkce jedné proměnné jsme dříve odvozená fakta o derivacích použili k vyšetření chování funkcí – průběhu funkce. K již odvozeným pravidlům v předchozích kapitolách jsme navíc zkoumali:

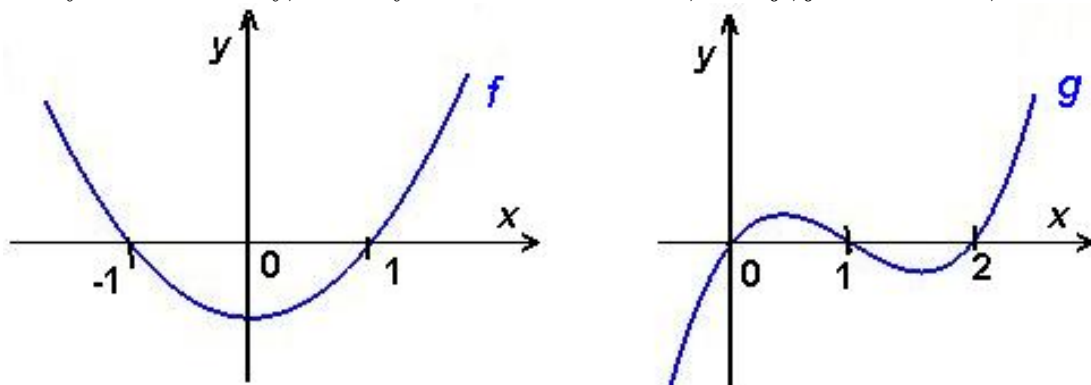
- kde je funkce f konvexní (resp. konkávní): graf funkce f v každém bodě intervalu leží nad (resp. pod) tečnou, sestrojenou v tomto bodě, přičemž
- znaménko druhé derivace funkce udává, kde je funkce konvexní (resp. konkávní): je-li $f'' > 0$ (resp. $f'' < 0$) na intervalu \mathcal{J} , funkce f je na \mathcal{J} konvexní (resp. konkávní),
- kde funkce f má inflexní bod (inflexi): přechází z jedné strany tečny na druhou,
- nutná podm. pro inflexi: má-li funkce f v bodě x_0 inflexní bod, je $f''(x_0) = 0$;

Při vyšetřování průběhu funkce postupujeme obvykle podle tohoto schématu:

- I. (a) Definiční obor D_f funkce f .
 (b) Body nespojitosti; intervaly spojitosti.
 (c) Chování funkce v okolí bodů nespojitosti a svislé asymptoty.
 (d) Průsečíky se souřadnými osami.
 (e) Symetrie grafu funkce (sudá, lichá).
 (f) Periodičnost funkce.
 (g) Chování v nekonečnu, asymptoty se směrnicí.
- II. Interval monotónnosti; body extrému a extrémy.
- III. Interval konvexnosti a konkávnosti; inflexní body.

Otázky a úkoly

1. Odhadněte, ve kterých bodech mají funkce f , g na následujícím obrázku lokální extrém a inflexní body, ve kterých intervalech rostou, klesají, jsou konvexní, konkávní.



2. Načrtněte grafy funkcí s následujícími vlastnostmi:

- a) $f(0) = 2$, $f'(x) > 0$ pro všechna x , $f'(0) = 1$,
 $f''(x) > 0$ pro $x > 0$, $f''(x) < 0$ pro $x < 0$, $f''(0) = 0$,
 b) $f(0) = 1$, $f'(x) \geq 0$ pro všechna x , $f'(0) = 0$,
 $f''(x) > 0$ pro $x > 0$, $f''(x) < 0$ pro $x < 0$, $f''(0) = 0$.

3. Načrtněte graf funkce f , pro kterou platí:

- a) f je spojitá na \mathbb{R} , je sudá, $f(0) = 1$, přímka $y = 2 - x$ je její asymptota pro $x \rightarrow \infty$, $f'_+(0) = \frac{1}{2}$, $f''(x) < 0$ pro $x > 0$,
 b) f je lichá, přímka $y = x - 1$ je její asymptota pro $x \rightarrow \infty$, přímka $x = 1$ je její svislá asymptota, $f'_+(0) = -\infty$, $f''(x) > 0$ pro $x \in (0, 1)$, $f''(x) < 0$ pro $x > 1$.

Cvičení

1. Vyšetřete průběh následujících funkcí:

- a) $f(x) = \frac{e^x}{x+1}$, b) $f(x) = \frac{x}{3-x}$,
 c) $f(x) = \ln \frac{x}{x-3}$, d) $f(x) = \frac{1}{x^2-6x+8}$,
 e) $f(x) = \operatorname{arctg} \frac{x-2}{x}$, f) $f(x) = \frac{x^2-1}{x}$,
 g) $f(x) = \ln \frac{x^2-x+1}{x^2+x+1}$, h) $f(x) = x^3 - x$,
 i) $f(x) = \frac{x+1}{(x-1)^2}$, j) $f(x) = \frac{x}{2 \ln x}$.

Výsledky

1. a) $D_f = \mathbb{R} \setminus \{-1\}$, roste na $(0, \infty)$, klesá na $(-\infty, -1) \cup (-1, 0)$, extrém v $x = 0$ min. 1, konvexní na $(-1, \infty)$, konkávní na $(-\infty, -1)$, inflexe není, asymptoty $y = 0$ ($x \rightarrow -\infty$), $x = -1$, $\lim_{x \rightarrow -1^-} f(x) = \infty$, $\lim_{x \rightarrow -1^+} f(x) = -\infty$,
- b) $D_f = \mathbb{R} \setminus \{3\}$, roste v celém definičním oboru, nemá lokální extrém, konvexní na $(-\infty, 3)$, konkávní na $(3, \infty)$, nemá inflexní body, asymptoty $y = -1$, $x = 3$, $\lim_{x \rightarrow 3^+} f(x) = -\infty$, $\lim_{x \rightarrow 3^-} f(x) = \infty$,
- c) $D_f = (-\infty, 0) \cup (3, \infty)$, klesá v celém definičním oboru, nemá lokální extrém, konvexní na $(3, \infty)$, konkávní na $(-\infty, 0)$, nemá inflexní body, asymptoty $y = 0$, $x = 0$, $x = 3$, $\lim_{x \rightarrow 0^-} f(x) = -\infty$, $\lim_{x \rightarrow 3^+} f(x) = \infty$,
- d) $D_f = \mathbb{R} \setminus \{2, 4\}$, roste na $(-\infty, 2) \cup (2, 3)$, klesá na $(3, 4) \cup (4, \infty)$, extrém v $x = 3$ max. -1 , konvexní na $(-\infty, 2) \cup (4, \infty)$, konkávní na $(2, 4)$, nemá inflexní body, asymptoty $y = 0$, $x = 2$, $x = 4$, $\lim_{x \rightarrow 2^-} f(x) = \infty$, $\lim_{x \rightarrow 2^+} f(x) = -\infty$, $\lim_{x \rightarrow 4^-} f(x) = -\infty$, $\lim_{x \rightarrow 4^+} f(x) = \infty$,
- e) $D_f = \mathbb{R} \setminus \{0\}$, roste v celém definičním oboru, nemá lokální extrém, konvexní na $(-\infty, 0) \cup (0, 1)$, konkávní na $(1, \infty)$, inflexe pro $x = 1$, asymptoty $y = \frac{\pi}{4}$, $x = 0$, $\lim_{x \rightarrow 0^-} f(x) = \frac{\pi}{2}$, $\lim_{x \rightarrow 0^+} f(x) = -\frac{\pi}{2}$,
- f) $D_f = \mathbb{R} \setminus \{0\}$, roste v celém definičním oboru, nemá lokální extrém, konvexní na $(-\infty, 0)$, konkávní na $(0, \infty)$, nemá inflexní body, asymptoty $y = x$, $x = 0$, $\lim_{x \rightarrow 0^-} f(x) = \infty$, $\lim_{x \rightarrow 0^+} f(x) = -\infty$,
- g) $D_f = \mathbb{R}$, roste na $(-\infty, -1) \cup (1, \infty)$, klesá na $(-1, 1)$, extrém v $x = -1$ max. $\ln 3$, $x = 1$ min. $-\ln 3$, konvexní na $(-\infty, -\sqrt{1+\sqrt{3}}) \cup (0, \sqrt{1+\sqrt{3}})$, konkávní na $(-\sqrt{1+\sqrt{3}}, 0) \cup (\sqrt{1+\sqrt{3}}, \infty)$, inflexe $x = \pm\sqrt{1+\sqrt{3}}$, asymptoty $y = 0$,
- h) $D_f = \mathbb{R}$, roste na $(-\infty, -1) \cup (1, \infty)$, klesá na $x \in (-1, 1)$, extrém v $x = -1$ max. 2, $x = 1$ min. -2 , konvexní na $(0, \infty)$, konkávní na $(-\infty, 0)$, inflexe v $x = 0$, nemá asymptoty,
- i) $D_f = \mathbb{R} \setminus \{1\}$, roste na $(-3, 1)$, klesá na $(-\infty, -3) \cup (1, \infty)$, extrém v $x = -3$ min. $-\frac{1}{8}$, konvexní na $(-5, 1) \cup (1, \infty)$, konkávní na $(-\infty, -5)$, inflexe $x = -5$, asymptoty $y = 0$, $x = 1$, $\lim_{x \rightarrow 1^-} f(x) = \infty$, $\lim_{x \rightarrow 1^+} f(x) = \infty$,
- j) $D_f = (0, 1) \cup (1, \infty)$, roste na (e, ∞) , klesá na $(0, 1) \cup (1, e)$, extrém v $x = e$ min. $\frac{e}{2}$, konvexní na $(1, e^2)$, konkávní na $(0, 1) \cup (e^2, \infty)$, inflexe v $x = e^2$, asymptoty $x = 1$, $\lim_{x \rightarrow 1^-} f(x) = -\infty$, $\lim_{x \rightarrow 1^+} f(x) = \infty$.

4 Integrální počet

4.1 Neurčitý integrál

Zavedení pojmu derivace jsme motivovali např. důležitým požadavkem definovat okamžitou rychlost pohybu bodu po přímce. Existuje přirozeně i požadavek „opačný“, tj. nalézt zákon dráhy pohybu bodu po přímce, je-li dána jeho okamžitá rychlost jako funkce času.

Příklad 4.1. Je dána okamžitá rychlost v pohybu bodu po přímce (ose) x rovnicí $v(t) = 2t + 1$, $t \in \langle 0, \infty \rangle$. Najděme zákon dráhy pohybu, je-li známo, že v čase $t = 0$ měl bod polohu $x = x_0$.

Označíme-li $x(t)$ polohu bodu v okamžiku t , pak $v(t) = \frac{dx(t)}{dt}$. Hledáme tedy funkci $x = x(t)$, pro niž platí

$$\frac{dx}{dt} = 2t + 1, \quad x(0) = x_0.$$

Je vidět, že první podmínce vyhovuje nekonečně mnoho funkcí

$$x = t^2 + t + C,$$

kde C je libovolná konstanta. Funkci, která splňuje i druhou podmínku (říkáme jí též počáteční podmínka), najdeme z předchozího vztahu dosazením dané podmínky pro $t = 0$, $x = x_0$. Dostaneme $x_0 = C$. Pro hledaný zákon dráhy tedy platí

$$x = t^2 + t + x_0.$$

Jednoduchou zkouškou se přesvědčíme, že tato funkce splňuje obě podmínky, a zároveň vidíme, že hledaná funkce daných vlastností je jediná.

Každé takové funkci, jejíž derivací je daná funkce, budeme říkat primitivní funkce k funkci dané. Na příkladě jsme viděli, že k dané funkci může existovat nekonečně mnoho primitivních funkcí. Množinu všech primitivních funkcí často nazýváme neurčitým integrálem. Nyní přejdeme k přesné formulaci základních pojmů.

Primitivní funkce

Definice 4.2. Nechť \mathcal{I} je interval v \mathbb{R} a $f : \mathcal{I} \rightarrow \mathbb{R}$ funkce. Funkci F nazveme *primitivní* k funkci f v intervalu \mathcal{I} , platí-li pro každé $x \in \mathcal{I}$ vztah

$$F'(x) = f(x).$$

(V případě uzavřeného intervalu rozumíme derivací v krajních bodech jednostranné derivace.)

Poznamenejme, že z definice primitivní funkce přímo vyplývá následující věta:

Věta 4.3. *Je-li funkce F primitivní funkcí k nějaké funkci f v intervalu \mathcal{I} , pak je funkce F v \mathcal{I} spojitá.*

Důkaz Tvrzení věty plyne z existence derivace $F' (= f)$.

Primitivní funkce k zadané funkci jistě není určena jednoznačně – derivací se snadno přesvědčíme, že pro libovolnou funkci F primitivní k funkci f v intervalu \mathcal{I} platí, že i $G = F + c$ je primitivní funkce k funkci f v intervalu \mathcal{I} pro každé $c \in \mathbb{R}$. Jinak řečeno, liší-li se dvě primitivní funkce F, G o konstantu, tj. $G - F = c$, jsou primitivními funkcemi ke stejné funkci f . Navíc, na základě důsledku Lagrangeovy věty o přírůstku funkce, nulovou derivaci má pouze konstantní funkce, a tudíž stejnou derivaci mohou mít pouze funkce, lišící se o konstantu. Platí tedy věta:

Věta 4.4. *Je-li funkce F primitivní k funkci f v intervalu \mathcal{I} , pak $\{F + c \mid c \in \mathbb{R}\}$ je množinou všech primitivních funkcí k funkci f .*

Příklad 4.5. Primitivními funkcemi k funkci $\sin 2x$ v $\mathcal{I} = (-\infty, \infty)$ jsou například funkce $1 - \frac{1}{2} \cos 2x$ nebo $\frac{1}{2}(3 - \cos 2x)$, protože

$$\left(1 - \frac{1}{2} \cos 2x\right)' = \sin 2x, \quad \left(\frac{1}{2}(3 - \cos 2x)\right)' = \sin 2x.$$

Ale také funkce $\sin^2 x$ je primitivní ke stejné funkci, protože

$$(\sin^2 x)' = 2 \sin x \cos x = \sin 2x.$$

Z předchozí věty plyne, že $\sin^2 x + \frac{1}{2} \cos 2x = c$; najděme tuto konstantu:

$$\sin^2 x + \frac{1}{2} \cos 2x = \sin^2 x + \frac{1}{2}(\cos^2 x - \sin^2 x) = \frac{1}{2}(\sin^2 x + \cos^2 x) = \frac{1}{2}.$$

Hledaná konstanta je tedy $c = \frac{1}{2}$.

Na jednoduchém příkladě můžeme ukázat, že ne ke každé funkci existuje primitivní funkce:

Příklad 4.6. Jednotková Heavisideova funkce η definovaná předpisem

$$\eta(t) = \begin{cases} 0 & \text{pro } t < 0, \\ 1 & \text{pro } t \geq 0 \end{cases}$$

nemá na intervalu $(-\infty, \infty)$ primitivní funkci. Předpokládejme opak, tedy necht' F je primitivní funkcí k η , tj. $F'(t) = \eta(t)$ pro $t \in (-\infty, \infty)$. Funkce F musí být na intervalu $(-\infty, \infty)$ spojitá (má derivaci!), a musí platit

$$F'(t) = \eta(t) = \begin{cases} 0 & \text{pro } t < 0, \\ 1 & \text{pro } t > 0. \end{cases}$$

Takovou funkcí by mohla být funkce

$$F(t) = \begin{cases} c & \text{pro } t < 0, \\ t + c & \text{pro } t > 0. \end{cases}$$

Tato funkce F však nemá v bodě 0 derivaci. Je totiž $F'_-(0) = 0$, $F'_+(0) = 1$, a proto není F primitivní funkcí.

Postačující podmínku pro existenci primitivní funkce uvádí následující věta:

Věta 4.7. *Necht' f je spojitá funkce na intervalu \mathcal{J} . Potom k ní na tomto intervalu existuje primitivní funkce.*

Neurčitý integrál

Definice 4.8. Symbolem $\int f(x) dx$ označujeme systém všech primitivních funkcí k funkci f a nazýváme jej **neurčitý integrál** funkce f . Potom píšeme

$$\int f(x) dx = F(x) + c, \quad \text{případně jen } \int f(x) dx = F(x),$$

kde F je některá primitivní funkce funkce f .

Funkce f se nazývá **integrand** nebo též **integrovaná funkce**, argument x **integrační proměnná**.

Proces nalezení primitivní funkce k dané funkci nazýváme **integrováním** nebo též **integrací**.

Tedy např. zápis

$$\int x^2 dx = \frac{1}{3}x^3 + c, \quad c \in \mathbb{R}, \quad x \in (-\infty, \infty), \quad \text{nebo jen } \int x^2 dx = \frac{1}{3}x^3$$

znamená, že funkce $\frac{1}{3}x^3$ je primitivní funkcí k funkci x^2 na intervalu $(-\infty, \infty)$ a že množina všech primitivních funkcí k funkci x^2 je množina

$$\left\{ F \mid F(x) = \frac{1}{3}x^3 + c, \quad c \in \mathbb{R} \right\}.$$

(Je třeba si uvědomit, že rovnost mezi neurčitými integrály je rovnost až na aditivní konstantu.)

4.2 Integrační metody

Problém hledání primitivní funkce se od derivování liší ve dvou důležitých faktech. Za prvé, zatímco derivace elementární funkce je vždy opět elementární funkcí, primitivní funkce k některým elementárním funkcím, např. k e^{x^2} , nejsou elementární. Za druhé, nepatrná změna ve tvaru funkce má za následek nepatrnou změnu v její derivaci, zatímco malá změna ve tvaru funkce může mít za následek podstatnou změnu v její primitivní funkci, např.

$$\int \frac{1}{1+x^2} dx = \operatorname{arctg} x + c, \quad \text{ale} \quad \int \frac{x}{x^2+1} dx = \frac{1}{2} \ln(x^2+1) + c,$$

jak se snadno přesvědčíme derivací výsledku.

Jak tedy najdeme k dané funkci f funkci F tak, aby platilo $F'(x) = f(x)$ na nějakém intervalu \mathcal{I} ? Některé vztahy odvodíme snadno, např. jistě platí

$$\begin{aligned} \int e^x dx &= e^x, & \text{protože} \quad (e^x)' &= e^x, \\ \int \cos x dx &= \sin x, & \text{protože} \quad (\sin x)' &= \cos x, \\ \int \frac{1}{x} dx &= \ln |x|, & \text{protože} \quad (\ln |x|)' &= \frac{1}{x}, \\ \int x^a dx &= \frac{1}{a+1} x^{a+1}, \quad a \neq -1, & \text{protože} \quad \left(\frac{1}{a+1} x^{a+1}\right)' &= x^a. \end{aligned}$$

(Další snadno odvoditelné vzorce jsou v závěrečném shrnutí.)

Stejně tak snadno prověříme platnost vztahů

$$\begin{aligned} \int [f(x) \pm g(x)] dx &= \int f(x) dx \pm \int g(x) dx, \\ \int k f(x) dx &= k \int f(x) dx, \end{aligned}$$

protože pro derivaci platí

$$(F(x) + G(x))' = F'(x) + G'(x) \quad \text{a} \quad (k F(x))' = k F'(x)$$

a současně

$$\left[\int f(x) dx \right]' = f(x).$$

To nám ale umožní integrovat jen některé jednoduché funkce:

Příklad 4.9. Máme vypočítat následující integrály

$$a) \int (x^2 - 2x)^2 dx, \quad b) \int \frac{x(\sqrt[3]{x} - x^3\sqrt{x})}{\sqrt[4]{x}} dx, \quad c) \int \frac{1}{\cos^2 x \sin^2 x} dx.$$

Řešení. a)

$$\begin{aligned} \int (x^2 - 2x)^2 dx &= \int (x^4 - 4x^3 + 4x^2) dx = \frac{1}{5}x^5 - 4\frac{1}{4}x^4 + 4\frac{1}{3}x^3 + c = \\ &= \frac{1}{5}x^5 - x^4 + \frac{4}{3}x^3 + c, \end{aligned}$$

b)

$$\begin{aligned} \int \frac{x(\sqrt[3]{x} - x^3\sqrt{x})}{\sqrt[4]{x}} dx &= \int \left(x^{1+\frac{1}{3}-\frac{1}{4}} - x^{1+3+\frac{1}{2}-\frac{1}{4}} \right) dx = \int \left(x^{\frac{13}{12}} - x^{\frac{17}{4}} \right) dx = \\ &= \frac{12}{25}x^{\frac{25}{12}} - \frac{4}{21}x^{\frac{21}{4}} + c, \end{aligned}$$

c)

$$\begin{aligned} \int \frac{1}{\cos^2 x \sin^2 x} dx &= \int \frac{\sin^2 x + \cos^2 x}{\cos^2 x \sin^2 x} dx = \int \left(\frac{1}{\cos^2 x} + \frac{1}{\sin^2 x} \right) dx = \\ &= \operatorname{tg} x - \operatorname{cotg} x + c. \end{aligned}$$

□

V předchozím příkladu jsme integraci provedli úpravou integrandu na součet výrazů, ke kterým jsme primitivní funkci „uhodli“ na základě znalosti vztahů pro derivace (tabulku derivací jsme použili „zprava doleva“). S tímto postupem již nevystačíme i u jednoduchých případů, kdy integrand je ve tvaru součinu nebo podílu, nebo je to složená funkce. Při výpočtu primitivních funkcí nemáme žádnou „gramatiku“, jako jsme měli pro výpočet derivací (známá pravidla pro derivaci součinu, podílu a složené funkce). Můžeme ale odvodit jistá pravidla, která nám v některých případech při integraci pomohou.

Integrace per partes

Ze vztahu pro derivaci součinu

$$(uv)' = u'v + uv', \quad \text{tedy} \quad uv' = (uv)' - u'v$$

vyplývá **vzorec pro integraci per partes**:

$$\int u(x)v'(x) dx = u(x)v(x) - \int u'(x)v(x) dx.$$

Vypadá to, že jsme si nijak nepomohli – integrál ze součinu funkcí jsme převedli na jiný integrál ze součinu funkcí. V některých případech se může výpočet zjednodušit:

Příklad 4.10. Vypočtěme integrály

$$\text{a) } \int x e^x dx, \quad \text{b) } \int \frac{\ln x}{x} dx.$$

Řešení. a)

$$\int x e^x dx = \left| \begin{array}{l} u = x, u' = 1 \\ v' = e^x, v = e^x \end{array} \right| = x e^x - \int e^x dx = x e^x - e^x + c,$$

b)

$$\int \frac{\ln x}{x} dx = \left| \begin{array}{ll} u = \ln x & u' = \frac{1}{x} \\ v' = \frac{1}{x} & v = \ln x \end{array} \right| = \ln^2 x - \int \frac{\ln x}{x} dx.$$

Zdánlivě jsme si nepomohli. Uvedená rovnost je však rovnicí pro neznámou funkci

$$J = \int \frac{\ln x}{x} dx \quad \text{a má tvar} \quad J = \ln^2 x - J,$$

$$\text{tedy } J = \frac{1}{2} \ln^2 x, \quad x \in (0, \infty), \quad \text{je jednou primitivní funkcí.}$$

O správnosti výpočtů se můžeme přesvědčit derivací. □

Příklad 4.11. Pomocí metody per partes vypočítáme také integrál $\int \ln x dx$.

$$\int \ln x dx = \left| \begin{array}{ll} u = \ln x & u' = \frac{1}{x} \\ v' = 1 & v = x \end{array} \right| = x \ln x - \int \frac{1}{x} x dx = x \ln x - x + c.$$

Metoda substituce

Je-li F primitivní funkce k funkci f na nějakém intervalu \mathcal{I} , můžeme integrál $\int f(t) dt$ napsat ve tvaru

$$\int f(t) dt = \int F'(t) dt = \int dF(t),$$

kde v posledním integrálu vystupuje diferenciál primitivní funkce F .

Předpokládejme, že $t = g(x)$. Z věty o derivaci složené funkce $(F(g(x)))' = F'(g(x)) g'(x)$ dostaneme pro diferenciál $dF(t)$

$$dF(t) = dF(g(x)) = F'(g(x)) g'(x) dx = f(g(x)) g'(x) dx \quad \text{a odtud plyne}$$

$$\int f(t) dt = \int f(g(x)) g'(x) dx, \quad \text{kde } t = g(x).$$

To je vztah pro nejdůležitější obecnou metodu pro integraci – metodu substituce.

Věta 4.12. 1. Jestliže funkce $f \circ g$, g' jsou definovány na nějakém intervalu \mathcal{I} a $\int f(t) dt = F(t) + c$, potom na tomto intervalu platí

$$\int f(g(x)) g'(x) dx = F(g(x)) + c,$$

2. jestliže navíc existuje g^{-1} a $\int f(g(t)) g'(t) dt = G(t) + c$, potom

$$\int f(x) dx = G(g^{-1}(x)) + c.$$

Princip popsany ve větě se nazývá **metoda substituce**.

Popišme oba postupy podrobněji:

1. Substituce $g(x) = t$:

Má-li hledaný integrál tvar integrálu ze součinu složené funkce a derivace její vnitřní složky, a neznáme-li jeho hodnotu, pak substitucí $g(x) = t$ přejde na tvar $\int f(t) dt$, který může být pro výpočet jednodušší. Schematický zápis použití:

$$\int f(g(x)) g'(x) dx = \left| \begin{array}{l} g(x) = t \\ g'(x) dx = dt \end{array} \right| = \int f(t) dt = F(t) + c = F(g(x)) + c.$$

2. Substituce $x = g(t)$:

Budeme-li navíc předpokládat existenci g^{-1} , pro výpočet integrálu platí

$$\int f(x) dx = \left| \begin{array}{l} x = g(t) \\ dx = g'(t) dt \end{array} \right| = \int f(g(t)) g'(t) dt = G(t) + c = G(g^{-1}(x)) + c.$$

Příklad 4.13. Vypočítáme integrály

$$\text{a) } \int \frac{x}{4x^2 + 1} dx, \quad \text{b) } \int \frac{1}{4x^2 + 1} dx.$$

Řešení. a) Položíme-li $t = 4x^2 + 1$, je $dt = 8x dx$, tedy

$$\begin{aligned} \int \frac{x}{4x^2 + 1} dx &= \frac{1}{8} \int \frac{1}{4x^2 + 1} 8x dx = \left| \begin{array}{l} t = 4x^2 + 1 \\ dt = 8x dx \end{array} \right| = \frac{1}{8} \int \frac{1}{t} dt = \frac{1}{8} \ln |t| + c = \\ &= \frac{1}{8} \ln(4x^2 + 1) + c, \end{aligned}$$

b) v tomto případě substituce $t = 4x^2 + 1$ nepovede k cíli, protože dt si v integrálu nemůžeme opatřit. Budeme postupovat takto:

$$\begin{aligned} \int \frac{1}{4x^2 + 1} dx &= \int \frac{1}{(2x)^2 + 1} dx = \left| \begin{array}{l} t = 2x \\ dt = 2dx \end{array} \right| = \frac{1}{2} \int \frac{1}{t^2 + 1} dt = \frac{1}{2} \operatorname{arctg} t + c = \\ &= \frac{1}{2} \operatorname{arctg} 2x + c. \end{aligned}$$

□

V předchozím příkladu jsme viděli, jak velmi podobné výrazy (jednoduché racionální lomené funkce) integrujeme rozdílným způsobem. To je právě nevýhoda při hledání primitivních funkcí, že jsou zde jen návody, jak v některých trochu obecných případech postupovat.

V následujícím příkladu zobecníme oba postupy použité v předchozím příkladu – odvodíme dva důležité vzorce:

Příklad 4.14. Ukážeme, že platí:

$$\text{a) } \int \frac{f'(x)}{f(x)} dx = \ln |f(x)| + c, \quad \text{b) } \int f(ax + b) dx = \frac{1}{a} F(ax + b) + c.$$

Řešení.

$$\text{a) } \int \frac{f'(x)}{f(x)} dx = \left| \begin{array}{l} t = f(x) \\ dt = f'(x) dx \end{array} \right| = \int \frac{dt}{t} = \ln |t| + c = \ln |f(x)| + c,$$

$$\begin{aligned} \text{b) } \int f(ax + b) dx &= \left| \begin{array}{l} z = ax + b \\ dz = a dx \end{array} \right| = \frac{1}{a} \int f(z) dz = \frac{1}{a} F(z) + c = \\ &= \frac{1}{a} F(ax + b) + c. \end{aligned}$$

□

Tyto vzorce nám umožňují u mnoha jednoduchých integrálů bez použití substituční metody napsat přímo výsledek:

$$\int \frac{\cos x}{\sin x} dx = \ln |\sin x|, \quad \int \frac{e^x}{e^x + 1} dx = \ln(e^x + 1), \quad \int \frac{1}{x \ln x} dx = \ln |\ln x|,$$

a hlavně

$$\int \cos 2x dx = \frac{1}{2} \sin 2x, \quad \int e^{2-x} dx = -e^{2-x}, \quad \int (4x + 3)^3 dx = \frac{1}{4} \frac{1}{4} (4x + 3)^4.$$

Nyní uvedeme příklad na použití substituční metody $x = g(t)$:

Příklad 4.15. Vypočítáme integrál

$$\int \sqrt{4 - x^2} dx = \left| \begin{array}{l} x = 2 \sin t \\ dx = 2 \cos t dt \end{array} \right| =$$

$$= \left| \begin{array}{l} \text{zde předpokládáme, že substituční funkce } g(t) = 2 \sin t \text{ je prostá,} \\ \text{tj. že její derivace } g'(t) = 2 \cos t \text{ je buď stále kladná, nebo stále záporná,} \\ \text{tedy např. } t \in (-\pi/2, \pi/2). \text{ V tom případě } t = g^{-1}(x) = \arcsin \frac{x}{2} \end{array} \right| =$$

$$= \int \sqrt{4 - 4 \sin^2 t} 2 \cos t dt = 4 \int |\cos t| \cos t dt = 4 \int \cos^2 t dt =$$

$$\begin{aligned}
&= 4 \int \frac{1}{2}(1 + \cos 2t) dt = 2t + \sin 2t + c = 2t + 2 \sin t \cos t + c = \\
&= 2t + 2 \sin t \sqrt{1 - \sin^2 t} + c = 2 \arcsin \frac{x}{2} + x \sqrt{1 - x^2/4} + c = \\
&= 2 \arcsin \frac{x}{2} + \frac{x}{2} \sqrt{4 - x^2} + c.
\end{aligned}$$

V následujícím příkladu odvodíme ještě jeden vzorec, který budeme dále potřebovat. Postup je značně obtížný – ilustruje, jak komplikovaná situace může při integraci nastat. Využijte se zde jak metoda substituce, tak metoda per partes.

Příklad 4.16.

Máme vypočítat integrál $\int \frac{1}{(x^2 + a^2)^n} dx$.

Řešení. Nechť $n = 1$. Potom

$$\int \frac{1}{x^2 + a^2} dx = \frac{1}{a^2} \int \frac{1}{\left(\frac{x}{a}\right)^2 + 1} dx = \frac{1}{a^2} a \operatorname{arctg} \frac{x}{a} + c = \frac{1}{a} \operatorname{arctg} \frac{x}{a} + c.$$

Pro $n > 1$ nejdříve integrand upravíme takto:

$$\int \frac{1}{(x^2 + a^2)^n} dx = \frac{1}{a^2} \int \frac{a^2 + x^2 - x^2}{(x^2 + a^2)^n} dx = \frac{1}{a^2} \left[\int \frac{1}{(x^2 + a^2)^{n-1}} dx - \int \frac{x^2}{(x^2 + a^2)^n} dx \right].$$

Na druhý integrál použijeme metodu per partes:

$$\int \frac{x^2}{(x^2 + a^2)^n} dx = \int \frac{x}{2} \frac{2x}{(x^2 + a^2)^n} dx = \left| \begin{array}{ll} u = \frac{x}{2} & u' = \frac{1}{2} \\ v' = \frac{2x}{(x^2 + a^2)^n} & v \text{ vypočítáme zvlášť} \end{array} \right|,$$

$$\begin{aligned}
v &= \int \frac{2x}{(x^2 + a^2)^n} dx = \left| \begin{array}{l} t = x^2 + a^2 \\ dt = 2x dx \end{array} \right| = \int t^{-n} dt = \frac{1}{1-n} t^{-n+1} = \\
&= \frac{1}{1-n} \frac{1}{(x^2 + a^2)^{n-1}};
\end{aligned}$$

odtud

$$\int \frac{x^2}{(x^2 + a^2)^n} dx = \frac{x}{2} \frac{1}{1-n} \frac{1}{(x^2 + a^2)^{n-1}} - \frac{1}{2(1-n)} \int \frac{1}{(x^2 + a^2)^{n-1}} dx.$$

Dohromady tedy

$$\begin{aligned}
&\int \frac{1}{(x^2 + a^2)^n} dx = \frac{1}{a^2} \left[\int \frac{1}{(x^2 + a^2)^{n-1}} dx - \right. \\
&\left. - \left(\frac{x}{2} \frac{1}{1-n} \frac{1}{(x^2 + a^2)^{n-1}} - \frac{1}{2(1-n)} \int \frac{1}{(x^2 + a^2)^{n-1}} dx \right) \right] = \\
&= \frac{1}{2(n-1)a^2} \left[\frac{x}{(x^2 + a^2)^{n-1}} + (2n-3) \int \frac{1}{(x^2 + a^2)^{n-1}} dx \right].
\end{aligned}$$

Důležité na tomto výsledku je to, že stupeň polynomu ve jmenovateli integrované funkce je již nižší než u výchozího integrálu. Po několikanásobném použití bude tedy třeba vypočítat integrál, který již umíme:

$$\int \frac{1}{x^2 + a^2} dx = \frac{1}{a} \operatorname{arctg} \frac{x}{a} + c.$$

□

Integrace racionálních lomených funkcí

Víme, že každá racionální lomená funkce je tvaru

$$R(x) = \frac{P_m(x)}{Q_n(x)},$$

kde $P_m(x)$ a $Q_n(x)$ jsou polynomy stupňů m a n . Předpokládejme, že $m < n$, tj. že R je ryze lomená; v případě neryze lomené racionální funkce, tj. pro $m \geq n$, podíl $P_m(x)$ a $Q_n(x)$ dává po vydělení

$$\frac{P_m(x)}{Q_n(x)} = N(x) + \frac{\tilde{P}_i(x)}{Q_n(x)}, \quad \text{kde } i < n$$

Ryze lomenou racionální funkci můžeme rozložit na parciální zlomky, a integrace racionální lomené funkce se tedy převede na integraci parciálních zlomků; ty jsou následujících čtyř typů:

$$\begin{array}{ll} \text{I.} & Z_1(x) = \frac{A}{x-a}, & \text{II.} & Z_2(x) = \frac{A}{(x-a)^n}, \\ \text{III.} & Z_3(x) = \frac{Mx+N}{x^2+px+q}, & \text{IV.} & Z_4(x) = \frac{Mx+N}{(x^2+px+q)^n}, \quad p^2-4q < 0. \end{array}$$

První dva typy zlomků integrovat již umíme; povšimneme si podrobně posledních dvou typů:

III.

Zlomek upravíme tak, abychom mohli použít vzorce z příkladu 4.14 – v obecném případě rozložíme na součet dvou zlomků, z nichž první bude mít v čitateli derivaci jmenovatele (bude násoben nějakou konstantou) a druhý bude mít v čitateli konstantu. Primitivní funkce potom bude tvaru „logaritmus plus arkus tangens“.

$$\begin{aligned} Z_3(x) &= \frac{Mx+N}{x^2+px+q} = M \frac{x}{x^2+px+q} + N \frac{1}{x^2+px+q} = \\ &= \left| (x^2+px+q)' = 2x+p \right| = \frac{M}{2} \frac{2x+p-p}{x^2+px+q} + N \frac{1}{x^2+px+q} = \\ &= \frac{M}{2} \frac{2x+p}{x^2+px+q} - \frac{Mp}{2} \frac{1}{x^2+px+q} + N \frac{1}{x^2+px+q} = \end{aligned}$$

$$= \frac{M}{2} \frac{2x+p}{x^2+px+q} + \left(N - \frac{Mp}{2}\right) \frac{1}{x^2+px+q}.$$

$$\int \frac{2x+p}{x^2+px+q} dx = \ln|x^2+px+q| \quad \text{podle prvního vzorce v 4.14,}$$

jmenovatel druhého zlomku doplníme na úplný čtverec:

$$x^2+px+q = \left(x + \frac{p}{2}\right)^2 + q - \frac{p^2}{4} = \left| \text{označme } q - \frac{p^2}{4} = a^2 \right| = a^2 \left[\left(\frac{x + \frac{p}{2}}{a}\right)^2 + 1 \right].$$

Po této úpravě můžeme na integrál z druhého zlomku použít druhý vzorec odvozený v příkladu 4.14 a dostaneme

$$\begin{aligned} \int \frac{1}{x^2+px+q} dx &= \frac{1}{a^2} \int \frac{1}{\left(\frac{x}{a} + \frac{p}{2a}\right)^2 + 1} dx = \frac{1}{a^2} a \operatorname{arctg} \left(\frac{x}{a} + \frac{p}{2a}\right) = \\ &= \frac{2}{\sqrt{4q-p^2}} \operatorname{arctg} \frac{2x+p}{\sqrt{4q-p^2}}. \end{aligned}$$

Dohromady dostáváme

$$\begin{aligned} \int Z_3(x) dx &= \frac{M}{2} \ln(x^2+px+q) + \frac{2N-Mp}{\sqrt{4q-p^2}} \operatorname{arctg} \frac{2x+p}{\sqrt{4q-p^2}} + k = \\ &= A \ln(x^2+px+q) + B \operatorname{arctg} \frac{2x+p}{C} + k. \end{aligned}$$

Celý postup bude nejlépe patrný na konkrétním případě. Poznamenejme, že ve speciálních případech může první nebo druhý sčítanec vymizet.

IV.

V posledním případě budeme postupovat analogicky jako v předchozím – zlomek opět rozložíme na dva tak, aby v prvním byla v čitateli derivace závorky ve jmenovateli, a ve druhém jen konstanta. Závorku ve jmenovateli doplníme na úplný čtverec. Dostaneme

$$\int Z_4(x) dx = \frac{M}{2} \int \frac{2x+p}{(x^2+px+q)^n} dx + \left(N - \frac{Mp}{2}\right) \int \frac{1}{\left[\left(x + \frac{p}{2}\right)^2 + q - \frac{p^2}{2}\right]^n} dx.$$

Potom na první zlomek použijeme substituci – je to integrál tvaru

$$\frac{M}{2} \int \frac{f'(x)}{f^n(x)} dx, \quad \text{kde } f(x) = x^2 + px + q,$$

a ve druhém po jednoduché substituci $t = x + \frac{p}{2}$ použijeme rekurentní formuli odvozenou v příkladu 4.16 (nebo zopakujeme postup, který byl při odvozování této formule použit).

Příklad 4.17. Máme vypočítat integrál

$$\int \frac{x^3 - x^2 + 3x - 3}{(x^2 + 4)^2} dx.$$

Řešení. Integrand nejdříve rozložíme na parciální zlomky:

$$\frac{x^3 - x^2 + 3x - 3}{(x^2 + 4)^2} = \frac{Ax + B}{x^2 + 4} + \frac{Cx + D}{(x^2 + 4)^2}, \text{ tedy}$$

$$x^3 - x^2 + 3x - 3 = (Ax + B)(x^2 + 4) + Cx + D.$$

Porovnáme koeficienty u stejných mocnin:

$$\begin{array}{l} x^3: \quad 1 = A \\ x^2: \quad -1 = B \\ x^1: \quad 3 = 4A + C \\ x^0: \quad -3 = 4B + D \end{array} \quad \text{odkud plyne} \quad \begin{array}{l} A = 1, \quad B = -1, \\ C = -1, \quad D = 1. \end{array}$$

Dostáváme

$$\begin{aligned} \int \frac{x^3 - x^2 + 3x - 3}{(x^2 + 4)^2} dx &= \int \left[\frac{x - 1}{x^2 + 4} + \frac{-x + 1}{(x^2 + 4)^2} \right] dx = \\ &= \frac{1}{2} \int \frac{2x}{x^2 + 4} dx - \int \frac{1}{x^2 + 4} dx - \frac{1}{2} \int \frac{2x}{(x^2 + 4)^2} dx + \int \frac{1}{(x^2 + 4)^2} dx. \end{aligned}$$

Vypočítáme jednotlivé integrály:

$$\frac{1}{2} \int \frac{2x}{x^2 + 4} dx = \frac{1}{2} \ln(x^2 + 4) + c_1,$$

$$\int \frac{1}{x^2 + 4} dx = \frac{1}{4} \int \frac{1}{\left(\frac{1}{2}x\right)^2 + 1} dx = \frac{1}{4} \operatorname{arctg} \frac{x}{2} \cdot 2 + c_2 = \frac{1}{2} \operatorname{arctg} \frac{x}{2} + c_2,$$

$$\begin{aligned} \frac{1}{2} \int \frac{2x}{(x^2 + 4)^2} dx &= \left| \begin{array}{l} t = x^2 + 4 \\ dt = 2x dx \end{array} \right| = \frac{1}{2} \int t^{-2} dt = \frac{1}{2} (-t^{-1}) + c_3 = \\ &= -\frac{1}{2} \frac{1}{x^2 + 4} + c_3; \end{aligned}$$

na poslední integrál můžeme použít rekurentní formuli z příkladu 4.16:

$$\int \frac{1}{(x^2 + a^2)^n} dx = \frac{1}{2(n-1)a^2} \left[\frac{x}{(x^2 + a^2)^{n-1}} + (2n-3) \int \frac{1}{(x^2 + a^2)^{n-1}} dx \right],$$

kde položíme $a = 2$, $n = 2$.

Tedy

$$\int \frac{1}{(x^2 + 4)^2} dx = \frac{1}{8} \left[\frac{x}{x^2 + 4} + \int \frac{1}{x^2 + 4} dx \right] = \frac{1}{8} \left[\frac{x}{x^2 + 4} + \frac{1}{2} \operatorname{arctg} \frac{x}{2} \right] + c_4.$$

Dohromady

$$\begin{aligned} & \int \frac{x^3 - x^2 + 3x - 3}{(x^2 + 4)^2} dx = \\ & = \frac{1}{2} \ln(x^2 + 4) - \frac{1}{2} \operatorname{arctg} \frac{x}{2} + \frac{1}{2} \frac{1}{x^2 + 4} + \frac{1}{8} \left[\frac{x}{x^2 + 4} + \frac{1}{2} \operatorname{arctg} \frac{x}{2} \right] + c, \end{aligned}$$

$$\text{kde } c = c_1 - c_2 - c_3 + c_4;$$

po úpravě

$$\int \frac{x^3 - x^2 + 3x - 3}{(x^2 + 4)^2} dx = \frac{1}{2} \ln(x^2 + 4) - \frac{7}{16} \operatorname{arctg} \frac{x}{2} + \frac{1}{8} \frac{x + 4}{x^2 + 4} + c.$$

□

Integrace některých iracionálních funkcí

Jak již bylo výše řečeno, obecná pravidla, která by nám umožnila zintegrovat libovolnou elementární funkci, bohužel nemáme. Můžeme pouze uvést některá doporučení, která v konkrétních případech vedou k cíli.

V tomto odstavci se budeme věnovat výpočtu integrálů z iracionálních funkcí.

(Symbolem $R(\cdot)$ budeme označovat racionální lomenou funkci.)

A) V integrálu tvaru

$$\int R(x, x^{\frac{1}{k_1}}, x^{\frac{1}{k_2}}, \dots, x^{\frac{1}{k_n}}) dx, \quad k_1, k_2, \dots, k_n \in \mathbb{N},$$

je vhodné zavést substituci

$$x = t^k,$$

kde k je nejmenší společný násobek celých čísel k_1, k_2, \dots, k_n .

Příklad 4.18.

Vypočítáme integrál $\int \frac{\sqrt[3]{x}}{x + \sqrt{x}} dx$.

Řešení. Integrand je tvaru $R(x, x^{\frac{1}{3}}, x^{\frac{1}{2}})$. Nejmenší společný násobek čísel 1, 2, 3 je 6. Použijeme substituci $t = x^{\frac{1}{6}}$. Potom

$$\begin{aligned} \int \frac{\sqrt[3]{x}}{x + \sqrt{x}} dx &= \left| \begin{array}{l} t = x^{\frac{1}{6}} \\ x = t^6 \\ dx = 6t^5 dt \end{array} \right| = \int \frac{\sqrt[3]{t^6}}{t^6 + \sqrt{t^6}} 6t^5 dt = 6 \int \frac{t^2}{t^6 + t^3} t^5 dt = \\ &= 6 \int \frac{t^4}{t^3 + 1} dt = 6 \int \left(t - \frac{t}{t^3 + 1} \right) dt = |\text{rozložíme na parciální zlomky}| = \\ &= \int \left(6t + \frac{2}{t+1} - \frac{2t+2}{t^2-t+1} \right) dt = \left| \begin{array}{l} \text{čítatel posledního zlomku} \\ \text{upravíme na derivaci jmenovatele} \end{array} \right| = \\ &= 3t^2 + 2 \ln |t+1| - \int \frac{2t-1}{t^2-t+1} dt - \int \frac{3}{t^2-t+1} dt = \left| \begin{array}{l} \text{jmenovatel na} \\ \text{úplný čtverec} \end{array} \right| = \\ &= \left| t^2 - t + 1 = \left(t - \frac{1}{2} \right)^2 + 1 - \frac{1}{4} = \frac{3}{4} \left[\frac{4}{3} \left(t - \frac{1}{2} \right)^2 + 1 \right] = \frac{3}{4} \left[\left(\frac{2}{\sqrt{3}} t - \frac{1}{\sqrt{3}} \right)^2 + 1 \right] \right| = \\ &= 3t^2 + 2 \ln |t+1| - \ln(t^2 - t + 1) - 2\sqrt{3} \operatorname{arctg} \frac{2t-1}{\sqrt{3}} + c = \\ &= 3\sqrt[3]{x} + \ln \frac{(\sqrt[6]{x} + 1)^2}{\sqrt[3]{x} - \sqrt[6]{x} + 1} - 2\sqrt{3} \operatorname{arctg} \frac{2\sqrt[6]{x} - 1}{\sqrt{3}} + c. \end{aligned}$$

□

B) V integrálu tvaru

$$\int R \left(x, \left(\frac{ax+b}{cx+d} \right)^{\frac{1}{k_1}}, \left(\frac{ax+b}{cx+d} \right)^{\frac{1}{k_2}}, \dots, \left(\frac{ax+b}{cx+d} \right)^{\frac{1}{k_n}} \right) dx, \quad k_1, k_2, \dots, k_n \in \mathbb{N},$$

je vhodné zavést substituci

$$t = \left(\frac{ax+b}{cx+d} \right)^{\frac{1}{k}},$$

kde k je nejmenší společný násobek čísel k_1, k_2, \dots, k_n .

Příklad 4.19.

Vypočítáme integrál $\int \sqrt{\frac{1+x}{1-x}} \frac{1}{(1-x)(1+x)^2} dx$.

Řešení. Integrand je definován pro $\frac{1+x}{1-x} \geq 0$, $x \neq -1$, tedy pro $x \in (-1, 1)$. Na tomto intervalu je funkce $g(x) = \frac{1+x}{1-x}$ klesající:

$$g'(x) = \frac{-2}{(1-x)^2} < 0 \quad \forall x, \quad \text{navíc je} \quad g(x) = \frac{1+x}{1-x} < 0 \quad \forall x \in (-1, 1).$$

Proto existuje g^{-1} v intervalu $(0, \infty)$. Položíme tedy

$$t = \sqrt{\frac{1+x}{1-x}}, \quad t^2 = \frac{1+x}{1-x}. \quad \text{Odtud} \quad x = \frac{t^2-1}{t^2+1}, \quad dx = \frac{4t}{(t^2+1)^2} dt.$$

Pro přehlednost nejdříve vypočítáme potřebné výrazy:

$$1-x = 1 - \frac{t^2-1}{t^2+1} = \frac{2}{t^2+1}, \quad 1+x = 1 + \frac{t^2-1}{t^2+1} = \frac{2t^2}{t^2+1}.$$

Odtud

$$\begin{aligned} \int \sqrt{\frac{1+x}{1-x}} \frac{1}{(1-x)(1+x)^2} dx &= \int t \frac{(t^2+1)}{2} \frac{(t^2+1)^2}{4t^4} \frac{4t}{(t^2+1)^2} dt = \\ &= \int \frac{t^2+1}{2t^2} dt = \frac{t}{2} - \frac{1}{2t} + c = \frac{1}{2} \left(\sqrt{\frac{1+x}{1-x}} - \sqrt{\frac{1-x}{1+x}} \right) + c. \end{aligned}$$

□

C) Pro výpočet integrálu tvaru

$$\int R(x, \sqrt{ax^2 + bx + c}) dx$$

použijeme Eulerovy substituce $\begin{cases} t = \sqrt{ax^2 + bx + c} \pm x\sqrt{a}, & \text{je-li } a > 0, \\ t \cdot x = \sqrt{ax^2 + bx + c} \pm \sqrt{c}, & \text{je-li } c \geq 0. \end{cases}$

Má-li kvadratický trojčlen $ax^2 + bx + c$ reálné kořeny α, β , tedy platí-li $ax^2 + bx + c = a(x-\alpha)(x-\beta)$, můžeme provést následující úpravu:

$$\sqrt{ax^2 + bx + c} = \sqrt{a(x-\alpha)(x-\beta)} = \sqrt{a \frac{(x-\alpha)^2}{x-\alpha} (x-\beta)} = (x-\alpha) \sqrt{a \frac{x-\beta}{x-\alpha}}$$

a jedná se tedy o případ **B**).

Příklad 4.20.

Vypočítáme integrál $\int \frac{1}{x \sqrt{x^2 + 2x + 3}} dx$.

Řešení.

Zde je $a = 1 > 0$ a položíme $t = \sqrt{x^2 + 2x + 3} - x$, $\sqrt{x^2 + 2x + 3} = x + t$,

$$\text{tedy } x^2 + 2x + 3 = x^2 + 2tx + t^2,$$

$$\text{odtud } x = \frac{3-t^2}{2(t-1)} \quad \text{a dále} \quad dx = \frac{-t^2 + 2t - 3}{2(t-1)^2} dt,$$

$$\begin{aligned}\sqrt{x^2 + 2x + 3} &= x + t = \frac{3 - t^2}{2(t - 1)} + t = \frac{t^2 - 2t + 3}{2(t - 1)} \\ \int \frac{1}{x \sqrt{x^2 + 2x + 3}} dx &= 2 \int \frac{1}{t^2 - 3} dt = \frac{\sqrt{3}}{3} \int \left(\frac{1}{t - \sqrt{3}} - \frac{1}{t + \sqrt{3}} \right) dt = \\ &= \frac{\sqrt{3}}{3} \ln \left| \frac{t - \sqrt{3}}{t + \sqrt{3}} \right| + c = \frac{\sqrt{3}}{3} \ln \left| \frac{x + \sqrt{3} - \sqrt{x^2 + 2x + 3}}{x - \sqrt{3} - \sqrt{x^2 + 2x + 3}} \right| + c.\end{aligned}$$

□

Poznámka:

$$\text{V integrálu tvaru } \int \frac{1}{\sqrt{ax^2 + bx + c}} dx$$

doplníme výraz pod odmocninou na úplný čtverec a jednoduchou substitucí převedeme přímo na některý integrační vzorec.

Příklad 4.21.

$$\text{Vypočteme integrál } \int \frac{1}{\sqrt{3 - 2x - 5x^2}} dx.$$

Řešení. Upravíme kvadratický trojčlen pod odmocninou:

$$3 - 2x - 5x^2 = -5 \left(x^2 + \frac{2}{5}x - \frac{3}{5} \right) = -5 \left[\left(x + \frac{1}{5} \right)^2 - \frac{16}{25} \right] = \frac{16}{5} \left[1 - \left(\frac{5}{4}x + \frac{1}{4} \right)^2 \right].$$

$$\begin{aligned}\text{Tedy } \int \frac{1}{\sqrt{3 - 2x - 5x^2}} dx &= \frac{\sqrt{5}}{4} \int \frac{1}{\sqrt{1 - \left(\frac{5}{4}x + \frac{1}{4} \right)^2}} dx = \\ &= \frac{\sqrt{5}}{4} \frac{4}{5} \arcsin \left(\frac{5}{4}x + \frac{1}{4} \right) + c = \frac{\sqrt{5}}{5} \arcsin \left(\frac{5}{4}x + \frac{1}{4} \right) + c.\end{aligned}$$

□

D) Pro integrály tvaru

$$\left. \begin{aligned} \int R(x, \sqrt{a^2 - x^2}) dx \\ \int R(x, \sqrt{a^2 + x^2}) dx \\ \int R(x, \sqrt{x^2 - a^2}) dx \end{aligned} \right\} \begin{array}{l} \text{je možné užít} \\ \text{trigonometrické} \\ \text{substituce} \end{array} \left\{ \begin{array}{l} x = a \sin t, \quad x = a \cos t, \\ x = a \operatorname{tg} t, \quad x = a \operatorname{cotg} t, \\ x = \frac{a}{\cos t}, \quad x = \frac{a}{\sin t}. \end{array} \right.$$

Příklad 4.22.

$$\text{Vypočítáme integrál } \int \frac{1}{(9 + x^2)\sqrt{9 + x^2}} dx.$$

Řešení. Položíme $x = 3 \operatorname{tg} t$ pro $t \in \left(-\frac{\pi}{2}, \frac{\pi}{2}\right)$. Potom

$$dx = \frac{3}{\cos^2 t} dt, \quad 9 + x^2 = 9 + 9 \frac{\sin^2 t}{\cos^2 t} = 9 \frac{\cos^2 t + \sin^2 t}{\cos^2 t} = \frac{9}{\cos^2 t}.$$

$$\begin{aligned} \text{Tedy} \quad & \int \frac{1}{(9+x^2)\sqrt{9+x^2}} dx = \int \frac{\cos^2 t}{9} \frac{\sqrt{\cos^2 t}}{3} \frac{3}{\cos^2 t} dt = \\ & = \left| \text{pro } t \in \left(-\frac{\pi}{2}, \frac{\pi}{2}\right) \text{ je } \cos t > 0 \right| = \frac{1}{9} \int \cos t dt = \frac{1}{9} \sin t + c = * \end{aligned}$$

– výsledek je třeba vyjádřit v proměnné x .

$$\text{Je } \operatorname{tg}^2 t = \frac{\sin^2 t}{\cos^2 t} = \frac{\sin^2 t}{1 - \sin^2 t}, \quad \text{odtud } \sin^2 t = \frac{\operatorname{tg}^2 t}{1 + \operatorname{tg}^2 t},$$

$$\text{tedy } \sin t = \frac{\operatorname{tg} t}{\sqrt{1 + \operatorname{tg}^2 t}} \quad (\text{pro } t \in \left(-\frac{\pi}{2}, \frac{\pi}{2}\right) \text{ mají } \sin \text{ a } \operatorname{tg} \text{ stejná znaménka}).$$

$$\text{Závěrem } * = \frac{1}{9} \sin t + c = \frac{1}{9} \frac{\operatorname{tg} t}{\sqrt{1 + \operatorname{tg}^2 t}} + c = \frac{1}{9} \frac{x}{\sqrt{9 + x^2}} + c.$$

Substituci $x = 2 \sin t$ jsme použili v příkladu 4.15. □

Integrace trigonometrických funkcí

Při použití trigonometrické substituce na integrál z iracionální funkce jsme pochopitelně dostali racionální lomenou funkci v sinech a kosinech – v tomto odstavci naznačíme, jak se takové integrály počítají.

Integrál tvaru

$$\int R(\sin x, \cos x) dx$$

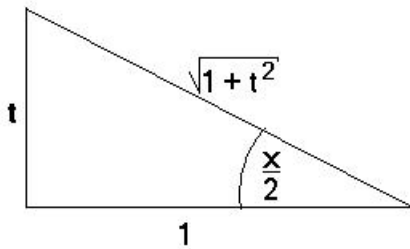
převede **univerzální goniometrická substituce** $t = \operatorname{tg} \frac{x}{2}$ na integrál z racionální lomené funkce proměnné t .

K odvození vztahů pro $\sin x$ a $\cos x$ použijeme následující obrázek:

$$\text{Přitom } dt = \frac{1}{2} \frac{1}{\cos^2 \frac{x}{2}} dx \quad \text{a odtud plyne } dx = \frac{2}{1+t^2} dt.$$

Příklad 4.23.

$$\text{Vypočítáme integrál } \int \frac{1}{4 \sin x - 7 \cos x - 7} dx.$$



Obr. 4.1:

$$\begin{aligned}\sin \frac{x}{2} &= \frac{t}{\sqrt{1+t^2}}, & \cos \frac{x}{2} &= \frac{1}{\sqrt{1+t^2}}, \\ \sin x &= \sin 2 \frac{x}{2} = 2 \sin \frac{x}{2} \cos \frac{x}{2} = \frac{2t}{1+t^2}, \\ \cos x &= \cos 2 \frac{x}{2} = \cos^2 \frac{x}{2} - \sin^2 \frac{x}{2} = \frac{1-t^2}{1+t^2}.\end{aligned}$$

Řešení. S využitím odvozených vztahů dostaneme:

$$\begin{aligned}\int \frac{1}{4 \sin x - 7 \cos x - 7} dx &= \int \frac{1}{\frac{8t}{1+t^2} - \frac{7-7t^2}{1+t^2} - 7} \frac{2}{1+t^2} dt = \\ &= \int \frac{2 dt}{8t - 7 + 7t^2 - 7 - 7t^2} = \int \frac{1}{4t - 7} dt = \frac{1}{4} \ln |4t - 7| + c = \\ &= \frac{1}{4} \ln \left| 4 \operatorname{tg} \frac{x}{2} - 7 \right| + c.\end{aligned}$$

□

V mnoha případech ovšem tato substituce vede na velmi komplikované racionální lomené funkce. Ve speciálních situacích je možné použít jednodušší substituce:

A) Je-li $R(\sin x, \cos x)$ lichá v sinu (resp. v kosinu), tedy platí-li

$$R(-\sin x, \cos x) = -R(\sin x, \cos x) \quad (\text{resp. } R(\sin x, -\cos x) = -R(\sin x, \cos x)),$$

použijeme substituci $t = \cos x$ (resp. $t = \sin x$).

Podstata této substituce spočívá v tom, že ta goniometrická funkce, vzhledem ke které je příslušná racionální lomená funkce lichá, se dá vytknout k diferenciálu, přičemž zůstává v integrandu v sudé mocnině, a tedy se dá převést na tu funkci, která bude v substituci.

Příklad 4.24.

Máme vypočítat integrál $\int \frac{\sin^3 x}{1 + \cos x} dx$.

Řešení. Integrovaná funkce je lichá v sinu, zavedeme substituci $\cos x = t$:

$$\begin{aligned}\int \frac{\sin^3 x}{1 + \cos x} dx &= \int \frac{\sin^2 x}{1 + \cos x} \sin x dx = \int \frac{1 - \cos^2 x}{1 + \cos x} \sin x dx = \\ &= \left| \begin{array}{l} t = \cos x \\ dt = -\sin x dx \end{array} \right| = - \int \frac{1 - t^2}{1 + t} dt = - \int (1 - t) dt = -t + \frac{1}{2} t^2 + c =\end{aligned}$$

$$= c - \cos t + \frac{1}{2} \cos^2 t.$$

□

Jistě jsme mohli použít také univerzální goniometrickou substituci, ovšem výpočet by byl podstatně komplikovanější:

$$\int \frac{\sin^3 x}{2 + \cos x} dx = \int \frac{\frac{t^3}{(1+t^2)^3}}{2 + \frac{1-t^2}{1+t^2}} \frac{2}{1+t^2} dt = \int \frac{2t^3}{(1+t^2)^3(3+t^2)} dt,$$

v rozkladu na parciální zlomky bychom museli předpokládat čtyři zlomky příslušné komplexním kořenům, tedy 8 neurčitých koeficientů, a pro integraci bychom museli použít nejméně dvakrát rekurentní vzorec.

B) Je-li $R(\sin x, \cos x)$ sudá v sinu a kosinu současně, tedy platí-li

$$R(-\sin x, -\cos x) = R(\sin x, \cos x), \quad \text{použijeme substituci } t = \operatorname{tg} x.$$

$$\text{Potom } \sin x = \frac{t}{\sqrt{1+t^2}}, \quad \cos x = \frac{1}{\sqrt{1+t^2}} \text{ a } dx = \frac{1}{1+t^2} dt.$$

Protože je příslušná racionální funkce sudá v sinu a kosinu současně, odmocniny se při výpočtu odstraní.

Příklad 4.25.

$$\text{Máme vypočítat integrál } \int \frac{\sin 2x}{\sin^2 x + 2 \cos^2 x} dx.$$

Řešení. Protože $\sin 2x = 2 \sin x \cos x$, má integrand požadovanou vlastnost. Dostaneme:

$$\begin{aligned} \int \frac{2 \sin x \cos x}{\sin^2 x + 2 \cos^2 x} dx &= \int \frac{2 \frac{t}{\sqrt{1+t^2}} \frac{1}{\sqrt{1+t^2}}}{\frac{t^2}{1+t^2} + 2 \frac{1}{1+t^2}} \frac{1}{1+t^2} dt = \int \frac{2t}{(1+t^2)(2+t^2)} dt = \\ &= \int \left(\frac{2t}{1+t^2} - \frac{2t}{2+t^2} \right) dt = \ln(1+t^2) - \ln(2+t^2) + c = \ln \frac{1+\operatorname{tg}^2 x}{2+\operatorname{tg}^2 x} + c = \\ &= \ln \frac{\cos^2 x + \sin^2 x}{2 \cos^2 x + \sin^2 x} + c = c - \ln(1 + \cos^2 x). \end{aligned}$$

□

Je-li integrand tvaru součinu sudých mocnin sinů a kosinů (tedy nejedná se o zlomek), můžeme ho zjednodušit pomocí součtových vzorců

$$\sin^2 x = \frac{1}{2}(1 - \cos 2x), \quad \cos^2 x = \frac{1}{2}(1 + \cos 2x).$$

Příklad 4.26.

$$\begin{aligned}
\int \sin^4 x \cos^2 x \, dx &= \int \left(\frac{1}{2}(1 - \cos 2x) \right)^2 \frac{1}{2}(1 + \cos 2x) \, dx = \\
&= \frac{1}{8} \int (1 - 2\cos 2x + \cos^2 2x)(1 + \cos 2x) \, dx = \\
&= \frac{1}{8} \int (1 - \cos 2x - \cos^2 2x + \cos^3 2x) \, dx = \\
&= \frac{1}{8} \int \left(1 - \cos 2x - \frac{1}{2}(1 + \cos 4x) \right) \, dx + \frac{1}{16} \int (1 - \sin^2 2x) 2 \cos 2x \, dx = \\
&= \left| \text{ve druhém integrálu : } \begin{array}{l} t = \sin 2x \\ dt = 2 \cos 2x \, dx \end{array} \right| = \frac{1}{16} x - \frac{1}{16} \sin 2x - \frac{1}{64} \sin 4x + \\
&+ \frac{1}{16} \int (1 - t^2) \, dt = \frac{1}{16} x - \frac{1}{16} \sin 2x - \frac{1}{64} \sin 4x + \frac{1}{16} \left(t - \frac{1}{3} t^3 \right) + c = \\
&= \frac{1}{16} x - \frac{1}{16} \sin 2x - \frac{1}{64} \sin 4x + \frac{1}{16} \sin 2x - \frac{1}{48} \sin^3 2x + c = \\
&= \frac{1}{16} x - \frac{1}{64} \sin 4x - \frac{1}{48} \sin^3 2x + c.
\end{aligned}$$

Pro výpočet neurčitých integrálů lze použít tyto Maplety:

[Primitivní funkce](#), [Metoda per partes](#), [Substituční metoda](#).

Shrnutí

V této kapitole jsme zavedli pojem

- primitivní funkce k funkci f na intervalu \mathcal{I} : funkce F , pro kterou platí $F'(x) = f(x)$ na intervalu \mathcal{I} ,
- neurčitý integrál z funkce f : $\int f(x) \, dx = F(x) + c$ – systém všech primitivních funkcí k funkci f .

Dále jsme se věnovali výpočtu neurčitého integrálu.

Následující vztahy snadno odvodíme na základě vztahů pro derivování. Pro zjednodušení nebudeme psát integrační konstantu.

Vzorce pro výpočet neurčitých integrálů

| | |
|---|---|
| $\int 0 dx = c$ | $\int 1 dx = x$ |
| $\int x^k dx = \frac{x^{k+1}}{k+1}, k \neq -1$ | $\int \frac{1}{x} dx = \ln x , x \neq 0$ |
| $\int \sin x dx = -\cos x$ | $\int \cos x dx = \sin x$ |
| $\int \frac{1}{\sin^2 x} dx = -\operatorname{cotg} x$ | $\int \frac{1}{\cos^2 x} dx = \operatorname{tg} x$ |
| $\int e^x dx = e^x$ | $\int a^x dx = \frac{a^x}{\ln a}, a > 0, a \neq 1$ |
| $\int \sinh x dx = \cosh x$ | $\int \cosh x dx = \sinh x$ |
| $\int \frac{dx}{x^2 + a^2} = \frac{1}{a} \operatorname{arctg} \frac{x}{a}, a > 0$ | $\int \frac{dx}{x^2 - a^2} = \frac{1}{2a} \ln \left \frac{x-a}{x+a} \right , \begin{matrix} x \neq a, \\ a > 0 \end{matrix}$ |
| $\int \frac{dx}{\sqrt{x^2 + b}} = \ln x + \sqrt{x^2 + b} , b \neq 0$ | $\int \frac{dx}{\sqrt{a^2 - x^2}} = \operatorname{arcsin} \frac{x}{a}, x < a, a > 0$ |
| $\int \sqrt{x^2 + b} dx = \frac{x}{2} \sqrt{x^2 + b} + \frac{b}{2} \ln x + \sqrt{x^2 + b} , b \neq 0$ | |

Důležité integrály

| | |
|--|---|
| $\int \frac{f'(x)}{f(x)} dx = \ln f(x) $ | $\int f(ax + b) dx = \frac{1}{a} F(ax + b)$ |
|--|---|

Uvedli jsme pravidla pro výpočet neurčitých integrálů:

- linearita: $\int (a f(x) + b g(x)) dx = a \int f(x) dx + b \int g(x) dx,$
- metoda per partes: $\int u(x) v'(x) dx = u(x) v(x) - \int u'(x) v(x) dx,$
- substituční metoda: $\int f(x) dx = \int f[g(t)] g'(t) dt,$ kde $x = g(t).$

Některé typy integrálů řešitelné metodou per partes

Je-li $P(x)$ polynom (i konstanta), potom u integrálu

| | | | |
|---|---------|--|--|
| $\left. \begin{array}{l} \int P(x) \ln x \, dx \\ \int P(x) \operatorname{arctg} x \, dx \\ \int P(x) \operatorname{arcsin} x \, dx \end{array} \right\}$ | klademe | $u = \begin{cases} \ln x \\ \operatorname{arctg} x \\ \operatorname{arcsin} x \end{cases}$ | $(u'$ je rac. resp. irac. funkce) |
| $\left. \begin{array}{l} \int P(x) \cos x \, dx \\ \int P(x) \sin x \, dx \\ \int P(x) a^x \, dx \end{array} \right\}$ | klademe | $u = P(x)$ | a metodu opakujeme tolikrát jako je stupeň polynomu |

Některé doporučené substituce

($R(\cdot)$ je racionální lomená funkce)

| Typ integrálu | Substituce |
|--|--|
| $\int R(x, x^{\frac{1}{k_1}}, x^{\frac{1}{k_2}}, \dots, x^{\frac{1}{k_n}}) dx, \quad k_i \in \mathbb{N}$ | $t = x^{\frac{1}{k}}, \quad k$ nejm. spol. násobek k_i |
| $\int R\left(x, \left(\frac{ax+b}{cx+d}\right)^{\frac{1}{k_1}}, \dots, \left(\frac{ax+b}{cx+d}\right)^{\frac{1}{k_n}}\right) dx, \quad k_i \in \mathbb{N}$ | $t = \left(\frac{ax+b}{cx+d}\right)^{\frac{1}{k}}, \quad k$ nejm. spol. násobek k_i |
| $\int R(x, \sqrt{ax^2 + bx + c}) dx, \quad a \neq 0$ | $t = \sqrt{ax^2 + bx + c} \pm x\sqrt{a} \quad \text{pro } a > 0$ $xt = \sqrt{ax^2 + bx + c} \pm \sqrt{c} \quad \text{pro } c \geq 0$ |
| $\int R(x, \sqrt{a^2 - x^2}) dx$ | $x = a \sin t \quad \text{nebo } x = a \cos t$ |
| $\int R(x, \sqrt{x^2 + a^2}) dx$ | $x = a \operatorname{tg} t$ |
| $\int R(x, \sqrt{x^2 - a^2}) dx$ | $x = \frac{a}{\sin t} \quad \text{nebo } x = \frac{a}{\cos t}$ |
| $\int R(\cos x, \sin x) dx$ | $\operatorname{tg} \frac{x}{2} = t$ $\sin x = t, \quad R$ lichá v kosinu $\cos x = t, \quad R$ lichá v sinu $\operatorname{tg} x = t, \quad R$ sudá v sinu a kosinu |
| $\int R(\operatorname{tg} x) dx$ | $t = \operatorname{tg} x$ |
| $\int R(e^x) dx$ | $t = e^x$ |

Uvedené substituce převedou integrál daného typu na integrál z racionální funkce $R(t)$.

Racionální lomené funkce pro integraci rozkládáme na parciální zlomky.

Otázky a úlohy

1. Co je to primitivní funkce a co neurčitý integrál?
2. Čemu se rovná $\int f'(x) dx$ a čemu $[\int f(x) dx]'$?
3. Formulujte vztah pro integraci per partes.
4. Označme $I_n = \int \ln^n x dx$. Užitím metody per partes ukažte, že pro $n > 1$ platí

$$I_n = x \ln^n x - n I_{n-1}.$$

5. S použitím předchozího vzorce a výsledku příkladu 4.11 stanovte $\int \ln^3 x dx$.
6. Popište metodu substituce v neurčitém integrálu.
7. Vypočtěte $\int g^3(x) g'(x) dx$.
8. Jmenovatel jisté racionální lomené funkce je tvaru $(x^2 + 1)^2(x^2 + 2x + 2)^3$. Kolik neurčitých koeficientů budeme hledat při rozkladu této funkce na parciální zlomky? Jaký tvar bude mít tento rozklad?
9. Integrujeme parciální zlomek tvaru $\frac{Mx+N}{ax^2+bx+c}$. Jakého typu bude primitivní funkce? (Tedy bude to polynom, racionální lomená funkce, exponenciální funkce, logaritmus, arkus sinus, arkus tangens, ...?)
10. Eulerovy substituce pro integrály obsahující odmocninu z kvadratického trojčlenu, tedy $\sqrt{ax^2 + bx + c}$, jsou dvě – pro případ $a > 0$ a $c \geq 0$. Platí-li $a > 0$ a současně $c \geq 0$, která Eulerova substituce bude vhodnější?
11. Integrál $\int \sin^3 x \cos^3 x dx$ můžeme vypočítat všemi trigonometrickými substitucemi. Transformujte tento integrál pomocí všech těchto substitucí a dále zadaný integrál upravte pomocí součtového vzorce $\sin 2x = 2 \sin x \cos x$. Porovnejte všechny vzniklé integrály a nejjednodušší vypočítejte.

Cvičení

1. Pomocí vhodné úpravy integrandu s užitím tabulky primitivních funkcí (event. i „důležitých integrálů“) vypočítejte integrály $\int f(x) dx$, je-li $f(x)$ rovno:

- | | |
|--|---|
| a) $\frac{1}{3}x^2 - \frac{1}{5x}$, | b) $\frac{\sqrt{x^4 + 2 + x^{-4}}}{x^3}$, |
| c) $\frac{x^3 - 1}{x - 1}$, | d) $5 \cos x - \sqrt{3}x^5 + \frac{3}{1 + x^2}$, |
| e) $10^{-x} + \frac{x^2 + 2}{1 + x^2}$, | f) $\frac{\sqrt{1 + x^2} + \sqrt{1 - x^2}}{\sqrt{1 - x^4}}$, |
| g) $\frac{(2^x - 3^x)^2}{6^x}$, | h) $\operatorname{tg}^2 x$, |

- i) $\frac{x}{x^2 - 3}$, j) $\frac{1}{x \ln x}$,
 k) $\operatorname{tg} x + \operatorname{cotg} x$, l) $\frac{1}{\sqrt{1-x^2} \arcsin x}$,
 m) $(3x - 11)^9$, n) $\frac{3}{2 - 5x}$,
 o) $\frac{1}{(a + bx)^n}$, $b \neq 0$, $n > 1$, p) $\frac{x}{(a + bx)^n}$, $b \neq 0$, $n > 2$.

2. Pomocí metody per partes vypočítejte integrály $\int f(x) dx$, je-li $f(x)$ rovno:

- a) $x e^{2x}$, b) $x \sin x$,
 c) $x \ln x$, d) $x \ln^2 x$,
 e) $(x^2 + x) \ln(x + 1)$, f) $(x^2 + 6x + 3) \cos 2x$,
 g) $\ln(x + \sqrt{1 + x^2})$, h) $\arcsin \sqrt{\frac{x}{x+1}}$,
 i) $e^x \sin x$, j) $e^{2x} \cos x$,
 k) $\sin x \ln(\operatorname{tg} x)$, l) $x \operatorname{tg}^2 x$.

3. Pomocí vhodné substituce vypočítejte integrály $\int f(x) dx$, je-li $f(x)$ rovno:

- a) $\frac{4^x}{1 + 4^{2x}}$, b) $2e^{x^3} x^2$,
 c) $\frac{e^{\frac{1}{x}}}{x^2}$, d) $e^{\cos^2 x} \sin 2x$,
 e) $\frac{\ln^4 x}{x}$, f) $\frac{3}{x\sqrt{1 - \ln^2 x}}$,
 g) $\frac{\ln \operatorname{arctg} x}{(1 + x^2) \operatorname{arctg} x}$, h) $\frac{\cos(\ln x)}{x}$,
 i) $\frac{\cos 2x}{2 + 3 \sin 2x}$, j) $\frac{2x^2}{\cos^2(x^3 + 1)}$,
 k) $\frac{1}{x^2} \sin \frac{1}{x}$, l) $\frac{1}{\cos^2 x \sqrt{\operatorname{tg} x - 1}}$.

4. Vypočítejte integrály z následujících racionálních lomených funkcí:

- a) $\frac{1}{x(x+1)(x+2)}$, b) $\frac{3x^2 + 30x - 120}{(x-2)(x+2)(x-5)}$,
 c) $\frac{9x^4 + 3x^3 - 23x^2 + x}{9x^3 - 6x^2 - 5x + 2}$, d) $\frac{9x - 14}{9x^2 - 24x + 16}$,
 e) $\frac{3x - 4}{(x-2)(x-1)^3}$, f) $\frac{x^4 - 10x^3 + 36x^2 - 46x + 25}{x^3 - 9x^2 + 27x - 27}$,

$$\begin{array}{ll}
\text{g)} & \frac{x^4}{x^2 + 3}, & \text{h)} & \frac{x^2 + 3x + 2}{x^2 + x + 2}, \\
\text{i)} & \frac{1}{x^3 + x^2 + x}, & \text{j)} & \frac{x^2 - 2x + 1}{(x^2 - 2x + 2)(x^2 - 2x + 5)}, \\
\text{k)} & \frac{1}{x^4 + 1}, & \text{l)} & \frac{x^3 + x - 1}{(x^2 + 1)^2}, \\
\text{m)} & \frac{x}{(x^2 + 3x + 3)^2}, & \text{n)} & \frac{1}{(x + 1)^2(x^2 + 1)^2}, \\
\text{o)} & \frac{1}{(1 + x^2)^3}, & \text{p)} & \frac{1}{(1 + x^3)^2}.
\end{array}$$

5. Vypočítejte integrály z následujících iracionálních funkcí:

$$\begin{array}{ll}
\text{a)} & \frac{1 - \sqrt{x}}{1 + \sqrt{x}}, & \text{b)} & \frac{\sqrt[6]{x} + 1}{\sqrt[6]{x^7} + \sqrt[4]{x^5}}, \\
\text{c)} & \frac{1}{x\sqrt{x-4}}, & \text{d)} & \frac{1}{\sqrt{x+1} - \sqrt[3]{(x+1)^2}}, \\
\text{e)} & \sqrt{\frac{1+x}{1-x}}, & \text{f)} & \frac{1}{\sqrt{(x-2)^3(x-3)}}, \\
\text{g)} & \frac{1}{\sqrt{x^2 + x + 1}}, & \text{h)} & \frac{1}{\sqrt{3x^2 - 5x + 8}}, \\
\text{i)} & \frac{1}{\sqrt{3 - 2x - 5x^2}}, & \text{j)} & \frac{x}{\sqrt{x^2 - 4x + 1}}, \\
\text{k)} & \frac{\sqrt{x^2 + 2x}}{x}, & \text{l)} & \frac{2x + 1}{\sqrt{x^2 + x}}, \\
\text{m)} & \frac{x^5}{\sqrt{1 + x^2}}, & \text{n)} & \frac{x^6}{\sqrt{1 - x^2}}.
\end{array}$$

6. Vypočítejte integrály z následujících trigonometrických funkcí:

$$\begin{array}{ll}
\text{a)} & \frac{1}{\sin x - \cos x}, & \text{b)} & \frac{1}{\cos x - 2 \sin x + 3}, \\
\text{c)} & \frac{\cos x}{\cos x - 1}, & \text{d)} & \frac{1 + \sin x + \cos x}{1 - \sin x - \cos x}, \\
\text{e)} & \frac{1 - \operatorname{tg} x}{1 + \operatorname{tg} x}, & \text{f)} & \frac{1}{4 - 3 \sin^2 x}, \\
\text{g)} & \frac{1}{2 + 2 \cos^2 x}, & \text{h)} & \frac{1}{\sin^2 x + 3 \cos^2 x + 2}, \\
\text{i)} & \frac{\sin x}{(1 + \cos x)^3}, & \text{j)} & \frac{\cos x}{\sin^2 x + 6 \sin x + 5}, \\
\text{k)} & \cos^5 x, & \text{l)} & \sin^6 3x, \\
\text{m)} & \frac{1}{\cos x}, & \text{n)} & \frac{1}{\sin^6 x}.
\end{array}$$

7. Pomocí některé vhodné integrační metody určete integrály z následujících funkcí:

- a) $\sqrt{\frac{1-e^x}{1+e^x}}$, b) $x^2 e^{\sqrt{x}}$,
 c) $x^3 \ln^3 x$, d) $\frac{\ln^3 x}{x^3}$,
 e) $\frac{\ln(x + \sqrt{1+x^2})}{\sqrt{(1+x^2)^3}}$, f) $\frac{\ln x}{\sqrt{(1-4x^2)^3}}$,
 g) $x \operatorname{arctg} x \ln(1+x^2)$, h) $\frac{\ln \cos x}{\sin^2 x}$,
 i) $\frac{\arcsin e^x}{e^x}$, j) $\frac{\operatorname{arctg} x}{x^2}$,
 k) $\frac{x \operatorname{arctg} x}{(1+x^2)^2}$, l) $\frac{x \operatorname{arctg} x}{(x^2-1)^2}$.

8. Najděte funkci, jejíž graf prochází bodem A a má v libovolném bodě $[x, y]$ směrnici k , je-li

a) $A = [0, 1]$, $k = 12x + 1$, b) $A = [3, 2]$, $k = 2x^2 - 5$.

9. Částice se pohybuje podél osy x se zrychlením $a = (2t - 3) \text{ m/s}^2$. V čase $t = 0$ je v počátku a pohybuje se rychlostí 4 m/s ve směru rostoucího x . Najděte funkční předpis pro rychlost v a polohu s a zjistěte, kdy částice změni směr svého pohybu a kdy se bude pohybovat vlevo.

10. Přepočítejte předchozí příklad pro případ $a = (t^2 - \frac{13}{3}) \text{ m/s}^2$.

11. Řidič zabrzdí automobil jedoucí rychlostí 72 km/h , brzdy způsobí konstantní zpomalení 8 m/s^2 . Za jak dlouho automobil zastaví a jak dlouhá bude brzdná dráha?

Výsledky

Integrační konstantu budeme vynechávat.

1. a) $\frac{x^3}{9} - \frac{1}{5} \ln|x|$, b) $\ln|x| - \frac{1}{4x^4}$, c) $\frac{1}{3}x^3 + \frac{1}{2}x^2 + x$, d) $5 \sin x - \frac{\sqrt{3}x^6}{6} + 3 \operatorname{arctg} x$, e) $-\frac{1}{10^x \ln 10} + x + \operatorname{arctg} x$, f) $\arcsin x + \ln|x + \sqrt{1+x^2}|$, g) $(\frac{2}{3})^x - (\frac{3}{2})^x / (\ln 2 - \ln 3) - 2x$, h) $\operatorname{tg} x - x$, i) $\frac{1}{2} \ln|x^2 - 3|$, j) $\ln|\ln x|$, k) $\ln|\operatorname{tg} x|$, l) $\ln|\arcsin x|$, m) $\frac{1}{30}(3x-11)^{10}$, n) $-\frac{3}{5} \ln|2-5x|$, o) $-\frac{1}{b(n-1)}(a+bx)^{1-n}$, p) $-\frac{1}{b^2(n-2)}(a+bx)^{2-n} + \frac{a}{b^2(n-1)}(a+bx)^{1-n}$;
 2. a) $\frac{1}{4}e^{2x}(2x-1)$, b) $\sin x - x \cos x$, c) $\frac{1}{4}x^2(2 \ln x - 1)$, d) $\frac{1}{2}x^2(\ln^2 x - \ln x + \frac{1}{2})$, e) $\frac{1}{6}(2x^3 + 3x^2) \ln(x+1) - \frac{1}{36}[4x^3 + 3x^2 - 6x + 6 \ln(x+1)]$, f) $\frac{1}{4}(2x^2 + 12x + 5) \sin 2x + \frac{1}{2}(x+3) \cos 2x$, g) $x \ln(x + \sqrt{1+x^2}) - \sqrt{1+x^2}$, h) $x \arcsin \sqrt{\frac{x}{x+1}} - \sqrt{x + \operatorname{arctg} \sqrt{x}}$,
 i) $\frac{1}{2}e^x(\sin x - \cos x)$, j) $\frac{1}{5}e^{2x}(\sin x + 2 \cos x)$, k) $\ln \operatorname{tg} \frac{x}{2} - \cos x \ln \operatorname{tg} x$, l) $x \operatorname{tg} x + \ln|\cos x| - \frac{x^2}{2}$;
 3. a) $\frac{1}{\ln 4} \operatorname{arctg} 4^x$, b) $\frac{2}{3}e^{x^3}$, c) $-e^{\frac{1}{x}}$, d) $-e^{\cos^2 x}$, e) $\frac{1}{5} \ln^5 x$, f) $3 \arcsin(\ln x)$, g) $\frac{1}{2}(\ln|\operatorname{arctg} x|)^2$, h) $\sin(\ln x)$, i) $\frac{1}{6} \ln|2 + 3 \sin 2x|$, j) $\frac{2}{3} \operatorname{tg}(x^3 + 1)$, k) $\cos \frac{1}{x}$, l) $2\sqrt{\operatorname{tg} x - 1}$;
 4. a) $\frac{1}{2} \ln \left| \frac{x(x+2)}{(x+1)^2} \right|$, b) $\ln \left| \frac{(x-2)^4(x-5)^5}{(x+2)^6} \right|$, c) $\frac{1}{2}x^2 + x - \frac{2}{3} \ln|3x+2| + \frac{1}{3} \ln|3x-1| - \ln|x-1|$, d) $\frac{2}{3} \frac{1}{3x-4} + \ln|3x-4|$, e) $\frac{4x-5}{2(x-1)^2} + 2 \ln \left| \frac{x-2}{x-1} \right|$, f) $\frac{(x-1)^2}{(x-3)^2} - \frac{11}{(x-3)^2} - \frac{8}{x-3}$, g) $\frac{x^3}{3} - 3x + 3\sqrt{3} \operatorname{arctg} \frac{x}{\sqrt{3}}$, h) $x + \ln|x^2 + x + 2| - \frac{2}{\sqrt{7}} \operatorname{arctg} \frac{2x-1}{\sqrt{7}}$, i) $\frac{1}{2} \ln \frac{x^2}{x^2+x+1} - \frac{1}{\sqrt{3}} \operatorname{arctg} \frac{2x+1}{\sqrt{3}}$, j) $\frac{2}{3} \operatorname{arctg} \frac{x-1}{2} - \frac{1}{3} \operatorname{arctg}(x-1)$, k) $\frac{1}{4\sqrt{2}} \ln \frac{x^2+x\sqrt{2}+1}{x^2-x\sqrt{2}+1} + \frac{\sqrt{2}}{4} \operatorname{arctg} \frac{x\sqrt{3}}{1-x^2}$, l) $\frac{-x}{2(x^2+1)} - \frac{1}{2} \operatorname{arctg} \frac{x}{\sqrt{2}} + \frac{1}{2} \ln(x^2 - 4x + 6)$, m) $-\frac{x+2}{x^2+3x+3} - \frac{2}{\sqrt{3}} \operatorname{arctg} \frac{2x+3}{\sqrt{3}}$, n) $\frac{-x^2+x}{4(x+1)(x^2+1)} + \frac{1}{2} \ln \frac{|x+1|}{\sqrt{x^2+1}} + \frac{1}{4} \operatorname{arctg} x$, o) $\frac{x}{4(x^2+1)^2} + \frac{3x}{8(x^2+1)} + \frac{3}{8} \operatorname{arctg} x$, p) $\frac{x}{3(x^2+1)} + \frac{1}{9} \ln \frac{(x+1)^2}{x^2-x+1} + \frac{2\sqrt{3}}{9} \operatorname{arctg} \frac{2x-1}{\sqrt{3}}$;

5. a) $-x + 4\sqrt{x} - 4 \ln(\sqrt{x} + 1)$, b) $\frac{-6}{\sqrt{x}} + \frac{12}{12\sqrt{x}} + 24 \ln \left| \frac{12\sqrt{x}}{12\sqrt{x}+1} \right|$, c) $\arctg \frac{\sqrt{x-4}}{2}$, d) $-3\sqrt[3]{x+1} - 6\sqrt[6]{x+1} - 6 \ln |1 - \sqrt[6]{x+1}|$,
 e) $\arcsin x - \sqrt{1-x^2}$, f) $2\sqrt{\frac{x-3}{x-2}}$, g) $\ln |\sqrt{1+x+x^2} + x + \frac{1}{2}|$, h) $\frac{1}{\sqrt{3}} \ln |x\sqrt{3} - \frac{5\sqrt{3}}{6} + \sqrt{3x^2 - 5x + 8}|$, i) $\frac{1}{\sqrt{5}} \arcsin(\frac{5x+1}{4})$,
 j) $\sqrt{x^2 - 4x + 1} + 2 \ln |2x - 4 + 2\sqrt{x^2 - 4x + 1}|$, k) $\sqrt{x^2 + 2x} + \ln |x+1 + \sqrt{x^2 + 2x}|$, l) $2\sqrt{x^2 + x}$, m) $\frac{1}{15}(3x^4 - 4x^2 + 8)\sqrt{1+x^2}$,
 n) $-\frac{1}{48}(8x^5 + 10x^3 + 15x)\sqrt{1-x^2} + \frac{5}{16} \arcsin x$;
 6. a) $\frac{1}{\sqrt{2}} \ln |(\operatorname{tg} \frac{\pi}{8} - \frac{x}{2})|$, b) $\arctg(\operatorname{tg} \frac{\pi}{2} - 1)$, c) $x + \operatorname{cotg} \frac{\pi}{2}$, d) $-x + 2 \ln \left| \frac{1 - \operatorname{tg} \frac{\pi}{2}}{\operatorname{tg} \frac{\pi}{2}} \right|$, e) $\ln |\sin x + \cos x|$, f) $\frac{1}{2} \arctg \frac{\operatorname{tg} x}{2}$, g) $\frac{\sqrt{2}}{4} \arctg \frac{\operatorname{tg} x}{2}$, h) $\frac{1}{\sqrt{15}} \arctg \frac{\sqrt{3} \operatorname{tg} x}{\sqrt{5}}$, i) $\frac{1}{2}(1 + \cos x)$, j) $\frac{1}{4} \ln \left| \frac{1 + \sin x}{5 + \sin x} \right|$, k) $\sin x - \frac{2}{3} \sin^3 x + \frac{1}{5} \sin^5 x$, l) $\frac{5x}{16} - \frac{1}{12} \sin 6x + \frac{1}{64} \sin 12x - \frac{1}{144} \sin^3 6x$, m) $\ln |\operatorname{tg}(\frac{\pi}{4} + \frac{x}{2})|$, n) $-\operatorname{cotg} x - \frac{2}{3} \operatorname{cotg}^3 x - \frac{1}{5} \operatorname{cotg}^5 x$;
 7. a) $-\ln(e^{-x} + \sqrt{e^{-2x} - 1}) - \arcsin e^x$, b) $2e^{\sqrt{x}}[(x^2 + 20x + 120)\sqrt{x} - (5x^2 + 60x + 120)]$, c) $\frac{x^4}{128}(32 \ln^3 x - 24 \ln^2 x + 12 \ln x - 3)$, d) $\frac{-1}{8x^2}(4 \ln^3 x + 6 \ln^2 x + 6 \ln x + 3)$, e) $-\ln \sqrt{1+x^2} + \frac{x}{\sqrt{1+x^2}} \ln |x + \sqrt{1+x^2}|$, f) $\frac{x \ln |x|}{\sqrt{1-4x^2}} - \frac{1}{2} \arcsin 2x$,
 g) $x - \arctg x + \frac{1}{2}[(1+x^2) \arctg x - x] \ln(1+x^2)$, h) $-(\operatorname{cotg} x) \ln |\cos x| - x$, i) $x - e^{-x} \arcsin e^x - \ln(1 + \sqrt{1+e^{2x}})$, j) $\frac{1}{2} \ln \frac{x^2}{1+x^2} - \frac{1}{x} \arctg x$, k) $\frac{(x^2-1) \arctg x + x}{4(1+x^2)}$, l) $\frac{1}{8} \ln \frac{x-1}{x+1} - \frac{1}{2} \left(\frac{1}{2} + \frac{1}{x^2-1} \right) \arctg x$;
 8. a) $f(x) = 6x^2 + x + 1$, b) $f(x) = \frac{2}{3}x^3 - 5x - 1$;
 9. $s = \frac{1}{3}t^3 - \frac{3}{2}t^2 + 4t$, nikdy;
 10. $s = \frac{1}{12}t^4 - \frac{13}{6}t^2 + 4t$, nalevo pro $t < -4$ a $t \in (1, 3)$;
 11. 2,5 s, 25 m.

4.3 Určitý integrál

Motivaci pro pojem určitého integrálu dostaneme, uvažujeme-li problém výpočtu obsahu plochy pod grafem (nezáporné) funkce, definované na nějakém intervalu; tedy plošného obsahu obrazce, který vznikne z obdélníku nahrazením jeho horní strany grafem nějaké funkce. Obsah této plochy se budeme snažit vypočítat jejím přibližným nahrazením obdélníky, jejichž základny budou dohromady tvořit základnu původního obrazce, tedy interval, na němž je shora ohraničující funkce definována. Tento mlhavě nastíněný postup upřesníme tak, že postupně zavedeme potřebné pojmy.

Dělení intervalu

Mějme dána čísla $a = x_0 < x_1 < \dots < x_{n-1} < x_n = b$.

Množinu intervalů

$$D = \{\langle x_0, x_1 \rangle, \langle x_1, x_2 \rangle, \dots, \langle x_{n-1}, x_n \rangle\}$$

nazýváme **dělením** intervalu $\langle a, b \rangle$, body x_0, \dots, x_n **dělicími body**. Číslo

$$\nu(D) = \max(x_1 - x_0, x_2 - x_1, \dots, x_n - x_{n-1})$$

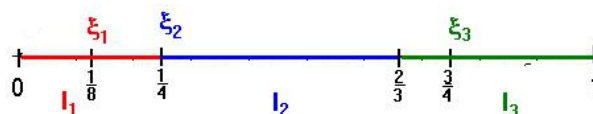
nazveme **normou** dělení D .

Je-li D dělení intervalu $\langle a, b \rangle$ a pro každé $i = 1, 2, \dots, n$ jsou vybrány body ξ_i tak, že $\xi_i \in \langle x_{i-1}, x_i \rangle$, pak dělení D nazveme **dělením s vybranými body**.

V dalším budeme uvažovat jen dělení s vybranými body a budeme hovořit pouze o dělení.

Příklad:

$D = (\{\langle 0, \frac{1}{4} \rangle, \langle \frac{1}{4}, \frac{2}{3} \rangle, \langle \frac{2}{3}, 1 \rangle\}, \{\frac{1}{8}, \frac{1}{4}, \frac{3}{4}\})$ je dělení intervalu $\langle 0, 1 \rangle$, přičemž $\nu(D) = \frac{5}{12}$.

Obr. 4.2: Dělení intervalu $\langle 0, 1 \rangle$

Integrální součet

Nechť $f : \langle a, b \rangle \rightarrow \mathbb{R}$ je funkce, D dělení intervalu $\langle a, b \rangle$. Pak číslo

$$S(D, f) = \sum_{i=1}^n f(\xi_i)(x_i - x_{i-1})$$

nazveme *integrálním součtem* příslušným funkci f s dělením D .

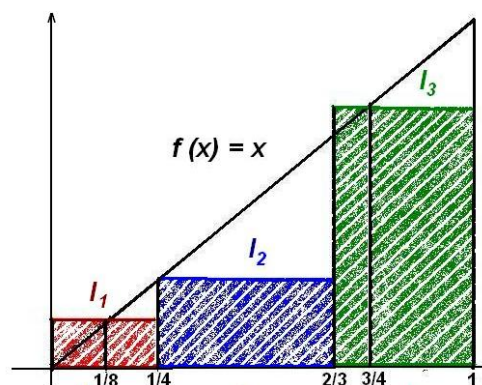
Příklad: Nechť $f(x) = x$,

D dělení intervalu $\langle 0, 1 \rangle$

z předchozího příkladu.

Potom

$$\begin{aligned} S(D, f) &= f\left(\frac{1}{8}\right) \cdot \left(\frac{1}{4}\right) + \\ &+ f\left(\frac{1}{4}\right) \cdot \left(\frac{2}{3} - \frac{1}{4}\right) + f\left(\frac{3}{4}\right) \cdot \left(1 - \frac{2}{3}\right) = \\ &= \frac{1}{8} \cdot \frac{1}{4} + \frac{1}{4} \cdot \frac{5}{12} + \frac{3}{4} \cdot \frac{1}{3} = \frac{37}{96}. \end{aligned}$$

Obr. 4.3: Integrální součet funkce $f(x) = x$

Jestliže bude dělení intervalu dostatečně „jemné“, tedy bude-li se $\nu(D)$ blížit k nule, mohou se zřejmě integrální součty stále více blížit k obsahu „křivočarého lichoběžníku“ – obrazce, který je shora omezen grafem nezáporné funkce, zdola osou x a po stranách přímkami $x = a$, $x = b$. Jestliže tedy existuje číslo \mathcal{J} , vyjadřující obsah takové plochy, musí se dát s libovolnou přesností aproximovat integrálními součty. Tato myšlenka, přesně formulovaná, bude obsahem následující definice.

Určitý (Riemannův) integrál

Definice 4.27. Nechť $f : \langle a, b \rangle \rightarrow \mathbb{R}$ je ohraničená funkce. Řekneme, že f je *integrabilní* (integrace schopná) na intervalu $\langle a, b \rangle$, existuje-li číslo $\mathcal{J} \in \mathbb{R}$ tak, že ke každému $\varepsilon > 0$ existuje $\delta > 0$ tak, že pro každé dělení D intervalu $\langle a, b \rangle$, jehož norma $\nu(D) < \delta$, platí

$$|S(D, f) - \mathcal{J}| < \varepsilon.$$

Číslo \mathcal{J} nazýváme **určitým (Riemannovým) integrálem** funkce f od a do b a píšeme

$$\mathcal{J} = \int_a^b f(x) dx.$$

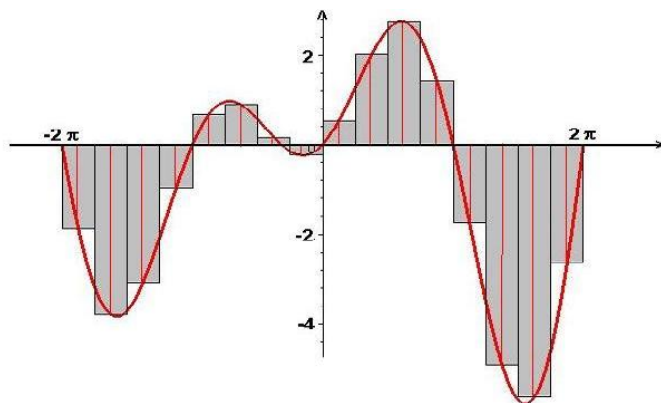
Dále definujeme $\int_b^a f(x) dx = -\int_a^b f(x) dx$, speciálně tedy $\int_a^a f(x) dx = -\int_a^a f(x) dx = 0$.

Poznámky k definici:

- Ve výrazu $\int_a^b f(x) dx$ se a nazývá **dolní mez** integrálu, b **horní mez**, f **integrand**, x **integrační proměnná**.
- Pro integrační proměnnou můžeme volit libovolné označení:

$$\int_a^b f(x) dx = \int_a^b f(t) dt = \int_a^b f(\xi) d\xi \quad \text{atd.}$$

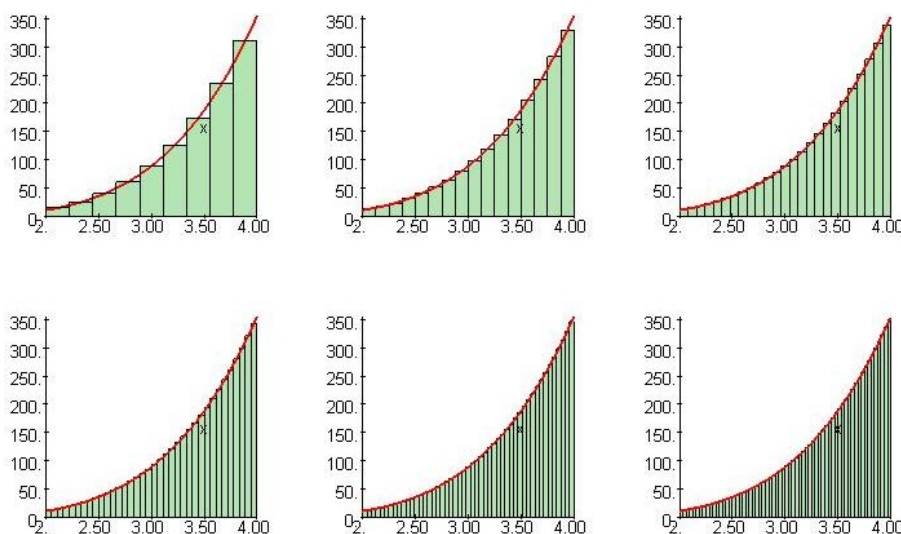
- Určitý integrál je **číslo**. Pro funkci nezápornou na intervalu $\langle a, b \rangle$ vyjadřuje obsah plochy pod grafem funkce f a nad osou x . Pro funkci, která na intervalu $\langle a, b \rangle$ nabývá i záporných hodnot, vyjadřuje rozdíl obsahů ploch nad a pod osou x (viz následující obrázek; čísla ξ_i jsou vybrána vždy uprostřed příslušného intervalu).



Obr. 4.4: Integrální součet funkce $(x + 1) \sin x$

Definice integrálu jistě připomíná definici limity. Skutečně jde o jistý druh limity integrálních součtů pro normu dělení jdoucí k nule, která je obecnější než limita posloupnosti. Pro tuto limitu platí obdobná pravidla jako pro limity, se kterými jsme se již setkali: při limitních přechodech se zachovávají součty, součiny, limita je nejvýš jedna. Můžeme psát

$$\int_a^b f(x) dx = \lim_{\nu(D) \rightarrow 0} \mathcal{S}(D, f).$$

Obr. 4.5: Integrální součty funkce $f(x) = x^4 \ln x$ pro $n = [9, 16, 25, 36, 49, 64]$

Věta 4.28. (O existenci určitého integrálu) Má-li ohraničená funkce f na uzavřeném intervalu $\langle a, b \rangle$ pouze konečně mnoho bodů nespojitosti, pak existuje určitý integrál $\int_a^b f(x) dx$.

Poznámka: Má-li funkce f na intervalu $\langle a, b \rangle$ pouze konečně mnoho bodů nespojitosti, které jsou 1. druhu, říkáme, že je **po částech spojitá** na tomto intervalu. Podle předchozí věty je funkce po částech spojitá na $\langle a, b \rangle$ na tomto intervalu integrovatelná.

Příklad 4.29. Ukažme, že Dirichletova funkce χ definovaná předpisem

$$\chi(x) = \begin{cases} 1 & \text{pro } x \text{ racionální} \\ 0 & \text{pro } x \text{ iracionální} \end{cases}$$

není integrovatelná na žádném intervalu.

Buď D_1 libovolné dělení intervalu $\langle a, b \rangle$ takové, že ξ_i jsou racionální čísla. Pak

$$\mathcal{S}(D_1, \chi) = \sum_{i=1}^n 1 \cdot (x_i - x_{i-1}) = b - a.$$

Buď D_2 libovolné dělení intervalu $\langle a, b \rangle$ takové, že ξ_i jsou iracionální čísla. Pak

$$\mathcal{S}(D_2, \chi) = \sum_{i=1}^n 0 \cdot (x_i - x_{i-1}) = 0.$$

Předpokládejme, že existuje \mathcal{J} . Zvolme $\varepsilon = \frac{1}{2}(b - a)$, pak existuje $\delta > 0$ tak, že pro každé dělení s normou $\nu(D) < \delta$ je $|\mathcal{S}(D, \chi) - \mathcal{J}| < \varepsilon$, takže platí

$$\begin{aligned} b - a &= |\mathcal{S}(D_1, \chi) - \mathcal{S}(D_2, \chi)| = |\mathcal{S}(D_1, \chi) - \mathcal{J} - (\mathcal{S}(D_2, \chi) - \mathcal{J})| \leq \\ &\leq |\mathcal{S}(D_1, \chi) - \mathcal{J}| + |\mathcal{S}(D_2, \chi) - \mathcal{J}| < \varepsilon + \varepsilon = b - a \end{aligned}$$

a to je spor.

Vlastnosti určitého integrálu

Věta 4.30. *Platí:*

$$\int_a^b 0 \, dx = 0, \quad \int_a^b dx = b - a,$$

$$\int_a^b f(x) \, dx = \int_a^c f(x) \, dx + \int_c^b f(x) \, dx \quad \text{pro } c \in \langle a, b \rangle,$$

$$f(x) \leq g(x) \text{ na } \langle a, b \rangle \Rightarrow \int_a^b f(x) \, dx \leq \int_a^b g(x) \, dx,$$

$$\left| \int_a^b f(x) \, dx \right| \leq \int_a^b |f(x)| \, dx,$$

$$\int_a^b k f(x) \, dx = k \int_a^b f(x) \, dx \quad \forall k \in \mathbb{R},$$

$$\int_a^b (f(x) \pm g(x)) \, dx = \int_a^b f(x) \, dx \pm \int_a^b g(x) \, dx.$$

Označíme-li jako S (resp. L) sudou (resp. lichou) funkci, je

$$\int_{-a}^a S(x) \, dx = 2 \int_0^a S(x) \, dx; \quad \int_{-a}^a L(x) \, dx = 0.$$

Důkaz tvrzení v předchozí větě se provede bezprostředně užitím definice integrálu pomocí integrálních součtů; je analogický postupu v následujícím příkladu.

Příklad 4.31. Ukážeme platnost poněkud obecnějšího případu druhého vztahu ve větě:

$$\int_a^b c \, dx = c(b - a).$$

Buď D libovolné dělení intervalu $\langle a, b \rangle$. Potom pro libovolný výběr čísel ξ_i pro příslušný integrální součet platí:

$$\mathcal{S}(D, c) = \sum_{i=1}^n c(x_i - x_{i-1}) = c(b - a),$$

tedy pro libovolné dělení D je

$$|\mathcal{S}(D, c) - c(b - a)| = 0 < \varepsilon.$$

Odhad určitého integrálu, věta o střední hodnotě

Věta 4.32. (O střední hodnotě integrálního počtu)

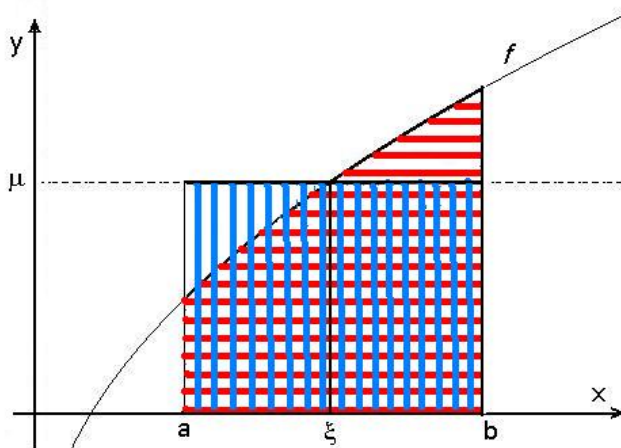
Nechť je funkce f integrovatelná na intervalu $\langle a, b \rangle$ a nechť $m \leq f(x) \leq M \quad \forall x \in \langle a, b \rangle$.
Potom platí

$$m(b-a) \leq \int_a^b f(x) dx \leq M(b-a) \quad \text{neboli} \quad m \leq \frac{1}{b-a} \int_a^b f(x) dx \leq M$$

$$\text{a existuje číslo } \mu \in \langle m, M \rangle \text{ tak, že platí } \mu = \frac{1}{b-a} \int_a^b f(x) dx.$$

$$\text{Je-li } f \text{ spojitá na } \langle a, b \rangle, \text{ pak } \exists \xi \in \langle a, b \rangle \text{ tak, že } f(\xi) = \frac{1}{b-a} \int_a^b f(x) dx.$$

Číslo μ se nazývá **(integrální) střední hodnota** funkce f na intervalu $\langle a, b \rangle$. Geometrický význam střední hodnoty je patrný z následujícího obrázku – obsah křivočarého lichoběžníka $\{(x, y) | x \in \langle a, b \rangle, 0 \leq y \leq f(x)\}$ (červeně) je roven obsahu obdélníka o rozměrech $b-a$ a μ (modře):



Obr. 4.6: Integrální střední hodnota

Příklad 4.33. Odhadněme

$$\int_0^1 f(x) dx, \quad \text{kde } f(x) = \begin{cases} x^x & \text{pro } x > 0, \\ 1 & \text{pro } x = 0. \end{cases}$$

Řešení. Funkce f má na intervalu $\langle 0, 1 \rangle$ nejvýš jeden bod nespojitosti (limitou prověříme, že je spojitá i v $x = 0$), je zde integrovatelná. \square

Najděme maximum a minimum
na $\langle 0, 1 \rangle$:

$$f'(x) = x^x(\ln x + 1) \quad (x > 0);$$

$$f'(x) = 0 \text{ pro } x = \frac{1}{e}.$$

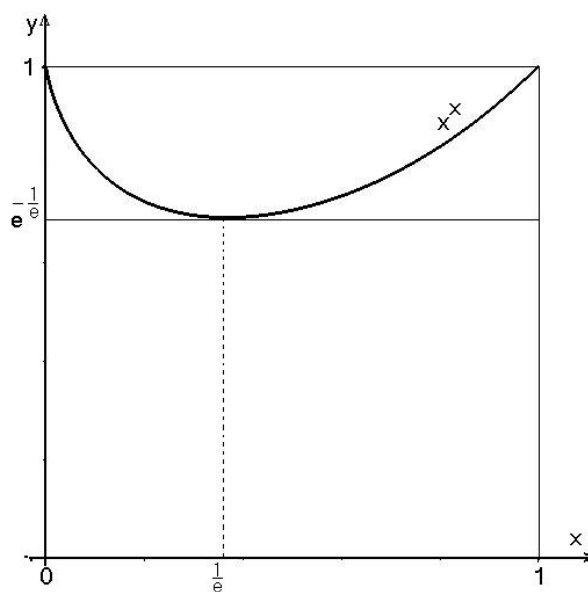
$$f(0) = 1, \quad f(1/e) = e^{-1/e}, \quad f(1) = 1.$$

Platí tedy

$$e^{-1/e} (\doteq 0,692) \leq \int_0^1 f(x) dx \leq 1.$$

(Maple vypočítá

$$\int_0^1 f(x) dx = 0,7834305107.)$$



Obr. 4.7: $f(x) = x^x$ na intervalu $\langle 0, 1 \rangle$

Fundamentální věta

Mějme graf nezáporné funkce f (viz obr. 4.8) a vyšetřujme funkci F , která každému x přiřazuje obsah světlešedě vybarvené plochy, tedy

$$F(x) = \int_0^x f(x) dx.$$

Aproximujme přírůstek této funkce při změně x na $x + h$, tedy výraz $F(x + h) - F(x)$ pomocí obsahu obdélníka (vybarveného tmavěji), který je zřejmě roven součinu $f(x) \cdot h$; je tedy

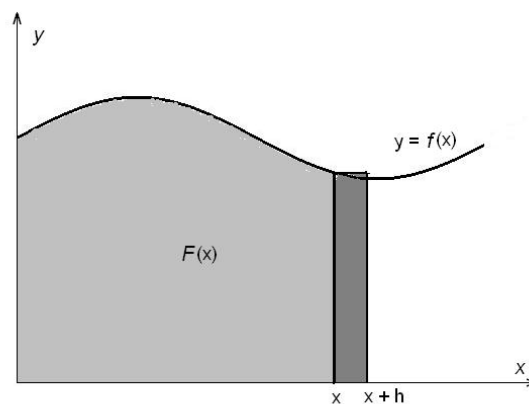
$$F(x + h) - F(x) \doteq f(x) \cdot h,$$

neboli

$$f(x) \doteq \frac{F(x + h) - F(x)}{h}.$$

Odtud limitním přechodem pro $h \rightarrow 0$ dostaneme

$$f(x) = \lim_{h \rightarrow 0} \frac{F(x + h) - F(x)}{h} = F'(x).$$



Obr. 4.8: Fundamentální věta

Tento pozoruhodný výsledek, který spojuje výpočet derivace (tedy směrnice) s výpočtem plošného obsahu, se nazývá fundamentální věta kalkulu (tj. diferenciálního a integrálního počtu). V tomto odstavci naznačený vztah odvodíme přesně.

Definice 4.34. Buď $f : \langle a, b \rangle \rightarrow \mathbb{R}$ integrovatelná funkce. **Funkcí horní meze** nazýváme funkci $\Phi : \langle a, b \rangle \rightarrow \mathbb{R}$ definovanou předpisem

$$\Phi(x) = \int_a^x f(t) dt.$$

Obdobně **funkcí dolní meze** nazýváme funkci $\Psi : \langle a, b \rangle \rightarrow \mathbb{R}$ definovanou předpisem

$$\Psi(x) = \int_x^b f(t) dt.$$

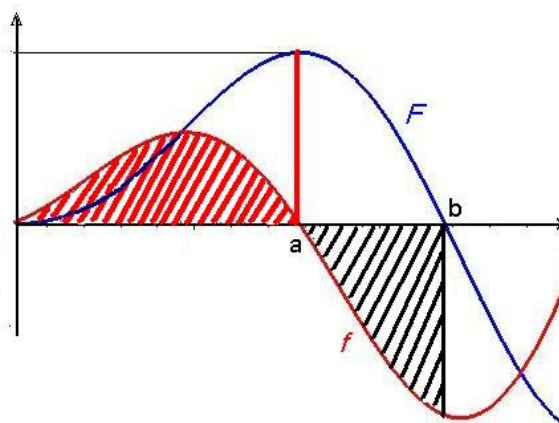
Věta 4.35. Je-li funkce $f : \langle a, b \rangle \rightarrow \mathbb{R}$ v okolí bodu x spojitá, má funkce horní meze $\Phi : \langle a, b \rangle \rightarrow \mathbb{R}$ v bodě x derivaci a platí $\Phi'(x) = f(x)$, tj. Φ je primitivní funkce k f .

Důkaz naleznete v části Pro zájemce na konci kapitoly.

Ve vedlejším obrázku je modře graf funkce F a červeně graf funkce f , přičemž platí

$$F(x) = \int_0^x f(t) dt;$$

tedy například $F(a)$ – délka červené úsečky – je rovna obsahu červeně vyšrafované oblasti; dále je vidět, že $F(b) = 0$, tedy obsah červeně vyšrafované oblasti, je stejný jako obsah černě vyšrafované oblasti, která je pod osou x – obsahy se odečtou.



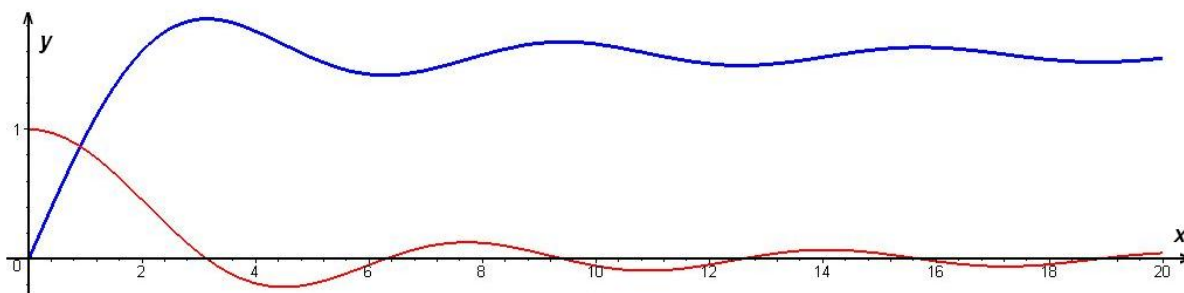
Obr. 4.9: Primitivní funkce jako funkce horní meze

Příklad 4.36. Najděme lokální extrémy funkce

$$\Phi(x) = \int_0^x \frac{\sin t}{t} dt, \quad x > 0.$$

Řešení.

$$\begin{aligned} \Phi'(x) &= \frac{\sin x}{x}, & \Phi'(x) &= 0 & \text{pro } \sin x &= 0, \text{ tj. } x = k\pi, \quad k \in \mathbb{N}, \\ \Phi'(x) &> 0 & \text{pro } x &\in (2k\pi, (2k+1)\pi), \quad k \in \mathbb{N}, \\ \Phi'(x) &< 0 & \text{pro } x &\in ((2k-1)\pi, 2k\pi), \quad k \in \mathbb{N}, \end{aligned}$$



Obr. 4.10: Grafy funkcí $\frac{\sin x}{x}$ a $\int_0^x \frac{\sin t}{t} dt$

Tedy funkce Φ má maxima v bodech $x = (2k + 1)\pi$, minima v bodech $x = 2k\pi$ pro $k \in \mathbb{N}$. \square

Nyní odvodíme vzorec pro výpočet určitého integrálu ze spojitě funkce:

Víme, že je-li f spojitá na $\langle a, b \rangle$, pak funkce horní meze Φ je její primitivní funkcí. Jestliže je F libovolná primitivní funkce k funkci f na $\langle a, b \rangle$, jistě platí

$$\Phi(x) = F(x) + c.$$

Konstantu c snadno vypočteme, položíme-li $x = a$. Pak platí

$$\Phi(a) = \int_a^a f(t) dt = 0 = F(a) + c \Rightarrow c = -F(a).$$

Tedy

$$\Phi(x) = F(x) - F(a)$$

a speciálně pro $x = b$ dostáváme důležitý výsledek $\Phi(b) = F(b) - F(a)$, tj.

$$\int_a^b f(x) dx = F(b) - F(a),$$

který jsme ovšem odvodili pouze pro spojitou funkci f . Tento vztah patří k základním tvrzením matematické analýzy a nazývá se Newton-Leibnizova věta.

Newton-Leibnizova věta

Věta 4.37. (Newton-Leibnizova) *Nechť f je funkce spojitá v $\langle a, b \rangle$.*

Jestliže v $\langle a, b \rangle$ platí $F'(x) = f(x)$, tj. $\int f(x) dx = F(x) + c$, potom

$$\int_a^b f(x) dx = F(b) - F(a).$$

Rozdíl $F(b) - F(a)$ označujeme symbolem $[F(x)]_a^b$.

$$\text{Píšeme } \int_a^b f(x) dx = [F(x)]_a^b.$$

Příklad 4.38.

$$\int_0^{\frac{\pi}{2}} \cos\left(2x + \frac{\pi}{4}\right) dx = \left[\frac{1}{2} \sin\left(2x + \frac{\pi}{4}\right)\right]_0^{\frac{\pi}{2}} = \frac{1}{2} \left(\sin \frac{5\pi}{4} - \sin \frac{\pi}{4}\right) = -\frac{\sqrt{2}}{2}.$$

Příklad 4.39.

$$\begin{aligned} \int_{-\pi}^{\pi} \sin ax \sin bx dx &= \frac{1}{2} \int_{-\pi}^{\pi} [\cos(a-b)x - \cos(a+b)x] dx = \\ &= \frac{1}{2} \left[\frac{1}{a-b} \sin(a-b)x - \frac{1}{a+b} \sin(a+b)x \right]_{-\pi}^{\pi} = 0; \quad a, b \in \mathbb{Z}, \quad a \neq b. \end{aligned}$$

Metoda per partes pro určité integrály

Ze vztahu pro integraci per partes pro neurčité integrály okamžitě vyplývá

$$\int_a^b u(x) v'(x) dx = [u(x) v(x)]_a^b - \int_a^b u'(x) v(x) dx.$$

Příklad 4.40. Máme vypočítat integrál

$$I = \int_0^{2\pi} e^{\frac{x}{2}} \sin 2x dx.$$

Řešení.

$$\begin{aligned} I &= \left| \begin{array}{ll} u = \sin 2x & u' = 2 \cos 2x \\ v' = e^{\frac{x}{2}} & v = 2e^{\frac{x}{2}} \end{array} \right| = [2e^{\frac{x}{2}} \sin 2x]_0^{2\pi} - 4 \int_0^{2\pi} e^{\frac{x}{2}} \cos 2x dx = \\ &= \left| \begin{array}{ll} u = \cos 2x & u' = -2 \sin 2x \\ v' = e^{\frac{x}{2}} & v = 2e^{\frac{x}{2}} \end{array} \right| = -4 \left\{ [2e^{\frac{x}{2}} \cos 2x]_0^{2\pi} + 4 \int_0^{2\pi} e^{\frac{x}{2}} \sin 2x dx \right\} = \\ &= -4 \left\{ 2(e^\pi \cos 4\pi - 1) + 4 \int_0^{2\pi} e^{\frac{x}{2}} \sin 2x dx \right\}. \end{aligned}$$

$$\text{Dostali jsme vztah } I = 8(1 - e^\pi) - 16I, \quad \text{tedy } I = \frac{8}{17}(1 - e^\pi).$$

□

Viděli jsme, že použití metody per partes v určitém integrálu je analogické použití této metody při hledání primitivních funkcí, pouze do uv hned dosazujeme meze. To může výpočet podstatně zjednodušit, jak jsme viděli v předchozím příkladu, kdy hodnota uv v obou mezích byla nula.

Metoda substituce pro určité integrály

Věta 4.41. 1. Jestliže funkce $f \circ g$, g' jsou spojité na intervalu $\langle a, b \rangle$, potom

$$\int_a^b f[g(x)] g'(x) dx = \int_{g(a)}^{g(b)} f(t) dt,$$

2. jestliže f je spojitá na $\langle a, b \rangle$ a $x = g(t)$ je monotonní funkce se spojitou derivací a oborem hodnot $\langle a, b \rangle$, potom

$$\int_a^b f(x) dx = \int_{g^{-1}(a)}^{g^{-1}(b)} f[g(t)] g'(t) dt.$$

Postup při užití substituční metody v určitém integrálu je opět analogický, jako při výpočtu primitivních funkcí. Pouze je třeba vypočítat nové meze (pro nové proměnné); to ovšem na druhé straně přináší výhodu v tom, že nemusíme na závěr zpětně dosazovat substituční funkci.

Příklad 4.42.

$$\int_1^e \frac{\ln x}{x} dx = \left| \begin{array}{ll} x = e^t & x = 1 \Rightarrow t = 0 \\ dx = e^t dt & x = e \Rightarrow t = 1 \end{array} \right| = \int_0^1 \frac{t}{e^t} e^t dt = \left[\frac{t^2}{2} \right]_0^1 = \frac{1}{2}.$$

Příklad 4.43. Ukažme, že pro integrovatelnou funkci platí

$$\int_0^{\frac{\pi}{2}} f(\sin x) dx = \int_0^{\frac{\pi}{2}} f(\cos x) dx.$$

Řešení. Využijeme vztahu $\cos t = \sin\left(\frac{\pi}{2} - t\right)$.

Do prvního integrálu zavedme substituci $x = g(t) = \frac{\pi}{2} - t$. Pro $x = 0$ je $t = \frac{\pi}{2}$, pro $x = \frac{\pi}{2}$ je $t = 0$. Funkce g je v intervalu $\langle 0, \frac{\pi}{2} \rangle$ klesající, spojitá i se svou derivací $g'(x) = -1$. Je možno použít větu o substituci, a platí tedy

$$\begin{aligned} \int_0^{\frac{\pi}{2}} f(\sin x) dx &= \int_{\frac{\pi}{2}}^0 f\left[\sin\left(\frac{\pi}{2} - t\right)\right] (-1) dt = \int_0^{\frac{\pi}{2}} f\left[\sin\left(\frac{\pi}{2} - t\right)\right] dt = \\ &= \int_0^{\frac{\pi}{2}} f(\cos t) dt \end{aligned}$$

a zadaná rovnost je splněna. □

K výpočtu určitého integrálu lze použít [tento maplet](#). Zmázorní se zde i plocha, jejíž obsah (opatřený příslušným znaménkem) pomocí tohoto integrálu počítáme.

4.4 Aplikace určitého integrálu

Obsah rovinné oblasti

Přímo z definice určitého integrálu plyne, že plošný obsah P rovinné oblasti omezené čarami $y = 0$, $x = a$, $x = b$, kde $a < b$, a grafem kladné funkce $y = f(x)$ vypočítáme pomocí určitého integrálu

$$P = \int_a^b f(x) dx.$$

jak jsme mohli vidět v mapletu na konci předchozího odstavce.

Příklad 4.44. Vypočtěme obsah kruhu $x^2 + y^2 \leq r^2$.

Řešení. Platí

$$\begin{aligned} P &= 4 \int_0^r \sqrt{r^2 - x^2} dx = \left| \begin{array}{ll} x = r \sin t & x = 0 \Rightarrow t = 0 \\ dx = r \cos t dt & x = r \Rightarrow t = \frac{\pi}{2} \end{array} \right| = 4 \int_0^{\frac{\pi}{2}} r^2 \cos^2 t dt = \\ &= 2r^2 \int_0^{\frac{\pi}{2}} (1 + \cos 2t) dt = 2r^2 \left[t + \frac{1}{2} \sin 2t \right]_0^{\frac{\pi}{2}} = \pi r^2. \end{aligned}$$

□

Obsah části roviny omezené shora grafem nezáporné funkce f a zdola grafem nezáporné funkce g na intervalu $\langle a, b \rangle$ zřejmě vypočteme jako $\int_a^b (f(x) - g(x)) dx$; stejné pravidlo ovšem platí i pro funkce, které nejsou na celém intervalu $\langle a, b \rangle$ nezáporné:

Je-li c konstanta, která je menší než minimum funkčních hodnot funkce g („spodní funkce“) na intervalu $\langle a, b \rangle$, můžeme grafy obou funkcí posunout o tuto konstantu v kladném směru osy y - obsah části roviny mezi grafy se nezmění a obě funkce již budou na tomto intervalu nezáporné:

$$P = \int_a^b [(f(x) + c) - (g(x) + c)] dx = \int_a^b f(x) dx.$$

Pro výpočet a znázornění obsahu části roviny mezi grafy slouží [tento maplet](#).

Objem tělesa

Buď dáno těleso (uzavřená oblast $M \subset \mathbb{R}^3$), jehož průmětem do osy x je interval $\langle a, b \rangle$. Nechť jeho řez rovinou o rovnici $x = x_0$ má obsah $u(x_0)$. Předpokládejme, že u je spojitá funkce v intervalu $\langle a, b \rangle$. Buď D dělení intervalu $\langle a, b \rangle$, pak $\mathcal{S}(D, u)$ značí přibližnou hodnotu objemu našeho tělesa. Zhruba řečeno, tato hodnota bude tím blíže ke skutečné hodnotě objemu, čím bude dělení jemnější. Proto je přirozené definovat objem tělesa jako

$$\lim_{\nu D \rightarrow 0} \mathcal{S}(D, u) = \int_a^b u(x) dx.$$

Příklad 4.45. V rovině $z = c$ leží kružnice o rovnici $x^2 + y^2 = r^2$. Je-li $-r < x_0 < r$, protne rovina o rovnici $x = x_0$ kružnici ve dvou bodech (pro $x = \pm r$ v jednom bodě), osu x v jednom bodě. Tyto tři (dva) body spojíme úsečkami (úsečkou). Máme vypočítat objem takto vzniklého tělesa.

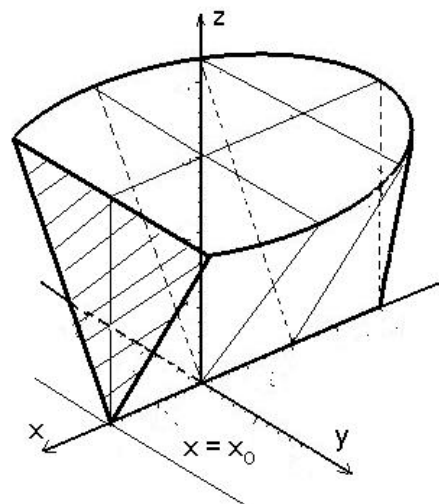
Řešení.

$$u(x) = c\sqrt{r^2 - x^2}, \quad x \in \langle -r, r \rangle,$$

$$V = \int_{-r}^r c\sqrt{r^2 - x^2} dx = 2c \int_0^r \sqrt{r^2 - x^2} dx =$$

$$= 2c \frac{\pi r^2}{4} = \frac{1}{2}\pi r^2 c.$$

□



Obr. 4.11: Objem tělesa

Objem rotačního tělesa

Buď f spojitá funkce v intervalu $\langle a, b \rangle$, uvnitř tohoto intervalu kladná. Předpokládejme, že část roviny omezená čarami o rovnicích $x = a$, $x = b$, $y = 0$, $y = f(x)$ rotuje kolem osy x . Vznikne rotační těleso, jehož průmět do osy x je interval $\langle a, b \rangle$. Obsah řezu rovinou o rovnici $x = x_0$ je obsah kruhu o poloměru $f(x_0)$, tedy objem rotačního tělesa vypočítáme podle vzorce

$$V = \pi \int_a^b [f(x)]^2 dx.$$

Příklad 4.46. Vypočítáme objem koule.

Zde je $f(x) = \sqrt{r^2 - x^2}$, $x \in \langle -r, r \rangle$.

$$V = \pi \int_{-r}^r (r^2 - x^2) dx = 2\pi \left[r^2 x - \frac{1}{3} x^3 \right]_0^r = 2\pi r^3 \left(1 - \frac{1}{3} \right) = \frac{4}{3} \pi r^3.$$

Zde najdete maplet pro výpočet a znázornění objemu rotačního tělesa.

Délka rovinné křivky

Buď f funkce definovaná v intervalu $\langle a, b \rangle$ a mající zde spojitou derivaci f' . Délku křivky L , která je grafem funkce f v tomto intervalu, vypočítáme pomocí vztahu

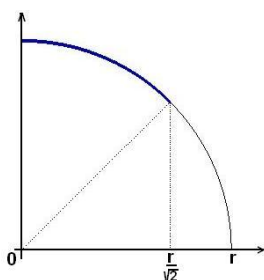
$$L = \int_a^b \sqrt{1 + [f'(x)]^2} dx.$$

Příklad 4.47. Určíme délku kružnice. Platí

$$f(x) = \sqrt{r^2 - x^2}, \quad x \in \langle 0, r \rangle, \quad f'(x) = -\frac{x}{\sqrt{r^2 - x^2}},$$

$$L = 4 \int_0^r \sqrt{1 + \frac{x^2}{r^2 - x^2}} dx = 4 \int_0^r \frac{r}{\sqrt{r^2 - x^2}} dx;$$

Dostali jsme integrál z neohraničené funkce (v horní mezi není integrand definován). Budeme postupovat tak, že místo čtvrtkružnice vyjdeme z osminy kružnice – viz obrázek:



$$\begin{aligned} L &= 8 \int_0^{\frac{r}{\sqrt{2}}} \frac{r}{\sqrt{r^2 - x^2}} dx = \\ &= \left| \begin{array}{ll} x = r \sin t & x = 0 \Rightarrow t = 0 \\ dx = r \cos t dt & x = \frac{r}{\sqrt{2}} \Rightarrow t = \frac{\pi}{4} \end{array} \right| = \\ &= 8r \int_0^{\frac{\pi}{4}} \frac{r \cos t}{r \cos t} dt = 8r \int_0^{\frac{\pi}{4}} dt = 8r [t]_0^{\frac{\pi}{4}} = 2\pi r. \end{aligned}$$

Obr. 4.12: K př. 4.47

Je-li jednoduchá rovinná křivka určená parametrickými rovnicemi

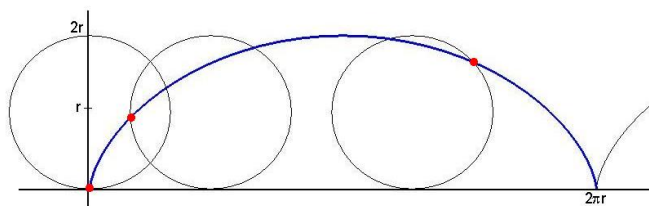
$$x = \varphi(t), \quad y = \psi(t), \quad t \in \langle \alpha, \beta \rangle$$

tak, že funkce φ , ψ mají v intervalu $\langle \alpha, \beta \rangle$ spojité derivace, pak její délka je dána vzorcem

$$L = \int_{\alpha}^{\beta} \sqrt{[\varphi'(t)]^2 + [\psi'(t)]^2} dt.$$

Příklad 4.48. Vypočtěme délku jednoho oblouku cykloidy.

Řešení. Cykloida je křivka, kterou opisuje pevně zvolený bod na kružnici, jestliže se tato kružnice kotálí po přímce (viz následující obrázek). Jeden oblouk cykloidy je její část mezi těmi dvěma polohami zvoleného bodu, kdy leží současně na příslušné přímce:



Obr. 4.13: Cykloida

Cykloida má parametrické rovnice

$$x = \varphi(t) = r(t - \sin t), \quad y = \psi(t) = r(1 - \cos t), \quad t \in \langle 0, 2\pi \rangle.$$

$\varphi'(t) = r(1 - \cos t)$, $\psi'(t) = r \sin t$, takže je

$$\begin{aligned} L &= \int_0^{2\pi} \sqrt{r^2(1 - \cos t)^2 + r^2 \sin^2 t} \, dt = r \int_0^{2\pi} \sqrt{2 - 2 \cos t} \, dt = \\ &= 2r \int_0^{2\pi} \sqrt{\frac{1 - \cos t}{2}} \, dt = 2r \int_0^{2\pi} \sin \frac{t}{2} \, dt = 2r \left[-2 \cos \frac{t}{2} \right]_0^{2\pi} = 8r. \end{aligned}$$

□

Pro zájemce

Důkaz věty o primitivní funkci jako funkci horní meze:

$$\frac{\Phi(x+h) - \Phi(x)}{h} = \frac{1}{h} \int_x^{x+h} f(t) \, dt.$$

V intervalu $\langle x, x+h \rangle$ je funkce f spojitá, tedy podle věty o střední hodnotě existuje $\xi \in \langle x, x+h \rangle$ tak, že

$$\frac{1}{h} \int_x^{x+h} f(t) \, dt = f(\xi) = f(x + \vartheta h), \quad 0 < \vartheta < 1.$$

Odtud plyne, že

$$\Phi'(x) = \lim_{h \rightarrow 0} \frac{\Phi(x+h) - \Phi(x)}{h} = \lim_{h \rightarrow 0} f(x + \vartheta h) = f(x).$$

Shrnutí

V této kapitole jsme zavedli pojem určitého integrálu z ohraničené funkce na intervalu $\langle a, b \rangle$; definovali jsme postupně

- dělení intervalu $\langle a, b \rangle$: systém intervalů $D = \{\langle x_{i-1}, x_i \rangle \mid i = 1, \dots, n\}$, jejichž sjednocením je interval $\langle a, b \rangle$ a průnik libovolných dvou z těchto intervalů je nanejvýš koncový bod, přičemž $x_0 = a$, $x_n = b$,
- normu dělení: $\max(x_i - x_{i-1})$, tj. délka nejdelšího z intervalů, které tvoří dělení daného intervalu,
- dělení intervalu $\langle a, b \rangle$ s vybranými body: v každém intervalu $\langle x_{i-1}, x_i \rangle$ je vybrán bod ξ_i ,
- integrální součet funkce f příslušný dělení D : $\mathcal{S}(D, f) = \sum_{i=1}^n f(\xi_i)(x_i - x_{i-1})$,
- určitý integrál z funkce f od a do b : číslo, které lze s libovolnou (předem zvolenou) přesností aproximovat pomocí integrálních součtů, neboli limita integrálních součtů při normě dělení jdoucí k nule.

Pro funkci f nezápornou na intervalu $\langle a, b \rangle$ znamená $\int_a^b f(x) dx$ obsah plochy ohraničené shora grafem funkce f , zdola osou x a po stranách přímkami $x = a$ a $x = b$. Pro funkci nabývající kladných i záporných hodnot je tento integrál roven rozdílu obsahů ploch nad a pod osou x .

Formulovali jsme postačující podmínku pro existenci určitého integrálu:

- je-li f po částech spojitá na intervalu $\langle a, b \rangle$ (tj. má-li zde nanejvýš konečně mnoho bodů nespojitosti 1. druhu), potom je zde integrovatelná, tedy $\int_a^b f(x) dx$ existuje.

Uvedli jsme některé vlastnosti určitého integrálu:

- linearita: $\int_a^b (\alpha f(x) + \beta g(x)) dx = \alpha \int_a^b f(x) dx + \beta \int_a^b g(x) dx$,
- aditivita přes interval: pro $a < c < b$ je $\int_a^b f(x) dx = \int_a^c f(x) dx + \int_c^b f(x) dx$.

Pro výpočet určitého integrálu jsme odvodili

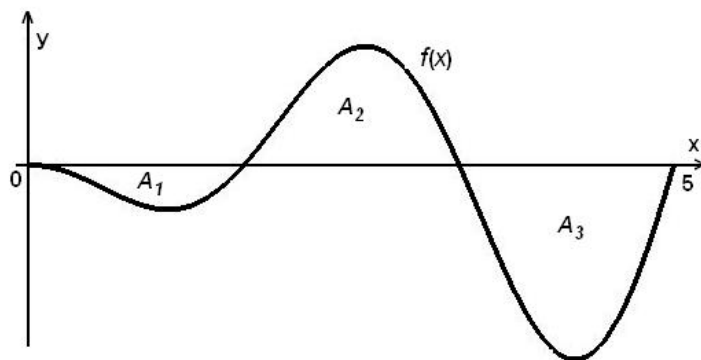
- Newton-Leibnizův vzorec: $\int_a^b f(x) dx = [F(x)]_a^b = F(b) - F(a)$, je-li F některá primitivní funkce k funkci f ,
- metodu per partes v určitém integrálu: postup je stejný jako u neurčitého integrálu (dosazujeme meze do uv),
- substituční metodu v určitém integrálu: analogicky jako při výpočtu primitivní funkce, pouze je třeba vypočítat meze pro nové proměnné.

V závěru kapitoly jsme se věnovali geometrickým aplikacím určitého integrálu; uvedli jsme vzorce pro:

- objem rotačního tělesa, které vznikne rotací části roviny omezené čarami o rovnicích $x = a$, $x = b$, $y = 0$, $y = f(x)$ kolem osy x : $V = \pi \int_a^b [f(x)]^2 dx$,
- délku křivky L , která je grafem funkce f v intervalu $\langle a, b \rangle$: $L = \int_a^b \sqrt{1 + [f'(x)]^2} dx$,
- délku křivky zadané parametrickými rovnicemi $x = \varphi(t)$, $y = \psi(t)$, $t \in \langle \alpha, \beta \rangle$: $L = \int_\alpha^\beta \sqrt{[\varphi'(t)]^2 + [\psi'(t)]^2} dt$.

Otázky a úlohy

1. Jak definujeme určitý integrál z funkce f od a do b ?
2. Jaký je jeho geometrický význam?
3. Jak tento integrál počítáme?
4. A_1, A_2, A_3 v následujícím obrázku označuje obsah příslušné části roviny omezené grafem funkce f a osou x . Vyjádřete $\int_0^5 f(x) dx$ pomocí čísel A_1, A_2, A_3 .



5. Ukažte, že platí následující tvrzení: Jsou-li f a g dvě funkce po částech spojitě na $\langle a, b \rangle$ takové, že pro všechna $x \in \langle a, b \rangle$ platí $f(x) \leq g(x)$, potom plošný obsah množiny $M = \{(x, y) \mid a \leq x \leq b, f(x) \leq y \leq g(x)\}$ vypočítáme podle vzorce

$$P = \int_a^b [g(x) - f(x)] dx.$$

6. V čem se liší použití metody per partes a substituční metody při výpočtu určitých integrálů od použití těchto metod při výpočtu neurčitých integrálů?
7. Užitím vhodné substituce ukažte, že platí tvrzení z věty 4.30:

$$\int_{-a}^a S(x) dx = 2 \int_0^a S(x) dx; \quad \int_{-a}^a L(x) dx = 0,$$
 kde S (resp. L) je sudá (resp. lichá) funkce.

8. Ukažte, že pro spojitou funkci f periodickou s periodou T platí

$$\int_a^{a+T} f(x) dx = \int_0^T f(x) dx.$$

9. Najděte všechny chyby v následujícím „výpočtu“ (výsledek je správně!):

$$\begin{aligned} \int_0^2 x \sin x^2 dx &= |t = x^2| = \int_0^2 (\sin t) x dx = \int_0^2 (\sin t) \frac{1}{2} dt = \left[-\frac{1}{2} \cos t\right]_0^2 = \\ &= \left[-\frac{1}{2} \cos x^2\right]_0^2 = \frac{1}{2}(1 - \cos 4). \end{aligned}$$

10. Bez výpočtu daných integrálů rozhodněte, který z nich je větší:

$$\text{a) } \int_{-1}^1 x^2 dx \quad \text{a) } \int_{-1}^1 x^4 dx, \quad \text{b) } \int_1^2 e^{x^2} dx \quad \text{a) } \int_1^2 e^x dx.$$

Cvičení

1. Vypočítejte následující určité integrály

$$\text{a) } \int_1^2 (x^2 - 3x + 2) dx, \quad \text{b) } \int_0^3 |1 - 3x| dx,$$

$$\text{c) } \int_{-4}^{-2} \frac{1}{x} dx, \quad \text{d) } \int_0^2 \frac{2x - 3}{x - 3} dx,$$

$$\text{e) } \int_{-4}^{-3} \frac{1}{x^2 - 4} dx, \quad \text{f) } \int_0^1 \frac{1}{2x^2 + 11x + 12} dx,$$

$$\text{g) } \int_1^2 \frac{x}{x^2 + 3x + 2} dx, \quad \text{h) } \int_0^3 (\sqrt[3]{x} + \sqrt{3x}) dx,$$

$$\text{i) } \int_0^{\frac{1}{\sqrt{2}}} \frac{1}{\sqrt{1 - x^2}} dx, \quad \text{j) } \int_0^1 (e^x + 1)^3 e^{2x} dx,$$

$$\text{k) } \int_1^{\sqrt{e}} \frac{1}{x\sqrt{1 - \ln^2 x}} dx, \quad \text{l) } \int_{-\frac{\pi}{2}}^{-\frac{\pi}{4}} \frac{\cos^3 x}{\sqrt{\sin x}} dx,$$

$$\text{m) } \int_0^{\frac{\pi}{3}} \operatorname{tg} x dx, \quad \text{n) } \int_0^{\pi} \sqrt{\sin x - \sin^3 x} dx,$$

$$\text{o) } \int_0^1 \sqrt{1 + x} dx, \quad \text{p) } \int_0^1 \frac{\sqrt{x}}{1 + \sqrt{x}} dx,$$

$$\text{q) } \int_1^2 7 \frac{\sqrt[3]{x^2}}{3 + \sqrt[3]{x^2}} dx, \quad \text{r) } \int_1^3 \frac{1}{x\sqrt{x^2 + 5x + 1}} dx,$$

$$\text{s) } \int_0^1 x e^{-x} dx, \quad \text{t) } \int_1^e \ln x dx,$$

$$\text{u) } \int_0^1 x^3 e^{2x} dx, \quad \text{v) } \int_0^{\frac{\pi}{2}} e^{2x} \sin x dx,$$

$$\text{x) } \int_{\frac{\pi}{4}}^{\frac{\pi}{3}} \frac{x}{\sin^2 x} dx, \quad \text{y) } \int_0^{\sqrt{3}} x \operatorname{arctg} x dx.$$

2. Vypočítejte

$$\int_0^3 f(x) dx, \quad \text{je-li } f(x) = \begin{cases} 1-x & \text{pro } x \in \langle 0, 1 \rangle, \\ 0 & \text{pro } x \in \langle 1, 2 \rangle, \\ (2-x)^2 & \text{pro } x \in \langle 2, 3 \rangle. \end{cases}$$

3. Vypočítejte následující integrály ($[x]$ je celá část x)

$$\begin{array}{ll} \text{a) } \int_{-1}^1 \operatorname{sgn} x dx, & \text{b) } \int_2^5 (-1)^{[x]} dx, \\ \text{c) } \int_{-2}^3 [x] dx, & \text{d) } \int_0^2 [e^x] dx. \end{array}$$

4. Vypočítejte

$$\text{a) } \left[\int_2^x \sqrt{5+7t^2} dt \right]', \quad \text{b) } \left[\int_x^1 \sin^3 t dt \right]', \quad \text{c) } \left[\int_{-x}^x \sqrt[3]{t^4+1} dt \right]'$$

5. Část roviny nad osou x a pod grafem funkce $y = \sin x$ mezi $x = 0$ a $x = \pi$ je rozdělena na dvě části přímkou $x = c$. Najděte c , pro které platí, že obsah levé části je roven třetině obsahu pravé části.

6. Najděte $k \geq 0$ pro které platí $\int_0^2 x^k dx = \int_0^2 (2-x)^k dx$.

7. Najděte plošný obsah částí roviny omezených čarami o rovnicích:

$$\begin{array}{ll} \text{a) } y = 6x - x^2, y = 0, & \text{b) } y = x^2 - 2x, y = x, \\ \text{c) } x + y = 2, y = 4x - x^2 - 2, & \text{d) } y = x^2, y^2 = x, \\ \text{e) } y = x^2 - x - 6, y = -x^2 + 5x + 14, & \text{f) } y = 2x^2, y = x^2, y = 1, \\ \text{g) } y = x^3, y = 4x, & \text{h) } xy = 4, x + y = 5, \\ \text{i) } x = 0, x = \frac{1}{2}, y = 0, y = x e^{-2x}, & \text{j) } y = e^x, y = e^{-x}, x = \ln 2, \\ \text{k) } x = \frac{\pi}{2}, x = \pi, y = 0, y = x \cos \frac{x}{3}, & \text{l) } y = \ln x, y = \ln^2 x, \\ \text{m) } y = x, y = x + \sin^2 x, x = 0, x = \pi, & \text{n) } y = e^{-x} \sin x, y = 0, x \in \langle 0, \pi \rangle. \end{array}$$

8. Vypočítejte plošný obsah části roviny ohraničené parabolou $y = x^2 - 6x + 8$ a jejími tečnami v bodech $A = [1, 3]$ a $B = [4, 0]$.

9. Vypočítejte objem těles, která vzniknou rotací částí roviny popsaných danými nerovnostmi kolem osy x :

$$\begin{array}{ll} \text{a) } -2 \leq x \leq 2, 0 \leq y \leq x^2 + 4, & \text{b) } 0 \leq x \leq 3, 0 \leq y \leq \sqrt{4x}, \\ \text{c) } 0 \leq x \leq \pi, 0 \leq y \leq \sin x, & \text{d) } 1 \leq x \leq 2, 0 \leq y \leq \frac{4}{x}, \\ \text{e) } -2 \leq x \leq 2, 0 \leq y \leq \cosh x, & \text{f) } 0 \leq x \leq \frac{\pi}{4}, 0 \leq y \leq \operatorname{tg} x. \end{array}$$

10. Vypočtěte délku křivek o rovnicích:

- a) $y = x^2, x \in \langle 0, 3 \rangle,$ b) $y = 2\sqrt{x}, x \in \langle 1, 2 \rangle,$
 c) $2y = x - x^2, x \in \langle 0, 1 \rangle,$ d) $y^2 = 4x^3, y > 0, x \in \langle 0, 2 \rangle,$
 e) $y = \frac{2+x^6}{8x^2}, x \in \langle 1, 2 \rangle,$ f) $y = e^x, x \in \langle 0, 1 \rangle,$
 g) $y = \ln x, x \in \langle \sqrt{3}, \sqrt{8} \rangle,$ h) $y = 1 - \ln \cos x, x \in \langle \ln 2, \ln 5 \rangle,$
 i) $y = \ln \frac{e^x + 1}{e^x - 1}, x \in \langle \ln 2, \ln 5 \rangle,$ j) $y = \arcsin x + \sqrt{1 - x^2}, x \in \langle 0, 1 \rangle.$

11. Vypočtěte délku křivek daných parametrickými rovnicemi:

- a) $x = t^2, y = t - \frac{t^3}{3}, t \in \langle 0, \sqrt{3} \rangle,$ b) $x = \cos t + t \sin t, y = \sin t - t \cos t, t \in \langle 0, 2\pi \rangle,$
 c) $x = \cos^4 t, y = \sin^4 t, t \in \langle 0, \frac{\pi}{2} \rangle,$ d) $x = \sin^2 t, y = \sin^2 t \operatorname{tg} t, t \in \langle 0, \frac{\pi}{3} \rangle.$

Výsledky

1. a) $-\frac{1}{6},$ b) $\frac{65}{6},$ c) $-\ln 2,$ d) $4 - 3 \ln 3,$ e) $\frac{1}{4} \ln \frac{5}{3},$ f) $\frac{1}{5} \ln \frac{4}{3},$ g) $\ln \frac{32}{27},$ h) $6 + \frac{9}{4} \sqrt[3]{3},$ i) $\frac{\pi}{4},$ j) $\frac{e^5}{5} + 3 \frac{e^4}{4} + e^3 + \frac{e^2}{2} - \frac{49}{20},$ k) $\frac{\pi}{6},$
 l) $\frac{21}{16} \sqrt[3]{2} - \frac{9}{8},$ m) $\ln 2,$ n) $\frac{4}{3},$ o) $\frac{4}{3} \sqrt{2} - \frac{2}{3},$ p) $2 \ln 2 - 1,$ q) $8 + \frac{3}{2} \pi \sqrt{3},$ r) $\ln(7 + 2\sqrt{7}) - \ln 9,$ s) $1 - \frac{2}{e},$ t) $1,$ u) $\frac{1}{8}(e^2 + 3),$ v) $\frac{1}{5}(e^\pi + 1),$ x) $\frac{\pi}{36}(9 - 4\sqrt{3}) + \frac{1}{2} \ln \frac{3}{2},$ y) $\frac{2\pi}{3} - \frac{\sqrt{3}}{2};$
 2. $\frac{5}{6};$
 3. a) $0,$ b) $1,$ c) $0,$ d) $14 - \ln 5040;$
 4. a) $\sqrt{5 + 7x^2},$ b) $-\sin^3 x,$ c) $2\sqrt[3]{x^4 + 1};$
 5. $\frac{\pi}{3};$
 6. všechna $k;$
 7. a) $36,$ b) $\frac{9}{2},$ c) $\frac{9}{2},$ d) $\frac{1}{3},$ e) $\frac{343}{3},$ f) $\frac{2}{3}(2 - \sqrt{2}),$ g) $8,$ h) $\frac{15}{2} - 8 \ln 2,$ i) $\frac{1}{4} - \frac{1}{2e},$ j) $\frac{1}{2},$ k) $\frac{3}{4}(2\sqrt{3} - 1)\pi + \frac{9}{2}(1 - \sqrt{3}),$ l) $3 - e,$
 m) $\frac{\pi}{2},$ n) $\frac{1}{2}(1 + e^{-\pi});$
 8. $\frac{3}{4};$
 9. a) $\frac{1792}{15}\pi,$ b) $18\pi,$ c) $\frac{\pi^2}{2},$ d) $8\pi,$ e) $\frac{\pi}{4}(e^4 - e^{-4}),$ f) $\frac{\pi}{4}(4 - \pi);$
 10. a) $\frac{3}{2}\sqrt{37} + \frac{1}{4} \ln(6 + \sqrt{37}),$ b) $\sqrt{6} - \sqrt{2} + \frac{1}{2} \ln \frac{2\sqrt{6}+5}{2\sqrt{2}+3},$ c) $\frac{\sqrt{5}}{2} + \frac{1}{4} \ln(2 + \sqrt{5}),$ d) $\frac{2}{27}(\sqrt{19^3} - 1),$ e) $\frac{33}{16},$ f) $\sqrt{1 + e^2} - \sqrt{2} + \ln \frac{1 + \sqrt{2}}{1 + \sqrt{1 + e^2}},$ g) $1 + \frac{1}{2} \ln \frac{3}{2},$ h) $\ln \operatorname{tg} \frac{3\pi}{8},$ i) $\ln \frac{16}{3},$ j) $4 - 2\sqrt{2};$
 11. a) $2\sqrt{3},$ b) $2\pi^2,$ c) $1 + \frac{1}{\sqrt{2}} \ln(1 + \sqrt{2}),$ d) $\sqrt{7} - 2 - \sqrt{3} \ln \frac{\sqrt{7} + \sqrt{3}}{2\sqrt{5}}.$

4.5 Nevlastní integrály

Určitý integrál jsme definovali pro případ konečného intervalu $\langle a, b \rangle$ a ohraničené funkce $f: \langle a, b \rangle \rightarrow \mathbb{R}$. V této kapitole podáme definici tak, že od těchto omezujících předpokladů upustíme. Takový integrál se nazývá nevlastní na rozdíl od integrálů vlastních, o nichž jsme hovořili doposud.

Nevlastní integrál na neohraničeném intervalu

Definice 4.49. Buď f funkce definovaná v intervalu $\langle a, \infty \rangle$. Nechť je f integrovatelná v intervalu $\langle a, \xi \rangle$ pro každé $\xi > a$. Nechť existuje vlastní limita

$$\lim_{\xi \rightarrow \infty} \int_a^{\xi} f(x) dx.$$

Pak tuto limitu nazýváme **nevlastním integrálem** funkce f v intervalu $\langle a, \infty \rangle$ (se singularitou v horní mezi) a píšeme

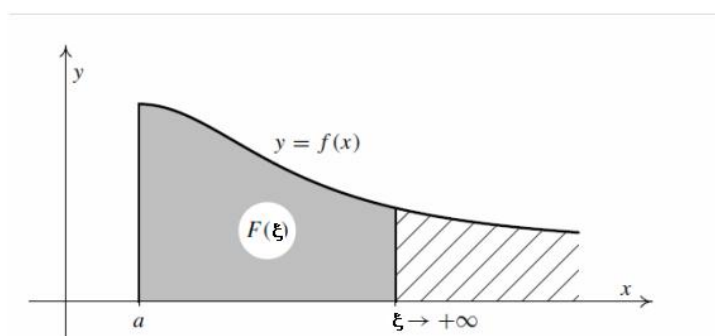
$$\int_a^{\infty} f(x) dx = \lim_{\xi \rightarrow \infty} \int_a^{\xi} f(x) dx$$

a říkáme, že integrál $\int_a^{\infty} f(x) dx$ **konverguje**. Je-li funkce f taková, že předchozí limita je nevlastní nebo neexistuje, říkáme, že integrál $\int_a^{\infty} f(x) dx$ **diverguje**.

Podobně definujeme nevlastní integrál v intervalu $(-\infty, a)$ (se singularitou v dolní mezi) pomocí limity:

$$\int_{-\infty}^a f(x) dx = \lim_{\xi \rightarrow -\infty} \int_{\xi}^a f(x) dx,$$

jestliže pro každé $\xi < a$ existuje $\int_{\xi}^a f(x) dx$ a jestliže existuje limita na pravé straně.



Obr. 4.14: Integrál na neohraničeném intervalu

Příklad 4.50. Máme vypočítat nevlastní integrály

$$\text{a) } \int_0^{\infty} e^{-x} dx, \quad \text{b) } \int_{-\infty}^0 \frac{1}{1+x^2} dx, \quad \text{c) } \int_1^{\infty} \frac{dx}{x^\alpha}.$$

Řešení. a)

$$\int_0^{\infty} e^{-x} dx = \lim_{\xi \rightarrow \infty} [-e^{-x}]_0^{\xi} = \lim_{\xi \rightarrow \infty} [-e^{-\xi} + e^0] = 0 + 1 = 1.$$

b)

$$\begin{aligned} \int_{-\infty}^0 \frac{1}{1+x^2} dx &= \lim_{\xi \rightarrow -\infty} \int_{\xi}^0 \frac{1}{1+x^2} dx = \lim_{\xi \rightarrow -\infty} [\operatorname{arctg} x]_{\xi}^0 = \\ &= \lim_{\xi \rightarrow -\infty} [-\operatorname{arctg} \xi] = \frac{\pi}{2}. \end{aligned}$$

c)

Bud' $\alpha \neq 1$. Potom

$$\begin{aligned} \int_1^{\xi} \frac{dx}{x^{\alpha}} &= \left[\frac{x^{1-\alpha}}{1-\alpha} \right]_1^{\xi} = \frac{\xi^{1-\alpha} - 1}{1-\alpha}. \\ \lim_{\xi \rightarrow \infty} \frac{\xi^{1-\alpha} - 1}{1-\alpha} &= \begin{cases} \infty & \text{pro } \alpha < 1, \\ \frac{1}{\alpha-1} & \text{pro } \alpha > 1. \end{cases} \end{aligned}$$

Dále je

$$\int_1^{\infty} \frac{dx}{x} = \lim_{\xi \rightarrow \infty} [\ln |x|]_1^{\xi} = \lim_{\xi \rightarrow \infty} [\ln |\xi| - \ln 1] = \infty.$$

Tedy $\int_1^{\infty} \frac{dx}{x^{\alpha}}$ konverguje pro $\alpha > 1$ a diverguje pro $\alpha \leq 1$.

□

Integrály z neohraničených funkcí

Definice 4.51. Nechť je funkce f definovaná v intervalu $\langle a, b \rangle$ a v okolí bodu b je neohraničená. Nechť pro každé $\xi \in (a, b)$ existuje integrál $\int_a^{\xi} f(x) dx$ a nechť existuje limita

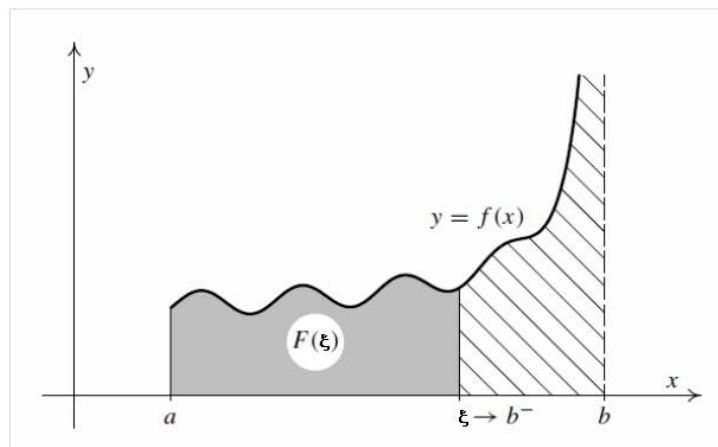
$\lim_{\xi \rightarrow b^-} \int_a^{\xi} f(x) dx$. Pak tuto limitu nazýváme **nevlastním integrálem** (se singularitou v horní mezi) funkce f v intervalu $\langle a, b \rangle$ a píšeme

$$\int_a^b f(x) dx = \lim_{\xi \rightarrow b^-} \int_a^{\xi} f(x) dx.$$

Podobně definujeme nevlastní integrál v intervalu (a, b) z funkce neohraničené v okolí bodu a (se singularitou v dolní mezi) vztahem

$$\int_a^b f(x) dx = \lim_{\xi \rightarrow a^+} \int_{\xi}^b f(x) dx.$$

V obou případech říkáme opět, že integrál **konverguje**, je-li limita napravo vlastní.



Obr. 4.15: Integrál z neohraničené funkce

Příklad 4.52. Vypočítáme následující integrály:

$$\text{a) } \int_0^1 \frac{dx}{\sqrt{1-x^2}}, \quad \text{b) } \int_a^b \frac{dx}{(x-a)^\alpha}.$$

Řešení. a)

$$\int_0^1 \frac{dx}{\sqrt{1-x^2}} = \lim_{\xi \rightarrow 1^-} \int_0^\xi \frac{dx}{\sqrt{1-x^2}} = \lim_{\xi \rightarrow 1^-} [\arcsin x]_0^\xi = \lim_{\xi \rightarrow 1^-} \arcsin \xi = \frac{\pi}{2}.$$

b)

Buď $\alpha \neq 1$. Potom

$$\begin{aligned} \int_a^b \frac{dx}{(x-a)^\alpha} &= \lim_{\xi \rightarrow a^+} \int_\xi^b \frac{dx}{(x-a)^\alpha} = \lim_{\xi \rightarrow a^+} \frac{(b-a)^{1-\alpha} - (\xi-a)^{1-\alpha}}{1-\alpha} = \\ &= \begin{cases} \frac{(b-a)^{1-\alpha}}{1-\alpha} & \text{pro } \alpha < 1 \\ \infty & \text{pro } \alpha > 1 \end{cases}; \end{aligned}$$

$$\begin{aligned} \int_a^b \frac{dx}{x-a} &= \lim_{\xi \rightarrow a^+} \int_\xi^b \frac{dx}{x-a} = \lim_{\xi \rightarrow a^+} [\ln(x-a)]_\xi^b = \\ &= \lim_{\xi \rightarrow a^+} [\ln(b-a) - \ln(\xi-a)] = \infty. \end{aligned}$$

Celkem tedy $\int_a^b \frac{dx}{(x-a)^\alpha}$ konverguje pro $\alpha < 1$ a diverguje pro $\alpha \geq 1$.

□

Obecná definice nevlastního integrálu

V předchozích úvahách jsme vyšetřovali pouze ty nevlastní integrály, které měly singularitu v jedné mezi. Přirozeným způsobem lze tyto úvahy zobecnit:

Definice 4.53. Nechť je funkce f definovaná v intervalu (a, b) , kde a může být $-\infty$ a b může být ∞ , s výjimkou konečně mnoha bodů, v jejichž okolí je neohraňovaná. Nechť existují čísla $c_1 < c_2 < \dots < c_n$ z intervalu (a, b) tak, že integrály

$$\int_a^{c_1} f(x) dx, \quad \int_{c_1}^{c_2} f(x) dx, \quad \dots, \quad \int_{c_n}^b f(x) dx$$

mají singularitu pouze v jedné mezi a konvergují. Potom definujeme

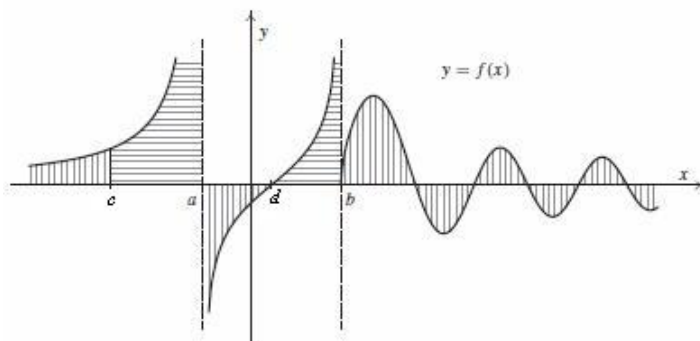
$$\int_a^b f(x) dx = \int_a^{c_1} f(x) dx + \int_{c_1}^{c_2} f(x) dx + \dots + \int_{c_n}^b f(x) dx,$$

a říkáme také, že integrál nalevo konverguje.

Máme vypočítat integrál $\int_{-\infty}^{\infty} f(x) dx$ pro funkci f v následujícím obrázku. Integrál má zřejmě singularity v horní a dolní mezi, a dále v bodech a a b , v jejichž okolí je funkce neohraňovaná. Podle předchozí definice máme integrál vyjádřit jako součet takových integrálů, aby každý z nich měl singularitu vždy v jedné mezi – zvolíme body $c \in (-\infty, a)$ a $d \in (a, b)$ a potom

$$\int_{-\infty}^{\infty} f(x) dx = \int_{-\infty}^c f(x) dx + \int_c^a f(x) dx + \int_a^d f(x) dx + \int_d^b f(x) dx + \int_b^{\infty} f(x) dx.$$

Přitom zadaný integrál konverguje, konverguje-li každý z integrálů ve výrazu napravo.



Obr. 4.16: Obecný nevlastní integrál

Příklad 4.54.

$$\int_{-\infty}^{\infty} \frac{\arctg x}{1+x^2} dx = \int_{-\infty}^0 \frac{\arctg x}{1+x^2} dx + \int_0^{\infty} \frac{\arctg x}{1+x^2} dx =$$

$$\lim_{a \rightarrow -\infty} \int_a^0 \frac{\operatorname{arctg} x}{1+x^2} dx + \lim_{b \rightarrow \infty} \int_0^b \frac{\operatorname{arctg} x}{1+x^2} dx = \left| \begin{array}{l} \operatorname{arctg} x = t \quad x = 0 \Rightarrow t = 0 \\ \frac{1}{1+x^2} dx = dt \end{array} \right| =$$

$$\lim_{a \rightarrow -\infty} \int_{\operatorname{arctg} a}^0 t dt + \lim_{b \rightarrow \infty} \int_0^{\operatorname{arctg} b} t dt = \frac{1}{2} \left[0 - \left(-\frac{\pi}{2}\right)^2 + \left(\frac{\pi}{2}\right)^2 - 0 \right] = 0.$$

Shrnutí

V této kapitole jsme zobecnili pojem určitého integrálu na případy, kdy buď integrační interval, nebo integrand je neohraničený; zavedli jsme:

- nevlastní integrál z funkce f na neohraničeném intervalu $\langle a, \infty \rangle$ resp. $(-\infty, a)$:

$$\int_a^{\infty} f(x) dx = \lim_{\xi \rightarrow \infty} \int_a^{\xi} f(x) dx \quad \text{resp.} \quad \int_{-\infty}^a f(x) dx = \lim_{\xi \rightarrow -\infty} \int_{\xi}^a f(x) dx,$$

- nevlastní integrál z funkce f , která je neohraničená v okolí horní meze b resp. dolní meze a :

$$\int_a^b f(x) dx = \lim_{\xi \rightarrow b^-} \int_a^{\xi} f(x) dx \quad \text{resp.} \quad \int_a^b f(x) dx = \lim_{\xi \rightarrow a^+} \int_{\xi}^b f(x) dx,$$

přitom říkáme, že

- nevlastní integrál má singularitu v horní mezi: je-li horní mez nevlastního integrálu ∞ nebo je-li integrand v okolí horní meze integrálu neohraničená funkce,
- nevlastní integrál má singularitu v dolní mezi: je-li dolní mez nevlastního integrálu $-\infty$ nebo je-li integrand v okolí dolní meze integrálu neohraničená funkce.

Má-li integrand v integračním intervalu (a, b) (a může být rovno $-\infty$ a b může být rovno ∞) konečně mnoho bodů nespojitosti, v jejichž okolí je neohraničenou funkcí, vyjádříme daný integrál jako součet integrálů přes dílčí intervaly tak, aby jednotlivé integrály měly singularitu pouze v jedné mezi. Jestliže všechny tyto integrály konvergují, je daný nevlastní integrál roven jejich součtu; v opačném případě diverguje.

Cvičení

1. Vypočítejte následující integrály:

$$\begin{array}{lll}
 \text{a)} \int_{\sqrt{2}}^{\infty} \frac{1}{x^2 + 4} dx, & \text{b)} \int_{-\infty}^{-\frac{1}{2}} \frac{1}{x^2 + x + 1} dx, & \text{c)} \int_{-\infty}^{\infty} \frac{1}{x^2 + 2x + 2} dx, \\
 \text{d)} \int_1^{\infty} \frac{1}{x\sqrt{x^2 - 1}} dx, & \text{e)} \int_0^{\infty} x e^{-x^2} dx, & \text{f)} \int_0^{\infty} \frac{x \ln x}{(1 + x^2)^2} dx, \\
 \text{g)} \int_{-\infty}^{\infty} \frac{\operatorname{arctg}^2 x}{1 + x^2} dx, & \text{h)} \int_{-1}^1 x^{-\frac{2}{3}} dx, & \text{i)} \int_0^4 \frac{1}{(x - 2)^2} dx, \\
 \text{j)} \int_{-1}^1 \frac{1}{\sqrt{1 - x^2}} dx, & \text{k)} \int_0^{\frac{\pi}{4}} \frac{1}{\cos^2 2x} dx, & \text{l)} \int_0^{\pi} \frac{1}{1 + 2 \cos x} dx, \\
 \text{m)} \int_0^{\frac{\pi}{2}} \operatorname{tg} x dx, & \text{n)} \int_{\frac{1}{2}}^1 \frac{1}{\sqrt{1 - x^2} \arcsin x} dx.
 \end{array}$$

2. Vypočítejte plošný obsah části roviny ohraničené křivkou $y = e^{-\frac{x}{3}}$, $x \geq 0$ a souřadnými osami.

3. Vypočítejte objem tělesa, které vznikne rotací části roviny ohraničené hyperbolou $xy = 1$ a osou x ($x \geq 1$) kolem osy x .

Výsledky

1. a) $\frac{\pi}{4} - \frac{1}{2} \operatorname{arctg} \frac{\sqrt{2}}{2}$, b) $\frac{\pi}{3}$, c) π , d) $\frac{\pi}{2}$, e) $\frac{1}{2}$, f) $\frac{\pi}{2\sqrt{2}}$, g) $\frac{\pi^3}{12}$, h) 9, i) diverguje, j) π , k) diverguje, l) diverguje, m) diverguje, n) $\ln 3$;

2. 3; 3. π .

5 Nekonečné řady

5.1 Číselné řady

V této části rozšíříme operaci sečítání v \mathbb{R} i v \mathbb{C} na nekonečně mnoho sčítanců – zavedeme pojem nekonečné řady čísel a zodpovíme dvě základní otázky pro počítání s nekonečnými číselnými řadami:

- Jak sečíst nekonečnou množinu čísel?
- Platí pro nekonečné součty podobné zákony jako pro konečné součty, zejména zákon distributivní, asociativní a komutativní?

Nejdříve zavedeme potřebné pojmy – zobecníme pojem geometrické řady, který je znám ze střední školy. Postup použitý při určení jejího součtu, tj. vytvoření tzv. částečných součtů a provedení limitního přechodu je návodem pro obecnou definici.

Základní pojmy

Definice 5.1. Nechť je dána číselná posloupnost $(a_n)_{n=1}^{\infty}$.

1. **Nekonečnou řadou** (nebo jen **řadou**) nazýváme symbol

$$\sum_{n=1}^{\infty} a_n = a_1 + a_2 + \cdots + a_n + \cdots$$

2. Číslo a_n se nazývá ***n*-tý člen** nekonečné řady.

3. **Posloupnost částečných součtů** nekonečné řady $\sum_{n=1}^{\infty} a_n$ je posloupnost

$$(s_n)_{n=1}^{\infty}, \quad \text{kde } s_n = \sum_{k=1}^n a_k = a_1 + a_2 + \cdots + a_n.$$

4. Řekneme, že nekonečná řada $\sum_{n=1}^{\infty} a_n$ **konverguje k číslu s** , a píšeme $\sum_{n=1}^{\infty} a_n = s$, právě když $\lim_{n \rightarrow \infty} s_n = s$.

Číslo s nazýváme **součtem** nekonečné řady $\sum_{n=1}^{\infty} a_n$.

5. Řekneme, že nekonečná řada $\sum_{n=1}^{\infty} a_n$ **diverguje**, jestliže diverguje posloupnost jejich částečných součtů.

Příklad 5.2. Řada $\sum_{n=0}^{\infty} q^n = \sum_{n=1}^{\infty} q^{n-1}$, $q \in \mathbb{R}(\mathbb{C})$ se nazývá **geometrická**. Vyšetříme, kdy řada konverguje.

Řešení. 1. Nechť $q = 1$. Pak $s_n = n$, $\lim_{n \rightarrow \infty} s_n = \infty$, tj. řada $\sum_{n=1}^{\infty} 1$ je divergentní.

2. Nechť $q = -1$. Řada má tvar $\sum_{n=1}^{\infty} (-1)^{n-1} = 1 + (-1) + 1 + \dots + (-1)^{n-1} + \dots$, takže pro n -tý částečný součet platí

$$s_n = \begin{cases} 1 & \text{pro liché } n, \\ 0 & \text{pro sudé } n. \end{cases}$$

Posloupnost $(1, 0, 1, \dots)$ nemá limitu, proto tato řada diverguje.

3. Nechť $|q| \neq 1$. Platí

$$\begin{aligned} s_n &= 1 + q + q^2 + \dots + q^{n-1} \\ q \cdot s_n &= q + q^2 + \dots + q^{n-1} + q^n \\ s_n - q \cdot s_n &= (1 - q) s_n = 1 - q^n \end{aligned}$$

Odtud plyne

$$s_n = \frac{1 - q^n}{1 - q}.$$

Uvažujme následující případy pro $q \in \mathbb{R}$:

- a) pro $|q| < 1$ je $\lim_{n \rightarrow \infty} q^n = 0$, proto $\lim_{n \rightarrow \infty} s_n = \frac{1}{1-q}$;
- b) pro $q > 1$ je $\lim_{n \rightarrow \infty} q^n = \infty$, proto $\lim_{n \rightarrow \infty} s_n = \infty$;
- c) pro $q < -1$ limita $\lim_{n \rightarrow \infty} q^n$ neexistuje.

Proto je geometrická řada pro $|q| \geq 1$ divergentní a pro $|q| < 1$ konvergentní. V tomto případě pro její součet platí:

$$\sum_{n=0}^{\infty} q^n = \frac{1}{1-q}, \quad |q| < 1.$$

□

Stejně tvrzení platí i pro $q \in \mathbb{C}$.

Poznámka: Obvykle se nazývá geometrickou řadou řada $\sum_{n=1}^{\infty} a q^{n-1}$; uvidíme dále, že naše definice není na újmu obecnosti.

Rozhodnutí o konvergenci (resp. o divergenci) dané řady usnadní často následující věta:

Věta 5.3. (Nutná podmínka konvergence) *Jestliže řada $\sum_{n=1}^{\infty} a_n$ konverguje, pak platí*

$$\lim_{n \rightarrow \infty} a_n = 0.$$

Důkaz věty naleznete na konci kapitoly v části **Pro zájemce**.

Je třeba si uvědomit, že opak této věty neplatí – splnění podmínky $\lim_{n \rightarrow \infty} a_n = 0$ neznamena konvergenci řady, což ilustrujeme na následujícím příkladu:

Příklad 5.4. Ukážeme, že platí $\sum_{n=1}^{\infty} \frac{1}{\sqrt{n}} = \infty$:

$$s_n = 1 + \frac{1}{\sqrt{2}} + \frac{1}{\sqrt{3}} + \cdots + \frac{1}{\sqrt{n}} > \frac{1}{\sqrt{n}} + \frac{1}{\sqrt{n}} + \cdots + \frac{1}{\sqrt{n}} = n \cdot \frac{1}{\sqrt{n}} = \sqrt{n};$$

tedy

$$s = \lim_{n \rightarrow \infty} s_n \geq \lim_{n \rightarrow \infty} \sqrt{n} = \infty.$$

Odtud plyne, že zadaná řada diverguje, i když platí $\lim_{n \rightarrow \infty} a_n = \lim_{n \rightarrow \infty} \frac{1}{\sqrt{n}} = 0$.

Vlastnosti číselných řad

Konvergentní řady mají některé vlastnosti konečných součtů; první taková vlastnost je vlastnost analogická asociativnosti. Jak víme, platí pro konečný počet sčítanců asociativní zákon, např.:

$$a_1 + a_2 + a_3 + a_4 = (a_1 + a_2) + (a_3 + a_4).$$

Dejme do závorek v řadě $\sum_{n=1}^{\infty} a_n = a_1 + a_2 + \cdots + a_n + \cdots$ určité skupiny členů podle tohoto schématu:

$$\underbrace{(a_1 + a_2 + \cdots + a_{n_1})}_{b_1} + \underbrace{(a_{n_1+1} + a_{n_1+2} + \cdots + a_{n_2})}_{b_2} + \underbrace{(a_{n_2+1} + a_{n_2+2} + \cdots + a_{n_3})}_{b_3} + \cdots.$$

Přitom zachováváme původní pořadí členů řady; $n_1 < n_2 < n_3 < \cdots$ jsou nějaká (libovolně zvolená) čísla. Tím vytvoříme řadu

$$b_1 + b_2 + b_3 + \cdots = \sum_{k=1}^{\infty} b_k, \quad \text{kde } b_k = a_{n_{k-1}+1} + a_{n_{k-1}+2} + \cdots + a_{n_k}.$$

Posloupnost částečných součtů této nové řady je vybraná posloupnost z posloupnosti částečných součtů řady původní, která je podle předpokladu konvergentní - podle věty o relativní limitě musí konvergovat také. Platí tedy

Věta 5.5. *Je-li řada $\sum_{n=1}^{\infty} a_n$ konvergentní a má-li součet s , pak řada $\sum_{k=1}^{\infty} b_k$ je také konvergentní a má součet s .*

Věta obrácená k předchozí větě neplatí. Konverguje-li řada $\sum_{k=1}^{\infty} b_k$, může být řada $\sum_{n=1}^{\infty} a_n$ divergentní, jak ukazuje následující příklad:

Příklad 5.6. Řada

$$\sum_{k=1}^{\infty} b_k = [3 + (-3)] + [3 + (-3)] + \dots$$

je konvergentní, neboť její posloupnost částečných součtů $(\bar{s}_k) = (0)$. Ale řada

$$\sum_{n=1}^{\infty} a_n = 3 + (-3) + 3 + (-3) + \dots,$$

která vznikne z dané řady odstraněním závorek je divergentní, neboť příslušná posloupnost částečných součtů nemá limitu (osciluje). V konvergentních nekonečných řadách „odstranění“ závorek může narušit konvergenci.

Násobíme-li všechny členy řady $\sum_{n=1}^{\infty} a_n$ číslem k , dostaneme řadu $\sum_{n=1}^{\infty} k a_n$, pro kterou platí:

Věta 5.7. Je-li řada $\sum_{n=1}^{\infty} a_n$ konvergentní a má-li součet s , pak řada $\sum_{n=1}^{\infty} k a_n$, kde k je libovolná konstanta, je rovněž konvergentní a má součet $\bar{s} = k s$.

Důkaz věty naleznete v části **Pro zájemce** na konci kapitoly.

Předchozí věta je rozšířením distributivního zákona na nekonečný počet sčítanců.

Příklad 5.8. Je-li $|q| < 1$, platí $\sum_{n=1}^{\infty} a \cdot q^{n-1} = \frac{a}{1-q}$.

Poznámka: Je-li řada $\sum_{n=1}^{\infty} a_n$ divergentní a je-li $k \neq 0$, je $\sum_{n=1}^{\infty} k \cdot a_n$ také divergentní (proč?)

Věta 5.9. Jsou-li řady $\sum_{n=1}^{\infty} a_n = A$, $\sum_{n=1}^{\infty} b_n = B$ konvergentní, je konvergentní i řada $\sum_{n=1}^{\infty} (a_n + b_n)$ a má součet $s = A + B$.

Důkaz věty je naznačen v části **Pro zájemce** na konci kapitoly.

Příklad 5.10. Máme najít součet řady $\sum_{n=0}^{\infty} \left(\frac{1}{2^n} + \frac{2}{3^n}\right)$.

Řešení. Platí $\sum_{n=0}^{\infty} \frac{1}{2^n} = \frac{1}{1-\frac{1}{2}} = 2$, $\sum_{n=1}^{\infty} \frac{2}{3^n} = 2 \cdot \frac{1}{1-\frac{1}{3}} = 3$, tedy

$$\sum_{n=0}^{\infty} \left(\frac{1}{2^n} + \frac{2}{3^n}\right) = \sum_{n=0}^{\infty} \frac{1}{2^n} + 2 \sum_{n=0}^{\infty} \frac{1}{3^n} = 5. \quad \square$$

V řadě $\sum_{n=1}^{\infty} a_n = a_1 + a_2 + \cdots + a_{p-1} + a_p + \cdots$ vynecháme prvních p členů. Dostaneme řadu $\sum_{n=p+1}^{\infty} a_n = a_{p+1} + a_{p+2} + \cdots$, kterou nazýváme **zbytek po p -tém členu** řady $\sum_{n=1}^{\infty} a_n$. Platí:

Věta 5.11. *Nechť $p \in \mathbb{N}$. Řady $\sum_{n=1}^{\infty} a_n$, $\sum_{n=p+1}^{\infty} a_n$ současně buď konvergují nebo divergují. Jestliže konvergují, pak platí*

$$\sum_{n=1}^{\infty} a_n = a_1 + \cdots + a_p + \sum_{n=p+1}^{\infty} a_n.$$

Z této věty plyne, že z hlediska konvergence nezáleží na tom, od kterého indexu začneme sečítat.

Kriteria konvergence

V předcházejících příkladech jsme většinou zkoumali konvergenci daných řad přímo z definice tak, že jsme dokázali existenci (popř. neexistenci) vlastní limity posloupnosti částečných součtů (s_n) . Výhodou tohoto postupu je, že určením limity posloupnosti (s_n) je zároveň určen součet dané řady. K tomu však potřebujeme znát jednoduchý explicitní vzorec pro s_n , což se podaří jen ve velmi jednoduchých případech. Proto ve většině případů postupujeme jinak: Vyšetříme nejdříve konvergenci dané řady a její součet pak určíme přibližně. Vztahy, pomocí kterých vyšetřujeme konvergenci řad, se nazývají **kriteria konvergence**. Základním takovým kriteriem je jistě nutná podmínka konvergence řady 5.3; další kriteria jsou formulována pro následující typ řad:

Definice 5.12. Řada $\sum_{n=1}^{\infty} a_n$ se nazývá **řadou s nezápornými členy**, je-li $a_n \geq 0$ pro všechna $n \in \mathbb{N}$.

Tyto řady mají některé specifické vlastnosti:

- posloupnost jejich částečných součtů $\{s_n\}$ je neklesající, neboť $s_{n+1} = s_n + a_{n+1} \geq s_n$.
- Je-li navíc tato posloupnost shora ohraničená, pak existuje vlastní limita $\lim_{n \rightarrow \infty} s_n$, tj. řada $\sum_{n=1}^{\infty} a_n$ je konvergentní.

Proto jsou řady s nezápornými členy buď konvergentní nebo divergují k ∞ .

Základní kriterium, pomocí kterého se odvozují další (poněkud jednodušší pro vlastní výpočty) je

Věta 5.13. (Srovnávací kritérium)

Budte $\sum_{n=1}^{\infty} a_n$, $\sum_{n=1}^{\infty} b_n$ řady s nezápornými členy a necht' platí $a_n \leq b_n$ pro skoro všechna $n \in \mathbb{N}$ (tedy všechna s výjimkou nejvýš konečně mnoha). Potom platí:

1. konverguje-li řada $\sum_{n=1}^{\infty} b_n$, konverguje i řada $\sum_{n=1}^{\infty} a_n$;
2. diverguje-li řada $\sum_{n=1}^{\infty} a_n$, diverguje i řada $\sum_{n=1}^{\infty} b_n$.

Příklad 5.14. Řada $\sum_{n=1}^{\infty} \frac{1}{n2^n}$ je konvergentní:

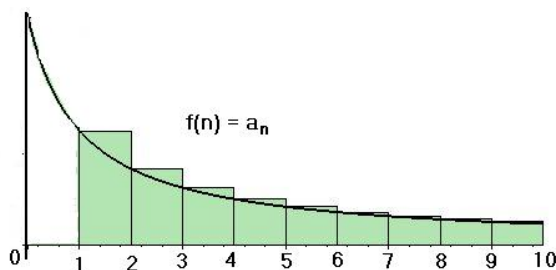
Platí $\frac{1}{n2^n} \leq \frac{1}{2^n}$, přičemž $\sum_{n=1}^{\infty} \frac{1}{2^n}$ je konvergentní – je to geometrická řada s kvocientem $q = \frac{1}{2} < 1$. Tedy zadaná řada je také konvergentní.

Srovnávací kritérium má velkou nevýhodu v tom, že k vyšetřované řadě musíme zvolit nějakou jinou řadu, se kterou budeme srovnávat; je tedy předem nutné rozhodnout, jestli budeme ukazovat konvergenci nebo divergenci. Výhodnější je pracovat přímo se členy dané řady, tak jak to bude u dalších tří kritérií:

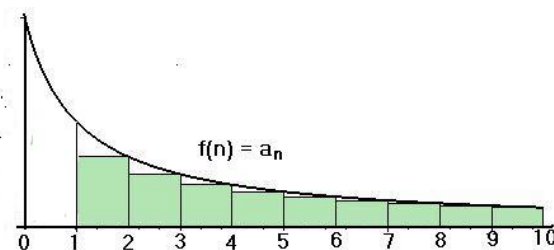
Věta 5.15. (Integrální kritérium)

Necht' f je funkce definovaná na intervalu $\langle 1, \infty \rangle$, která je na tomto intervalu nezáporná a nerostoucí. Necht' $a_n = f(n)$ pro $n \in \mathbb{N}$. Potom řada $\sum_{n=1}^{\infty} a_n$ konverguje, právě když konverguje nevlastní integrál $\int_1^{\infty} f(x) dx$.

Platnost kritéria demonstrujeme v následujících dvou obrázcích.



Obr. 5.1: Integrální kritérium



Obr. 5.2: Integrální kritérium

Hodnota nevlastního integrálu z funkce f (v obrázku černou barvou) udává obsah plochy pod grafem funkce od jedné do nekonečna; součet příslušné nekonečné řady můžeme znázornit jako obsah (zelené) plochy tvořené obdélníky se základnou délkou jedna a výškou rovnou funkční hodnotě v n .

a) Nechť $\int_1^{\infty} f(x) dx$ diverguje (první obrázek). Platí

$$s_n = \sum_{k=1}^n a_k = \sum_{k=1}^n f(k) \geq \int_1^n f(x) dx,$$

$$s = \lim_{n \rightarrow \infty} s_n \geq \lim_{n \rightarrow \infty} \int_1^n f(x) dx = \int_1^{\infty} f(x) dx = \infty,$$

tedy řada diverguje.

b) Nechť $\int_1^{\infty} f(x) dx$ konverguje (druhý obrázek). Potom je

$$s_n = a_1 + \sum_{k=2}^n a_k = a_1 + \sum_{k=2}^n f(k) \leq a_1 + \int_1^n f(x) dx,$$

$$s = \lim_{n \rightarrow \infty} s_n \leq a_1 + \lim_{n \rightarrow \infty} \int_1^n f(x) dx = a_1 + \int_1^{\infty} f(x) dx$$

a poslední integrál je podle předpokladu roven konečnému číslu – tedy řada konverguje.

Příklad 5.16. Vyšetříme konvergenci řady $\sum_{n=1}^{\infty} \frac{1}{n^a}$, $a > 0$.

Položme $f(x) = \frac{1}{x^a}$ pro $x \in \langle 1, \infty \rangle$, což je pro $a > 0$ klesající funkce. Platí

$$\int_1^{\infty} \frac{dx}{x^a} = \lim_{t \rightarrow \infty} \int_1^t x^{-a} dx = \frac{1}{a-1} \quad \text{pro } a > 1,$$

$$\int_1^{\infty} \frac{dx}{x} = \lim_{t \rightarrow \infty} \int_1^t \frac{1}{x} dx = \lim_{t \rightarrow \infty} (\ln t) = \infty,$$

$$\int_1^{\infty} \frac{dx}{x^a} = \frac{1}{1-a} \left(\lim_{t \rightarrow \infty} \frac{1}{t^{a-1}} - 1 \right) = \infty \quad \text{pro } a \in (0, 1).$$

Proto daná řada konverguje pro $a > 1$ a diverguje pro $a \in (0, 1)$.

Následující dvě kritéria se prověří srovnáním s geometrickou řadou a limitním přechodem:

Věta 5.17. (Odmocninové kritérium – Cauchyovo)

Nechť $\sum_{n=1}^{\infty} a_n$ je řada s nezápornými členy. Je-li

$$\limsup \sqrt[n]{a_n} < 1, \quad \text{řada konverguje,}$$

$$\limsup \sqrt[n]{a_n} > 1, \quad \text{řada diverguje.}$$

V případě $\limsup \sqrt[n]{a_n} = 1$ nelze o konvergenci řady tímto kritériem rozhodnout.

Věta 5.18. (Podílové kritérium – d’Alembertovo)

Nechť $\sum_{n=1}^{\infty} a_n$ je řada s nezápornými členy. Je-li

$$\lim_{n \rightarrow \infty} \frac{a_{n+1}}{a_n} < 1, \quad \text{řada konverguje,}$$

$$\lim_{n \rightarrow \infty} \frac{a_{n+1}}{a_n} > 1, \quad \text{řada diverguje.}$$

V případě $\lim_{n \rightarrow \infty} \frac{a_{n+1}}{a_n} = 1$ nelze o konvergenci řady tímto kritériem rozhodnout.

Příklad 5.19. Rozhodněte o konvergenci řad

$$\text{a) } \sum_{n=1}^{\infty} \frac{n}{(3+\frac{1}{n})^n} \quad \text{b) } \sum_{n=1}^{\infty} \frac{n^n}{n!} \quad \text{c) } \sum_{n=1}^{\infty} \frac{n}{2n+1}$$

Řešení. a) Použijeme odmocninové kritérium:

$$\lim_{n \rightarrow \infty} \sqrt[n]{a_n} = \lim_{n \rightarrow \infty} \frac{\sqrt[n]{n}}{3 + \frac{1}{n}} = \frac{1}{3} < 1.$$

Daná řada konverguje.

b) V n -tém členu se vyskytuje faktoriál, je vhodné podílové kritérium:

$$\lim_{n \rightarrow \infty} \frac{a_{n+1}}{a_n} = \lim_{n \rightarrow \infty} \frac{n!(n+1)^{n+1}}{(n+1)!n^n} = \lim_{n \rightarrow \infty} \frac{(n+1)^n}{n^n} = \lim_{n \rightarrow \infty} \left(1 + \frac{1}{n}\right)^n = e > 1.$$

Řada diverguje.

c) Použijeme podílové kritérium:

$$\lim_{n \rightarrow \infty} \frac{a_{n+1}}{a_n} = \lim_{n \rightarrow \infty} \frac{(n+1)(2n+1)}{(2(n+1)+1)n} = \lim_{n \rightarrow \infty} \frac{2n^2 + 3n + 1}{2n^2 + 3n} = 1.$$

Kritérium nerozhodne; stejný výsledek dostaneme při použití odmocninového kritéria. Pro danou řadu však není splněna nutná podmínka konvergence:

$$\lim_{n \rightarrow \infty} a_n = \lim_{n \rightarrow \infty} \frac{n}{2n+1} = \frac{1}{2} \neq 0$$

– řada diverguje.

□

Pro vyšetřování číselných řad lze použít [tento maplet](#).

Absolutní konvergence

Základní kriteria konvergence jsou formulována pro řady s nezápornými členy, což se může jevit jako jisté omezení. Ovšem současně s řadou s obecnými členy můžeme vyšetřovat i řadu absolutních hodnot jejích členů; to nám umožní také vyšetřovat konvergenci řad komplexních čísel, kterou bez použití absolutní hodnoty nevyšetříme – uvědomme si, že do \mathbb{C} nelze zavést uspořádání. Pro řadu, utvořenou z absolutních hodnot členů řady platí následující důležitá věta:

Věta 5.20. *Nechť je dána řada s libovolnými znaménky $\sum_{n=1}^{\infty} a_n$. Utvořme řadu $\sum_{n=1}^{\infty} |a_n|$; jestliže tato řada konverguje, potom původní řada je také konvergentní.*

Platnost věty nás vede k následující definici:

Definice 5.21. Jestliže konverguje řada $\sum_{n=1}^{\infty} |a_n|$, $a_n \in \mathbb{R}$ resp. $a_n \in \mathbb{C}$, říkáme, že řada

$\sum_{n=1}^{\infty} a_n$ **konverguje absolutně**.

Jestliže řada $\sum_{n=1}^{\infty} |a_n|$ diverguje a řada $\sum_{n=1}^{\infty} a_n$ konverguje, říkáme, že řada $\sum_{n=1}^{\infty} a_n$ **konverguje neabsolutně**.

Příklad 5.22. Vyšetřeme konvergenci řad

$$a) \sum_{n=1}^{\infty} \frac{\sin n}{n^2} \quad b) \sum_{n=1}^{\infty} \frac{(1+3 \cdot (-1)^n)^n}{n 8^n}$$

Řešení.

a) Ukážeme, že řada konverguje absolutně:

$$\left| \frac{\sin n}{n^2} \right| < \frac{1}{n^2} \wedge \sum_{n=1}^{\infty} \frac{1}{n^2} \text{ konverguje} \Rightarrow \sum_{n=1}^{\infty} \left| \frac{\sin n}{n^2} \right| \text{ konverguje.}$$

Tedy zadaná řada konverguje absolutně.

b) Pro absolutní konvergenci použijeme odmocninové kritérium; vyšetříme posloupnost n -tých odmocnin absolutních hodnot členů řady:

$$\left(\sqrt[n]{|a_n|} \right)_{n \in \mathbb{N}} = \left(\frac{|1 + 3 \cdot (-1)^n|}{8 \sqrt[n]{n}} \right)_{n \in \mathbb{N}} = \begin{cases} \frac{1}{2 \sqrt[2k]{2k}} & \text{pro } n = 2k \\ \frac{1}{4 \sqrt[2k-1]{2k-1}} = & \text{pro } n = 2k - 1 \end{cases}$$

Platí

$$\lim_{k \rightarrow \infty} \frac{1}{2 \sqrt[2k]{2k}} = \frac{1}{2}, \quad \lim_{k \rightarrow \infty} \frac{1}{4 \sqrt[2k-1]{2k-1}} = \frac{1}{4}$$

$$\text{Tedy} \quad \limsup \sqrt[n]{|a_n|} = \frac{1}{2} < 1$$

– řada konverguje absolutně.

□

Alternující řady

Definice 5.23. Nekonečná řada $\sum_{n=1}^{\infty} a_n$, $a_n \in \mathbb{R}$ se nazývá **alternující**, právě když libovolné dva po sobě jdoucí členy mají opačná znaménka, tj. platí

$$\operatorname{sgn} a_{n+1} = -\operatorname{sgn} a_n \quad \forall n \in \mathbb{N}.$$

Každou alternující řadu lze psát ve tvaru $\sum_{n=1}^{\infty} (-1)^{n-1} b_n$ nebo ve tvaru $\sum_{n=1}^{\infty} (-1)^n b_n$, kde $b_n > 0$ pro všechna $n \in \mathbb{N}$.

Pro alternující řady platí následující kritérium konvergence:

Věta 5.24. (Leibnizovo kritérium)

Nechť (b_n) je nerostoucí posloupnost kladných čísel. Potom alternující řada $\sum_{n=1}^{\infty} (-1)^n b_n$ konverguje, právě když platí $\lim_{n \rightarrow \infty} b_n = 0$.

Příklad 5.25. Pomocí Leibnizova kritéria rozhodneme o konvergenci následujících alternujících řad:

$$\text{a) } \sum_{n=1}^{\infty} (-1)^{n-1} \frac{1}{n} \quad \text{b) } \sum_{n=1}^{\infty} (-1)^n \frac{3n+2}{2n-3} \quad \text{c) } \sum_{n=1}^{\infty} (-1)^n \frac{1}{n-\ln n}$$

Řešení. a) Tato řada se nazývá Leibnizova. Posloupnost $(\frac{1}{n})$ je klesající a má limitu 0, proto podle Leibnizova kritéria konverguje (neabsolutně). Později ukážeme, že má součet $\ln 2$.

b) Platí $\lim_{n \rightarrow \infty} b_n = \frac{3}{2}$, proto řada diverguje.

c) Nejprve ověříme, zda je posloupnost $(\frac{1}{n-\ln n})$ klesající. Uvažujme funkci $y = \frac{1}{x-\ln x}$. Platí, že

$$y' = -\frac{1}{(x-\ln x)^2} \left(1 - \frac{1}{x}\right) < 0 \quad \text{pro } x > 1,$$

tj. tato funkce je klesající na intervalu $(1, \infty)$, odkud plyne, že také posloupnost $(\frac{1}{n-\ln n})$ je klesající.

Dále je $\lim_{n \rightarrow \infty} (n - \ln n) = \lim_{n \rightarrow \infty} \ln \frac{e^n}{n} = \infty$, a proto $\lim_{n \rightarrow \infty} \frac{1}{n-\ln n} = 0$. Daná řada konverguje. □

Přerovnání řad, násobení řad

Asociativní zákon, platný pro konečné součty, lze, jak jsme ukázali, v určitém smyslu rozšířit na konvergentní řady. Komutativní zákon, platný pro konečné součty, vyjadřuje, jak známo, nezávislost součtu na pořadí sčítanců. Tento zákon nelze rozšířit na konvergentní řady, jak je vidět na tomto příkladu:

Příklad 5.26. Leibnizova řada

$$\sum_{n=1}^{\infty} (-1)^{n-1} \frac{1}{n} = 1 - \frac{1}{2} + \frac{1}{3} - \frac{1}{4} + \dots$$

je konvergentní; označme její součet s . Dále je

$$\frac{s}{2} = \sum_{n=1}^{\infty} (-1)^{n-1} \frac{1}{2n} = \frac{1}{2} - \frac{1}{4} + \frac{1}{6} - \frac{1}{8} + \dots$$

Přepišme obě řady v následujícím tvaru (do druhé řady vložíme nuly, součet se nezmění):

$$s = 1 - \frac{1}{2} + \frac{1}{3} - \frac{1}{4} + \frac{1}{5} - \frac{1}{6} + \frac{1}{7} - \frac{1}{8} + \dots$$

$$\frac{s}{2} = 0 + \frac{1}{2} + 0 - \frac{1}{4} + 0 + \frac{1}{6} + 0 - \frac{1}{8} + \dots$$

Sečtením těchto konvergentních řad dostaneme konvergentní řadu:

$$\frac{3}{2}s = 1 + \frac{1}{3} - \frac{1}{2} + \frac{1}{5} + \frac{1}{7} - \frac{1}{4} + \dots$$

Podrobnějším vyšetřením lze ukázat, že vzniklá řada obsahuje právě všechny členy Leibnizovy řady (a žádné jiné), ale v jiném pořadí.

Ríkáme, že řada vznikla **přerovnáním** Leibnizovy řady; přitom přerovnáním řady o součtu s jsme dostali řadu o součtu $\frac{3}{2}s$.

Je tedy vidět, že komutativní zákon nelze rozšířit na konvergentní řady. Poznamenejme, že se dá ukázat platnost tvrzení:

- Libovolným přerovnáním absolutně konvergentní řady dostaneme absolutně konvergentní řadu o stejném součtu.*
- Je-li řada $\sum a_n$ neabsolutně konvergentní, pak vhodným přerovnáním této řady lze dostat divergentní řadu, popř. konvergentní řadu s libovolným předem daným součtem.*

Násobení řad

Pro násobení součtů o konečném počtu členů platí, jak známo, distributivní zákon – dva součty o konečném počtu členů násobíme podle tohoto zákona „člen po členu“, tj. tak, že násobíme každý člen prvního z nich každým členem druhého a takto vzniklé součiny sečteme. Vzniká otázka, za jakých podmínek a do jaké míry lze platnost tohoto zákona rozšířit i na součty o nekonečném počtu členů, tj. na číselné řady. K tomuto účelu definujeme nejdříve součin řad:

Definice 5.27. *Cauchyovským součinem řad $\sum_{n=0}^{\infty} a_n$ a $\sum_{n=0}^{\infty} b_n$ rozumíme řadu $\sum_{n=0}^{\infty} c_n$,*

kde

$$c_n = a_0 b_n + a_1 b_{n-1} + a_2 b_{n-2} + \dots + a_n b_0.$$

Násobením daných dvou řad dostaneme tedy řadu

$$\begin{aligned} \sum_{n=0}^{\infty} c_n &= a_0 b_0 + (a_1 b_0 + a_0 b_1) + (a_0 b_2 + a_1 b_1 + a_2 b_0) + \cdots + \\ &\quad + (a_0 b_n + a_1 b_{n-1} + \cdots + a_n b_0) + \cdots \end{aligned}$$

Napišeme-li do tabulky všechny součiny $a_i b_k$ členů obou řad ($i = 0, 1, 2, \dots, k = 0, 1, 2, \dots$), dostaneme schéma

$$\begin{array}{cccccc} a_0 b_0 & a_1 b_0 & a_2 b_0 & a_3 b_0 & \dots \\ a_0 b_1 & a_1 b_1 & a_2 b_1 & a_3 b_1 & \dots \\ a_0 b_2 & a_1 b_2 & a_2 b_2 & a_3 b_2 & \dots \\ a_0 b_3 & a_1 b_3 & a_2 b_3 & a_3 b_3 & \dots \\ \vdots & \vdots & \vdots & \vdots & \ddots \end{array}$$

Každý člen c_n součinné řady je součtem členů ležících v „diagonálách“ tohoto schématu; je součtem takových součinů $a_i b_k$, že součet indexů $i + k = n$.

Pro takto definovaný součin řad platí

Věta 5.28. Jsou-li řady $\sum_{n=0}^{\infty} a_n = A$ a $\sum_{n=0}^{\infty} b_n = B$ absolutně konvergentní, pak jejich Cauchyovský součin je absolutně konvergentní řada se součtem $A \cdot B$. Mimoto je absolutně konvergentní i řada, která ze součinné řady vznikne odstraněním závorek a má stejný součet.

Příklad 5.29. Máme vynásobit řady $\sum_{n=0}^{\infty} \frac{1}{3^n}$ a $\sum_{n=0}^{\infty} (-1)^n \frac{1}{3^n}$.

Řešení. Řady jsou zřejmě absolutně konvergentní a platí

$$\sum_{n=0}^{\infty} \frac{1}{3^n} = \frac{1}{1 - \frac{1}{3}} = \frac{3}{2}, \quad \sum_{n=0}^{\infty} (-1)^n \frac{1}{3^n} = \frac{1}{1 + \frac{1}{3}} = \frac{3}{4}.$$

Dále je

$$\begin{aligned} c_n &= \left(\frac{1}{3}\right)^0 \cdot \left(-\frac{1}{3}\right)^n + \left(\frac{1}{3}\right)^1 \cdot \left(-\frac{1}{3}\right)^{n-1} + \cdots + \left(\frac{1}{3}\right)^n \cdot \left(-\frac{1}{3}\right)^0 = \\ &= \left(\frac{1}{3}\right)^n \cdot ((-1)^n + (-1)^{n-1} + \cdots + (-1)^0); \end{aligned}$$

tedy je-li n liché, tj. $n = 2k + 1$, je $c_n = 0$, je-li n sudé, tj. $n = 2k$, je $c_n = \frac{1}{3^n}$.

Dostáváme

$$\sum_{n=0}^{\infty} c_n = \sum_{k=0}^{\infty} \frac{1}{3^{2k}}$$

to je geometrická řada s kvocientem $q = \frac{1}{9}$, tedy má součet

$$C = \frac{1}{1 - \frac{1}{9}} = \frac{9}{8} = \frac{3}{2} \cdot \frac{3}{4}.$$

□

Příklad 5.30. Ukážeme, že platí $\sum_{n=0}^{\infty} \frac{a^n}{n!} \cdot \sum_{n=0}^{\infty} \frac{b^n}{n!} = \sum_{n=0}^{\infty} \frac{(a+b)^n}{n!}$.

$$\begin{aligned} \sum_{n=0}^{\infty} \frac{a^n}{n!} \cdot \sum_{n=0}^{\infty} \frac{b^n}{n!} &= \sum_{n=0}^{\infty} \sum_{k=0}^n \frac{a^k}{k!} \cdot \frac{b^{n-k}}{(n-k)!} = \left| (a+b)^k = \sum_{k=0}^n \binom{n}{k} a^k b^{n-k}, \text{ tedy } \right| = \\ &= \sum_{n=0}^{\infty} \frac{1}{n!} \sum_{k=0}^n \frac{n!}{k!(n-k)!} \cdot a^k b^{n-k} = \sum_{n=0}^{\infty} \frac{(a+b)^n}{n!} \end{aligned}$$

Numerická sumace

Nechť $\sum_{n=1}^{\infty} a_n$ je konvergentní řada. Víme, že její součet s lze psát ve tvaru

$$s = s_n + R_n, \quad \text{kde} \quad s_n = a_1 + a_2 + \dots + a_n \quad \text{a} \quad R_n = a_{n+1} + a_{n+2} + \dots$$

je zbytek po n -tém členu. To znamená, že číslo R_n udává velikost chyby, které se dopustíme, jestliže přesnou hodnotu dané konvergentní řady aproximujeme částečným součtem. Přitom platí (řada je konvergentní!)

$$\lim_{n \rightarrow \infty} R_n = \lim_{n \rightarrow \infty} (s - s_n) = s - s = 0.$$

V tomto odstavci uvedeme některé odhady pro velikost zbytku $|R_n|$.

Nejjednodušší tvar má tento odhad pro alternující řadu:

Věta 5.31. *Nechť $(b_n)_{n=0}^{\infty}$ je nerostoucí posloupnost kladných čísel taková, že $\lim_{n \rightarrow \infty} b_n = 0$. Pak pro zbytek po n -tém členu alternující řady $\sum_{n=0}^{\infty} (-1)^n b_n$ platí $|R_n| < b_{n+1}$.*

Pokud daná řada není alternující, můžeme pro určování chyby použít následující dvě tvrzení, která plynou ze srovnávacího kritéria konvergence (s mocninnou řadou s kvocientem q) a z integrálního kritéria:

Věta 5.32. Necht' $\sum_{n=1}^{\infty} a_n$ je číselná řada, pro kterou platí $\left| \frac{a_{n+1}}{a_n} \right| \leq q < 1 \quad \forall n \in \mathbb{N}$. Pak pro zbytek R_n platí $|R_n| \leq |a_n| \frac{q}{1-q}$.

Věta 5.33. Necht' $\sum_{n=1}^{\infty} a_n$ je řada s nezápornými členy. Necht' $a_n = f(n)$, kde f je nezáporná a nerostoucí funkce na intervalu $\langle 1, \infty \rangle$.

Pak pro zbytek R_n platí $R_n \leq \int_n^{\infty} f(x) dx$.

Příklad 5.34. Odhadneme zbytek řady $\sum_{n=1}^{\infty} \frac{1}{n^a}$, kde $a \in \mathbb{R}$, $a > 1$.

Řešení. Daná řada konverguje. Platí

$$R_n \leq \int_n^{\infty} \frac{dx}{x^a} = \frac{1}{1-a} \left[\frac{1}{x^{a-1}} \right]_n^{\infty} = \frac{1}{(a-1)n^{a-1}}.$$

Například pro řadu $\sum_{n=1}^{\infty} \frac{1}{n^2}$ dostáváme $R_n \leq \frac{1}{n}$, tj. její konvergence je „pomalá“. \square

Příklad 5.35. Kolik členů řady $\sum_{n=1}^{\infty} \frac{1}{n(n+1)(n+2)}$ je třeba sečíst, abychom její součet aproximovali s chybou menší než 0,001?

Řešení. Protože platí $\frac{1}{n(n+1)(n+2)} < \frac{1}{n^3}$, plyne z předchozího příkladu odhad

$R_n < \frac{1}{2n^2}$. Nerovnost $\frac{1}{2n^2} \leq 0,001$, tj. $n^2 \geq 500$, je splněna pro $n \geq 23$.

Stačí tedy sečíst 23 členů řady. \square

Příklad 5.36. Kolik členů řady $\sum_{n=1}^{\infty} \frac{2^n}{n!}$ je třeba sečíst, abychom její součet aproximovali s chybou menší než 0,01?

Řešení. Platí $\frac{a_{n+1}}{a_n} = \frac{2^{n+1}}{(n+1)!} \cdot \frac{n!}{2^n} = \frac{2}{n+1} \leq \frac{1}{2}$ pro $n \geq 3$. Tedy pro $n \geq 3$ platí

$$R_n \leq a_n \cdot \frac{\frac{1}{2}}{1-\frac{1}{2}} = a_n = \frac{2^n}{n!}.$$

Nerovnost $\frac{2^n}{n!} < 0,01$, tj. $n! > 100 \cdot 2^n$, je splněna, jak se snadno přesvědčíme, pro $n \geq 8$. Stačí tedy sečíst 8 členů řady. \square

Pro zájemce

Důkaz nutné podmínky konvergence řady

Tvrzení věty je zřejmé:

Nechť $\sum_{n=1}^{\infty} a_n$ konverguje a $\sum_{n=1}^{\infty} a_n = s = \lim_{n \rightarrow \infty} s_n$. Protože $a_n = s_n - s_{n-1}$, plyne odtud $\lim_{n \rightarrow \infty} a_n = \lim_{n \rightarrow \infty} (s_n - s_{n-1}) = s - s = 0$.

Důkaz věty o násobení členů řady konstantou

Větu snadno dokážeme přímo z definice součtu řady jako limity posloupnosti částečných součtů:

$$\bar{s}_n = ka_1 + ka_2 + \cdots + ka_n = k(a_1 + a_2 + \cdots + a_n) = k s_n; \quad \bar{s} = \lim_{n \rightarrow \infty} \bar{s}_n = k \lim_{n \rightarrow \infty} s_n = k s.$$

Důkaz věty o součtu řad

Věta se ověří analogicky jako věta předchozí užitím definice součtu řady a vlastností limit konvergentních posloupností.

Shrnutí

V této kapitole jsme rozšířili sečítání i na nekonečný počet sčítanců a zkoumali jsme jeho vlastnosti – pro posloupnost $(a_n)_{n=1}^{\infty}$ jsme zavedli následující pojmy:

- nekonečná řada: symbol $\sum_{n=1}^{\infty} a_n = a_1 + a_2 + \cdots + a_n + \cdots$,
- n -tý člen nekonečné řady: číslo a_n ,
- posloupnost částečných součtů nekonečné řady: posloupnost $(s_n)_{n=1}^{\infty}$, kde $s_n = \sum_{k=1}^n a_k = a_1 + a_2 + \cdots + a_n$,
- součet nekonečné řady: limita posloupnosti částečných součtů $s = \lim_{n \rightarrow \infty} s_n$;

přítom říkáme, že

- řada konverguje: je-li s vlastní,
- řada diverguje: je-li s nevlastní nebo neexistuje,
- řada konverguje absolutně: konverguje-li řada absolutních hodnot členů původní řady,

přítom z absolutní konvergence řady plyne její konvergence;

jedna z řad, jejíž součet umíme zjistit přesně, je:

- geometrická řada: $\sum_{n=0}^{\infty} q^n = \frac{1}{1-q}$ pro $|q| < 1$;

V mnoha situacích nepotřebujeme znát přesný součet řady, stačí vědět, zda řada konverguje nebo diverguje. K ověření konvergence slouží kriteria konvergence.

Základním kriteriem pro konvergenci řady je

- nutná podmínka konvergence: jestliže řada $\sum_{n=1}^{\infty} a_n$ konverguje, potom $\lim_{n \rightarrow \infty} a_n = 0$;

Dále jsme uvedli kriteria pro řady s nezápornými členy, která u řad s členy s libovolnými znaménky slouží k zjištění absolutní konvergence.

Je-li $\sum_{n=1}^{\infty} a_n$ řada s nezápornými členy, platí následující kriteria konvergence:

- srovnávací: je-li $\sum_{n=1}^{\infty} b_n$ jiná řada, o které víme, že konverguje, potom platí-li $a_n \leq b_n$ pro skoro všechna $n \in \mathbb{N}$, konverguje i řada $\sum_{n=1}^{\infty} a_n$,
jestliže řada $\sum_{n=1}^{\infty} b_n$ diverguje a platí $a_n \geq b_n$ pro skoro všechna $n \in \mathbb{N}$, diverguje i řada $\sum_{n=1}^{\infty} a_n$;
- integrální: je-li f nezáporná a nerostoucí funkce definovaná na intervalu $\langle 1, \infty \rangle$ a $a_n = f(n)$ pro $n \in \mathbb{N}$, potom řada $\sum_{n=1}^{\infty} a_n$ konverguje, právě když konverguje nevládní integrál $\int_1^{\infty} f(x) dx$;
- odmocninové: je-li $\limsup \sqrt[n]{a_n} < 1$, řada konverguje,
 $\limsup \sqrt[n]{a_n} > 1$, řada diverguje;
- podílové: je-li $\lim_{n \rightarrow \infty} \frac{a_{n+1}}{a_n} < 1$, řada konverguje,
 $\lim_{n \rightarrow \infty} \frac{a_{n+1}}{a_n} > 1$, řada diverguje;

pro neabsolutní konvergenci jsme uvedli kriterium, které rozhodne o konvergenci tzv. alternující řady – řady, jejíž členy pravidelně střídají znaménka:

- Leibnizovo kriterium: alternující řada $\sum_{n=1}^{\infty} (-1)^n b_n$, kde $b_n > 0$, konverguje, platí-li $\lim_{n \rightarrow \infty} b_n = 0$ a $(b_n)_{n=1}^{\infty}$ je nerostoucí posloupnost.

Dále jsme vyšetřovali vlastnosti nekonečných řad a operace s nekonečnými řadami; uvedli jsme následující pravidla:

je-li $\sum_{n=1}^{\infty} a_n = a$ a $\sum_{n=1}^{\infty} b_n = b$, tedy řady jsou konvergentní, potom

- součet řady se nezmění, jestliže v ní sdružíme do závorek skupiny o konečně mnoha sčítancích,
- řadu můžeme násobit číslem člen po členu: $\sum_{n=1}^{\infty} k a_n = k \sum_{n=1}^{\infty} a_n = k a$,
- dvě řady můžeme sečíst člen po členu: $\sum_{n=1}^{\infty} (a_n + b_n) = \sum_{n=1}^{\infty} a_n + \sum_{n=1}^{\infty} b_n = a + b$;

je-li $\sum_{n=1}^{\infty} a_n = a$ a $\sum_{n=1}^{\infty} b_n = b$ a řady jsou absolutně konvergentní, potom

- součet řady se nezmění, jestliže v ní libovolně přerovnáme členy,
- dvě řady můžeme násobit člen po členu: $\left(\sum_{n=0}^{\infty} a_n \right) \left(\sum_{n=0}^{\infty} b_n \right) = \sum_{n=0}^{\infty} c_n = a \cdot b$,
kde $c_n = a_0 b_n + a_1 b_{n-1} + a_2 b_{n-2} + \dots + a_n b_0$;

tedy absolutně konvergentní řady mají všechny vlastnosti, které mají součty konečně mnoha sčítanců.

Na závěr kapitoly jsme se věnovali problému, jaké chyby se dopustíme, jestliže součet konvergentní řady nahradíme součtem několika jejích prvních členů. Je-li $\sum_{n=1}^{\infty} a_n =$
 $= \sum_{k=1}^n a_k + R_n$, R_n je zbytek po n -tém členu řady, platí následující vztahy :

- je-li daná řada alternující a $|a_n| = b_n$, potom $|R_n| < b_{n+1}$,
- jestliže $\left| \frac{a_{n+1}}{a_n} \right| \leq q < 1 \quad \forall n \in \mathbb{N}$, potom $|R_n| \leq |a_n| \frac{q}{1-q}$,
- jestliže $a_n = f(n)$, kde f je nezáporná a nerostoucí funkce na intervalu $\langle 1, \infty \rangle$,
potom $R_n \leq \int_n^{\infty} f(x) dx$.

Otázky a úkoly

1. Co je to nekonečná řada a jak definujeme součet nekonečné řady?
2. Kdy řekneme, že je nekonečná řada konvergentní resp. divergentní?
3. Pro řadu $\sum_{n=1}^{\infty} a_n$ platí $\lim_{n \rightarrow \infty} a_n = 0$. Které z následujících tvrzení je pravdivé a proč?
 - a) řada je konvergentní, ale k určení jejího součtu potřebujeme více informací,
 - b) řada je konvergentní a její součet je roven nule,
 - c) řada diverguje,
 - d) nemáme dost informací k rozhodnutí, zda řada konverguje nebo diverguje.
4. Předpokládejme, že pro řadu $\sum_{n=1}^{\infty} a_n$ platí $\lim_{n \rightarrow \infty} a_n = 6$. Které z následujících tvrzení je pravdivé a proč?
 - a) řada je konvergentní, ale k určení jejího součtu potřebujeme více informací,
 - b) řada je konvergentní a její součet je roven 6,
 - c) řada diverguje,
 - d) nemáme dost informací k rozhodnutí, zda řada konverguje nebo diverguje.
5. Pro posloupnost částečných součtů řady $\sum_{n=1}^{\infty} a_n$ platí $\lim_{n \rightarrow \infty} s_n = 3$. Které z následujících tvrzení je pravdivé a proč?
 - a) řada je konvergentní, ale k určení jejího součtu potřebujeme více informací,
 - b) řada je konvergentní a její součet je roven 3,
 - c) řada diverguje,
 - d) $\lim_{n \rightarrow \infty} a_n = 3$,
 - e) $\lim_{n \rightarrow \infty} a_n = 0$,
 - f) nemáme dost informací k rozhodnutí, zda řada konverguje nebo diverguje;
6. Ukažte, že platí: konverguje-li řada s kladnými členy $\sum_{n=1}^{\infty} a_n$, konverguje i řada $\sum_{n=1}^{\infty} a_n^2$;
7. Zjistěte, zda součet
 - a) dvou divergentních řad
 - b) divergentní a konvergentní řadymůže být konvergentní.

Cvičení

1. Napište prvních pět členů nekonečné řady, je-li dán její n -tý člen:

$$\text{a) } a_n = \frac{1}{(3-(-1)^n)^n}, \quad \text{b) } a_n = \frac{4n-3}{n^2+n+1}, \quad \text{c) } \frac{(1-\sin(n\frac{\pi}{2}))\cos(n\pi)}{n!};$$

2. Najděte n -tý člen následujících řad, jsou-li všechny další členy utvořeny podle stejného pravidla:

$$\text{a) } 1 + \frac{1}{4} + \frac{1}{7} + \frac{1}{10} + \dots, \quad \text{b) } 1 + \frac{2}{3} + \frac{3}{9} + \frac{4}{27} + \dots,$$

$$\text{c) } \frac{1}{3} + \frac{1}{15} + \frac{1}{35} + \frac{1}{63} + \frac{1}{99} + \dots$$

3. Najděte součet následujících nekonečných řad:

$$\text{a) } \sum_{n=1}^{\infty} \frac{1}{(n+1)(n+2)}, \quad \text{b) } \sum_{n=0}^{\infty} (-1)^{n+1} \left(\frac{2}{3}\right)^n, \quad \text{c) } \sum_{n=0}^{\infty} (-1)^n \left(\frac{5}{7}\right)^n.$$

4. Vyjádřete následující periodické dekadické rozvoje racionálních čísel ve tvaru zlomku:

$$\text{a) } 0,999\bar{9}, \quad \text{b) } 0,49\bar{0}, \quad \text{c) } 0,305\bar{21}.$$

5. Ukažte, že následující řady divergují:

$$\text{a) } \sum_{n=1}^{\infty} \frac{2n}{7n+1}, \quad \text{b) } \sum_{n=1}^{\infty} \cos \frac{1}{n}, \quad \text{c) } \sum_{n=1}^{\infty} \frac{3+2(-1)^n}{n+1}.$$

6. Pomocí srovnávacího kritéria rozhodněte o konvergenci řad:

$$\text{a) } \sum_{n=1}^{\infty} \frac{1}{100n+1}, \quad \text{b) } \sum_{n=1}^{\infty} \frac{1+n}{1+n^2}, \quad \text{c) } \sum_{n=1}^{\infty} \frac{1}{(3n-4)^2},$$

$$\text{d) } \sum_{n=1}^{\infty} \frac{1}{2n} \left(\frac{3}{8}\right)^n, \quad \text{e) } \sum_{n=1}^{\infty} \frac{\sqrt{n+1}-\sqrt{n}}{n}, \quad \text{f) } \sum_{n=1}^{\infty} \frac{1}{\ln n}.$$

7. Pomocí integrálního kritéria rozhodněte o konvergenci řad:

$$\text{a) } \sum_{n=1}^{\infty} \frac{2}{3+n^2}, \quad \text{b) } \sum_{n=1}^{\infty} \left(\frac{1+n}{1+n^2}\right), \quad \text{c) } \sum_{n=1}^{\infty} \frac{e^{-\sqrt{n}}}{\sqrt{n}},$$

$$\text{d) } \sum_{n=2}^{\infty} \frac{3}{n \ln n}, \quad \text{e) } \sum_{n=1}^{\infty} \frac{1}{n \ln^2 n}, \quad \text{f) } \sum_{n=1}^{\infty} \frac{\ln n}{n^\alpha}.$$

8. Pomocí odmocninového kritéria rozhodněte o konvergenci řad:

$$\text{a) } \sum_{n=1}^{\infty} \operatorname{arctg}^n \frac{1}{n}, \quad \text{b) } \sum_{n=1}^{\infty} \left(\frac{n+2}{2n-1}\right)^n, \quad \text{c) } \sum_{n=1}^{\infty} \frac{1}{(\ln n+1)^{n+1}}.$$

9. Pomocí podílového kritéria rozhodněte o konvergenci řad:

$$\text{a) } \sum_{n=1}^{\infty} \frac{n}{2^n}, \quad \text{b) } \sum_{n=1}^{\infty} \frac{(n!)^2}{(2n)!}, \quad \text{c) } \sum_{n=1}^{\infty} \frac{n!}{n^n}.$$

10. Pomocí nutné podmínky konvergence řady ukažte, že platí:

$$\text{a) } \lim_{n \rightarrow \infty} \frac{e^n}{n!} = 0, \quad \text{b) } \lim_{n \rightarrow \infty} \frac{n^n}{(4n)!} = 0, \quad \text{c) } \lim_{n \rightarrow \infty} \frac{n^n}{(n!)^2} = 0.$$

11. Pomocí vhodného kritéria rozhodněte o konvergenci řad:

$$\begin{aligned} \text{a) } \sum_{n=1}^{\infty} \left(\frac{3n}{3n+1}\right)^n, \quad & \text{b) } \sum_{n=1}^{\infty} \frac{n^3}{e^n}, \quad & \text{c) } \sum_{n=1}^{\infty} \frac{2^n n!}{n^n}, \\ \text{d) } \sum_{n=1}^{\infty} \frac{(-1)^{n-1}}{2n-1}, \quad & \text{e) } \sum_{n=1}^{\infty} \frac{(-1)^{n-1}}{\sqrt{n}}, \quad & \text{f) } \sum_{n=1}^{\infty} (-1)^n \left(\frac{2n+1}{3n+1}\right)^n. \end{aligned}$$

12. Najděte součet řady $\sum_{n=0}^{\infty} \frac{(-3)^{n+7n+1}}{14^n}$.

13. Vynásobte následující řady a vyšetřete konvergenci vzniklé řady:

$$\text{a) } \sum_{n=0}^{\infty} (n+1) a^n \text{ a } \sum_{n=0}^{\infty} (n+1) (-a)^n, \quad \text{b) } \left(\sum_{n=0}^{\infty} a^n\right)^2.$$

14. Najděte součet řady

$$\begin{aligned} \text{a) } \sum_{n=1}^{\infty} \frac{1}{n^2} \text{ s chybou menší než } 0,1, \\ \text{b) } \sum_{n=1}^{\infty} \frac{1}{n^3} \text{ s chybou menší než } 0,01, \\ \text{c) } \sum_{n=1}^{\infty} \frac{1}{n^2+2n-3} \text{ s chybou menší než } 0,03. \end{aligned}$$

Výsledky

1. a) $\frac{1}{4} + \frac{1}{4} + \frac{1}{64} + \frac{1}{16} + \frac{1}{1024} + \dots$, b) $\frac{1}{3} + \frac{5}{7} + \frac{9}{13} + \frac{13}{21} + \frac{17}{31} + \dots$, c) $0 + \frac{1}{2!} - \frac{2}{3!} + \frac{1}{4!} + 0 + \dots$;
 2. a) $\frac{1}{3n-2}$, b) $\frac{n}{3^{n-1}}$, c) $\frac{1}{(2n-1)(2n+1)}$; 3. a) $\frac{1}{2}$, b) $-\frac{3}{5}$, c) $\frac{7}{12}$; 4. a) 1, b) $\frac{54}{110}$, c) $\frac{30491}{99900}$; 5. nutná podm.;
 6. a) div., b) div., c) konv., d) konv., e) konv., f) div.;
 7. a) konv., b) konv., c) konv., d) div., e) konv., f) konv. pro $a > 1$, div. pro $a \leq 1$; 8. a) konv., b) konv., c) konv.;
 9. a) konv., b) konv., c) konv.; 11. a) konv., b) konv., c) konv., d) konv. neabs., e) konv. neabs., f) konv. abs.;
 12. $14 + \frac{14}{17}$; 13. a) $\sum_{n=0}^{\infty} (n+1) a^{2n}$, konv. pro $|a| < 1$, b) $\sum_{n=0}^{\infty} (n+1) a^n$, konv. pro $|a| < 1$;

5.2 Mocninné řady

Pojem nekonečné číselné řady jsme motivovali snahou rozšířit operaci sečítání na nekonečně mnoho sčítanců; v tomto odstavci podobným způsobem zobecníme polynomy.

Základní pojmy

Definice 5.37. Necht' $(c_n)_{n=0}^{\infty}$ je číselná posloupnost, $x_0 \in \mathbb{R} (\mathbb{C})$. Řada tvaru

$$\sum_{n=0}^{\infty} c_n (x - x_0)^n = c_0 + c_1(x - x_0) + c_2(x - x_0)^2 + \cdots + c_n(x - x_0)^n + \cdots$$

se nazývá **mocninná řada** a číslo x_0 její **střed**.

Řekneme, že mocninná řada konverguje

1. v x_1 , právě když konverguje číselná řada $\sum_{n=0}^{\infty} c_n (x_1 - x_0)^n$,
2. na množině M , právě když řada $\sum_{n=0}^{\infty} c_n (x - x_0)^n$ konverguje pro každé $x \in M$.

Jestliže řada $\sum_{n=0}^{\infty} c_n (x - x_0)^n$ konverguje na množině M a současně pro každé $x \notin M$ diverguje, nazývá se M **oborem konvergence** této řady.

Příklad 5.38. Máme najít obory konvergence daných mocninných řad:

$$\text{a) } \sum_{n=1}^{\infty} \frac{(x-1)^n}{n} \quad \text{b) } \sum_{n=0}^{\infty} 2^n (x+2)^n \quad \text{c) } \sum_{n=0}^{\infty} 2^n n^2 x^{2n} \quad \text{d) } \sum_{n=0}^{\infty} \frac{z^n}{2^n}, \quad z \in \mathbb{C}$$

Řešení. a) Použijeme podílové kritérium pro vyšetření absolutní konvergence:

$$\lim_{n \rightarrow \infty} \frac{|c_{n+1}(x-x_0)^{n+1}|}{|c_n(x-x_0)^n|} = \lim_{n \rightarrow \infty} \frac{|x-1|^{n+1}}{n+1} \cdot \frac{n}{|x-1|^n} = |x-1| \lim_{n \rightarrow \infty} \frac{n}{n+1} = |x-1|;$$

tedy daná řada konverguje absolutně pro $|x-1| < 1$. Pro $|x-1| > 1$ diverguje, protože zde není splněna nutná podmínka konvergence.

Situaci v krajních bodech konvergenčního intervalu vyšetříme tak, že hodnoty $x = 1 \pm 1$ do dané řady dosadíme:

- $x = 2$: $\sum_{n=1}^{\infty} \frac{1}{n}$ diverguje
- $x = 0$: $\sum_{n=1}^{\infty} \frac{(-1)^n}{n}$ konverguje neabsolutně

Tedy obor konvergence dané řady je interval $\langle 0, 2 \rangle$; konvergence pro $x = 0$ je neabsolutní.

b) Použijeme odmocninové kritérium:

$$\lim_{n \rightarrow \infty} \sqrt[n]{|c_n(x-x_0)^n|} = \lim_{n \rightarrow \infty} \sqrt[n]{2^n |x+2|^n} = 2|x+2|;$$

Tedy řada konverguje absolutně pro $2|x+2| < 1 \Rightarrow |x+2| < \frac{1}{2}$.

V krajních bodech $x = -2 \pm \frac{1}{2}$ není splněna nutná podmínka konvergence:

$$x = -2 \pm \frac{1}{2} : \quad \sum_{n=0}^{\infty} 2^n \cdot (-2 \pm \frac{1}{2} + 2)^n = \sum_{n=0}^{\infty} (\pm 1)^n \text{ diverguje.}$$

Tedy obor konvergence dané řady je interval $(-\frac{5}{2}, -\frac{3}{2})$.

c) Použijeme podílové kritérium:

$$\lim_{n \rightarrow \infty} \frac{2^{n+1}(n+1)^2 x^{2n+2}}{2^n n^2 x^{2n}} = 2x^2 \lim_{n \rightarrow \infty} \left(\frac{n+1}{n} \right) = 2x^2;$$

Řada konverguje absolutně pro $2x^2 < 1 \Rightarrow |x| < \frac{1}{\sqrt{2}}$. V krajních bodech intervalu i pro $|x| > \frac{1}{\sqrt{2}}$ není splněna nutná podmínka konvergence.

Poznamenejme, že řada má tvar $\sum_{n=0}^{\infty} 2^n n^2 x^{2n} = x^2 + 4x^4 + 9x^6 + \dots$, tedy posloupnost koeficientů má každý druhý člen nulový: $(c_n)_{n=0}^{\infty} = (0, 0, 1, 0, 4, 0, 9, 0, \dots)$.

d) Vyšetříme absolutní konvergenci pomocí odmocninového kritéria – vypočítáme limitu n -té odmocniny n -tého členu řady:

$$\lim_{n \rightarrow \infty} \sqrt[n]{\left| \frac{z^n}{2^n} \right|} = \lim_{n \rightarrow \infty} \frac{|z|}{2} = \frac{|z|}{2};$$

Řada konverguje pro $\frac{|z|}{2} < 1 \Rightarrow |z| < 2$ a diverguje pro $\frac{|z|}{2} > 1 \Rightarrow |z| > 2$ – oborem konvergence je tedy kruh se středem v 0 a poloměrem 2.

Pro $|z| = 2$ je $|c_n z^n| = 1$, tedy není splněna nutná podmínka konvergence a řada zde diverguje.

□

Poloměr konvergence

Viděli jsme, že obor konvergence byl v reálném oboru vždy interval souměrný podle středu řady, v komplexním oboru kruh se středem ve středu řady; to platí i obecně, jak říká následující věta:

Věta 5.39. *Pro obor konvergence mocninné řady jsou možné následující tři situace:*

1. řada konverguje pouze ve svém středu,
2. řada konverguje pro všechna $x \in \mathbb{R}(\mathbb{C})$,
3. existuje kladné číslo r tak, že řada konverguje absolutně pro $|x - x_0| < r$ a diverguje pro $|x - x_0| > r$.

Definice 5.40. Číslo r z předchozí věty se nazývá **poloměr konvergence** mocninné řady $\sum_{n=0}^{\infty} c_n (x - x_0)^n$.

V případě 1. resp. 2. předchozí věty klademe $r = 0$ resp. $r = \infty$.

Příklad 5.41. Najděte poloměr konvergence a součet řady $\sum_{n=1}^{\infty} \frac{x^n}{(2+(-1)^n)^n}$

Řešení. V případě, že řada konverguje, můžeme její členy po dvou uzávorkovat; platí tedy

$$\sum_{n=1}^{\infty} \frac{x^n}{(2+(-1)^n)^n} = \sum_{k=1}^{\infty} \left(\frac{x^{2k-1}}{(2+(-1)^{2k-1})^{2k-1}} + \frac{x^{2k}}{(2+(-1)^{2k})^{2k}} \right) = \sum_{k=1}^{\infty} \left(x^{2k-1} + \frac{x^{2k}}{3^{2k}} \right).$$

Vyšetříme řady $\sum_{k=1}^{\infty} x^{2k-1}$ a $\sum_{k=1}^{\infty} \frac{x^{2k}}{3^{2k}}$ zvlášť:

$\sum_{k=1}^{\infty} x^{2k-1} = x + x^3 + x^5 + \dots$ je geometrická řada s kvocientem $q = x^2$, ta konverguje pro $|x| < 1$ absolutně;

$\sum_{k=1}^{\infty} \frac{x^{2k}}{3^{2k}}$ je geometrická řada s kvocientem $q = \frac{x^2}{9}$, konverguje absolutně pro $\frac{x^2}{9} < 1$, tedy pro $|x| < 3$.

Je-li tedy $|x| < 1$, konvergují absolutně obě řady a platí

$$\sum_{n=1}^{\infty} \frac{x^n}{(2+(-1)^n)^n} = \sum_{k=1}^{\infty} x^{2k-1} + \sum_{k=1}^{\infty} \frac{x^{2k}}{3^{2k}} = \frac{x}{1-x^2} + \frac{x^2}{1-\frac{x^2}{9}} = \frac{x(9+9x-x^2-9x^3)}{(1-x^2)(9-x^2)}.$$

□

Posloupnost koeficientů řady v předchozím příkladu má následující tvar:

$$(c_n)_{n=1}^{\infty} = \left(1, \frac{1}{3^2}, 1, \frac{1}{3^4}, 1, \frac{1}{3^6}, \dots \right)$$

Sestavme posloupnost $(\sqrt[n]{c_n})_{n=1}^{\infty}$:

$$(\sqrt[n]{c_n})_{n=1}^{\infty} = \left(1, \frac{1}{3}, 1, \frac{1}{3}, 1, \frac{1}{3}, \dots \right);$$

tato posloupnost má dvě hromadné hodnoty

$$h_1 = 1, h_2 = \frac{1}{3}$$

přičemž horní limita této posloupnosti $\limsup c_n = 1$.

Pomocí horní limity posloupnosti koeficientů mocninné řady se vždy dá vypočítat její poloměr konvergence:

Věta 5.42. Pro poloměr konvergence mocninné řady $\sum_{n=0}^{\infty} c_n (x-x_0)^n$ platí

$$r = \frac{1}{\limsup \sqrt[n]{|c_n|}}.$$

Pro vyšetřování mocninných řad lze použít [tento maplet](#).

Derivace a integrace mocninných řad

Mocninná řada je vyjádřením svého součtu ve tvaru „nekonečného polynomu“; je přirozené ptát se, zda můžeme tuto řadu derivovat (nebo integrovat) člen po členu, a jak souvisí součet vzniklé řady s derivací součtu řady původní. Tohoto problému si nyní blíže všimneme.

Věta 5.43. *Nechť mocninná řada $\sum_{n=0}^{\infty} c_n (x - x_0)^n$ má poloměr konvergence $r > 0$. Pak platí:*

- a) *součet této řady je spojitá funkce na $(x_0 - r, x_0 + r)$*
 b) *pro všechna $x \in (x_0 - r, x_0 + r)$*

$$\int_{x_0}^x \left(\sum_{n=0}^{\infty} c_n (t - x_0)^n \right) dt = \sum_{n=0}^{\infty} \int_{x_0}^x c_n (t - x_0)^n dt = \sum_{n=0}^{\infty} c_n \frac{(x - x_0)^{n+1}}{n+1},$$

přičemž mocninná řada na pravé straně má stejný poloměr konvergence r

- c) *pro všechna $x \in (x_0 - r, x_0 + r)$*

$$\left(\sum_{n=0}^{\infty} c_n (x - x_0)^n \right)' = \sum_{n=0}^{\infty} (c_n (x - x_0)^n)' = \sum_{n=1}^{\infty} n c_n (x - x_0)^{n-1}$$

přičemž mocninná řada na pravé straně má stejný poloměr konvergence r .

Příklad 5.44. Určete součet řady $\sum_{n=0}^{\infty} x^n$ a pomocí integrace této řady určete součet číselné řady $\sum_{n=1}^{\infty} \frac{1}{n 2^n}$.

Řešení. Je

$$\sum_{n=0}^{\infty} x^n = \sum_{n=1}^{\infty} x^{n-1} = \frac{1}{1-x} \quad \text{pro } |x| < 1$$

(je to geometrická řada s kvocientem x). Dále platí

$$\int x^{n-1} dx = \frac{x^n}{n} \quad \text{a} \quad \int_0^{\frac{1}{2}} x^{n-1} dx = \frac{1}{n 2^n},$$

tedy

$$\sum_{n=1}^{\infty} \frac{1}{n 2^n} = \sum_{n=1}^{\infty} \int_0^{\frac{1}{2}} x^{n-1} dx = \int_0^{\frac{1}{2}} \left(\sum_{n=1}^{\infty} x^{n-1} \right) dx = \int_0^{\frac{1}{2}} \frac{1}{1-x} dx = -\ln \frac{1}{2} = \ln 2.$$

□

Příklad 5.45. Určete poloměr konvergence a součet mocninné řady $\sum_{n=1}^{\infty} n x^n$. Pomocí získaného výsledku sečtěte číselnou řadu $\sum_{n=1}^{\infty} \frac{n}{2^n}$.

Řešení. Obor konvergence zadané řady určíme podílovým kriteriem:

$$\lim_{n \rightarrow \infty} \frac{|a_{n+1}|}{|a_n|} = |x| \cdot \lim_{n \rightarrow \infty} \frac{n+1}{n} < 1 \quad \Rightarrow \quad |x| < 1.$$

Platí tedy

$$\sum_{n=1}^{\infty} n x^n = x \sum_{n=1}^{\infty} n x^{n-1} = x \sum_{n=1}^{\infty} (x^n)' = x \left(\sum_{n=1}^{\infty} x^n \right)' = x \left(\frac{x}{1-x} \right)' = \frac{x}{(1-x)^2}$$

pro všechna $x \in (-1, 1)$. Odtud dosazením za $x = \frac{1}{2}$ dostaneme

$$\sum_{n=1}^{\infty} \frac{n}{2^n} = \frac{\frac{1}{2}}{\left(1 - \frac{1}{2}\right)^2} = 2.$$

□

Příklad 5.46. Máme vypočítat s přesností na šest desetinných míst (tj. s chybou menší než 10^{-6}) integrál

$$I = \int_0^1 \frac{1}{x^4 + 81} dx$$

Řešení. Platí

$$I = \int_0^1 \frac{1}{x^4 + 81} dx = \frac{1}{81} \int_0^1 \frac{1}{1 + \frac{x^4}{3^4}} dx$$

Integrand $\frac{1}{1 + \frac{x^4}{3^4}}$ můžeme chápat jako součet geometrické řady s kvocientem $q = -\frac{x^4}{3^4}$:

$$\frac{1}{1 + \frac{x^4}{3^4}} = 1 - \frac{x^4}{3^4} + \left(\frac{x^4}{3^4}\right)^2 - \left(\frac{x^4}{3^4}\right)^3 + \dots$$

která konverguje pro $|q| < 1$, tedy pro $|x| < 3$.

Protože platí $(0, 1) \subset (-3, 3)$, můžeme použít větu o integraci člen po členu, tedy

$$\begin{aligned} \int_0^1 \frac{1}{x^4 + 81} dx &= \frac{1}{3^4} \int_0^1 \frac{1}{1 + \frac{x^4}{3^4}} dx = \frac{1}{3^4} \int_0^1 \left(1 - \frac{x^4}{3^4} + \left(\frac{x^4}{3^4}\right)^2 - \left(\frac{x^4}{3^4}\right)^3 + \dots \right) dx = \\ &= \frac{1}{3^4} \left[x - \frac{x^5}{5 \cdot 3^4} + \frac{x^9}{9 \cdot 3^8} - \frac{x^{13}}{13 \cdot 3^{12}} + \dots \right]_0^1 = \frac{1}{3^4} - \frac{1}{5 \cdot 3^8} + \frac{1}{3^{14}} - \frac{1}{13 \cdot 3^{16}} + \dots \end{aligned}$$

$$3^{14} = 4782969 > 10^6 \quad \Rightarrow \quad \frac{1}{3^{14}} < 10^{-6}.$$

Víme, že chyba v alternující řadě je (v absolutní hodnotě) menší než absolutní hodnota prvního vynechaného členu, viz 5.31; proto platí

$$I = \frac{1}{3^4} - \frac{1}{5 \cdot 3^8} + R, \quad \text{kde } |R| < 10^{-6}.$$

□

Známe-li součet mocninné řady, můžeme určovat součty číselných řad pro všechna x ležící uvnitř oboru konvergence – kruhu v \mathbb{C} a intervalu v \mathbb{R} . Chceme-li určit součet číselné řady v krajním bodě konvergenčního intervalu v \mathbb{R} , je třeba použít následující Abelovu větu:

Věta 5.47. (Abelova) *Nechť mocninná řada $\sum_{n=0}^{\infty} c_n (x-x_0)^n$ má poloměr konvergence r , kde $0 < r < \infty$ a nechť je konvergentní v krajním bodě x_0+r (resp. x_0-r) konvergenčního intervalu. Pak součet $s(x)$ této řady je funkce zleva spojitá v bodě x_0+r (resp. zprava spojitá v bodě x_0-r).*

Příklad 5.48. Vyjádřete funkci $\ln(1+x)$ mocninnou řadou a odtud určete součet Leibnizovy řady $\sum_{n=1}^{\infty} (-1)^{n-1} \frac{1}{n}$.

Řešení. Pro $x \in (-1, 1)$ Platí

$$\frac{1}{1+x} = 1 - x + x^2 - x^3 + \dots = \sum_{n=0}^{\infty} (-x)^n = \sum_{n=0}^{\infty} (-1)^n x^n.$$

Odtud

$$\begin{aligned} \ln(1+x) &= \int_0^x \frac{dt}{1+t} = \int_0^x (1 - t + t^2 - t^3 + \dots) dt = \\ &= x - \frac{x^2}{2} + \frac{x^3}{3} - \dots = \sum_{n=1}^{\infty} (-1)^{n-1} \frac{x^n}{n}. \end{aligned}$$

Pro $x=1$ dostaneme Leibnizovu řadu, která je (neabsolutně) konvergentní a podle Abelovy věty je její součet

$$\sum_{n=1}^{\infty} \frac{(-1)^{n-1}}{n} = \lim_{x \rightarrow 1^-} \ln(1+x) = \ln 2.$$

□

Taylorovy řady

V tomto odstavci budeme řešit obrácenou úlohu, a to jak rozvinout danou funkci do mocninné řady – tedy k dané funkci najít mocninnou řadu, které je součtem.

V diferenciálním počtu jsme uvedli Taylorovu větu, kde je funkce vyjádřena ve tvaru polynomu a zbytku. Pro dostatečně mnohokrát diferencovatelnou funkci f jsme uvedli vyjádření

$$f(x) = f(x_0) + \frac{f'(x_0)}{1!} (x-x_0) + \dots + \frac{f^{(n)}(x_0)}{n!} (x-x_0)^n + R_{n+1}(x),$$

kde $R_{n+1}(x)$ je Taylorův zbytek, pro který platí $R_{n+1}(x) = \frac{f^{(n+1)}(\xi)}{(n+1)!} (x-x_0)^{n+1}$ a ξ je mezi x_0 a x .

Je proto přirozené zavést následující definici:

Definice 5.49. Nechť funkce f má v bodě x_0 derivace všech řádů. Mocninnou řadu

$$\sum_{n=0}^{\infty} \frac{f^{(n)}(x_0)}{n!} (x - x_0)^n$$

nazýváme **Taylorovou řadou** funkce f v bodě x_0 .

Poznamenejme, že v případě $x_0 = 0$ se řada nazývá též **Maclaurinova**.

Obecně nemusí platit, že součet Taylorovy řady funkce f je roven této funkci. Uvedeme podmínky, kdy tato rovnost platí:

Věta 5.50. Nechť funkce f má derivace všech řádů na jistém intervalu \mathcal{J} a existuje takové číslo $k \in \mathbb{R}$, že

$$|f^{(n)}(x)| < k \quad \text{pro všechna } n \in \mathbb{N} \quad \text{a všechna } x \in \mathcal{J}.$$

Potom pro libovolné $x_0 \in \mathcal{J}$ platí:

$$f(x) = \sum_{n=0}^{\infty} \frac{f^{(n)}(x_0)}{n!} (x - x_0)^n \quad \text{na intervalu } \mathcal{J}.$$

Taylorovy (resp. Maclaurinovy) řady elementárních funkcí dostaneme pomocí jejich Taylorových polynomů, které jsme odvodili v kapitole 3.5. Obory konvergence těchto řad najdeme pomocí kritérií konvergence, nebo pomocí známého vztahu najdeme poloměr konvergence.

Taylorovy řady některých elementárních funkcí jsou v závěrečném shrnutí.

Příklad 5.51. Najdeme Maclaurinův rozvoj funkce $f(x) = (1 + x)^a$, $a \in \mathbb{R}$ – tzv. binomickou řadu.

Řešení. Vypočítáme potřebné derivace:

$$\begin{aligned} f(x) &= (1 + x)^a, & f(0) &= 1; \\ f'(x) &= a(1 + x)^{a-1}, & f'(0) &= a; \\ f''(x) &= a(a-1)(1 + x)^{a-2}, & f''(0) &= a(a-1); \\ &\vdots & &\vdots \\ f^{(n)}(x) &= a(a-1)\cdots(a-n+1)(1 + x)^{a-n}, & f^{(n)}(0) &= a(a-1)\cdots(a-n+1). \end{aligned}$$

Pro n -tý koeficient řady tedy platí

$$c_n = \frac{f^{(n)}(0)}{n!} = \frac{a(a-1)\cdots(a-n+1)}{n!} = \binom{a}{n}$$

a řada má tvar

$$(1+x)^a = 1 + \binom{a}{1}x + \binom{a}{2}x^2 + \dots + \binom{a}{n}x^n + \dots = \sum_{n=0}^{\infty} \binom{a}{n}x^n.$$

Pomocí podílového kritéria určíme, že řada konverguje absolutně pro $|x| < 1$. Konvergence v krajních bodech intervalu závisí na čísle a . \square

Pomocí již známých Taylorových řad můžeme rozkládat další funkce do řad pomocí dovolených operací – substitucí, derivací resp. aritmetických operací:

Příklad 5.52. Rozviňte následující funkce do Maclaurinovy řady a určete jejich obor konvergence:

$$\text{a) } f(x) = \frac{1}{\sqrt{1-x^2}}, \quad \text{b) } f(x) = \arctg x, \quad \text{c) } \ln\left(\frac{1+x}{1-x}\right).$$

Řešení. a) Položíme-li $-x^2 = t$, dostaneme funkci $\frac{1}{\sqrt{1-x^2}} = \frac{1}{\sqrt{1+t}} = (1+t)^{-\frac{1}{2}}$. Její rozvoj do binomické řady je

$$\begin{aligned} (1+t)^{-\frac{1}{2}} &= 1 + \binom{-\frac{1}{2}}{1}t + \binom{-\frac{1}{2}}{2}t^2 + \binom{-\frac{1}{2}}{3}t^3 + \dots + \binom{-\frac{1}{2}}{n}t^n + \dots = \\ &= 1 + \frac{-\frac{1}{2}}{1!}t + \frac{(-\frac{1}{2}) \cdot (-\frac{3}{2})}{2!}t^2 + \dots + \frac{(-\frac{1}{2}) \cdot (-\frac{3}{2}) \cdot (-\frac{5}{2}) \cdot \dots \cdot (-\frac{2n-1}{2})}{n!}t^n + \dots = \\ &= 1 - \frac{1}{2}t + \frac{3}{2^2 2!}t^2 - \frac{15}{2^3 3!}t^3 + \dots + (-1)^n \frac{3 \cdot 5 \cdot \dots \cdot (2n-1)}{2^n n!}t^n + \dots \end{aligned}$$

na intervalu $(-1, 1)$. Dosazením $t = -x^2$ dostaneme hledanou Maclaurinovu řadu

$$\frac{1}{\sqrt{1-x^2}} = 1 + \frac{1}{2}x^2 + \frac{3}{2^2 2!}x^4 + \frac{15}{2^3 3!}x^6 + \dots + \frac{3 \cdot 5 \cdot \dots \cdot (2n-1)}{2^n n!}x^{2n} + \dots,$$

$$|x| < 1.$$

b) Derivace dané funkce je $(\arctg x)' = \frac{1}{1+x^2}$, což je součet geometrické řady s kvocien-tem $-x^2$, tj. platí

$$\frac{1}{1+x^2} = 1 - x^2 + x^4 - \dots \quad \text{pro } |x| < 1.$$

Podle věty o integraci řady dostaneme pro $x \in (-1, 1)$

$$\arctg x = \int_0^x (1 - t^2 + t^4 - \dots) dt = x - \frac{x^3}{3} + \frac{x^5}{5} - \dots = \sum_{n=0}^{\infty} (-1)^n \frac{x^{2n+1}}{2n+1}.$$

Vyšetříme krajní body konvergenčního intervalu $x = \pm 1$:

Po dosazení dostaneme alternující číselné řady $\sum_{n=0}^{\infty} (-1)^n \frac{1}{2n+1}$ a $\sum_{n=0}^{\infty} (-1)^{n+1} \frac{1}{2n+1}$, které konvergují, a podle Abelovy věty tedy nalezený rozvoj platí pro $x \in \langle -1, 1 \rangle$.

c) Platí $\ln\left(\frac{1+x}{1-x}\right) = \ln(1+x) - \ln(1-x)$. Víme, že

$$\ln(1+x) = \sum_{n=1}^{\infty} (-1)^{n-1} \frac{x^n}{n}, \quad x \in (-1, 1), \quad \text{tedy}$$

$$\ln(1-x) = \sum_{n=1}^{\infty} (-1)^{n-1} \frac{(-x)^n}{n} = -\sum_{n=1}^{\infty} \frac{x^n}{n}, \quad x \in (-1, 1).$$

Proto

$$\begin{aligned} \ln\left(\frac{1+x}{1-x}\right) &= \left(x - \frac{x^2}{2} + \frac{x^3}{3} - \dots\right) - \left(-x - \frac{x^2}{2} - \frac{x^3}{3} - \dots\right) = \\ &= 2x + 2\frac{x^3}{3} + 2\frac{x^5}{5} + \dots = 2\sum_{n=1}^{\infty} \frac{x^{2n-1}}{2n-1}, \quad |x| < 1. \end{aligned}$$

□

Příklad 5.53. Určete součet mocninné řady $\sum_{n=0}^{\infty} \frac{(2n+1)x^{2n}}{n!}$

Řešení. Platí

$$\sum_{n=0}^{\infty} \frac{(2n+1)x^{2n}}{n!} = \sum_{n=0}^{\infty} \frac{1}{n!} (x^{2n+1})' = \left(\sum_{n=0}^{\infty} \frac{x^{2n+1}}{n!}\right)' = \left(x \sum_{n=0}^{\infty} \frac{x^{2n}}{n!}\right)'$$

Přitom

$$\sum_{n=0}^{\infty} \frac{x^{2n}}{n!} = \sum_{n=0}^{\infty} \frac{(x^2)^n}{n!} = e^{x^2},$$

tedy

$$\sum_{n=0}^{\infty} \frac{(2n+1)x^{2n}}{n!} = (x e^{x^2})' = e^{x^2} (1 + 2x^2) \quad \text{pro } x \in \mathbb{R}.$$

□

Příklad 5.54. Pomocí známých řad najděte Taylorovu řadu funkce $\frac{3}{x^2-x-2}$

- se středem $x_0 = 0$,
- se středem $x_0 = 3$.

Řešení. Danou funkci rozložíme na parciální zlomky, dostaneme

$$\frac{3}{x^2-x-2} = \frac{1}{x-2} - \frac{1}{x+1}$$

a každý zlomek budeme rozkládat zvlášť s využitím vztahu pro součet geometrické řady

$$\frac{1}{1-q} = \sum_{n=0}^{\infty} q^n.$$

a) rozklad má být v mocninách x :

$$\frac{1}{x-2} = -\frac{1}{2} \frac{1}{1-\frac{x}{2}} = -\frac{1}{2} \sum_{n=0}^{\infty} \frac{x^n}{2^n} = -\sum_{n=0}^{\infty} \frac{x^n}{2^{n+1}}, \quad \text{pro } \left| \frac{x}{2} \right| < 1 \text{ tj. } |x| < 2$$

$$\frac{1}{1+x} = \sum_{n=0}^{\infty} (-x)^n, \quad \text{pro } |x| < 1,$$

$$\begin{aligned} \frac{3}{x^2-x-2} &= -\sum_{n=0}^{\infty} \frac{x^n}{2^{n+1}} - \sum_{n=0}^{\infty} (-1)^n x^n = -\sum_{n=0}^{\infty} \left(\frac{1}{2^{n+1}} + (-1)^n \right) x^n = \\ &= -\frac{3}{2} + \frac{3}{4}x - \frac{9}{8}x^2 + \frac{15}{16}x^3 - \frac{33}{32}x^4 + \frac{63}{64}x^5 - \dots, \quad \text{pro } |x| < 1. \end{aligned}$$

V krajních bodech konvergenčního intervalu řada diverguje – není splněna nutná podmínka konvergence.

b) rozklad má být v mocninách $x-3$:

$$\frac{1}{x-2} = \frac{1}{x-3+3-2} = \frac{1}{1+(x-3)} = \sum_{n=0}^{\infty} (-1)^n (x-3)^n$$

$$\text{pro } |x-3| < 1, \text{ tj. } x \in (2, 4),$$

$$\frac{1}{x+1} = \frac{1}{x-3+3+1} = \frac{1}{4+x-3} = \frac{1}{4} \frac{1}{1+\frac{x-3}{4}} = \frac{1}{4} \sum_{n=0}^{\infty} (-1)^n \frac{1}{4^n} (x-3)^n$$

$$\text{pro } \left| \frac{x-3}{4} \right| < 1, \text{ tj. } x \in (-1, 7),$$

$$\begin{aligned} \frac{3}{x^2-x-2} &= \frac{1}{x-2} - \frac{1}{x+1} = \sum_{n=0}^{\infty} (-1)^n (x-3)^n - \sum_{n=0}^{\infty} (-1)^n \frac{1}{4^{n+1}} (x-3)^n = \\ &= \sum_{n=0}^{\infty} (-1)^n \frac{4^{n+1} - 1}{4^{n+1}} (x-3)^n = \frac{3}{4} - \frac{15}{16}x + \frac{63}{64}x^2 - \frac{255}{256}x^3 + \dots \end{aligned}$$

$$\text{pro } x \in (2, 4).$$

V krajních bodech konvergenčního intervalu řada diverguje – není splněna nutná podmínka konvergence.

□

K nalezení Taylorových řad lze použít [tento Maplet](#).

Pro zájemce

Exponenciální funkce e^z

Vyšetřujeme řadu $\sum_{n=0}^{\infty} \frac{z^n}{n!}$ pro $z \in \mathbb{C}$.

Snadno se ukáže (pomocí podílového kritéria), že řada absolutně konverguje na celém \mathbb{C} , tedy její součet je zde spojitou funkcí. Označíme

$$\exp z := \sum_{n=0}^{\infty} \frac{z^n}{n!}.$$

Počítejme derivaci této funkce:

$$(\exp z)' = \sum_{n=0}^{\infty} n \frac{z^{n-1}}{n!} = \sum_{n=1}^{\infty} n \frac{z^{n-1}}{n!} = \sum_{n=1}^{\infty} \frac{z^{n-1}}{(n-1)!} = \sum_{n=0}^{\infty} \frac{z^n}{n!} = \exp z$$

Z příkladu 5.30 víme, že

$$\exp(z_1 + z_2) = \sum_{n=0}^{\infty} \frac{(z_1 + z_2)^n}{n!} = \sum_{n=0}^{\infty} \frac{z_1^n}{n!} \cdot \sum_{n=0}^{\infty} \frac{z_2^n}{n!} = \exp z_1 \cdot \exp z_2$$

a analogicky

$$\exp(kz) = \underbrace{\exp z \cdot \exp z \cdot \dots \cdot \exp z}_{k \times} = (\exp z)^k$$

Dosadíme-li do definiční řady $z = 0$, dostaneme $\exp 0 = 1$ a odtud

$$1 = \exp 0 = \exp(z - z) = \exp z \cdot \exp(-z) \Rightarrow \exp(-z) = \frac{1}{\exp z}.$$

Přitom se dá ukázat, že platí

$$\exp 1 = \sum_{n=0}^{\infty} \frac{1}{n!} = \lim_{n \rightarrow \infty} \left(\frac{1}{0!} + \frac{1}{1!} + \frac{1}{2!} + \dots + \frac{1}{n!} \right) = \lim_{n \rightarrow \infty} \left(1 + \frac{1}{n} \right)^n = e.$$

Proto budeme psát $\exp z = e^z$.

Vyjádříme pro $t \in \mathbb{R}$ výraz e^{it} – najdeme reálnou a imaginární složku:

$$\begin{aligned} e^{it} &= \sum_{n=0}^{\infty} \frac{(it)^n}{n!} = \sum_{k=0}^{\infty} \frac{(it)^{2k}}{(2k)!} + \sum_{k=0}^{\infty} \frac{(it)^{2k+1}}{(2k+1)!} = \\ &= \sum_{k=0}^{\infty} \frac{i^{2k} t^{2k}}{(2k)!} + i \sum_{k=0}^{\infty} \frac{i^{2k} t^{2k+1}}{(2k+1)!} = \sum_{k=0}^{\infty} (-1)^k \frac{t^{2k}}{(2k)!} + i \sum_{k=0}^{\infty} (-1)^k \frac{t^{2k+1}}{(2k+1)!} \end{aligned}$$

Dostali jsme velmi důležitý Eulerův vzorec

$$e^{it} = \cos t + i \sin t$$

a navíc

$$e^{ikt} = (e^{it})^k \Rightarrow \cos kt + i \sin kt = (\cos t + i \sin t)^k.$$

Odtud dostaneme známou Moivreovu větu:

$$z = |z|(\cos \varphi + i \sin \varphi) = |z|e^{i\varphi}, \quad z^n = (|z|e^{i\varphi})^n = |z|^n e^{ni\varphi} = |z|^n (\cos n\varphi + i \sin n\varphi).$$

Vztah $z \in \mathbb{C}$, $z = |z|e^{i\varphi}$ se nazývá *exponenciální tvar komplexního čísla*.

Shrnutí

V této kapitole jsme zavedli pojmy

- mocninná řada se středem x_0 : řada tvaru $\sum_{n=0}^{\infty} c_n(x - x_0)^n$,
- obor konvergence mocninné řady: množina M , v jejímž každém bodě řada konverguje a současně pro každé $x \notin M$ diverguje,
- poloměr konvergence mocninné řady: číslo r , pro které platí:
 - pro $|x - x_0| < r$ řada konverguje absolutně,
 - pro $|x - x_0| > r$ řada diverguje,

přičemž r vypočítáme podle vzorce $r = \frac{1}{\limsup \sqrt[n]{|c_n|}}$;

je-li r poloměr konvergence mocninné řady $\sum_{n=0}^{\infty} c_n(x - x_0)^n$, potom v intervalu $(x_0 - r, x_0 + r)$ platí:

- součet řady je spojitá funkce,
- řadu můžeme derivovat a integrovat člen po členu.

Dále jsme vyšetřovali problém, jak k dané funkci najít řadu, jejímž je součtem; zavedli jsme pojem

- Taylorova řada funkce f : řada $\sum_{n=0}^{\infty} \frac{f^{(n)}(x_0)}{n!} (x - x_0)^n$;

Taylorova řada se středem $x_0 = 0$ se nazývá Maclaurinova řada.

Taylorovy (Maclaurinovy) řady některých elementárních funkcí

| | | | |
|--------------------------|--|--|-------------------------------|
| e^x | $= 1 + \frac{x}{1!} + \frac{x^2}{2!} + \dots + \frac{x^n}{n!} + \dots$ | $= \sum_{n=0}^{\infty} \frac{x^n}{n!},$ | $x \in \mathbb{R}$ |
| $\sin x$ | $= \frac{x}{1!} - \frac{x^3}{3!} + \dots + (-1)^n \frac{x^{2n+1}}{(2n+1)!} + \dots$ | $= \sum_{n=0}^{\infty} (-1)^n \frac{x^{2n+1}}{(2n+1)!},$ | $x \in \mathbb{R}$ |
| $\cos x$ | $= 1 - \frac{x^2}{2!} + \frac{x^4}{4!} + \dots + (-1)^n \frac{x^{2n}}{(2n)!} + \dots$ | $= \sum_{n=0}^{\infty} (-1)^n \frac{x^{2n}}{(2n)!},$ | $x \in \mathbb{R}$ |
| $(1+x)^a$ | $= 1 + \binom{a}{1}x + \binom{a}{2}x^2 + \dots + \binom{a}{n}x^n + \dots$ | $= \sum_{n=0}^{\infty} \binom{a}{n}x^n, \quad (*)$ | $x \in (-1, 1)$ |
| $\ln(1+x)$ | $= x - \frac{x^2}{2} + \frac{x^3}{3} - \dots + (-1)^{n-1} \frac{x^n}{n} + \dots$ | $= \sum_{n=1}^{\infty} (-1)^{n+1} \frac{x^n}{n},$ | $x \in (-1, 1)$ |
| $\ln \frac{1+x}{1-x}$ | $= 2 \left(x + \frac{x^3}{3} + \frac{x^5}{5} + \dots + \frac{x^{2n+1}}{2n+1} + \dots \right)$ | $= 2 \sum_{n=0}^{\infty} \frac{x^{2n+1}}{2n+1},$ | $x \in (-1, 1)$ |
| $\operatorname{arctg} x$ | $= x - \frac{x^3}{3} + \frac{x^5}{5} + \dots + (-1)^n \frac{x^{2n+1}}{2n+1} + \dots$ | $= \sum_{n=0}^{\infty} (-1)^n \frac{x^{2n+1}}{2n+1},$ | $x \in \langle -1, 1 \rangle$ |

$$(*) \quad a \in \mathbb{R}, \quad \binom{a}{n} = \frac{a(a-1)\cdots(a-n+1)}{n!}.$$

Otázky a úkoly

- Co je to mocnná řada?
- Předpokládejme, že řada $\sum_{n=0}^{\infty} c_n x^n$ konverguje pro $x = 9$ a diverguje pro $x = -12$.
Které z následujících tvrzení o této řadě je pravdivé a proč:
 - konverguje pro $x = 7$,
 - absolutně konverguje pro $x = -7$,
 - absolutně konverguje pro $x = 9$,
 - konverguje pro $x = -9$,
 - diverguje pro $x = 10$,
 - diverguje pro $x = 15$.
- Předpokládejme, že řada $\sum_{n=0}^{\infty} c_n (x-1)^n$ konverguje pro $x = -4$ a diverguje pro $x = 9$.
Které z následujících tvrzení o této řadě je pravdivé a proč:
 - konverguje pro $x = 5$,
 - absolutně konverguje pro $x = 5$,
 - konverguje pro $x = 8$,
 - absolutně konverguje pro $x = -4$,

- e) diverguje pro $x = -7$,
 f) diverguje pro $x = 6$.
4. Jestliže řada $\sum_{n=0}^{\infty} c_n x^n$ konverguje pro všechna kladná x , musí konvergovat i pro záporná x ?
5. Jestliže řada $\sum_{n=0}^{\infty} c_n x^n$ diverguje pro $x = 3$, pro která další x musí divergovat?
6. Jestliže řada $\sum_{n=0}^{\infty} c_n (x+5)^n$ diverguje pro $x = -2$, pro která další x musí divergovat?
7. Jestliže řada $\sum_{n=0}^{\infty} c_n (x-3)^n$ konverguje pro $x = 7$, pro která další x musí konvergovat?
8. Jestliže řada $\sum_{n=0}^{\infty} a_n x^n$ má poloměr konvergence 3 a řada $\sum_{n=0}^{\infty} b_n x^n$ má poloměr konvergence 5, co můžeme říci o poloměru konvergence řady $\sum_{n=0}^{\infty} (a_n + b_n) x^n$?

Cvičení

1. Najděte obor konvergence mocninných řad:

- a) $\sum_{n=0}^{\infty} n 5^n x^n$, b) $\sum_{n=0}^{\infty} \frac{x^{2n+1}}{(2n+1)!(2n+1)}$, c) $\sum_{n=1}^{\infty} \frac{(x+8)^{3n}}{n^2}$,
 d) $\sum_{n=0}^{\infty} 10^{2n} (2x-3)^n$, e) $\sum_{n=1}^{\infty} \frac{(n-1)! x^n}{n^n}$, f) $\sum_{n=1}^{\infty} \frac{x^n}{n\sqrt{n}}$,
 g) $\sum_{n=0}^{\infty} \frac{(x-2)^n}{n!}$, h) $\sum_{n=1}^{\infty} \frac{(x-1)^n}{n 3^n}$, i) $\sum_{n=0}^{\infty} n (x+1)^n$,
 j) $\sum_{n=0}^{\infty} (-1)^n \frac{(x+4)^n}{n+2}$, k) $\sum_{n=0}^{\infty} n! (x-1)^n$, l) $\sum_{n=0}^{\infty} \frac{n^2+1}{n^3+1} (x+2)^n$.

2. Derivováním nebo integrováním vhodné řady najděte součty řad

- a) $\sum_{n=1}^{\infty} (2n+1) x^{2n}$, b) $\sum_{n=1}^{\infty} n x^{n-1}$, c) $\sum_{n=1}^{\infty} \frac{(x-3)^{2n}}{2n}$,
 d) $\sum_{n=1}^{\infty} \frac{n x^{n-1}}{2^n}$, e) $\sum_{n=1}^{\infty} \frac{n(n+1)}{2} x^{n-1}$, f) $\sum_{n=1}^{\infty} n \left(x - \frac{1}{2}\right)^n$.

3. Vypočítejte následující integrály tak, že integrovanou funkci rozložíte do mocninné řady, a to s přesností na tři desetinná místa:

- a) $\int_0^1 e^{-x^2} dx$, b) $\int_0^{\frac{1}{2}} \frac{dx}{1+x^{10}}$.

4. Pomocí operací s řadami pro známé funkce najděte Maclaurinovy rozvoje následujících funkcí:

$$\begin{aligned} \text{a) } & \frac{x}{2-x}, & \text{b) } & (1-x)e^{-x}, & \text{c) } & \cos^2 x, \\ \text{d) } & (1-x)^{-2}, & \text{e) } & \sin 3x + x \cos 3x, & \text{f) } & (1+x) \operatorname{arctg} x. \end{aligned}$$

Výsledky

1. a) $(-\frac{1}{5}, \frac{1}{5})$, b) $(-\infty, \infty)$, c) $(-9, -7)$, d) $(\frac{299}{200}, \frac{301}{200})$, e) $(-e, e)$, f) $(-1, 1)$, g) $(-\infty, \infty)$, h) $(-2, 4)$, i) $(-2, 0)$, j) $(-5, -3)$, k) $\{1\}$, l) $(-3, -1)$;
2. a) $\frac{3x^2-x^4}{(1-x^2)^2}$, b) $\frac{1}{(1-x)^2}$, c) $-\frac{1}{2} \ln|1-9x-3|^2$, d) $\frac{2}{(2-x)^2}$, e) $\frac{1}{(1-x)^3}$, f) $\frac{4x-2}{(3-2x)^2}$; **3**) a) 0,747, b) 0,500;
4. a) $\frac{1}{2}x + \frac{1}{4}x^2 + \frac{1}{8}x^3 + \frac{1}{16}x^4 + \frac{1}{32}x^5 + \dots$, b) $1 - 2 * x + \frac{3}{2}x^2 - \frac{2}{3}x^3 + \frac{5}{24}x^4 - \frac{1}{20}x^5 + \frac{7}{720}x^6 - \dots$, c) $1 - x^2 + \frac{1}{3}x^4 - \frac{2}{45}x^6 + \frac{1}{315}x^8 - \dots$, d) $1 + 2x + 3x^2 + 4x^3 + 5x^4 + 6x^5 + 7x^6 + 8x^7 + \dots$, e) $4x - 9x^3 + \frac{27}{5}x^5 - \frac{81}{56}x^7 + \frac{243}{1120}x^9 + \dots$, f) $x + x^2 - \frac{1}{3}x^3 - \frac{1}{3}x^4 + \frac{1}{5}x^5 + \frac{1}{5}x^6 - \frac{1}{7}x^7 - \frac{1}{7}x^8 + \frac{1}{9}x^9 - \dots$.

6 Přehled literatury

Klasické učebnice

1. Bican,L.: Algebra. Academia Praha 2001
2. Brabec,J., Martan,F., Rozenský,Z.: Matemetická analýza 1, SNTL Praha 1985
3. Budinský,B., Charvát,J.: Matemetika 1. SNTL Praha,1987
4. Čech,E.: Elementární funkce. Praha, JČMF 1947
5. Demlová, M., Nagy, J., Algebra, STNL, Praha, 1982.
6. Gillman,L., McDowell,R.: Matematická analýza. SNTL Praha, 1980
7. Grebenča,M.K., Novoselov,S.L.: Učebnice matematické analýzy I,II. NČSAV Praha, 1955
8. Havel,V., Holenda,J.: Lineární algebra. SNTL Praha 1984
9. Havlíček,K.: Diferenciální počet pro začátečníky. SNTL Praha 1962
10. Havlíček,K.: Integrální počet pro začátečníky. SNTL Praha 1963
11. Havlíček,K.: Diferenciální počet pro začátečníky. SNTL Praha 1962
12. Hruša,K.: Deset kapitol z diferenciálního a integrálního počtu. NČSAV Praha 1959
13. Jarník,V.: Diferenciální počet I. NČSAV Praha 1963
14. Jarník,V.: Diferenciální počet II. NČSAV Praha 1956
15. Jarník,V.: Integrální počet I. NČSAV Praha 1963
16. Jarník,V.: Integrální počet II. NČSAV Praha 1955
17. Kluvánek,I., Mišík,L., Švec,M.: Matematika pre štúdium technických vied I,II. SVTL Bratislava 1961
18. Knichal,V., Bašta,A., Pišl,M., Rektorys,K.: Matematika I,II. SNTL Praha 1966

19. Kolibiar, M. a kol., Algebra a příbuzné disciplíny, Alfa, Bratislava, 1992.
20. Ljusternik, L.A. a kol.: Přehled matematické analýzy. SNTL Praha 1969
21. Pražák, P.: Matematika 1. Gaudeamus UHK, 2012
22. Rychnovský, R.: Úvod do vyšší matematiky. SZN Praha 1968
23. Smirnov, V.I.: Učebnice vyšší matematiky I, II. NČSAV Praha 1956
24. Škrášek, J.: Základy vyšší matematiky. NV Praha 1966
25. Švarc, S., kol., Matematická analýza I, PC DIR, Brno, 1997.
26. Vlasov, A.K.: učebnice vyšší matematiky. SNTL Praha 1958
27. Vojtěch, J.: Základy matematiky ke studiu věd přírodních a technických. NČSAV Praha 1959

Matematické příručky

1. Bartsch, H.J.: Matematické vzorce. SNTL Praha 1971
2. Bronštejn, I.N., Semendžajev, K.A.: Příručka matematiky pro inženýry a pro studující na vysokých školách technických. SVTL Bratislava 1964
3. Frank, L.: Matematika - technický průvodce. SNTL Praha 1973
4. Hruša, K. a kol.: Přehled elementární matematiky. SNTL Praha 1965
5. Kohlmann, Č.: Matematika ve sdělovací technice. SNTL Praha 1960
6. Nečas, J. a kol.: Aplikovaná matematika I, II. SNTL Praha 1977
7. Rektorys, K. a spol.: Přehled užití matematiky SNTL Praha 1973, 1995
8. Šalát, T. a kol.: Malá encyklopedie matematiky. Obzor Bratislava 1967

Sbírky úloh

1. Berman, G.N.: Zbierka úloh z matematickej analýzy ŠNTL Bratislava 1957
2. Eliaš, J., Horváth, J., Kajan, J.: Zbierka úloh z vyššej matematiky, 1, 2, 3, 4. Alfa Bratislava (několik vydání)

3. Hlaváček,A.,Dolanský,P.: Sbíрка řešených příkladů z vyšší matematiky pro přípravu pracujících ke studiu na vysokých školách. SPN Praha 1971
4. Hruža,B., Mrhačová,H.: Cvičení z algebry a geometrie. ES VUT 1990
5. ChemnitiuS,X.X.: Riešené príklady derivácie a spätnej integrácie funkcií. SVTL Bratislava 1966
6. Jirásek,F., Kriegelstein,E., Tichý,Z.: Sbíрка řešených příkladů z matematiky, SNTL Praha 1981
7. Krupková,V., Studená,V.: Cvičení z matematické analýzy I. PC-DIR Brno 1994
8. Ryšavý,V.: Řešené úlohy z vyšší matematiky I,II. JČMF Praha 1950
9. Svätokrížny,P.: Lineárna algebra v úlohách. Alfa Bratislava 1984

Anglické učebnice

1. Anton, H., Elementary Linear Algebra, John Wiley, New York, 1984.
2. Avers,F,jr., Mendelsohn,E.: Calculus - Schaum's outline series. McGraw-Hill 1999
3. Drift,A., Davison,R.: Mathematics for Engineers. Pearson Education Limited 2004
4. Edwards, C.H., Penney, D.E., Calculus with Analytic Geometry, Prentice Hall, 1993.
5. Fong, Y., Wang, Y., Calculus, Springer, 2000.
6. Lipschuts,S.: Beginning linear algebra - Schaum's outline series. McGraw-Hill 1997
7. Mathews, K., Elementary Linear Algebra, University of Queensland, AU, 1991.
8. Mendelsohn, E., 3000 solved problems in Calculus, McGraw-Hill 1988.
9. Ross, K.A., Elementary analysis: The Theory of Calculus, Springer, 2000.
10. Small, D.B., Hosack, J.M., Calculus (An Integrated Approach), Mc Graw-Hill Publ. Comp., 1990.
11. Smith,R.T., Minton, R.B.: Calculus. McGraw-Hill 2000
12. Stroud,K.A., Booth,D.J: Engineering mathematics. Palgrave Macmillan 2001
13. Stroud,K.A., Booth,D.J: Advanced Engineering mathematics. Palgrave Macmillan 2001
14. Thomas, G.B., Finney, R.L., Calculus and Analytic Geometry, Addison-Wesley Publ. Comp., 1994.